



সরল ও যৌগিক মুনাফা (SIMPLE AND COMPOUND INTEREST)

মুনাফা		
সরল মুনাফা (Simple Interest)	পরিচিতি	যৌগিক/চক্রবৃদ্ধি মুনাফা (Compound Interest)
1. $I = Pnr$ 2. $P = \frac{I}{rn}$ 3. $r\% = \frac{I}{Pn} \times 100\%$ 4. $n = \frac{I}{Pr}$ 5. $A = P + I$ $\Rightarrow A = P + Pnr$ $\Rightarrow A = P(1 + nr)$	$n =$ সময় নির্দেশক/বছর $I = n$ একক সময় পর মুনাফার পরিমাণ $P =$ আসল/মূলধনের পরিমাণ $r =$ সুদের হার/মুনাফার হার/একক সময়ে একক মূলধনের উপর মুনাফা $A =$ মুনাফাসহ মূলধন/সুদাসল/সমৃদ্ধি $C =$ চক্রবৃদ্ধি মুনাফাসহ মূলধন $I_c =$ চক্রবৃদ্ধি মুনাফা	1. $C = P(1 + r)^n$ 2. $I_c = C - P$ $\Rightarrow I_c = P(1 + r)^n - P$



- ⇒ জামিল সাহেব পেনশনের টাকা পেয়ে ১০ লাখ টাকার তিন মাস অন্তর মুনাফা ভিত্তিক ৫ বছরে মেয়াদি পেনশনের সঞ্চয়পত্র কিনলেন। বার্ষিক মুনাফা ১২% হলে, তিনি ১ম কিস্তিতে অর্থাৎ প্রথম ৩ মাস পর কত মুনাফা পাবেন?

Sol:

$$n = 3 \text{ মাস} = \frac{3}{12} = \frac{1}{4} \text{ বছর}$$

$$P = 10,00,000 \text{ টাকা}$$

$$r = 12\%$$

$$n = ?$$

$$I = Pnr$$

$$= 10,00,000 \times \frac{1}{4} \times \frac{12}{100}$$

$$= 30,000 \text{ টাকা}$$



সুদ/মুনাফা নির্ণয়

⇒ একজন ব্যক্তি ২০,০০০ টাকা থেকে কিছু টাকা বার্ষিক ১০% মুনাফায় এবং বাকি টাকা বার্ষিক ১২% মুনাফায় বিনিয়োগ করলেন। এক বছর পর তিনি **সর্বমোট বিনিয়োগের** $10\frac{3}{8}\%$ মুনাফা পেলেন। তিনি মুনাফার প্রতি হাজারের জন্য কত টাকা বিনিয়োগ করেছিলেন? [৪১তম বিসিএস লিখিত]

Solⁿ: ধিঃ ১০% হার সুসামান্য বিনিয়োগ করেন = x টাকায়
 অথবা ১২% হার সুসামান্য বিনিয়োগ করেন = $(20,000 - x)$ টাকায়

$I = Prt$

সুসামান্য,

$I_1 + I_2 = I$

অ. $x \cdot 1 \cdot \frac{10}{100} + (20,000 - x) \cdot 1 \cdot \frac{12}{100} = 20,000 \times \frac{43}{4 \times 100}$

↓

$x = 12500$ Ans
 7500



সুদ/মুনাফা নির্ণয়

একজন বিনিয়োগকারী 80,000 টাকার কিছু প্রতি 6 মাস অন্তর 5% হার সুদে এবং অবশিষ্ট বাৎসরিক 12% হারে একটি সেভিংস ব্যাংকে জমা করল। বছর শেষে তিনি 9000 টাকা সুদ পেলেন। তাহলে তিনি 12% হার সুদে কত টাকা বিনিয়োগ করেন? [৩৫তম বিসিএস লিখিত]

$n=1$

৫০%

সমাজে ৫% হারে সুদ।

∴ ১ বছরে সুদে হার হার = 10%

সুপনাম,

$$I_1 + I_2 = I$$

$$x \cdot 1 \cdot \frac{10}{100} + (80,000 - x) \cdot 1 \cdot \frac{12}{100} = 9,000$$

↓

$$x = ? \quad \boxed{30,000}$$

$$80,000 - x = ? \quad \boxed{50,000}$$

যদি, 10% হার সুদে x টাকা জমা করেন
∴ 12% " " (80,000 - x) " " "



আসল/মূলধন নির্ণয়

⇒ এক ব্যক্তি x টাকা 8% সরল মুনাফায় ও y টাকা 5% সরল মুনাফায় বিনিয়োগ করে বার্ষিক মুনাফা পান ৯২০ টাকা। (যদি তিনি x টাকা 5% সরল মুনাফায় ও y টাকা 8% সরল মুনাফায় বিনিয়োগ করতেন তবে তাঁর বার্ষিক মুনাফা হত ৪৪০ টাকা) x ও y এর মান নির্ণয় করুন।

[৩৩তম বিসিএস লিখিত]

প্রদত্তে,

$$\frac{x}{20} + \frac{y}{25} = 440$$

$$\text{ক. } \boxed{5x + 4y = 44000} \quad \text{--- (ii)}$$

① ও ② সমাধান করে,

$$\therefore x = ? - 16444.44$$

$$y = ? 31555.56$$

Solⁿ:

$$\checkmark r_1 + r_2 = I$$

$$\text{১. } x \cdot 1 \cdot \frac{4}{100} + y \cdot 1 \cdot \frac{5}{100} = 920$$

$$\text{২. } \frac{x}{25} + \frac{y}{20} = 920$$

$$\text{৩. } \boxed{4x + 5y = 92000} \quad \text{--- (i)}$$



আসল/মূলধন নির্ণয়

শতকরা বার্ষিক ৬ টাকা হার সুদে ৯৫০ টাকার ৮ বছরে ঘট সুদ হয়, বার্ষিক ৭.৫% হার সুদে কত টাকার ১৯ বছরে তত সুদ হবে?

সমাঃ
২য় ক্ষেত্র

$$r = 6\%$$

$$P = 950$$

$$n = 8$$

$$I = ?$$

$$I = Pnr$$

$$= 950 \times 8 \times \frac{6}{100}$$

$$\downarrow = 456$$

২য় ক্ষেত্র

$$r = 7.5\%$$

$$n = 19$$

$$I = 456$$

$$P = ?$$

$$I = Pnr$$

$$\therefore P = \frac{I}{nr}$$

$$= \frac{456 \times 100}{19 \times 7.5}$$

$$= \boxed{320 \text{ টাকা}}$$

$$\begin{matrix} r \\ P \\ n \\ r \end{matrix}$$

$$\frac{6 \times 8}{100} = 48$$

$$\frac{6 \times 8 \times 950}{100}$$



⇒ একই হার সুদে ৩০০ টাকার ৪ বছরের সুদ এবং ৫০০ টাকার ৫ বছরের সুদ একত্রে ১৪৮ টাকা হলে, শতকরা বার্ষিক সুদের হার কত? [৩৪তম বিসিএস লিখিত]

Solⁿ: ধরি, সুদের হার $x = x\%$
প্রদত্ত,

$$I_1 + I_2 = I$$

$$\text{৩. } 300 \cdot 4 \cdot \frac{x}{100} + 500 \cdot 5 \cdot \frac{x}{100} = 148$$

$$\downarrow$$
$$\boxed{x = 4\%}$$



সুদের হার নির্ণয়

⇒ 8% হার সুদে 750 টাকা এবং 6% হার সুদে 1250 টাকা বিনিয়োগ করলে মোট মূলধনের উপর গড়ে শতকরা কত হারে সুদ পাওয়া যাবে?

Soln:

মোট মুনাফা $I = I_1 + I_2$

$$= 750 \cdot 1 \cdot \frac{8}{100} + 1250 \cdot 1 \cdot \frac{6}{100}$$
$$= 60 + 75$$
$$= 135 \text{ টাকা}$$

মোট মূলধন $P = (750 + 1250) = 2000 \text{ টাকা}$

$$I = Pnr$$

$$\therefore r = \frac{I}{Pn}$$
$$= \frac{135 \times 100}{2000 \times 1}$$
$$= \boxed{6.75\%}$$



সুদের হার নির্ণয়

⇒ তনু ৩ বছরের জন্য ১০০০০ টাকা এবং ৪ বছরের জন্য ১৫০০০ টাকা ব্যাংক থেকে ঋণ নিয়ে ব্যাংককে মোট ৯৯০০ টাকা মুনাফা দেন। উভয়ক্ষেত্রে মুনাফার হার সমান হলে, মুনাফার হার নির্ণয় করুন।

Soln:
প্রদত্ত,

$$I = I_1 + I_2$$

$$\text{স, } 9900 = 10000 \times 3 \times \frac{x}{100} + 15000 \times 4 \times \frac{x}{100}$$

↓

x = 11%



অনার্স-এ অধ্যয়নরত শিক্ষার্থীদের জন্য
BCS ফাউন্ডেশন
1 Week ফ্রি কোর্স ২০২৩

ফ্রি রেজিস্ট্রেশন চলছে

শুরু
১৪ জুলাই
২০২৩

কোর্স-এ থাকছে:

- ✓ লাইভ ক্লাস - ০৪টি
- ✓ 'ফাউন্ডেশন টেস্ট' এক্সাম - ০৪টি (অনলাইন)
- ✓ প্রতিটি ক্লাসের PDF ক্লাসনোট
- ✓ প্রতিটি ক্লাসের রিপ্রে ভিডিও
- ✓ তাৎক্ষণিক Analysis রিপোর্ট



উত্তরণ

ক্যারিয়ার এন্ড স্কিলস একাডেমি

www.uttoron.academy

একটি উদ্ভাস-উন্নয়ন প্রতিষ্ঠান



সময় নির্ণয়

একজন লোক ৫% হার সুদে ৫০০ টাকা ধার করেন এবং কিছু কাল পরে ৩.৫% সুদে আরও ৪০০ টাকা ধার করেন। দ্বিতীয় ধার নেয়ার ৬ মাস পর তিনি উভয় ধার সুদে-মূলে ৯৯৪.৫০ টাকা শোধ করেন। প্রথম ধার নেয়ার কত দিন পর তিনি ধার শোধ করেন? [২৩তম বিসিএস লিখিত]

সমাঃ: ২য় ধারের ক্ষেত্রে,
 $n = 6 \text{ মাস} = \frac{6}{12} = \frac{1}{2} \text{ বছর}$
 $P = 400 \text{ টাকা}$
 $r = \frac{7}{2} \%$
 $I = ?$

$$I = Pnr$$

$$= 400 \times \frac{1}{2} \times \frac{7}{2 \times 100}$$

$$= 7$$

মোট সুদ = $994.50 - (500 + 400) = 94.50 \text{ টাকা}$
 ৩য় ধারের ক্ষেত্রে সুদ = $(94.50 - 7) \text{ টাকা}$
 $= 87.50 \text{ টাকা}$

২য় ধারের ক্ষেত্রে,
 $I = 87.50 \text{ টাকা}$
 $P = 500$ " "
 $r = 5\%$
 $n = ?$

$$I = Pnr$$

$$\therefore n = \frac{I}{Pr}$$

$$= \frac{87.50 \times 100}{500 \times 5}$$

$$= 3.5 \text{ yr}$$



সময় নির্ণয়

করিম নির্দিষ্ট সময় অন্তর কিছু টাকা জমা রাখে। যখন সুদ ও বিনিয়োগের অনুপাত ২ : ৫ হয় তখন সে ৪৫০০০ টাকা উত্তোলন করে যদি সুদের হার ৩.৬% হয়, তবে টাকা জমা রাখার সময়কাল নির্ণয় করুন।

সমাঃ

$$\checkmark \text{ সুদ, } I = \frac{2}{7} \times 45000 = 12857.14$$

$$\checkmark \text{ বিনিয়োগ, } P = \frac{5}{7} \times 45000 = 32142.86$$

$$r = 3.6\%$$

$$n = ?$$

$$I = Pnr$$

$$\therefore n = \frac{I}{P \cdot r}$$

$$= \frac{12857.14 \times 100}{32142.86 \times 3.6}$$

$$= 11.11 \text{ বছর}$$



ঋণের অনুপাত নির্ণয়

- ☉ দুই ব্যক্তি 'ক' এবং 'খ' একই ব্যাংক থেকে একই দিনে ১০% হার সরলসুদে পৃথক পৃথক পরিমাণ ঋণ গ্রহণ করে। 'ক' দুই বছর পর সুদে-আসলে যে অর্থ শোধ করে 'খ' ৩ বছর পর সুদে-আসলে সমপরিমাণ অর্থ শোধ করে। তাদের ঋণের অনুপাত নির্ণয় করুন। [২৮তম বিসিএস লিখিত]

Solⁿ: সুদসহ = $P + I = P + Pnr = P(1 + nr)$

সুতরাং, $P_1(1 + n_1r_1) = P_2(1 + n_2r_2)$

ক. $P_1(1 + 2 \times \frac{10}{100}) = P_2(1 + 3 \times \frac{10}{100})$

$$\therefore \frac{P_1}{P_2} = \frac{1 + \frac{2}{10}}{1 + \frac{3}{10}} = \frac{10 + 2}{10 + 3} = \frac{12}{13}$$

$$\therefore P_1 : P_2 = 12 : 13$$



চক্রবৃদ্ধি সংক্রান্ত

ধরা যাক, প্রারম্ভিক মূলধন বা আসল P এবং বার্ষিক মুনাফার হার $r\% = \frac{r}{100}$

∴ n বছরান্তে চক্রবৃদ্ধি মূলধন C হলে,
 $C = P(1 + r)^n$ → **সম্মূল চক্রবৃদ্ধি**

∴ n বছরান্তে ~~চক্রবৃদ্ধি মূলধন~~ C হলে,

$$C = P(1 + r)^n$$

এভাবে প্রতি বছরান্তে ব্যাংকে আমানতকারীর মূলধন বাড়তে থাকবে, এই বৃদ্ধি প্রাপ্ত মূলধনকে বলা হয় চক্রবৃদ্ধি মূলধন বা চক্রবৃদ্ধিমূল।

n = সময় নির্দেশক/ বছর
P = মূলধনের পরিমাণ
r = একক সময়ে একক মূলধনের উপর মুনাফার হার
C = চক্রবৃদ্ধি মুনাফাসহ মূলধন/সবৃদ্ধিমূল



চক্রবৃদ্ধি মুনাফার ক্ষেত্রে প্রত্যেক বছরের শেষে মূলধনের সাথে মুনাফা যোগ হয়ে নতুন মূলধন হয়। আর প্রতি বছর বৃদ্ধিপ্রাপ্ত মূলধনের ওপর যে মুনাফা হিসাব করা হয়, একে বলে চক্রবৃদ্ধি মুনাফা।

চক্রবৃদ্ধির মুনাফা নির্ণয়ের সূত্র :

$$\begin{aligned} \checkmark \text{ চক্রবৃদ্ধি মুনাফা, } I_c &= C - P \\ &= P(1 + r)^n - P \\ &= P\{(1 + r)^n - 1\} \end{aligned}$$

n = সময় নির্দেশক/বছর

P = মূলধনের পরিমাণ

r = একক সময়ে একক

মূলধনের উপর মুনাফা

C = চক্রবৃদ্ধি মুনাফাসহ মূলধন

I_c = চক্রবৃদ্ধি মুনাফা



বিশেষ ক্ষেত্রে:

চক্রবৃদ্ধি সুদের ক্ষেত্রে সুদের পর্ব 6 মাস বা 3 মাস হলে,
সমূল-চক্রবৃদ্ধি নির্ণয়ের উপায়:

(i) সুদের পর্ব = 6 মাস হলে, মূলধন P টাকার বার্ষিক r% সুদের হারে, প্রথম 6 মাসের বা $\frac{1}{2}$ বছরের শেষে সুদ = $P \times r \times \frac{1}{2}$ টাকা

∴ ১ম 6 মাসে (1টি পর্ব) সমূল চক্রবৃদ্ধি = $(P + P \times \frac{r}{2}) = P(1 + \frac{r}{2})$ টাকা

∴ অনুরূপে ১ম 1 বছরে (2টি পর্ব) সমূল চক্রবৃদ্ধি = $P(1 + \frac{r}{2})^2$ টাকা

∴ অনুরূপে ১ম n বছরে (2nটি পর্ব) সমূল চক্রবৃদ্ধি = $P(1 + \frac{r}{2})^{2n}$ টাকা

(ii) অনুরূপে সুদের পর্ব 3 মাস হলে, P টাকার বার্ষিক r% সুদের হারে, n বছরে (4nটি পর্ব) সমূল চক্রবৃদ্ধি =

$P(1 + \frac{r}{4})^{4n}$ টাকা

$\frac{12}{3} = 4$

$$= P(1 + \frac{r}{2}) + P(1 + \frac{r}{2}) \cdot \frac{1 \cdot r}{2}$$

$$= P(1 + \frac{r}{2})(1 + \frac{r}{2}) = P(1 + \frac{r}{2})^2$$



চক্রবৃদ্ধি সংক্রান্ত

চক্রবৃদ্ধি বা যৌগিক মুনাফার ক্ষেত্রে প্রারম্ভিক মূলধন = P টাকা, মুনাফার হার = r%, সময় = n বছর এবং ১ বছরের চক্রবৃদ্ধির সংখ্যা = m হলে,

সর্বমুদ্র মূলধন, $C = P \left(1 + \frac{r}{m}\right)^{m \times n}$

m = ১ (বাৎসরিক)

→ Master Formula

চক্রবৃদ্ধি মুনাফা, $I_c = C - P$

✓ বাৎসরিক -এর ক্ষেত্রে, $m = ১$ [কিছু না বললে $m = ১$]

✓ ষান্মাসিক -এর ক্ষেত্রে, $m = \frac{১২}{৬} = ২$

✓ ত্রৈমাসিক -এর ক্ষেত্রে, $m = \frac{১২}{৩} = ৪$

✓ দ্বিমাসিক -এর ক্ষেত্রে, $m = \frac{১২}{২} = ৬$

✓ মাসিক -এর ক্ষেত্রে, $m = \frac{১২}{১} = ১২$



⇒ বার্ষিক ৫% হার সুদে ষাণ্মাসিক চক্রবৃদ্ধিতে ১০,০০০ টাকা একটি সঞ্চয়ী হিসাবে জমা রাখা হলো। বছর শেষে সুদে-আসলে কত টাকা পাওয়া যাবে? [৪৪তম বিসিএস লিখিত] $n=1$

Solⁿ:

$$m = 2$$

$$P = 10,000$$

$$r = 5\%$$

ষাণ্মাসিক চক্রবৃদ্ধিঃ

$$\begin{aligned} C &= P \left(1 + \frac{r}{m} \right)^{mn} \\ &= 10,000 \left(1 + \frac{5}{100 \times 2} \right)^{2 \times 1} \\ &= \boxed{10506.25} \rightarrow \text{মূলধন + সুলাভ} \end{aligned}$$

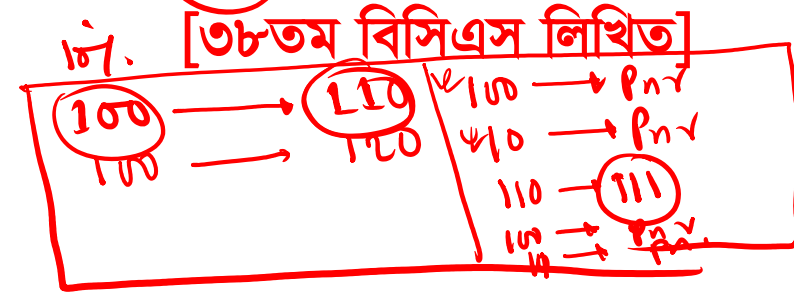


চক্রবৃদ্ধি সংক্রান্ত

☞ যদি চক্রবৃদ্ধি সুদের ক্ষেত্রে প্রথম, দ্বিতীয় ও তৃতীয় বছরে বার্ষিক সুদের হার যথাক্রমে $r_1\%$, $r_2\%$ এবং $r_3\%$ হয়, তবে তিন বছর শেষে P টাকার সমুল চক্রবৃদ্ধি নির্ণয় করুন।

Solⁿ: সমুল চক্রবৃদ্ধি $C = P \left(1 + \frac{r}{m}\right)^{mn}$

$m=1$
 $C = P(1+r)^n$



১ম বছর

✓ ১ম বছরে $r_1\%$ সুদে মুদ্রাসমুল = $P \left(1 + \frac{r_1}{100}\right)^1 = P \left(1 + \frac{r_1}{100}\right)$

২য় " $r_2\%$ " " = $P \left(1 + \frac{r_1}{100}\right) + P \left(1 + \frac{r_1}{100}\right) \cdot 1 \cdot \frac{r_2}{100}$

= $P \left(1 + \frac{r_1}{100}\right) \left(1 + \frac{r_2}{100}\right)$

৩য় " $r_3\%$ " " = $P \left(1 + \frac{r_1}{100}\right) \left(1 + \frac{r_2}{100}\right) + P \left(1 + \frac{r_1}{100}\right) \left(1 + \frac{r_2}{100}\right) \cdot 1 \cdot \frac{r_3}{100}$

= $P \left(1 + \frac{r_1}{100}\right) \left(1 + \frac{r_2}{100}\right) \left(1 + \frac{r_3}{100}\right)$ Ans



সরল ও চক্রবৃদ্ধির মিশ্রণ

- ⊙ **আলভী** **Not Important* স্কুল থেকে উপবৃত্তি বাবদ ৬৪০০ টাকা এবং তার ভাই রাকিন বৃত্তি বাবদ কিছু টাকা পেল। তারা উভয়েই ৫% হার মুনাফায় তাদের প্রাপ্ত টাকা একই ব্যাংকে ২ বছরের জন্য জমা রাখল। রাকিনের টাকার সরল মুনাফা ও চক্রবৃদ্ধি মুনাফার পার্থক্য ৫ টাকা হলে রাকিন কত টাকা বৃত্তি পেয়েছিল? [৪৩তম বিসিএস লিখিত]

সমাঃ

$$I_c - I = 5$$

$$r = 5\% , n = 2$$

$$\text{ন. } \{P(1+r)^n - P\} - Pnr = 5$$

$$\text{ন. } P \{(1+r)^n - 1 - nr\} = 5$$

$$\text{ন. } P \left\{ \left(1 + \frac{5}{100}\right)^2 - 1 - 2 \times \frac{5}{100} \right\} = 5$$

$$\therefore \boxed{P = 2000 \text{ টাকা}}$$



- ⇒ একটি দ্রব্য ১৯০০ টাকায় বিক্রয় করায় ৫% ক্ষতি হলো। বিক্রয়মূল্যের সমপরিমাণ টাকা ৩ বছরের জন্য ৯% হার মুনাফায় ব্যাংকে জমা রাখা হলো। ব্যাংকে জমাকৃত টাকার ৩ বছরের সরল মুনাফা ও চক্রবৃদ্ধি মুনাফার পার্থক্য নির্ণয় করুন।

$$n=3, r=9\%, P=1900$$

Solⁿ: পার্থক্য = $I_c - I$

$$= P \left\{ (1+r)^n - 1 - nr \right\}$$
$$= 1900 \left\{ \left(1 + \frac{9}{100}\right)^3 - 1 - 3 \times \frac{9}{100} \right\}$$
$$= 47.55 \text{ টাকা}$$



⇒ মিষ্টির উপর মূল্য সংযোজন কর (VAT) $x\%$ । একজন বিক্রেতা P টাকার মিষ্টি বিক্রয় করলে তাঁকে কত ভ্যাট দিতে হবে? $x = 15, P = 2300$ হলে, ভ্যাটের পরিমাণ কত?

সমাঃ ধরি, ভ্যাট বাদে বিক্রয়মূল্য = C টাকা

শর্তমত, $C + C \cdot \frac{x}{100} = P$

\Rightarrow বা. $C \left(1 + \frac{x}{100}\right) = P$

$$\therefore C = \frac{100P}{100+x}$$

$x = 15, P = 2300$

$$VAT = \frac{Px}{100+x}$$

$$= \frac{2300 \times 15}{100+15}$$

$$= \boxed{300}$$

$VAT = P - C$

$$= P - \frac{100P}{100+x}$$

$$= \frac{100P + Px - 100P}{100+x} = \frac{Px}{100+x}$$



⇒ একই হার চক্রবৃদ্ধি মুনাফায় কোনো মূলধন এক বছরান্তে সর্বদ্বি মূলধন ১৯,৫০০ টাকা এবং দুই বছরান্তে সর্বদ্বি মূলধন ২০২৮০ টাকা হল।

i. চক্রবৃদ্ধি মুনাফা নির্ণয়ের সূত্র লিখুন।

ii. ~~চক্রবৃদ্ধি~~ ^{সরল} মূলধন নির্ণয় করুন।

i. চক্রবৃদ্ধি মুনাফা $I_c = P(1+r)^n - P$

ii. $P(1+r)^1 = 19500$ — (i)
 $P(1+r)^2 = 20280$ — (ii)

$\frac{(ii)}{(i)} = \frac{20280}{19500} = 1.04$

① সরল মুনাফা,

$$P \cdot (1.04) = 19500$$

$$\therefore P = \frac{19500}{1.04}$$

$$\therefore P = 18750$$



⇒ একটি শহরের জনসংখ্যা প্রতি বছর ^Pশতকরা ৪ জন করে বৃদ্ধি পায় এবং ঐ শহরের জনসংখ্যা ছিল ^P২০,০০,০০০ জন। ⁿ৬ বছর পর ঐ শহরের জনসংখ্যা কত হবে? [২৯তম ও ৩৪তম বিসিএস লিখিত]

সমাঃ

$$r = 4\%$$

$$P = 20,00,000$$

$$n = 6$$

$$C = ?$$

↓ মূলধন

$$C = P(1+r)^n$$

$$= 20,00,000 \left(1 + \frac{4}{100}\right)^6$$

$$= \boxed{2249728} \rightarrow 6 \text{ বছর পর জনসংখ্যা}$$



☞ কোনো শহরের লোকসংখ্যা ৭০ লক্ষ। ঐ শহরে জনসংখ্যা বৃদ্ধির হার প্রতি হাজারে ৩০ জন হলে, ৩ বছর পরে ঐ শহরের লোকসংখ্যা কত হবে?

Soln:

$$r = \frac{30}{1000} = \frac{3}{100} = 3\%$$

$$P = 70,00,000$$

$$n = 3 \text{ বছর}$$

$$C = ?$$

$$\begin{aligned} C &= P(1+r)^n \\ &= 70,00,000 \left(1 + \frac{3}{100}\right)^3 \\ &= \boxed{7649089} \end{aligned}$$



সরলীকরণের সাধারণ নিয়ম অনুসরণ করে এ সকল সমস্যাবলির সমাধান করা হয়েছে। এক্ষেত্রে 'BODMAS' সম্পর্কিত একটি পূর্ণাঙ্গ ধারণা থাকলে এ সকল সমস্যাগুলির সমাধান সহজেই করা যায়।

✓ BODMAS

- | | |
|-------------------------|----------------------------|
| ✓ B - Brackets (বন্ধনী) | ✓ M - Multiplication (গুণ) |
| ✓ O - Of (এর) | ✓ A - Addition (যোগ) |
| ✓ D - Division (ভাগ) | ✓ S - Subtraction (বিয়োগ) |

বন্ধনীয়ুক্ত সরলীকরণের ক্ষেত্রে সর্বপ্রথম বন্ধনীর ভিতরের কাজগুলো করতে হয় যেখানে পর্যায়ক্রমে প্রথম বন্ধনী, দ্বিতীয় বন্ধনী এবং তৃতীয় বন্ধনীর কাজ করে পরবর্তীতে ভাগ, গুণ, যোগ এবং বিয়োগের কাজ করে ফলাফল নির্ধারণ করা হয়।



⇒ সরল করুন: $\frac{\frac{6}{5} - \frac{2}{3}}{\frac{1}{5} + \frac{1}{3}} \div 1\frac{1}{3} \times \frac{3}{8}$

[৩৩তম বিসিএস লিখিত]

Soln:

সকল পাবেন ২১শে আগস্ট



➔ সরল করুন : $\frac{\frac{8x+2y}{x-y}}{\frac{8x-2y}{x-y}} \div \frac{2x}{x-y}$ এর $\frac{2x}{x-y} \times \frac{y}{x+y}$

[২৭তম বিসিএস লিখিত]

সাঁপ : সংগতগুণক ব্যবহার



→ সরল করুন: $\left(\frac{2}{3} + \frac{1}{3} + \frac{11}{18} + \frac{5}{9} - 1 \right) \div \frac{5}{8}$ এর $\frac{5}{8}$ এর $2\frac{5}{9}$

Solⁿ: $\frac{2}{3} + \frac{1}{3} + \frac{11}{18} + \frac{5}{9} - 1$



⇒ সরল করুন : $\left(1 + \frac{2}{2+\frac{2}{2}} + \frac{\frac{2}{2} \div \frac{2}{2} \times \frac{8}{2}}{\frac{2}{2} \div \frac{2}{2} \text{ এর } \frac{8}{2}} \right) \div \frac{8\sqrt{81}}{\frac{8}{9} \frac{6}{11}}$

[১৩তম বিসিএস লিখিত]

Soln:

$$\begin{aligned} &= (81)^{1/4} \\ &= (3^4)^{1/4} \\ &= 3 \end{aligned}$$

বাকীটা পাবেন সরলীকরণ



⇒ সরল করুন : সরল করুন : $\frac{2}{5} \times \left[\frac{5}{32} \times \left\{ \left(3\frac{1}{3} + 8\frac{8}{9} \right) \div \left(6\frac{1}{12} - 7\frac{9}{8} \right) \right\} + 7\frac{1}{9} \div 8\frac{2}{5} \times 8\frac{2}{3} \right]$

Solⁿ: — চারপাশে হিটম্যান্ডিং HW



➤ ০.২৪ কে সাধারণ ভগ্নাংশে প্রকাশ:

$$0.24 = \frac{24}{99}$$

$$0.\underline{1212} = 0.\dot{1}2$$

$$0.\underline{2456456456} = 0.2\dot{4}\dot{5}\dot{6}$$
$$= 0.245\dot{6}$$

➤ ১২.৩৪৫ কে সাধারণ ভগ্নাংশে প্রকাশ:

$$12.\underline{345} = \frac{12345 - 123}{990} = 7$$

পাঠ্যে $\frac{12345 - 123}{990}$



➔ সরল করুন: $(0.৩ \text{ এর } 0.৮৩) \div (0.৫ \times 0.৯) + 0.৩৫ \div 0.০৮$

[৪৪তম বিসিএস লিখিত]

সমা:

$$\left(\frac{3}{10} \text{ এর } \frac{83-8}{90} \right) \div \left(\frac{5}{10} \times \frac{1}{9} \right) + \frac{35-3}{90} \div \frac{8}{90}$$

↓
বৃহৎসংখ্যায় পাবেন (HW)



➔ সরল করুন: $\frac{২.৮ \text{ এর } ২.২৭}{১.৩৬} + \frac{৪.৪ - ২.৮৩}{১.৩ + ২.৬২৯}$ এর ৮.২

[৩৪তম বিসিএস লিখিত]

সমা. H.W



➔ সরল করুন : $\frac{১১.৮১৪ \text{ এর } ১.৫ - ৩.৭}{২.৩৪ + ০.৪} - \frac{৪.৪ - ২.৮৩}{১.৩ + ২.৬২৯}$ এর ৯.৮৪

১১.৮১৪
—
৩.৭



⇒ সরল করুন : $১.৫ \div .০৭৫ \times ৩.২৫ \div ১.৩ \times ৩.৩ \div ২.২৫ - ১.৩৬$

[৩০তম বিসিএস লিখিত]

১.৫

H.W



৪৫তম BCS লিখিত

এক্সাম ব্যাচ (অফলাইন ও অনলাইন)

- ✓ সর্বমোট ১২১টি স্ট্যান্ডার্ড এক্সাম (অফলাইন ও অনলাইন)
- ✓ সার্বক্ষণিক (২৪/৭) Q & A সেবা
- ✓ প্রতিটি পরীক্ষার মার্কিং গাইডলাইন ও SMS রেজাল্ট
- ✓ প্রস্তুতি সহায়ক ১৫টি প্রিন্টেড বই

ভর্তি চলছে...



উত্তরণ

ক্যারিয়ার এন্ড স্কিলস একাডেমি



www.uttoron.academy
একটি উদ্ভাস-উদ্যোগ প্রতিষ্ঠান



$$\rightarrow \left[\frac{8}{7} - \left\{ \frac{26}{17} \text{ এর } \left(\frac{23}{7} - \frac{15}{7} \div \frac{1}{8} \text{ এর } \frac{32}{5} \right) \right\} \right] + \frac{39}{14}$$

সমাঃ

$$\frac{8}{7} - \left\{ \frac{26}{17} \text{ এর } \left(\frac{23}{7} - \frac{15}{7} \div \frac{1}{8} \times \frac{32}{5} \right) \right\} + \frac{39}{14}$$

$$= \frac{8}{7} - \left\{ \frac{26}{17} \text{ এর } \left(\frac{23}{7} - \frac{15}{7} \times \frac{5}{4} \right) \right\} + \frac{39}{14}$$

$$= \frac{8}{7} - \left\{ \frac{26}{17} \text{ এর } \left(\frac{23}{7} - \frac{75}{28} \right) \right\} + \frac{39}{14}$$

$$= \frac{8}{7} - \left\{ \frac{26}{17} \times \frac{92-75}{28} \right\} + \frac{39}{14}$$

$$= \frac{8}{7} - \frac{26}{17} \cdot \frac{17}{28} + \frac{39}{14}$$

$$= \frac{8}{7} - \frac{13}{14} + \frac{39}{14} = \frac{16-13+39}{14} = \frac{42}{14} = \boxed{3}$$



- ⇒ একটি কাজ ক ১৪ দিনে এবং খ ২৮ দিনে করতে পারে। তারা একত্রে কাজটি আরম্ভ করে কয়েক দিন পর ক কাজটি অসমাপ্ত রেখে চলে গেল এবং খ বাকি কাজ ৭ দিনে সম্পন্ন করল। সম্পূর্ণ কাজটি কত দিনে সম্পন্ন হয়েছিল
- [৪০তম বিসিএস লিখিত]

Solⁿ:

$$\begin{aligned} \text{খ } 28 \text{ দিনে করে} &= 1 \text{ অংশ} \\ \text{ক } 14 \text{ " " " } &= \frac{2}{28} \text{ " } \\ &= \frac{1}{14} \text{ " } \\ \text{বাকী কাজ} &= \left(1 - \frac{1}{14}\right) = \frac{13}{14} \\ \text{(ক+খ) একত্রে ১ দিনে করে} &= \left(\frac{1}{14} + \frac{1}{28}\right) \text{ অংশ} \\ &= \frac{3}{28} \text{ " } \end{aligned}$$

$$\begin{aligned} \frac{3}{28} \text{ অংশ কাজ করতে সময় লাগে} &= 1 \text{ দিন} \\ \therefore 1 \text{ " " " " " } &= \frac{28}{3} \text{ " } \\ \therefore \frac{3}{4} \text{ " " " " " } &= \frac{28 \times 3}{3 \times 4} \text{ " } \\ &= \boxed{7 \text{ দিন}} \\ \text{মোট দিন} &= (7 + 7) \text{ দিন} \\ &= \boxed{14 \text{ দিন}} \end{aligned}$$



⇒ একটি কাজ ক ও খ একত্রে ১৬ দিনে, খ ও গ একত্রে ১২ দিনে এবং ক ও গ একত্রে ২০ দিনে করতে পারে।
ক, খ ও গ একত্রে কাজটি কত দিনে করতে পারবে?

সমাঃ

$$(ক+খ) \text{ একত্রে ১ দিনে কর } = \frac{1}{16} \text{ অংশ}$$

$$(খ+গ) \text{ " ১ " " } = \frac{1}{12} \text{ "}$$

$$(ক+গ) \text{ " ১ " " } = \frac{1}{20} \text{ "}$$

$$2(ক+খ+গ) \text{ একত্রে ১ দিনে কর } = \left(\frac{1}{16} + \frac{1}{12} + \frac{1}{20}\right) \text{ অংশ}$$

$$\therefore ক+খ+গ \text{ " ১ " " } = \frac{47}{2400} \text{ "}$$

$$= \frac{47}{480} \text{ "}$$

$$\frac{47}{480} \text{ অংশ কাজ করে লাগে } = 1 \text{ দিন}$$

$$\therefore 1 \text{ " " " " } = \frac{480}{47} \text{ "}$$

$$= \boxed{10.21 \text{ দিন}}$$



⇒ ক একটি কাজ p দিনে করে এবং খ $2p$ দিনে করে। তারা একটি কাজ আরম্ভ করে এবং কয়েকদিন পর ক কাজটি অসমাপ্ত রেখে চলে গেল। বাকি কাজটুকু খ r দিনে শেষ করে। কাজটি কত দিনে শেষ হয়েছিল?

Soln:

$$\text{Ans: } \frac{2}{3}(p+r)$$



শ্রমিক সংখ্যা, কাজ ও সময় বিষয়ক সমস্যাবলি

ক একটি কাজ ২০ দিনে, খ ৩০ দিনে এবং গ ৬০ দিনে করতে পারে। ক কাজটি শুরু করল এবং প্রতি তৃতীয় দিনে খ ও প্রতি চতুর্থ দিনে গ তাকে সাহায্য করতে লাগল। কত সময়ে কাজটি সম্পন্ন হবে?

[১০তম, ১৫তম, ৩৩তম, ৩৪তম বিসিএস লিখিত]

সলঃ

৩ ও ৪ এর ল.সা.স = ১২

$$12 \text{ দিনে সম্পন্ন হয়} = \left(\frac{1}{20} \times 12 + \frac{1}{30} \times 4 + \frac{1}{60} \times 3 \right) \text{ অংশ}$$

$$= \left(\frac{3}{5} + \frac{2}{15} + \frac{1}{20} \right) \text{ "}$$

$$= \frac{47}{60} \text{ "}$$

বাকী কাজ = $\left(1 - \frac{47}{60} \right) \text{ অংশ} = \frac{13}{60} \text{ অংশ}$

সাবশি ৩ দিনে সম্পন্ন হয় = $\left(\frac{1}{20} \times 3 + \frac{1}{30} \right) \text{ অংশ}$

$$= \frac{11}{60} \text{ "}$$

বাকী কাজ = $\left(\frac{13}{60} - \frac{11}{60} \right) \text{ অংশ}$

$$= \frac{2}{60} \text{ "} = \frac{1}{30} \text{ "}$$

কমবে দিন = $(12+3) \text{ দিন}$

$$= 15 \text{ "}$$

পর্যন্ত ১ দিনে কাজ

$$= \left(\frac{1}{20} + \frac{1}{60} \right) \text{ অংশ}$$

$$= \frac{4}{60} \text{ "}$$

$$= \frac{1}{15} \text{ "}$$

$\frac{1}{15}$ অংশ সম্পন্ন হয় = ১ দিন

∴ ১ " " " = ১৫ " "

= $\frac{1}{30}$ " " " = $\frac{15}{30}$ "

= $\frac{1}{2}$ দিন

কমবে দিন = $(15 + \frac{1}{2}) \text{ দিন}$

$$= 15\frac{1}{2} \text{ দিন}$$



☞ যদি ১২ জন পুরুষ এবং ১০ জন বালক কোনো কাজের $\frac{2}{9}$ অংশ ৩ দিনে এবং ৪ জন পুরুষ ও ৫ জন বালক ঐ কাজের $\frac{1}{27}$ অংশ ৭ দিনে করে, তবে ৭ জন পুরুষ ঐ কাজ কত দিনে করবে?

Solⁿ

$$\begin{aligned} & 12 \text{ জন পুরুষ} + \boxed{10 \text{ জন বালক}} \quad 3 \text{ দিনে কাজ} = \frac{2}{9 \times 3} = \frac{2}{27} \text{ অংশ} \quad \text{--- (1)} \\ & 4 \text{ " " } + 5 \text{ " " } \quad 1 \text{ " " } = \frac{1}{27 \times 7} = \frac{1}{189} \text{ " " } \\ & 8 \text{ " " } + \boxed{10 \text{ " "}} \quad 1 \text{ " " } = \frac{2}{289} \text{ " " } \quad \text{--- (2)} \end{aligned}$$

$$4 \text{ জন পুরুষ 1 দিনে কাজ} = \left(\frac{2}{27} - \frac{2}{289} \right) \text{ অংশ} = \frac{12}{189} \text{ অংশ} = \frac{4}{63} \text{ অংশ}$$

$$\therefore 7 \text{ " " } \quad 1 \text{ " " } = \frac{4 \times 7}{63 \times 4} \text{ " " } = \frac{1}{9} \text{ অংশ}$$

$$\frac{1}{9} \text{ অংশ করতে সময় লাগে} = 1 \text{ দিন} \\ \therefore 1 \text{ " " } \quad \text{ " " } \quad \text{ " " } = \boxed{9 \text{ দিন}}$$



⇒ তিনজন শ্রমিক একটি কাজ ১২ দিনে করতে পারে। শ্রমিকদের মধ্যে ২ জন প্রত্যেকে তৃতীয় শ্রমিকের চেয়ে দ্বিগুণ দ্রুততায় কাজ করতে পারে। একজন দ্রুততর শ্রমিক একাকী কতদিনে শেষ করতে পারবে?

[৪১তম বিসিএস লিখিত]

সমাধান,
ধরি, দ্রুততর শ্রমিক কাজটি করে x দিনে → ২ জন
অন্য " " " $(2x)$ " → ১ জন

সুতরাং,

$$\frac{1}{x} + \frac{1}{x} + \frac{1}{2x} = \frac{1}{12}$$

$$\therefore \frac{5}{2x} = \frac{1}{12}$$

$$\therefore \boxed{x = 30}$$



একজন ঠিকাদার ১৯২০ মিটার দীর্ঘ একটি বাঁধ ১২০ দিনে শেষ করার চুক্তি করে ১৬০ জন শ্রমিক নিয়োগ করলেন। ২৪ দিন পর দেখা গেল মাত্র ২৪০ মিটার বাঁধ তৈরি করা হয়েছে। নির্ধারিত সময়ের মধ্যে কাজটি শেষ করতে হলে কত জন অতিরিক্ত শ্রমিকের প্রয়োজন হবে?

অতিরিক্ত শ্রমিক সংখ্যা =
(240 - 160) = 120 জন

সমাঃ

অতিরিক্ত দিন = (120 - 24) = 96 দিন

কাজ = (1920 - 240) মিটার = 1680 মিটার

24 দিনে 240m বাঁধ তৈরি করা = 160 জন
 $\therefore 1 \text{ " } 240m \text{ " " " " } = 160 \times 24 \text{ "}$
 $\therefore 1 \text{ " } 1 \text{ " " " " } = \frac{160 \times 24}{240} \text{ "}$
 $\therefore 1 \text{ " } 1680 \text{ " " " " } = \frac{160 \times 24 \times 1680}{240} \text{ "}$
 $\therefore 96 \text{ " } 1680 \text{ " " " " } = \frac{160 \times 24 \times 1680}{96 \times 240} \text{ "}$
 $= 280 \text{ জন}$



- ⇒ একজন ঠিকাদার একটি কাজ ৮০ দিনে সম্পন্ন করার চুক্তিতে ৬০ জন লোক নিযুক্ত করল। ২০ দিন পরে দেখা গেল যে, কাজের মাত্র $\frac{১}{৫}$ অংশ সম্পন্ন হয়েছে। নির্দিষ্ট সময়ে (৮০ দিনে) কাজটি সম্পন্ন করতে হলে অতিরিক্ত কতজন লোক নিয়োগ করতে হবে? [২২তম বিসিএস লিখিত]

Solⁿ:

$$\text{বাকী কাজ} = \left(1 - \frac{1}{5}\right) = \frac{4}{5}$$

$$\text{অতিরিক্ত দিন} = (80 - 20) = 60 \text{ দিন}$$

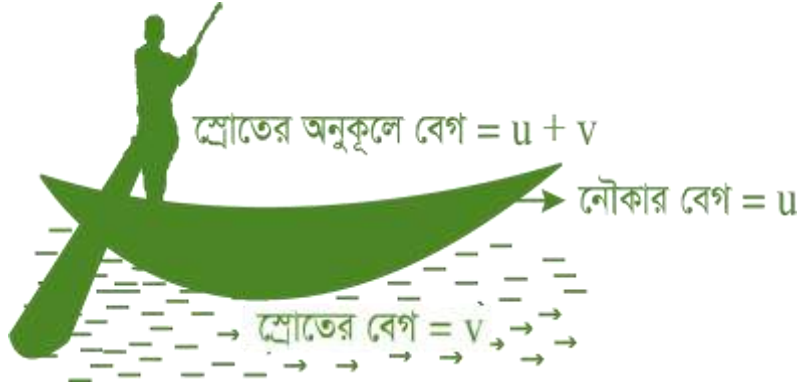


বাকী কাজের Math করা হত

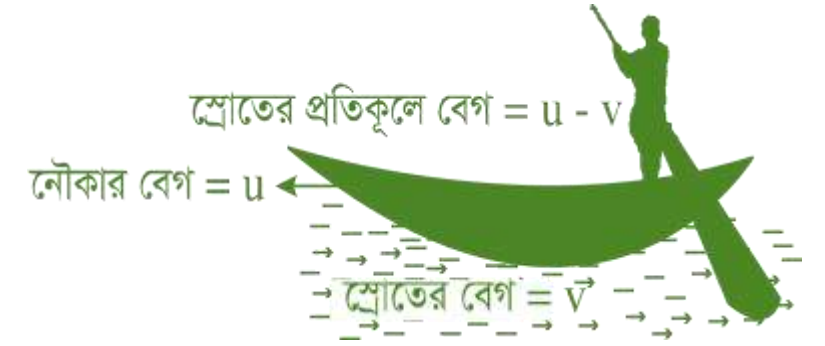


নৌকা ও স্রোত সম্পর্কিত সমস্যাগুলি

নৌকার প্রকৃত গতিবেগ বলতে স্থির পানিতে নৌকার গতিবেগ কে বোঝায়। অপর দিকে স্রোতস্থিনী নদীর স্রোতের অনুকূলে বা প্রতিকূলে নৌকার গতিবেগকে নৌকার কার্যকরী গতিবেগ বলা হয়।



নৌকার বেগ = u , স্রোতের বেগ = v
শ্রোতের অনুকূলে বেগ = $u + v$
শ্রোতের প্রতিকূলে বেগ = $u - v$
অতিক্রান্ত দূরত্ব, $x = \text{বেগ} \times \text{সময়}$



✓ স্রোতের অনুকূলে বেগ = নৌকার বেগ + স্রোতের বেগ

✓ স্রোতের প্রতিকূলে বেগ = নৌকার বেগ - স্রোতের বেগ

স্থির পানিতে নৌকার গতিবেগ = $\frac{\text{অনুকূলে নৌকার গতিবেগ} + \text{প্রতিকূলে নৌকার গতিবেগ}}{2}$

স্রোতের গতিবেগ = $\frac{\text{অনুকূলে নৌকার গতিবেগ} - \text{প্রতিকূলে নৌকার গতিবেগ}}{2}$



⇒ দাঁড় বেয়ে একটি নৌকা স্রোতের অনুকূলে ৬ মিনিটে $1\frac{1}{2}$ কি.মি. যায় এবং স্রোতের প্রতিকূলে ১৫ মিনিটে $1\frac{1}{8}$ কি.মি. যায়। নৌকা ও স্রোতের বেগ নির্ণয় করুন। [২৩তম, ১৭তম বিসিএস লিখিত]

সমাঃ

u v

$$u + v = \frac{3}{2 \times 6} = \frac{1}{4} \quad \text{--- (i)}$$

$$u - v = \frac{5}{4 \times 15} = \frac{1}{12} \quad \text{--- (ii)}$$

(i) + (ii)

$$2u = \frac{1}{4} + \frac{1}{12} = \frac{4}{12} = \frac{1}{3}$$

$$\therefore u = \frac{1}{6} \text{ km/min}$$

(i) - ২৩ পাঠ,

$$\frac{1}{6} + v = \frac{1}{4}$$

$$u \cdot v = \frac{1}{4} - \frac{1}{6}$$

$$\therefore v = \frac{3-2}{12}$$

$$\therefore v = \frac{1}{12} \text{ km/min}$$



⇒ এক ব্যক্তি স্রোতের প্রতিকূলে ঘণ্টায় $2\frac{1}{2}$ কি.মি. বেগে যেতে পারে। স্রোতের বেগ ঘণ্টায় ৩ কি.মি. হলে স্রোতের অনুকূলে $8\frac{1}{2}$ কি.মি. যেতে কত সময় লাগবে?

Soln:

$$\text{দ্রুত} = u$$

$$\text{স্রোত} = v = 3 \text{ km/h}$$

$$u - v = \frac{5}{2}$$

$$\therefore u = \frac{5}{2} + v$$

$$\therefore u = \frac{5}{2} + 3$$

$$\therefore u = \frac{11}{2}$$

$$s = vt$$

$$\text{দূরত্ব} = \text{বেগ} \times \text{সময়}$$

$$\frac{85}{2} = (u + v) \times t$$

$$\therefore \frac{85}{2} = \left(\frac{11}{2} + 3\right) \times t$$

$$\therefore \frac{85}{2} = \frac{17}{2} \times t$$

$$\therefore t = 5 \text{ h}$$



দূরত্ব বিষয়ক সমস্যাবলি

+ ➤ গড় গতিবেগ = $\frac{2ab}{a+b}$ [যদি দূরত্ব সমান বা একই হয়] এখানে, a= বড় বেগের মান এবং b= ছোট বেগের মান

+ ➤ দূরত্ব = $\frac{ab}{a-b} \times \frac{\text{দেবির সময়} + \text{আগে পৌঁছার সময়}}{\text{সময়}} = \frac{ab}{a-b} \times \frac{T_1 + T_2}{T}$

+ ➤ দূরত্ব $\frac{ab}{a-b} = \text{মোট সময়} = (\text{সময়} \times \text{গতিবেগ})$

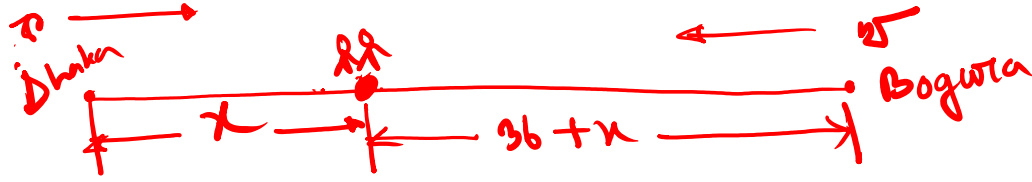
+ ➤ সময় = $\frac{\text{ট্রেন} + \text{সেতুর দৈর্ঘ্য}}{\text{বেগের পার্থক্য}} = \frac{\text{দূরত্ব}}{\text{গতিবেগ}}$



দূরত্ব বিষয়ক সমস্যাবলি

ক ও খ একই মুহূর্তে ঢাকা ও বগুড়া হতে যাত্রা শুরু করে একে অপরের দিকে যথাক্রমে ২০ কি. মি. ও ৩০ কি. মি. বেগে অগ্রসর হয়। খ, ক অপেক্ষা ৩৬ কি. মি. বেশি অতিক্রম করার পর তারা মিলিত হন। ঢাকা ও বগুড়ার মধ্যবর্তী দূরত্ব নির্ণয় করুন।
[১৫তম বিসিএস লিখিত]

Sol:



$$s = vt$$
$$\therefore t = \frac{s}{v}$$

সমস্যাঃ

ক এর সময় = খ এর সময়

$$\therefore \frac{x}{20} = \frac{x+36}{30}$$

$$\therefore 3x = 2x + 72$$

$$\therefore \boxed{x = 72}$$

ঢাকা ও বগুড়া মিলিত হওয়ার দূরত্ব


$$= x + 36 + x$$
$$= 72 + 36 + 72$$
$$= \boxed{180 \text{ km}}$$



এক বা একাধিক প্রাণির গতিবেগ সম্পর্কিত সমস্যাবলি

একটি সিংহ একটি হরিণ শিকারের জন্য ৬০০ মিটার পেছন থেকে তাড়া করল। এখন ১ কি.মি. পথ যেতে যদি হরিণের ৮ মিনিট এবং সিংহের ৬ মিনিট লাগে তবে কতক্ষণ অন্তর সিংহটি হরিণকে শিকারে সক্ষম হবে?

Solⁿ



✓ সিংহের বেগ = $\frac{1000 \text{ m}}{6 \text{ min}} = \frac{500}{3} \text{ m/min}$

✓ হরিণের " = $\frac{1000 \text{ m}}{8 \text{ min}} = 125 \text{ m/min}$

ধরাও, হরিণের সময় = সিংহের সময়

$$\therefore \frac{x}{125} = \frac{600+x}{500/3}$$

$$\therefore \frac{x}{125} = \frac{1800+3x}{500}$$

$$\therefore x = \frac{1800+3x}{4}$$

$$\therefore x = 1500 \text{ m} = 1.5 \text{ km}$$

$$s = vt$$

$$\therefore t = \frac{s}{v} = \frac{1000}{125} = 8 \text{ min}$$



৪৬তম BCS প্রিলি

ফুল কোর্স (নতুন ব্যাচ)

ভর্তি চলছে...



সর্বমোট ১০৬টি Zoom
লাইভ ক্লাস



সর্বমোট ২৯৬ সেট স্ট্যান্ডার্ড
এক্সাম (অফলাইন ও অনলাইন)



সার্বক্ষণিক (২৪/৭) Q & A
সেবা



প্রতিটি প্রশ্নের এনালাইসিস
রিপোর্ট



Auto SMS-এ প্রতিটি রেজাল্ট



প্রস্তুতি সহায়ক ১৫টি প্রিন্টেড বই



উত্তরণ

ক্যারিয়ার এন্ড স্কিলস একাডেমি

www.uttoron.academy
একটি উদ্ভাস-উদ্যম প্রতিষ্ঠান

**BCS কঠিন নয়;
প্রস্তুতি যদি গোছানো হয়**