


লাভ ক্ষতি



# ক্রয়মূল্য বিক্রয়মূল্য



একটি জিনিস ৪০০ টাকায় কিনে ২০% ক্ষতিতে বিক্রয় করা হলে  
সেটির বিক্রয়মূল্য কত?




ক্রয়মূল্য বিক্রয়মূল্য



এক লোক ১২.৫% ক্ষতিতে কোন জিনিস বিক্রি করেন। যে দামে তিনি বিক্রি করেন তার চেয়ে ৩০ টাকা বেশি দামে বিক্রি করলে ক্রয়মূল্যের উপর ২৫% লাভ হতো। দ্রব্যটির ক্রয়মূল্য কত?


ক্রয়মূল্য বিক্রয়মূল্য



একটি ছাগল ৮% ক্ষতিতে বিক্রি করা হল। আরও ৮০০ টাকা বেশি দামে বিক্রি করলে ৮% লাভ হতো। ছাগলটির ক্রয়মূল্য কত?



ক্রয়মূল্য বিক্রয়মূল্য



একটি ঘড়ি ৬১২ টাকায় বিক্রি করায় ১৫% ক্ষতি হলো। সে ১০% লাভে বিক্রি করতে চেয়েছিল। কিন্তু যদি সে ২০% লাভে বিক্রি করতে চাইতো, তাহলে কত টাকা বেশি দামে বিক্রি করতে হতো



ক্রয়মূল্য বিক্রয়মূল্য

নির্মাতা ও বিক্রেতা ২০% একটি জিনিস বিক্রি করে। ঐ জিনিসের  
নির্মাণ খরচ ২০০ টাকা হলে খুচরা মূল্য কত?



ক্রয়মূল্য বিক্রয়মূল্য

এক লোক ১২০০ টাকায় কিনে ১৫% লাভে বিক্রয় করলো। যার কাছে বিক্রয় করলো সে তৃতীয় লোকের কাছে ৫% ক্ষতিতে বিক্রয় করলো। শেষ বিক্রয়মূল্য কত?

ক্রয়মূল্য বিক্রয়মূল্য

৫০ টি কলা ২২০ টাকায় বিক্রয় করায় ১০% লাভ হয়। ১০টি  
কলার ক্রয়মূল্য কত?

ক্রয়মূল্য বিক্রয়মূল্য





লাভ - ক্ষতি



২৭৫০টাকায় একটি জিনিস বিক্রয় করায় ৪৫০ টাকা ক্ষতি হলো।  
৩৬০০টাকায় সেটি বিক্রয় করলে কত লাভ হতো?



লাভ - ক্ষতি

২৭৫০টাকায় একটি জিনিস বিক্রয় করায় ৪৫০ টাকা ক্ষতি হলো।  
৩৬০০টাকায় সেটি বিক্রয় করলে কত লাভ হতো?




লাভ - ক্ষতি

৪ টাকায় একটি কমলা কিনে ২৪টি কমলা কত টাকায় বিক্রয় করলে  
২০% লাভ হবে?




লাভ - ক্ষতি

একজন দোকানদার হালি প্রতি ২৫ টাকায় ডিম কিনে ২ হালি ৫৬  
টাকায় বিক্রি করলে কত লাভ বা ক্ষতি হবে?



লাভ - ক্ষতি



টাকায় ১০ টি দরে লেবু কিনে ৮ টি দরে বিক্রি করলে কত লাভ হবে?



লাভ - ক্ষতি

এক ব্যক্তি ক্রয়মূল্যের উপর ৫০% হিসাবে বিক্রয়মূল্য নির্ধারণ করে।  
বিক্রয়মূল্যের উপর ১০% কমিশন দেন। তার মোটের উপর শতকরা  
কত লাভ হয়?

লাভ - ক্ষতি

একজন ডিম বিক্রেতা প্রতি ডজন ডিম ১০১ টাকা দরে ৫ ডজন এবং ৯০  
টাকা দরে ৬ ডজন ডিম কিনে কত টাকা দরে বিক্রি করলে ডজন প্রতি  
৩ টাকা লাভ হবে?

লাভ - ক্ষতি



৫০০ টাকা দিয়ে একটা জিনিস কিনে ১০% লাভে বিক্রি করা হলো।  
ক্রয়মূল্য ১০% কম হলে কত টাকা লাভ হতো?



লাভ - ক্ষতি

ক একটা জিনিস খ এর কাছে ২০% লাভে বিক্রি করে জিনিসটি গ এর নিকট ক এর ক্রয়মূল্যে বিক্রি করে , খ এর কত ক্ষতি হয়?



লাভ - ক্ষতি

৩৬০০ টাকায় দুটি চেয়ার বিক্রি করায়, একটায় ২০% লাভ অন্যটায় ২০% ক্ষতি হলো। এতের মোটের উপর কত টাকা লাভ বা ক্ষতি হলো?



লাভ - ক্ষতি

কোন জিনিসের ক্রয়মূল্য বাজার দরের ৮০%। এতে কত লাভ বা ক্ষতি হয়?

লাভ - ক্ষতি



২৫ কেজি চালের কেনা দামে ২০ কেজি চাল বিক্রি করলে কত লাভ হবে?


লাভ - ক্ষতি



একজন ফল ব্যবসায়ী ডজন প্রতি ১৫০ টাকায় কিছু আম, ডজন প্রতি ১০০ টাকায় কিছু আপেল কিনলেন। ডজন প্রতি ১৪০ টাকা দরে সব ফল বিক্রি করলে কত লাভ হবে?



লাভ - ক্ষতি





# অনুপাত





একটি দ্রব্য ২৫% লাভে বিক্রি করলে বিক্রয় মূল্য ও ক্রয় মূল্যের  
অনুপাত কত?



অনুপাত



১২০ টাকায় কিনে ১৪৪ টাকায় বিক্রি করলে ক্রয়মূল্য ও লাভের অনুপাত  
কত?



অনুপাত

পর্যায়ক্রমিক শতকরা

গতকাল শেয়ারের দাম ২৫% বেড়ে গিয়েছিল। কিন্তু আজকে ২৫% কমে গিয়েছে। শেয়ারের দাম মোট কত বেড়েছে বা কমেছে?

পর্যায়ক্রমিক শতকরা

বিবিধ

চা ব্যবসায়ী এক বক্স চা পাতা প্রতি কেজি ৮০ টাকা হিসাবে কিনেন। সব চা পাতা কেজি প্রতি ৭৫টাকায় বিক্রি করায় ৫০০ টাকা ক্ষতি হয়। কত কেজি চা পাতা কিনেছিলেন?

বিবিধ



Thanks