



← স্টাডি হোম / ব্যাংক জবস কোর্স / Quiz: মডেল টেস্ট ৬


কুইজের ফলাফল



0/80
তোমার স্কোর



00:01
অতিবাহিত সময়



ফেইল
তোমার ফলাফল

Quiz: মডেল টেস্ট ৬

'প্রাতিস্বিক' শব্দটির অর্থ-

- স্বকীয় ?
- স্বীয়
- স্বোপার্জিত
- স্বনির্মিত

উত্তর দেয়া হয়নি

children must be__ with love and care.

- brought up ?
- brought about
- brought
- brought as

উত্তর দেয়া হয়নি

নিচের যে গুচ্ছে একটিও ঘর্ষণজাত ধ্বনি নেই-

- চ ব হ
- ল স ছ
- র শ জ
- ফ ড় ঢ ?

উত্তর দেয়া হয়নি

ন্যায় শব্দের বিশেষণ -

- ন্যায় কৃত
- ন্যায্য ?
- ন্যায় সঙ্গত
- নীতিবাদ








উত্তর দেয়া হয়নি

যে বন হিংস্র জন্ততে পরিপূর্ণ- এক কথায় কি হবে?

- দুর্গম অরণ্য
- অরণ্য জনপদ
- বিপদসংকুল
- স্বাপদসংকুল ?

উত্তর দেয়া হয়নি

লাইব্রেরি

-  Quiz: মডেল টেস্ট ৪
-  মডেল টেস্ট
Quiz: মডেল টেস্ট ৫
-  মডেল টেস্ট
Quiz: মডেল টেস্ট ৬
-  মডেল টেস্ট
Quiz: মডেল টেস্ট ৭
-  মডেল টেস্ট
Quiz: মডেল টেস্ট ৮
-  মডেল টেস্ট
Quiz: মডেল টেস্ট ৯
-  মডেল টেস্ট
Quiz: মডেল টেস্ট ১০

সোনালী কাবিন এর রচয়িতা কে?

হাসান হাফিজুর রহমান

হুমায়ুন আজাদ



আল মাহমুদ



শক্তি চট্টোপাধ্যায়

উত্তর দেয়া হয়নি

Many modern medicines are derived__ plants and animals.



from



on

or

in

উত্তর দেয়া হয়নি

শেষে স্ত্রীবাচক শব্দ যোগ করে লিঙ্গান্তর করতে হয়?

পুলিশ

কবি

কর্মী



গয়লা



উত্তর দেয়া হয়নি

__ It was a holiday, the doctor performed the emergency surgery on the heart patient



although



even

during

so

উত্তর দেয়া হয়নি

পারিভাষিক শব্দ কোনটি?

ইনসান

টোপার



বিশ্ববিদ্যালয়



ডাক্তারখানা

উত্তর দেয়া হয়নি

ফুলে ফুলে ঘর ভরেছে - বাক্যটিতে 'ফুলে ফুলে' কোন কারকে কোন বিভক্তি?

কর্মে ১মা

কর্তায় ৭মী



করণে ৭মী



অধিকরণে ৭মী

উত্তর দেয়া হয়নি

অপু ও দুর্গা চরিত্র দুটি কোন উপন্যাসের -

বোবা কাহিনী



পথের পাঁচালী



নৌকাভূবি

দিবারাত্রির কাব্য

উত্তর দেয়া হয়নি

Ambition-

proclamation



Desire



decision

Clan

উত্তর দেয়া হয়নি

Eight years ago the ratio of A's Age to B's age was 4:5. The ratio of B's age to C's age is 4:5. At present the difference between A's age and C's age is 20 years, then What is the sum of the ages of A, B and C?

138



148



164

152

উত্তর দেয়া হয়নি

কুল কাঠের আগুন- বাগধারাটির সঠিক অর্থ কি?



তীব্র জ্বালা



কাঠের পুতুল

কুপমন্ডুক

এলাহি কান্ড

উত্তর দেয়া হয়নি

কোনটি তৎসম শব্দ?

আনারস

চেয়ার

টেবিল



হস্ত



উত্তর দেয়া হয়নি

পায়ের আওয়াজ পাওয়া যায় কি ধরনের রচনা?

ছেটিগল্প

উপন্যাস



কাব্যনাটক



পত্রোপন্যাস

উত্তর দেয়া হয়নি

The poem visions of the past is written by-

Lord Byron

William Blake



Michael Madhusudan Dutta



Rabindranath Tagore

উত্তর দেয়া হয়নি

Let the things slide means-

to be criticizing



to be indifferent



to set free

not to help anyone

উত্তর দেয়া হয়নি

I am exactly like my mother. I think I have__ her .

Taken off

taken over



taken after



Taken to

উত্তর দেয়া হয়নি

Not easy to change people__ toward a certain problem.

idea

opinion



attitude



thinking

উত্তর দেয়া হয়নি

How many integers from 1 to 1000 are divisible by 30 but not by 16?



29



31

32

38

উত্তর দেয়া হয়নি

I hope that the rain will __ for our picnic tomorrow.

Set back

put off

stay out



keep off



উত্তর দেয়া হয়নি

Find the least number of five digits which when divided by 40, 60 and 75 leaves remainders 31, 51 and 66 respectively.

10196

10199

10197



10191



উত্তর দেয়া হয়নি

কোনটির লিপির বিবর্তনের ধাপ নয়?

চৈনিক লিপি

জাপানি লিপি

- দেব লিপি
- চিনা লিপি

উত্তর দেয়া হয়নি

A ladder is placed against a wall such that its foot is at a distance of 2.5 m from the wall and its top reaches a window 6 m above the ground. find the length of the ladder.

- 6.5 M
- 8.5 M
- 4.5 M
- 2.5 m

উত্তর দেয়া হয়নি

The national helpline for violence against women and children is-

- 102
- 109
- 111
- 333

উত্তর দেয়া হয়নি

Bangla Bond will make debut on the London stock exchange through-

- Bangladesh Bank
- London stock exchange
- International Finance Corporation
- World Bank

উত্তর দেয়া হয়নি

আপন গোল্ডায় যাও - এটি কোন ক্রিয়ার উদাহরণ?

- মিশ্র ক্রিয়া
- যৌগিক ক্রিয়া
- শিভস্ত ক্রিয়া
- নামধাতুর ক্রিয়া

উত্তর দেয়া হয়নি

I shall bring you up as soon as-

- I will arrive
- I arrive
- I shall arrive
- I shall be arrived

উত্তর দেয়া হয়নি

A is 30% more efficient than B. How much time will they, working together, take to complete a job which A alone could have done in 23 days?

- 10 days
- 13 days
- 15 days
- none of these

উত্তর দেয়া হয়নি

The average of 6 numbers is 14. The average of four of these numbers is 15. The average of the remaining two numbers is

- 4
- 8
- 12 ?
- 16

উত্তর দেয়া হয়নি

Where is the group of 5 men and 6 women and age children. one man, one woman and one child are going to be selected to play a game. In how many ways can the selection be done?

- 240 ?
- 480
- 129
- none of these

উত্তর দেয়া হয়নি

A certain number is divided by 7, the remainder is zero. if the remainder is not zero when the number is divided by 14 then the remainder must be-

- 7 ?
- 5
- 3
- 8

উত্তর দেয়া হয়নি

f the sum of two numbers is 22 and the sum of their squares is 404 then the product of two numbers is-

- 40 ?
- 44
- 80
- 88

উত্তর দেয়া হয়নি

The fraction of solar energy reflected from earth into space is known as-

- insolation
- albedo ?
- radiation
- heat loss

উত্তর দেয়া হয়নি

Moving from one website to another is called-

- downloading
- uploading
- browsing ?
- attaching

উত্তর দেয়া হয়নি

While working 7 hours a day, A alone can complete a piece of work in 6 days and B alone in 8 days. In what time would they complete it together, 8 hours a day?

- 5
- 3
- 4
- 10

উত্তর দেয়া হয়নি

কাজী নজরুল ইসলাম সম্পাদিত পত্রিকা নয় -

- লাঙ্গল
- ধুমকেত
- নবযুগ
- বিজলি

উত্তর দেয়া হয়নি

Politicians make many promises but very ___ of them are implemented.

- little
- some
- few
- a few

উত্তর দেয়া হয়নি

There is a provision of food in the Fort for 1200 soldiers for 60 days. After 15 days 200 soldiers left the fort. the remaining food will last for how many days?

- 65
- 60
- 48
- 54

উত্তর দেয়া হয়নি

Fragile-

- trouble
- discomfort
- breakable
- divert

উত্তর দেয়া হয়নি

change the form of speech: they said to him, ' sir, please visit our office today.'

- they requested him respectfully to visit their office that day
- they addressed him star and requested him to visit the office today
- they told him in a humble manner to visit their office that day
- they asked him to visit their office today

উত্তর দেয়া হয়নি

Number of temporary members of the UN Security Council is -

5

50



10



none of these

উত্তর দেয়া হয়নি

Barbarian-

Unkind

unlikeness

mpolite



uncivilized



উত্তর দেয়া হয়নি

The sum of first 17 terms of the series 5, 9, 13, 17.... is

529,

462,



629,



523

উত্তর দেয়া হয়নি

Which of the following is an example of utility?

word data

recovery

operating system



antivirus



উত্তর দেয়া হয়নি

Average attendance of a college for the first three days of a week is 325 and first four days is 320. how many were present on the fourth day?

300

315

350



305



উত্তর দেয়া হয়নি

Log 36/ log 6 =

5

8

3



2



উত্তর দেয়া হয়নি

f the ratio of speed of doing work of 3 persons is 1: 3 : 5 what is the ratio of the time taken by these people to do the same amount of work?



0.6285069444



0.6285532407

0.6271412037

0.135474537

উত্তর দেয়া হয়নি

find the incorrect sentence:

this is my complaint against him

we must fight the enemies

you should apologize for your mistake



I study hardly



উত্তর দেয়া হয়নি

Which one of the following has recently been named as first world capital of architecture for 2020?

Tokyo

Beijing

England



Rio de Janeiro



উত্তর দেয়া হয়নি

By default footers are printed on-

first page

last page



all pages



even pages

উত্তর দেয়া হয়নি

Which one of the following is an example of non renewable resources ?

wind

water



coal and Minerals



all of these

উত্তর দেয়া হয়নি

Which country is 10 on second country in the world according to most roads?

China



India



Afghanistan

South Korea

উত্তর দেয়া হয়নি

Which of the following is not an input device?



plotter



keyboard

scanner

all of these

উত্তর দেয়া হয়নি

Which of the following organisations is concerned with environmental issue?

- IPCC
- MIGA
- IPCC
- IMO

উত্তর দেয়া হয়নি

Which of the following is not the section break option?

- odd page
- next page
- previous page
- even pages

উত্তর দেয়া হয়নি

Conductor: archestra -

- Jockey: mount,
- Skipper: crew
- driver :tractor
- thrasher: hay

উত্তর দেয়া হয়নি

We cannot process the order__ we get a copy of the purchase order.

- until
- that
- because
- when

উত্তর দেয়া হয়নি

Which of the following font effect is not available in PowerPoint font dialogue box?

- strikethrough
- underline
- Shadow
- emboss

উত্তর দেয়া হয়নি

The average height of girls in class is 5 feet and that of boys is 5.7 feet. If the average height of the students in class is 5.5 feet what could be the possible strength of boys and girls respectively in the class?

- 50, 20
- 30, 20
- 20, 30
- 60,50

উত্তর দেয়া হয়নি

Nature has given us abundant wealth__ the form of forests.

- in
- by

at

with

উত্তর দেয়া হয়নি

In college Rahim scored 80 marks out of 150 in history and 95 marks out of 120 in English. If he wants to score 70% marks in three subjects, find the minimum marks he should score in geography out of 100.

73

55

76



none of these



উত্তর দেয়া হয়নি

Student is to answer 10 out of 13 questions in an examination such that he must choose at least four from the first five questions. the number of choices available to him is-

140



196



280

346

উত্তর দেয়া হয়নি

it is necessary to_ standards are maintained.



ensure



insure

control

influence

উত্তর দেয়া হয়নি

the synonym of stigma is-



stain



benefit

esteem

exaltation

উত্তর দেয়া হয়নি

he process of removing unwanted part of an image is called -

hiding

bordering



cropping



cutting

উত্তর দেয়া হয়নি

Stern is normally filled with water in 10 hours that takes 5 days 5 hours longer to feel because of a leak in its bottom. if the cistern is full the leak empty the cistern in-Stern is normally filled with water in 10 hours that takes 5 days 5 hours longer to feel because of a leak in its bottom. if the cistern is full the leak empty the cistern in-

20 hours



30 hours



40 hours

50 hours

উত্তর দেয়া হয়নি

HCF of the numbers 36 54 and 90-

6

9

12

18

উত্তর দেয়া হয়নি

Which of the following is not a valid data type in Excel?

number

character

label

date and time

উত্তর দেয়া হয়নি

What is a default file extension for all Word documents?

DOC

FIL

WRD

TXT

উত্তর দেয়া হয়নি

Recently expired Reno and personality Roshan Ara Bachchu was a -

Politician

women activities

freedom fighter

language Hero

উত্তর দেয়া হয়নি

The energy of food is measured in

kelvin

bushel

calories

none of these

উত্তর দেয়া হয়নি

Which of the following are loaded in safe mode?

keyboard driver

Mouse driver

VGA driver

all of these

উত্তর দেয়া হয়নি

which country won the first football world cup?

- Brazil
- Germany
- Argentina
- Uruguay ?

উত্তর দেয়া হয়নি

Before nationalisation in 1972 the former name of present Janata Bank Limited was-

- Standard Bank Limited
- Standard Bank Limited
- United Bank Limited ?
- none of these

উত্তর দেয়া হয়নি

What is Ground Zero?

- Greenwich
- Indira Point
- New York ?
- none of these

উত্তর দেয়া হয়নি

Which football team stood first in the end of the year FIFA global ranking 2018?

- Belgium ?
- France
- Switzerland
- Germany

উত্তর দেয়া হয়নি

The branch of science that studies cells is called -

- cytology ?
- Homer plasti
- entomology
- Pulmonology

উত্তর দেয়া হয়নি

পুনরায় চেষ্টা করুন

10MINUTE
SCHOOL

আমাদের মোবাইল অ্যাপ ডাউনলোড করুন



কোম্পানি

ক্যারিয়ার

প্রাইভেসি পলিসি

অ্যাফিলিয়েট হতে চাইলে

রিফান্ড পলিসি

অন্যান্য

অফার সমূহ

নোটস এবং গাইডস

ব্লগ

ক্র্যাশ কোর্স

আমাদের সাথে যোগাযোগ করুন

কল করুন: 16910 (8AM - 11PM)

এসএমএস: 10MSHelp to 26969

ইমেইল: support@10minuteschool.com

