




← স্টাডি হোম / ব্যাংক জবস কোর্স / Quiz: গুণোত্তর ধারা

কুইজের ফলাফল

 0/3 তোমার স্কোর	 00:03 অতিবাহিত সময়	 ফেইল তোমার ফলাফল
---------------------------------------------------------------------------------------------------------	-------------------------------------------------------------------------------------------------------------	----------------------------------------------------------------------------------------------------------

Quiz: গুণোত্তর ধারা

একটি গুণোত্তর অনুক্রমের দ্বিতীয় পদটি -৪৮ এবং ৫ম পদটি ১৬০ হলে, সাধারণ অনুপাত কত?

- 44593
- 1/2
- 44652
- 1/4

উত্তর দেয়া হয়নি

5+x+y+135 গুণোত্তর ধারাভুক্ত হলে, x এবং y এর মান নির্ণয় কর

- 10,45
- 15,45
- 10,55
- 15,65

উত্তর দেয়া হয়নি

2, 0, 2, 0,... অনুক্রমটির 20 তম পদ কত?

- 2
- 0
- 2
- 1

উত্তর দেয়া হয়নি

পুনরায় চেষ্টা করুন