

নিজে করি



প্রাক-অনুশীলন

বন্ধুরা! এসো আমরা প্রথমেই এ অধ্যায়ের অনুশীলনে সহায়ক গুরুত্বপূর্ণ তথ্যাবলিতে মনোযোগ দিই যা প্রস্তুতিকে আরও সহজ করবে।

এ অধ্যায় পাঠ শেষে শিক্ষার্থীরা যা জানতে পারবে

- ১ থেকে ৪০ পর্যন্ত গণনা করা ও অঙ্কে লেখা
- দশের সাহায্যে লেখা
- ছোট-বড় সংখ্যা বুঝা

প্রিয় বন্ধুরা! এবার আমরা পাঠ্যবইয়ের অসমাপ্ত গাণিতিক সমস্যাবলির সমাধান আয়ত্ত করব।

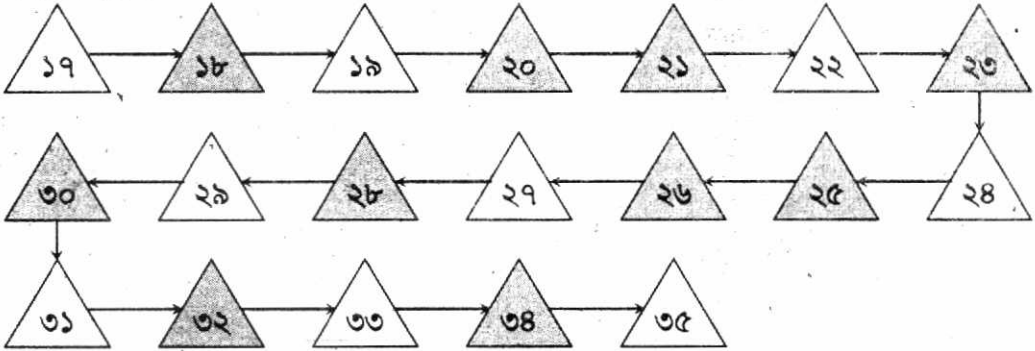
অনুশীলন

পাঠ্যবইয়ের অসমাপ্ত গাণিতিক সমস্যাবলির সমাধান



১। খালি ঘরে সংখ্যা লিখি
কম থেকে বেশি

[পাঠ্যবইয়ের পৃষ্ঠা নং ৭৯]



সংখ্যা : ২১ থেকে ৪০ পর্যন্ত

গণনা করি	দশের সাহায্যে গণনা করি	দশের সাহায্যে পড়ি	সংখ্যা পড়ি	সংখ্যা লিখি	
		২ দশ ১	২১ একুশ	২১	২১
		২ দশ ২	২২ বাইশ	২২	২২
		২ দশ ৩	২৩ তেইশ	২৩	২৩
		২ দশ ৪	২৪ চব্বিশ	২৪	২৪
		২ দশ ৫	২৫ পঁচিশ	২৫	২৫
		২ দশ ৬	২৬ ছাব্বিশ	২৬	২৬
		২ দশ ৭	২৭ সাতাশ	২৭	২৭
		২ দশ ৮	২৮ আটাশ	২৮	২৮
		২ দশ ৯	২৯ উনত্রিশ	২৯	২৯
		৩ দশ	৩০ ত্রিশ	৩০	৩০
		৩ দশ ১	৩১ একত্রিশ	৩১	৩১
		৩ দশ ২	৩২ বত্রিশ	৩২	৩২
		৩ দশ ৩	৩৩ তেত্রিশ	৩৩	৩৩
		৩ দশ ৪	৩৪ চৌত্রিশ	৩৪	৩৪

গণনা করি	দশের সাহায্যে গণনা করি	দশের সাহায্যে পড়ি	সংখ্যা পড়ি	সংখ্যা লিখি	
		৩ দশ ৫	৩৫ পঁয়ত্রিশ	৩৫	৩৫
		৩ দশ ৬	৩৬ ছত্রিশ	৩৬	৩৬
		৩ দশ ৭	৩৭ সাঁইত্রিশ	৩৭	৩৭
		৩ দশ ৮	৩৮ আটত্রিশ	৩৮	৩৮
		৩ দশ ৯	৩৯ উনচত্ব্বিশ	৩৯	৩৯
		৪ দশ	৪০ চত্ব্বিশ	৪০	৪০

৯। সংখ্যা কথায় লিখি

[পাঠ্যবইয়ের পৃষ্ঠা নং ৮১]

(১) ৩ (২) ৫ (৩) ৮ (৪) ৯ (৫) ১০

সমাধান :

(১) ৩ - তিন (২) ৫ - পঁচ (৩) ৮ - আট (৪) ৯ - নয় (৫) ১০ - দশ

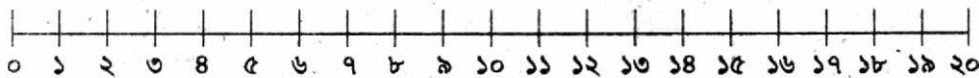
১০। সংখ্যার ক্রম অনুসারে ছোট থেকে বড় ও বড় থেকে ছোট সংখ্যা সাজাই

[পাঠ্যবইয়ের পৃষ্ঠা নং ৮১]

সংখ্যা	ছোট থেকে বড়	বড় থেকে ছোট
১৫, ১২, ১৮, ১৭, ১৩	১২, ১৩, ১৫, ১৭, ১৮	১৮, ১৭, ১৫, ১৩, ১২
১৪, ২৯, ১৭, ৩১, ২০	১৪, ১৭, ২০, ২৯, ৩১	৩১, ২৯, ২০, ১৭, ১৪
২১, ১৫, ২০, ১৮, ২৪	১৫, ১৮, ২০, ২১, ২৪	২৪, ২১, ২০, ১৮, ১৫
৩৯, ২৭, ১৭, ২৫, ১৪	১৪, ১৭, ২৫, ২৭, ৩৯	৩৯, ২৭, ২৫, ১৭, ১৪
১৬, ২২, ৩৪, ২৮, ৪০	১৬, ২২, ২৮, ৩৪, ৪০	৪০, ৩৪, ২৮, ২২, ১৬

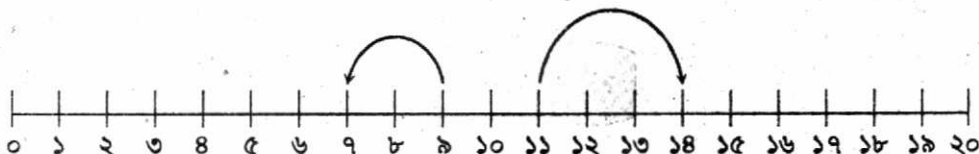
১১। নিচের রেখার সংখ্যা খুঁজি ও বলি।

[পাঠ্যবইয়ের পৃষ্ঠা নং ৮১]



১১ থেকে ৩ বেশি সংখ্যা কত?

সংখ্যাটি ১৪





৯ থেকে ২ কম সংখ্যাটি কত?

খালি ঘরে সংখ্যা লিখি

- (১) ৬ থেকে ১ বেশি
- (২) ৭ থেকে ২ কম
- (৩) ২ থেকে ৪ বেশি
- (৪) ৮ থেকে ৫ বেশি
- (৫) ১০ থেকে ৩ বেশি

সংখ্যাটি ৭



- (৬) ১৬ থেকে ৩ কম
- (৭) ১৮ থেকে ২ কম
- (৮) ১৯ থেকে ৪ কম
- (৯) ১৭ থেকে ৩ বেশি
- (১০) ১৫ থেকে ৪ কম