



ci xpv%eoy %lvb `ewEi xpv KAVU KGRm kx Zbq O zmgbi ci xpv%es goY `Udi cEAgv
cYE mgab AaAqivWk ^ I qvnGQ %aGvAbxj b Ki G Zm %AaAqW ^A K `hKVvnmRokj i FbgifK
cEAgv mgab jvLQ cv G mGBB

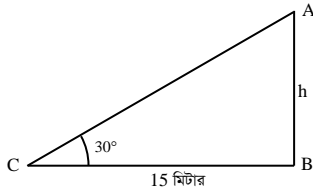
প্রশ্ন ১১ ১৮ মিটার লম্বা একটি খুঁটি বাড়ে এমনভাবে ভেঙে গেল যে, সম্পূর্ণ বিচ্ছিন্ন না হয়ে ভাঙা অংশ দণ্ডায়মান অংশের সাথে 30° কোণ উৎপন্ন করে। দুটি মাইলপোস্ট M ও N এর মধ্যবর্তী কোনো স্থানে একটি টাওয়ার অবস্থিত। টাওয়ারের শীর্ষবিন্দুতে M ও N এর অবনতি কোণ যথাক্রমে 60° ও 45° ।

[দিনাজপুর বোর্ড-২০১৯ □ প্রশ্ন নং ৮]

- ক. কোনো মিনারের শীর্ষের উন্নতি কোণ 30° এবং মিনারের ছায়ার দৈর্ঘ্য ১৫ মিটার হলে, মিনারের উচ্চতা নির্ণয় কর। ২
- খ. উদ্দীপকের আলোকে খুঁটির গোড়া হতে কত মিটার দূরে খুঁটিটির শীর্ষবিন্দু ভূমি স্পর্শ করেছে তা নির্ণয় কর। ৪
- গ. উদ্দীপকের আলোকে M মাইলপোস্ট হতে টাওয়ারের পাদবিন্দুর দূরত্ব নির্ণয় কর। ৪

১ নং প্রশ্নের সমাধান

ক



মনে করি, মিনারের উচ্চতা, $AB = h$ মিটার, শীর্ষের উন্নতি কোণ, $\angle ACB = 30^\circ$ এবং মিনারের ছায়ার দৈর্ঘ্য, $BC = 15$ মিটার।

এখন, $\triangle ABC$ -এ,

$$\tan \angle ACB = \frac{AB}{BC}$$

$$\text{বা, } \tan 30^\circ = \frac{h}{15}$$

$$\text{বা, } \frac{1}{\sqrt{3}} = \frac{h}{15}$$

$$\text{বা, } \sqrt{3}h = 15$$

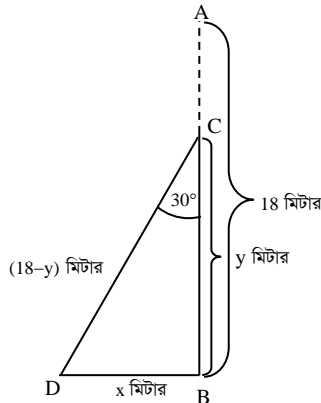
$$\text{বা, } h = \frac{15}{\sqrt{3}}$$

$$= 8.66025$$

$$= 8.66 \text{ (প্রায়)}$$

\therefore মিনারের উচ্চতা ৪.৬৬ মিটার। (প্রায়)

গ



মনে করি, খুঁটির উচ্চতা, $AB = 18$ মিটার। খুঁটিটি C বিন্দুতে ভেঙে গিয়ে সম্পূর্ণ বিচ্ছিন্ন না হয়ে D বিন্দুতে ভূমি স্পর্শ করে।

তাহলে, $\angle BCD = 30^\circ$ ।

ধরি, $BC = y$ মি. এবং $BD = x$ মি.

$\therefore CD = AC = (18 - y)$ মি.

এখন, $\triangle BCD$ -এ

$$\cos \angle BCD = \frac{BC}{CD}$$

$$\Rightarrow \cos 30^\circ = \frac{y}{18 - y}$$

$$\Rightarrow \frac{\sqrt{3}}{2} = \frac{y}{18 - y}$$

$$\Rightarrow 2y = 18\sqrt{3} - \sqrt{3}y$$

$$\Rightarrow 2y + \sqrt{3}y = 18\sqrt{3}$$

$$\Rightarrow y(2 + \sqrt{3}) = 18\sqrt{3}$$

$$\Rightarrow y = \frac{18\sqrt{3}}{2 + \sqrt{3}} = 8.3538$$

আবার, $\triangle BCD$ -এ

$$\tan \angle BCD = \frac{BD}{BC}$$

$$\Rightarrow \tan 30^\circ = \frac{x}{y}$$

$$\Rightarrow \frac{1}{\sqrt{3}} = \frac{x}{8.3538}$$

$$\Rightarrow \sqrt{3}x = 8.3538$$

$$\Rightarrow x = \frac{8.3538}{\sqrt{3}}$$

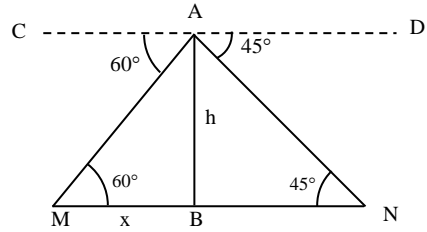
$$= 4.82$$

$\therefore x = 4.82$ (প্রায়)

\therefore খুঁটির গোড়া হতে ৪.৮২ মি. (প্রায়) দূরে খুঁটিটির শীর্ষবিন্দু ভূমি স্পর্শ করেছে।

Ans: ৪.৮২ মি. (প্রায়)

গ



মনে করি, টাওয়ারের উচ্চতা, $AB = h$ মিটার। A বিন্দুতে মাইল পোস্ট M এবং মাইলপোস্ট N এর অবনতি কোণ যথাক্রমে $\angle MAC = 60^\circ$ এবং $\angle NAD = 45^\circ$ ।

মাইল পোস্টদ্বয়ের মধ্যকার দূরত্ব $MN = 1$ মাইল

$$= 1.61 \text{ কি.মি. (প্রায়)}$$

$$= 1.61 \times 1000 \text{ মি.}$$

$$= 1610 \text{ মি.}$$

ধরি, M মাইল পোস্ট হতে টাওয়ারের পাদবিন্দু B এর দূরত্ব, $MB = x$ মিটার।

$\therefore BN = (1610 - x)$ মি.

এখানে, $\angle AMB = \angle MAC = 60^\circ$; [একান্তর কোণ বলে]

এবং $\angle ANB = \angle NAD = 45^\circ$; [একান্তর কোণ বলে]

এখন, $\triangle ABM$ হতে পাই,

$$\tan \angle AMB = \frac{AB}{MB}$$

$$\Rightarrow \tan 60^\circ = \frac{h}{x}$$

$$\Rightarrow \sqrt{3} = \frac{h}{x}$$

$$\Rightarrow h = \sqrt{3}x \dots \dots (i)$$



আবার, $\triangle ABN$ হতে পাই,

$$\tan \angle ANB = \frac{AB}{BN}$$

$$\Rightarrow \tan 45^\circ = \frac{h}{(1610 - x)}$$

$$\Rightarrow 1 = \frac{h}{1610 - x}$$

$$\Rightarrow h = 1610 - x$$

$$\Rightarrow h + x = 1610$$

$$\Rightarrow \sqrt{3}x + x = 1610 \text{ [(i) নং হতে মান বসিয়ে]}$$

$$\Rightarrow x(\sqrt{3} + 1) = 1610$$

$$\Rightarrow x = \frac{1610}{\sqrt{3} + 1}$$

$$= 589.30 \text{ (প্রায়)}$$

\therefore M মাইল পোস্ট হতে টাওয়ারের পাদবিন্দুর দূরত্ব 589.30 মিটার (প্রায়)।

Ans: 589.30 মি. (প্রায়)

প্রশ্ন ২ A ও B দুইটি স্থানের মধ্যবর্তী কোনো স্থানে একটি বেলুন উড়ছে।

বেলুনের অবস্থানে A ও B এর অবনতি কোণ যথাক্রমে 45° এবং 60° ।

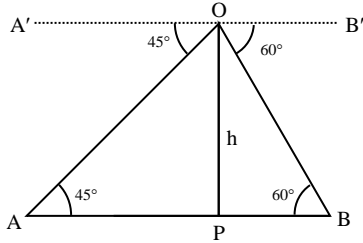
ক. সংক্ষিপ্ত বর্ণনাসহ চিত্রটি আঁক। ২

খ. $AB = 750$ মিটার হলে ভূমি থেকে বেলুনের উচ্চতা নির্ণয় কর। ৪

গ. বেলুন থেকে A ও B এর সরাসরি দূরত্বের পার্থক্য নির্ণয় কর। ৪

২ নং প্রশ্নের সমাধান

ক



মনে করি, O বিন্দুতে বেলুনের অবস্থান এবং A ও B দুইটি নির্দিষ্ট বিন্দু। O বিন্দুতে A ও B এর অবনতি কোণ যথাক্রমে 45° ও 60°

$\therefore \angle AOA' = 45^\circ$ এবং $\angle BOB' = 60^\circ$

ক মনে করি, $AP = x$ মিটার এবং $OP = h$ মিটার

দেওয়া আছে, $AB = 750$ মি.

$\therefore BP = AB - AP = (750 - x)$ মিটার

$A'O \parallel AP$ এবং OA ছেদক

$\therefore \angle OAP =$ একান্তর $\angle A'OA = 45^\circ$

আবার, $B'O \parallel BP$ এবং OB ছেদক

$\therefore \angle OBP =$ একান্তর $\angle B'OB = 60^\circ$

এখন, সমকোণী $\triangle OAP$ এ

$$\tan \angle OAP = \frac{OP}{AP}$$

$$\text{বা, } \tan 45^\circ = \frac{h}{x}$$

$$\text{বা, } 1 = \frac{h}{x}$$

$$\therefore h = x \dots \dots (i)$$

আবার, $\tan \angle OBP = \frac{OP}{BP}$

$$\text{বা, } \tan 60^\circ = \frac{h}{750 - x}$$

$$\text{বা, } \sqrt{3} = \frac{h}{750 - x}$$

$$\text{বা, } \sqrt{3} = \frac{x}{750 - x} \text{ [(i) নং হতে মান বসিয়ে]}$$

$$\text{বা, } x = \sqrt{3} (750 - x)$$

$$\text{বা, } x + \sqrt{3}x = 750 \times \sqrt{3}$$

$$\text{বা, } x(1 + \sqrt{3}) = 750 \times \sqrt{3}$$

$$\text{বা, } x = \frac{750\sqrt{3}}{1 + \sqrt{3}}$$

$$\therefore x = 475.481 \text{ মিটার (প্রায়)}$$

$$\therefore h = 475.481 \text{ মিটার (প্রায়) [(i) হতে] (Ans.)}$$

গ এখন, $\triangle OAP$ তে $\angle OAP = 45^\circ$ এবং $OP = 475.481$ মিটার

['খ' হতে]

\therefore A বিন্দু থেকে বেলুনের সরাসরি দূরত্ব = OA

$\triangle OPA$ থেকে পাই,

$$\sin \angle OAP = \frac{OP}{OA}$$

$$\text{বা, } \sin 45^\circ = \frac{OP}{OA}$$

$$\text{বা, } \frac{1}{\sqrt{2}} = \frac{475.481}{OA}$$

$$\therefore OA = 672.431 \text{ মিটার (প্রায়)}$$

আবার, $\triangle OBP$ এ $\angle OBP = 60^\circ$ এবং $OP = 475.481$ মিটার

\therefore B বিন্দু থেকে বেলুনের সরাসরি দূরত্ব = OB

এখন, $\triangle OBP$ তে

$$\sin \angle OBP = \frac{OP}{OB}$$

$$\text{বা, } \sin 60^\circ = \frac{OP}{OB}$$

$$\text{বা, } \frac{\sqrt{3}}{2} = \frac{475.481}{OB}$$

$$\text{বা, } OB = \frac{2 \times 475.481}{\sqrt{3}}$$

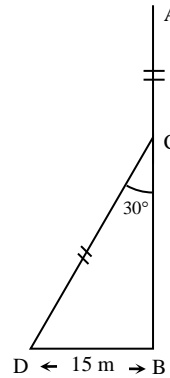
$$\therefore OB = 549.038 \text{ মিটার (প্রায়)}$$

\therefore বেলুন হতে A ও B এর সরাসরি দূরত্বের পার্থক্য

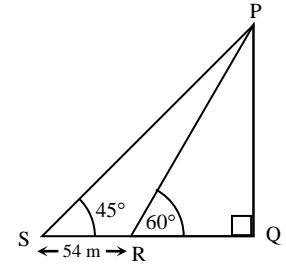
$$= (672.431 - 549.038) \text{ মিটার}$$

$$= 123.393 \text{ মিটার (প্রায়) (Ans.)}$$

প্রশ্ন ৩



চিত্র-১



চিত্র-২

সমন্বিত অধ্যায় ৯ ও ১০

[চট্টগ্রাম বোর্ড-২০১৯ □ প্রশ্ন নং ৮]

ক. $\sec(90^\circ - \theta) = \frac{5}{3}$ হলে, $\tan\theta + \sin\theta$ এর মান নির্ণয় কর। ২

খ. চিত্র-১ এর আলোকে AB এর দৈর্ঘ্য নির্ণয় কর। ৪

গ. চিত্র-২ এর আলোকে $\triangle PQS$ এর পরিসীমা নির্ণয় কর। ৪

৩ নং প্রশ্নের সমাধান

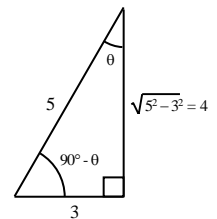
ক দেওয়া আছে,

$$\sec(90^\circ - \theta) = \frac{5}{3}$$

$$\text{বা, } \operatorname{cosec}\theta = \frac{5}{3}$$

$$\text{চিত্রানুসারে, } \tan\theta = \frac{3}{4} \text{ এবং } \sin\theta = \frac{3}{5}$$

$$\therefore \tan\theta + \sin\theta = \frac{3}{4} + \frac{3}{5}$$



3



$$= \frac{15+12}{20} = \frac{27}{20} \text{ (Ans.)}$$

খ) ত্রিভুজ BDC হতে,

$$\sin 30^\circ = \frac{DB}{DC}$$

$$\text{বা, } \frac{1}{2} = \frac{15}{DC}$$

$$\text{বা, } DC = 15 \times 2$$

$$\text{বা, } DC = 30 \text{ মিটার}$$

যেহেতু AC = DC

$$\therefore AC = 30 \text{ মিটার}$$

আবার, ΔBDC হতে,

$$\cos 30^\circ = \frac{BC}{DC}$$

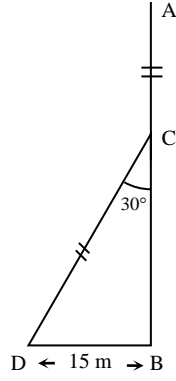
$$\text{বা, } \frac{\sqrt{3}}{2} = \frac{BC}{30}$$

$$\text{বা, } BC = 15\sqrt{3} \text{ মিটার}$$

$$\therefore AB = (AC + BC) \text{ মিটার}$$

$$= 30 + 15\sqrt{3}$$

$$= 55.98 \text{ মিটার (প্রায়) (Ans.)}$$



গ) ধরি, RQ = x মিটার

$$\therefore SQ = SR + RQ = (54 + x) \text{ মিটার}$$

আবার, যেহেতু ∠PSQ = 45°

$$\therefore \angle PSQ = \angle SPQ = 45^\circ$$

$$\text{অর্থাৎ } SQ = PQ = 54 + x$$

এখন, ΔPQS হতে,

$$\sin 45^\circ = \frac{PQ}{PS}$$

$$\text{বা, } \frac{1}{\sqrt{2}} = \frac{PQ}{PS}$$

$$\text{বা, } PS = \sqrt{2} \times PQ = \sqrt{2} (54 + x)$$

$$\therefore PS = \sqrt{2}(54 + x) \dots \dots \dots (i)$$

আবার, ΔPQR হতে,

$$\tan 60^\circ = \frac{PQ}{RQ}$$

$$\text{বা, } \sqrt{3} = \frac{PQ}{x}$$

$$\text{বা, } PQ = \sqrt{3}x \dots \dots \dots (ii)$$

$$\therefore 54 + x = \sqrt{3}x$$

$$\text{বা, } \sqrt{3}x - x = 54$$

$$\text{বা, } x(\sqrt{3} - 1) = 54$$

$$\therefore x = \frac{54}{\sqrt{3} - 1}$$

$$= 73.765 \text{ মিটার}$$

$$\therefore SQ = 54 + 73.765 \text{ মিটার}$$

$$= 127.765 \text{ মিটার}$$

$$= PQ$$

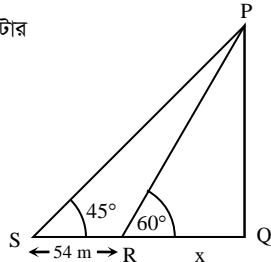
$$\text{এবং } PS = \sqrt{2}(54 + 73.765) \text{ মিটার}$$

$$= 180.687 \text{ মিটার}$$

$$\therefore \Delta PQS \text{ এর পরিসীমা} = SQ + PQ + PS$$

$$= 127.765 + 127.765 + 180.687$$

$$= 436.217 \text{ মিটার (Ans.)}$$



প্রশ্ন 8 48 মিটার দীর্ঘ একটি গাছের গোড়া থেকে কিছু দূরে ভূতলের কোনো বিন্দুতে গাছের শীর্ষের উন্নতি কোণ 60°। ঐ বিন্দু থেকে x মিটার পিছিয়ে গেলে শীর্ষের উন্নতি কোণ 30° হয়। একদিন গাছটি বাড়ে এমনভাবে ভেঙে গেল যে, তার অবিচ্ছিন্ন ভাঙা অংশ দভায়মান অংশের সাথে 60° কোণ উৎপন্ন করে গাছের গোড়া থেকে y মিটার দূরে মাটি স্পর্শ করে।

◀সমন্বিত অধ্যায় ৯ ও ১০

[সিলেট বোর্ড-২০১৯ □ প্রশ্ন নং ৮]

ক. $\sin^2 60^\circ - \cos^2 60^\circ$ এর মান নির্ণয় কর।

২

খ. x এর মান নির্ণয় কর।

৪

গ. y এর মান নির্ণয় কর।

৪

৪ নং প্রশ্নের সমাধান

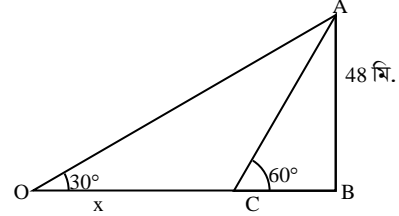
ক) প্রদত্ত রাশি, $\sin^2 60^\circ - \cos^2 60^\circ$

$$= \left(\frac{\sqrt{3}}{2}\right)^2 - \left(\frac{1}{2}\right)^2$$

$$= \frac{3}{4} - \frac{1}{4}$$

$$= \frac{3-1}{4} = \frac{2}{4} = \frac{1}{2} \text{ (Ans.)}$$

খ)



AB, 48 মি. দীর্ঘ গাছের গোড়া থেকে কিছু দূরে C বিন্দুতে উন্নতি কোণ $\angle ACB = 60^\circ$ । x মিটার পিছিয়ে O বিন্দুতে উন্নতি কোণ $\angle AOB = 30^\circ$

এখন, ΔABC এ $\frac{AB}{BC} = \tan 60^\circ$

$$\text{বা, } \frac{48}{BC} = \sqrt{3}$$

$$\text{বা, } BC = \frac{48}{\sqrt{3}}$$

ΔAOB এ $\frac{AB}{OB} = \tan 30^\circ$

$$\text{বা, } \frac{48}{OB} = \frac{1}{\sqrt{3}}$$

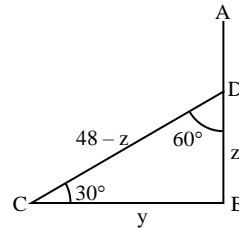
$$\text{বা, } OB = 48\sqrt{3}$$

$$\text{বা, } OC + BC = 48\sqrt{3}$$

$$\text{বা, } x = 48\sqrt{3} - \frac{48}{\sqrt{3}}$$

$$\therefore x = 55.426 \text{ মি. (প্রায়) (Ans.)}$$

গ)



গাছটি D বিন্দুতে $\angle BDC = 60^\circ$ কোণ উৎপন্ন করে B থেকে y মিটার দূরে C বিন্দুতে মাটি স্পর্শ করে।

$$\therefore BC = y$$

$$\text{ধরি, } BD = z$$

$$\therefore CD = 48 - z$$

ΔBCD এ $\cos \angle BDC = \frac{BD}{CD}$

$$\text{বা, } \cos 60^\circ = \frac{z}{48 - z}$$

$$\text{বা, } \frac{1}{2} = \frac{z}{48 - z}$$

$$\text{বা, } 48 - z = 2z$$

$$\text{বা, } 3z = 48$$

$$\therefore z = 16 \text{ মি.}$$

আবার, $\tan \angle BDC = \frac{BC}{BD}$



MvYZ (AveWkAK)

$$\text{বা, } \tan 60^\circ = \frac{y}{2}$$

$$\text{বা, } \sqrt{3} = \frac{y}{16}$$

$$\text{বা, } y = 16\sqrt{3}$$

$$\therefore y = 27.713 \text{ মি. (প্রায়) (Ans.)}$$

প্রশ্ন ৫ 18 মিটার লম্বা একটি খুঁটি এমনভাবে ভেঙ্গে গেল যে, সম্পূর্ণ বিচ্ছিন্ন না হয়ে ভাঙ্গা অংশ দন্ডায়মান অংশের সাথে 30° কোণ উৎপন্ন করে। আবার দুটি মাইলপোস্ট M ও N এর মধ্যবর্তী কোনো স্থানে একটি টাওয়ার অবস্থিত। টাওয়ারের শীর্ষ বিন্দুতে M ও N এর অবনতি কোণ যথাক্রমে 60° ও 45° । [যশোর বোর্ড-২০১৯ □ প্রশ্ন নং c]

ক. কোনো মিনারের শীর্ষ ভূমির কোনো বিন্দুতে উন্নতি কোণ 30° এবং মিনারের পাদদেশ থেকে ছায়ার দৈর্ঘ্য 15 মিটার হলে মিনারের উচ্চতা নির্ণয় কর। ২

খ. উদ্দীপকের আলোকে খুঁটির গোড়া হতে কত মিটার দূরে খুঁটির শীর্ষবিন্দু ভূমি স্পর্শ করেছে তা নির্ণয় কর। ৪

গ. উদ্দীপকের আলোকে, M মাইলপোস্ট হতে টাওয়ারের পাদবিন্দুর দূরত্ব নির্ণয় কর। ৪

৫ নং প্রশ্নের সমাধান

সৃজনশীল ১নং সমাধান দ্রষ্টব্য।

প্রশ্ন ৬ 60 মিটার লম্বা একটি গাছ ভেঙে গিয়ে সম্পূর্ণ বিচ্ছিন্ন না হয়ে দন্ডায়মান অংশের সাথে 60° কোণ উৎপন্ন করে ভূমি স্পর্শ করলো। [বরিশাল বোর্ড-২০১৯ □ প্রশ্ন নং c]

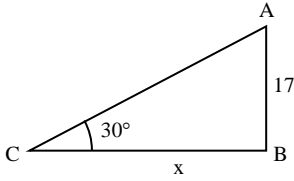
ক. কোনো মিনারের দৈর্ঘ্য 17 মিটার ও উন্নতি কোণ 30° হলে মিনারের ছায়ার দৈর্ঘ্য নির্ণয় কর। ২

খ. গাছটির ভাঙ্গা অংশের দৈর্ঘ্য নির্ণয় কর। ৪

গ. গাছটির ভাঙ্গা অংশ ভূমির সাথে 45° কোণ উৎপন্ন করলে দন্ডায়মান অংশের দৈর্ঘ্য নির্ণয় কর। ৪

৬ নং প্রশ্নের সমাধান

ক



মনে করি, মিনারের দৈর্ঘ্য, $AB = 17$ মিটার

উন্নতি কোণ, $\angle ACB = 30^\circ$

ছায়ার দৈর্ঘ্য, $BC = x$ মিটার

এখন, $\triangle ABC$ -এ, $\tan \angle ACB = \frac{AB}{BC}$

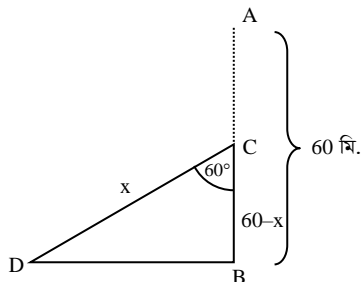
$$\text{বা, } \tan 30^\circ = \frac{17}{x}$$

$$\text{বা, } \frac{1}{\sqrt{3}} = \frac{17}{x}$$

$$\text{বা, } x = 17\sqrt{3}$$

$$\therefore \text{ছায়ার দৈর্ঘ্য } 17\sqrt{3} \text{ মিটার। (Ans.)}$$

খ



মনে করি, গাছটির দৈর্ঘ্য, $AB = 60$ মিটার। গাছটি C বিন্দুতে ভেঙ্গে গিয়ে সম্পূর্ণ বিচ্ছিন্ন না হয়ে D বিন্দুতে ভূমি স্পর্শ করে। ধরি, ভাঙ্গা অংশ, $CD = AC = x$ মিটার

$$\therefore BC = (60 - x) \text{ মিটার}$$

$$\text{এবং } \angle BCD = 60^\circ$$

এখন, $\triangle BCD$ -এ, $\cos \angle BCD = \frac{BC}{CD}$

$$\text{বা, } \cos 60^\circ = \frac{60 - x}{x}$$

$$\text{বা, } \frac{1}{2} = \frac{60 - x}{x}$$

$$\text{বা, } x = 120 - 2x$$

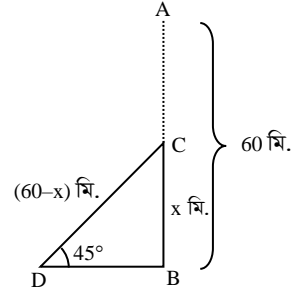
$$\text{বা, } x + 2x = 120$$

$$\text{বা, } 3x = 120$$

$$\text{বা, } x = 40$$

$$\therefore \text{ভাঙ্গা অংশের দৈর্ঘ্য } 40 \text{ মিটার। (Ans.)}$$

গ



এখানে, গাছটির দৈর্ঘ্য, $AB = 60$ মিটার

গাছটি C বিন্দুতে ভেঙ্গে গিয়ে সম্পূর্ণ বিচ্ছিন্ন না হয়ে ভূমির D বিন্দুতে 45° উৎপন্ন করে।

$$\therefore \angle BDC = 45^\circ$$

ধরি, দন্ডায়মান অংশ, $BC = x$ মিটার

$$\therefore CD = AC = (60 - x) \text{ মিটার}$$

এখন, $\triangle BCD$ -এ

$$\sin \angle BDC = \frac{BC}{CD}$$

$$\text{বা, } \sin 45^\circ = \frac{x}{60 - x}$$

$$\text{বা, } \frac{1}{\sqrt{2}} = \frac{x}{60 - x}$$

$$\text{বা, } \sqrt{2}x = 60 - x$$

$$\text{বা, } \sqrt{2}x + x = 60$$

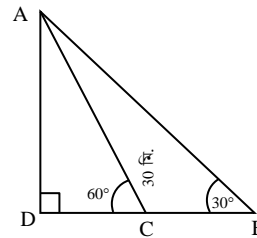
$$\text{বা, } x(\sqrt{2} + 1) = 60$$

$$\text{বা, } x = \frac{60}{\sqrt{2} + 1}$$

$$\therefore x = 24.85 \text{ মিটার (প্রায়)}$$

$$\therefore \text{দন্ডায়মান অংশের দৈর্ঘ্য } 24.85 \text{ মিটার (প্রায়) (Ans.)}$$

প্রশ্ন ৭



ক. $\angle BAC$ এর মান নির্ণয় কর। ২

খ. AD ও CD এর দৈর্ঘ্য নির্ণয় কর। ৪

গ. $\triangle ABC$ এর পরিসীমা নির্ণয় কর। ৪

[সকল বোর্ড-২০১৮ □ প্রশ্ন নং c]



৭ নং প্রশ্নের সমাধান

ক চিত্রে, $\angle ACD = 60^\circ$
 $\therefore \angle ACB = 180^\circ - 60^\circ = 120^\circ$
 $\therefore \angle BAC = 180^\circ - (\angle ACB + \angle ABC)$
 $= 180^\circ - (120^\circ + 30^\circ)$
 $= 180^\circ - 150^\circ$
 $= 30^\circ$ (Ans.)

খ চিত্রে, $AC = 30$ মি.
 $\triangle ACD$ -এ, $\sin \angle ACD = \frac{AD}{AC}$
 বা, $\sin 60^\circ = \frac{AD}{30}$
 বা, $\frac{\sqrt{3}}{2} = \frac{AD}{30}$
 $\therefore AD = 15\sqrt{3}$ মি. (Ans.)
 আবার, $\cos \angle ACD = \frac{CD}{AC}$
 বা, $\cos 60^\circ = \frac{CD}{30}$
 বা, $\frac{1}{2} = \frac{CD}{30}$
 $\therefore CD = 15$ মি. (Ans.)

গ $\triangle ABD$ -এ, $\sin \angle ABD = \frac{AD}{AB}$
 বা, $\sin 30^\circ = \frac{15\sqrt{3}}{AB}$ ['খ' হতে $AD = 15\sqrt{3}$]
 বা, $\frac{1}{2} = \frac{15\sqrt{3}}{AB}$
 $\therefore AB = 30\sqrt{3}$ মিটার
 ধরি, $BC = x$ মি.
 $\therefore BD = BC + CD = (x + 15)$ মি. ['খ' হতে $CD = 15$]
 $\therefore \triangle ABD$ -এ, $\cos \angle ABD = \frac{BD}{AB}$
 বা, $\cos 30^\circ = \frac{x + 15}{30\sqrt{3}}$
 বা, $\frac{\sqrt{3}}{2} = \frac{x + 15}{30\sqrt{3}}$
 বা, $x + 15 = 45$
 বা, $x = 45 - 15$
 $\therefore x = 30$ মি.
 $\therefore \triangle ABC$ এর পরিসীমা $= AB + BC + AC$
 $= 30\sqrt{3} + 30 + 30$
 $= 111.962$ মি. (প্রায়) (Ans.)

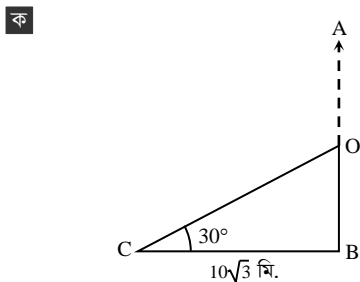
প্রশ্ন ৮ একটি গাছ AB ঝড়ে O বিন্দুতে এমনভাবে ভেঙ্গে গেল যে, সম্পূর্ণ বিচ্ছিন্ন না হয়ে গোড়া থেকে $10\sqrt{3}$ মিটার দূরে C বিন্দুতে ভূমির সাথে 30° কোণ উৎপন্ন করে।

◀ সমন্বিত অধ্যায় ৯ ও ১০

[ঢাকা বোর্ড-২০১৭ □ প্রশ্ন নং ৭]

- ক. $\tan 2C$ এর মান নির্ণয় কর। ২
 খ. দেখাও যে, $\left(\frac{BO}{BC} + \frac{CO}{BC}\right)^2 = \frac{1 + \sin C}{1 - \sin C}$ ৪
 গ. গাছটির সম্পূর্ণ দৈর্ঘ্য নির্ণয় কর। ৪

৮ নং প্রশ্নের সমাধান



চিত্রে, একটি গাছ AB, O বিন্দুতে এমনভাবে ভেঙ্গে গেল যে ভাঙ্গা অংশ সম্পূর্ণ বিচ্ছিন্ন না হয়ে গাছের গোড়া থেকে $10\sqrt{3}$ মি. দূরে C বিন্দুতে 30° কোণ উৎপন্ন করে।

অর্থাৎ $\angle C = 30^\circ$
 $\therefore \tan 2C = \tan (2 \times 30^\circ)$
 $= \tan 60^\circ$
 $= \sqrt{3}$ (Ans.)

খ $\triangle BOC$ এ $\angle BCO = 30^\circ$
 এখন, $\frac{BO}{BC} = \tan \angle BCO = \tan 30^\circ = \frac{1}{\sqrt{3}}$
 এবং $\frac{CO}{BC} = \sec \angle BCO = \sec 30^\circ = \frac{2}{\sqrt{3}}$
 বামপক্ষ $= \left(\frac{BO}{BC} + \frac{CO}{BC}\right)^2$
 $= \left(\frac{1}{\sqrt{3}} + \frac{2}{\sqrt{3}}\right)^2$
 $= \left(\frac{1+2}{\sqrt{3}}\right)^2$
 $= \left(\frac{3}{\sqrt{3}}\right)^2$
 $= \frac{9}{3} = 3$
 ডানপক্ষ $= \frac{1 + \sin C}{1 - \sin C}$
 $= \frac{1 + \sin 30^\circ}{1 - \sin 30^\circ}$
 $= \frac{1 + \frac{1}{2}}{1 - \frac{1}{2}} = \frac{\frac{3}{2}}{\frac{1}{2}} = 3$
 $\therefore \left(\frac{BO}{BC} + \frac{CO}{BC}\right)^2 = \frac{1 + \sin C}{1 - \sin C}$ (দেখানো হলো)

গ চিত্রানুসারে, $BC = 10\sqrt{3}$ এবং $\angle BCO = 30^\circ$

এখন, $\triangle BOC$ এ $\tan \angle BCO = \frac{BO}{BC}$

বা, $\tan 30^\circ = \frac{BO}{10\sqrt{3}}$

বা, $\frac{1}{\sqrt{3}} = \frac{BO}{10\sqrt{3}}$

বা, $BO = 10\sqrt{3} \times \frac{1}{\sqrt{3}}$

$\therefore BO = 10$ মিটার

আবার, $\cos \angle BCO = \frac{BC}{OC}$

বা, $\cos 30^\circ = \frac{10\sqrt{3}}{OC}$

বা, $\frac{\sqrt{3}}{2} = \frac{10\sqrt{3}}{OC}$

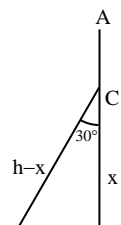
$\therefore OC = 20$ মি.

\therefore সম্পূর্ণ গাছের দৈর্ঘ্য $= AB = AO + BO$
 $= (OC + BO)$ মিটার
 $= (20 + 10)$ মিটার
 $= 30$ মিটার (Ans.)

প্রশ্ন ৯ একটি গাছ ঝড়ে এমনভাবে ভেঙ্গে গেল যে, ভাঙ্গা অংশ দায়মান অংশের সাথে 30° কোণ করে গাছের গোড়া থেকে ২০ মিটার দূরে মাটি স্পর্শ করে।

[রাজশাহী বোর্ড-২০১৭ □ প্রশ্ন নং ৭]

- ক. উদ্দীপকের তথ্যানুসারে চিত্রটি আঁক ও ব্যাখ্যা কর। ২
 খ. গাছটি কত মিটার উচ্চতায় ভেঙ্গেছিল তা বের কর। ৪
 গ. সম্পূর্ণ গাছটির দৈর্ঘ্য নির্ণয় কর। ৪



৯ নং প্রশ্নের সমাধান

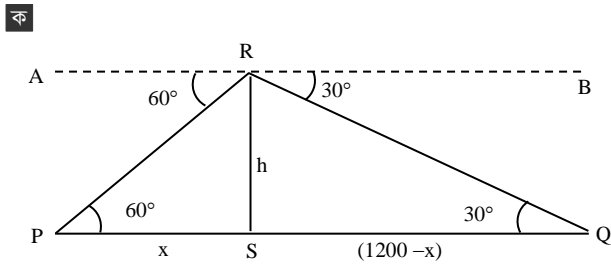
- ক মনে করি, গাছটির সম্পূর্ণ দৈর্ঘ্য AB = h মিটার, গাছটি BC = x মিটার উচ্চতায় ভেঙ্গে গিয়ে বিচ্ছিন্ন না হয়ে ভাঙ্গা অংশ দাঁশায়মান অংশের সাথে $\angle BCD = 30^\circ$ উৎপন্ন করে গোড়া থেকে BD = 20 মিটার দূরে মাটি স্পর্শ করে।
- খ এখানে, $\angle BCD = 30^\circ$ এবং BD = 20 মিটার এখন, $\triangle BCD$ থেকে পাই,
- $$\tan \angle BCD = \frac{BD}{BC}$$
- বা, $\tan 30^\circ = \frac{20}{x}$
- বা, $\frac{1}{\sqrt{3}} = \frac{20}{x}$
- বা, $x = 20\sqrt{3}$
- বা, $x = 34.64$ (প্রায়)
- \therefore গাছটি 34.64 মিটার উচ্চতায় ভেঙ্গেছিল। (Ans.)

- গ এখানে, CD = AC = AB - BC = (h - 34.64) মিটার এখন, $\triangle BCD$ এর মধ্যে
- $$\sin \angle BCD = \frac{BD}{CD}$$
- বা, $\sin 30^\circ = \frac{20}{h - 34.64}$
- বা, $\frac{1}{2} = \frac{20}{h - 34.64}$
- বা, $h - 34.64 = 40$
- বা, $h = 40 + 34.64$
- \therefore $h = 74.64$
- \therefore গাছটির সম্পূর্ণ দৈর্ঘ্য 74.64 মিটার (প্রায়) (Ans.)

প্রশ্ন ১০ P ও Q দুইটি নির্দিষ্ট স্থানের মধ্যবর্তী দূরত্ব 1200 মিটার। R বিন্দুতে অবস্থিত একটি বিমান হতে P ও Q বিন্দুদ্বয়ের অবনতি কোণ যথাক্রমে 60° এবং 30° । [দিনাজপুর বোর্ড-২০১৭ □ প্রশ্ন নং ৮]

- ক. RS \perp PQ হলে $\angle RPS$ ও $\angle QRS$ এর মধ্যকার সম্পর্ক লিখ। ২
- খ. বিমানটি ভূমি হতে কত উপরে রয়েছে তা নির্ণয় কর। ৪
- গ. PR এবং QR এর দৈর্ঘ্য নির্ণয় কর। ৪

১০ নং প্রশ্নের সমাধান



মনে করি, R বিন্দুতে বিমানটির অবস্থান এবং P ও Q বিন্দুদ্বয়ের মধ্যবর্তী দূরত্ব 1200 মিটার। R থেকে P ও Q বিন্দুদ্বয়ের অবনতি কোণ যথাক্রমে 60° এবং 30° ।

- সুতরাং, $\angle ARP = 60^\circ$ এবং $\angle BRQ = 30^\circ$
- RS \perp PQ হলে $\angle RSP = \angle RSQ = 1$ সমকোণ
- AB \parallel PQ এবং PR তাদের ছেদক।
- \therefore $\angle RPS =$ একান্তর $\angle ARP = 60^\circ$
- আবার, $\angle QRS = 90^\circ - \angle QRB$

$$= 90^\circ - 30^\circ$$

$$= 60^\circ$$

$$\therefore \angle RPS = \angle QRS$$

- খ মনে করি, PS = x মিটার, উচ্চতা RS = h মিটার।

$$\therefore \text{এখানে, } PQ = 1200 \text{ মিটার}$$

$$\therefore QS = PQ - PS = (1200 - x) \text{ মিটার}$$

'ক' থেকে পাই, $\angle RPS = 60^\circ$ এবং $\angle RQS = 30^\circ$

এখন, সমকোণী $\triangle RPS$ - এ

$$\tan \angle RPS = \frac{RS}{PS}$$

$$\text{বা, } \tan 60^\circ = \frac{h}{x}$$

$$\text{বা, } \sqrt{3} = \frac{h}{x}$$

$$\text{বা, } h = \sqrt{3} x \dots\dots\dots(i)$$

আবার, সমকোণী $\triangle RQS$ এ

$$\tan \angle RQS = \frac{RS}{QS}$$

$$\text{বা, } \tan 30^\circ = \frac{h}{1200 - x}$$

$$\text{বা, } \frac{1}{\sqrt{3}} = \frac{h}{1200 - x}$$

$$\text{বা, } \sqrt{3} h = 1200 - x$$

$$\text{বা, } \sqrt{3} \times \sqrt{3} x = 1200 - x \quad [\text{সমীকরণ (i) থেকে}]$$

$$\text{বা, } 3x = 1200 - x$$

$$\text{বা, } 3x + x = 1200$$

$$\text{বা, } 4x = 1200$$

$$\text{বা, } x = \frac{1200}{4}$$

$$\therefore x = 300 \text{ মিটার}$$

(i) নং থেকে পাই,

$$h = \sqrt{3} \times 300 = 519.62 \text{ মিটার (প্রায়)}$$

\therefore বিমানটি ভূমি হতে 519.62 মিটার (প্রায়) উপরে রয়েছে। (Ans.)

- গ এখন, $\triangle RPS$ - এ $\angle RPS = 60^\circ$ এবং

$$RS = h = 300\sqrt{3} \text{ ['খ' হতে]}$$

সমকোণী $\triangle RPS$ -এ

$$\sin \angle RPS = \frac{RS}{PR}$$

$$\text{বা, } \sin 60^\circ = \frac{300\sqrt{3}}{PR}$$

$$\text{বা, } \frac{\sqrt{3}}{2} = \frac{300\sqrt{3}}{PR}$$

$$\text{বা, } PR = \frac{300\sqrt{3} \times 2}{\sqrt{3}}$$

$$\therefore PR = 600 \text{ মিটার (Ans.)}$$

এবং $\triangle RQS$ -এ $\angle RQS = 30^\circ$

সমকোণী $\triangle RQS$ -এ

$$\sin \angle RQS = \frac{RS}{QR}$$

$$\text{বা, } \sin 30^\circ = \frac{300\sqrt{3}}{QR}$$

$$\text{বা, } \frac{1}{2} = \frac{300\sqrt{3}}{QR}$$

$$\text{বা, } QR = 300\sqrt{3} \times 2$$

$$\therefore QR = 600\sqrt{3} = 1039.23 \text{ মিটার (প্রায়)}$$

$$\therefore PR = 600 \text{ মিটার এবং } QR = 1039.23 \text{ মিটার (প্রায়) (Ans.)}$$



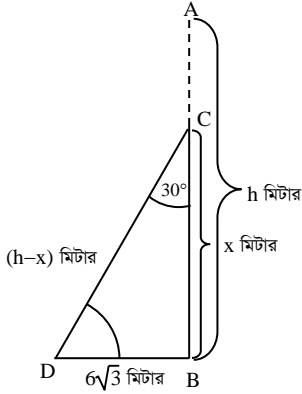
প্রশ্ন ▶ ১১ একটি খুঁটি ঝড়ে এমনভাবে ভেঙ্গে গেল যে, ভাঙ্গা অংশ দশায়মান অংশের সাথে 30° কোণ করে খুঁটিটির গোড়া থেকে 6√3 মিটার দূরে মাটি স্পর্শ করল।

[কুমিলগা বোর্ড-২০১৭ □ প্রশ্ন নং ৮]

- ক. সংক্ষিপ্ত বর্ণনাসহ চিত্রটি আঁক। ২
 খ. খুঁটিটির সম্পূর্ণ দৈর্ঘ্য নির্ণয় করো। ৪
 গ. খুঁটিটির ভাঙ্গা অংশ দশায়মান অংশের সাথে 60° কোণ উৎপন্ন করলে খুঁটিটির শীর্ষ গোড়া থেকে কত দূরে ভূমিকে স্পর্শ করবে নির্ণয় করো। ৪

১১ নং প্রশ্নের সমাধান

ক



মনে করি, খুঁটিটির সম্পূর্ণ দৈর্ঘ্য AB = h মিটার, BC = x মিটার উচ্চতায় ভেঙ্গে গিয়ে বিচ্ছিন্ন না হয়ে ভাঙ্গা অংশ দশায়মান অংশের সাথে ∠BCD = 30° কোণ উৎপন্ন করে খুঁটিটির গোড়া থেকে BD = 6√3 মিটার দূরে মাটি স্পর্শ করেছে।

খ

এখানে, CD = AC = AB - BC
 = (h - x) মিটার।

ΔBCD থেকে পাই,

$$\tan \angle BCD = \frac{BD}{BC}$$

বা, $\tan 30^\circ = \frac{6\sqrt{3}}{x}$

বা, $\frac{1}{\sqrt{3}} = \frac{6\sqrt{3}}{x}$ [∵ $\tan 30^\circ = \frac{1}{\sqrt{3}}$]

∴ x = 18

আবার, $\sin \angle BCD = \frac{BD}{CD}$

বা, $\sin 30^\circ = \frac{6\sqrt{3}}{h-x}$

বা, $\frac{1}{2} = \frac{6\sqrt{3}}{h-x}$ [∵ $\sin 30^\circ = \frac{1}{2}$]

বা, h - x = 12√3

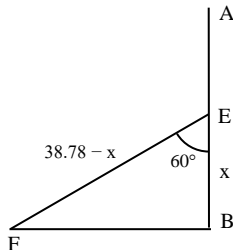
বা, h = 12√3 + x

বা, h = 12√3 + 18 [x এর মান বসিয়ে।]

∴ h = 38.78 (প্রায়)

∴ খুঁটিটির সম্পূর্ণ দৈর্ঘ্য 38.78 মিটার (প্রায়) (Ans.)

গ



‘খ’ থেকে পাই, খুঁটিটির সম্পূর্ণ দৈর্ঘ্য AB = 38.78 মিটার (প্রায়)

এখন, ধরি, খুঁটিটির x মিটার উচ্চতায় E বিন্দুতে ভাঙা অংশ দশায়মান অংশের সাথে ∠BEF = 60° করে গোড়া থেকে BF মিটার দূরে ভূমিকে স্পর্শ করেছে।

এখন, ΔBEF-এ

$$\sin \angle BEF = \frac{BF}{EF}$$

বা, $\sin 60^\circ = \frac{BF}{38.78 - x}$

বা, $\frac{\sqrt{3}}{2} = \frac{BF}{38.78 - x}$

বা, $BF = \frac{\sqrt{3}(38.78 - x)}{2}$ (i)

আবার, ΔBEF-এ

$$\tan \angle BEF = \frac{BF}{BE}$$

বা, $\tan 60^\circ = \frac{BF}{x}$

বা, $\sqrt{3} = \frac{BF}{x}$

বা, $\sqrt{3}x = BF$

বা, $\sqrt{3}x = \frac{\sqrt{3}(38.78 - x)}{2}$ [(i) নং থেকে]

বা, $2x = 38.78 - x$

বা, $2x + x = 38.78$

বা, $3x = 38.78$

বা, $x = \frac{38.78}{3}$

∴ x = 12.9267

সমীকরণ (i) থেকে পাই,

$$BF = \frac{\sqrt{3}(38.78 - 12.9267)}{2}$$

$$= \frac{\sqrt{3} \times 25.8533}{2}$$

$$= 22.3896$$

∴ খুঁটিটির শীর্ষ গোড়া থেকে 22.39 মিটার (প্রায়) দূরে ভূমিকে স্পর্শ করবে। (Ans.)

প্রশ্ন ▶ ১২

একটি গাছ ঝড়ে এমনভাবে ভেঙ্গে গেল যে, গাছটির ভাঙ্গা অংশ দশায়মান অংশের সাথে θ° এবং ভূমির সাথে 60° কোণ করে গাছের গোড়া হতে 15 মিটার দূরে মাটি স্পর্শ করে।

◀ সমন্বিত অধ্যায় ৯ ও ১০

[চট্টগ্রাম বোর্ড-২০১৭ □ প্রশ্ন নং ৮]

- ক. তথ্যের আলোকে সংক্ষিপ্ত বিবরণসহ চিত্র আঁক। ২
 খ. প্রমাণ করো যে, $\sin 3\theta = 3\sin\theta - 4\sin^3\theta$. ৪
 গ. গাছটির সম্পূর্ণ দৈর্ঘ্য নির্ণয় করো। ৪

১২ নং প্রশ্নের সমাধান

ক

মনে করি, AB গাছটি D বিন্দুতে ভেঙ্গে সম্পূর্ণ বিচ্ছিন্ন

না হয়ে দশায়মান অংশের

সাথে ∠BDC = θ এবং ভূমির

সাথে ∠BCD = 60° কোণ

করে গোড়া হতে BC = 15 মি.

দূরে মাটি স্পর্শ করে।

খ

চিত্রে, ∠CBD = 90° এবং ∠BCD = 60°

ΔBCD এ, ∠BDC + ∠BCD + ∠CBD = 180°

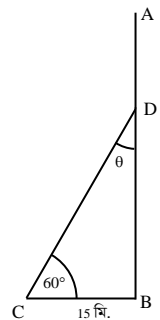
বা, $\theta + 60^\circ + 90^\circ = 180^\circ$

বা, $\theta = 180^\circ - 150^\circ$

∴ $\theta = 30^\circ$

এখন, বামপক্ষ = sin30

$$= \sin(3 \times 30^\circ)$$



MWYZ (AveWkAK)

$$\begin{aligned}
 &= \sin 90^\circ = 1 \\
 \text{ডানপক্ষ} &= 3\sin\theta - 4\sin^3\theta \\
 &= 3\sin 30^\circ - 4(\sin 30^\circ)^3 \\
 &= 3 \cdot \frac{1}{2} - 4 \cdot \left(\frac{1}{2}\right)^3 \\
 &= \frac{3}{2} - \frac{4}{8} \\
 &= \frac{12-4}{8} \\
 &= \frac{8}{8} = 1 \\
 \therefore \sin 3\theta &= 3\sin\theta - 4\sin^3\theta \text{ (প্রমাণিত)}
 \end{aligned}$$

গ) $\triangle ABC$ এ,

$$\begin{aligned}
 \tan \angle BCD &= \frac{BD}{BC} \\
 \text{বা, } \tan 60^\circ &= \frac{BD}{15} \\
 \text{বা, } \sqrt{3} &= \frac{BD}{15} \\
 \therefore BD &= 15\sqrt{3} \text{ মিটার} \\
 \text{আবার, } \triangle ABC \text{ এ } \cos \angle BCD &= \frac{BC}{CD} \\
 \text{বা, } \cos 60^\circ &= \frac{15}{CD} \\
 \text{বা, } \frac{1}{2} &= \frac{15}{CD} \\
 \therefore CD &= 30 \text{ মিটার}
 \end{aligned}$$

$$\begin{aligned}
 \text{সুতরাং, সম্পূর্ণ গাছের দৈর্ঘ্য} &= AB \\
 &= AD + BD \\
 &= CD + BD \text{ [}\because AD = CD\text{]} \\
 &= 30 + 15\sqrt{3} \\
 &= 55.98 \text{ মিটার (প্রায়) (Ans.)}
 \end{aligned}$$

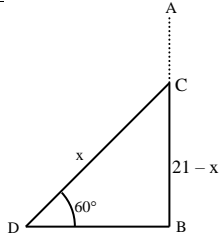
প্রশ্ন ১৩ 21 মিটার লম্বা একটি খুঁটি ভেঙ্গে গিয়ে সম্পূর্ণ বিচ্ছিন্ন না হয়ে ভূমির সাথে 60° কোণ উৎপন্ন করে। [সিলেট বোর্ড-২০১৭ □ প্রশ্ন নং c]

- ক. উপরোক্ত তথ্যের আলোকে চিত্র আঁক। ২
 খ. খুঁটিটির ভাঙ্গা অংশের দৈর্ঘ্য নির্ণয় করো। ৪
 গ. খুঁটিটি 7 মিটার উচ্চতায় ভাঙ্গলে ভূমির সাথে কত ডিগ্রি কোণ উৎপন্ন করবে? ৪

১৩ নং প্রশ্নের সমাধান

ক) মনে করি,

খুঁটিটির উচ্চতা, $AB = 21$ মিটার
 খুঁটিটির C বিন্দুতে x মিটার অংশ ভেঙ্গে গিয়ে সম্পূর্ণ বিচ্ছিন্ন না হয়ে ভূমির সাথে $\angle BDC = 60^\circ$ উৎপন্ন করে।
 এখানে, $AC = CD = x$ মিটার
 $BC = (21 - x)$ মিটার



খ) $\triangle BCD$ -এ

$$\begin{aligned}
 \sin \angle BDC &= \frac{BC}{CD} \\
 \text{বা, } \sin 60^\circ &= \frac{21-x}{x} \\
 \text{বা, } \frac{\sqrt{3}}{2} &= \frac{21-x}{x} \\
 \text{বা, } \sqrt{3}x &= 42 - 2x \\
 \text{বা, } \sqrt{3}x + 2x &= 42 \\
 \text{বা, } (\sqrt{3} + 2)x &= 42 \\
 \text{বা, } x &= \frac{42}{\sqrt{3} + 2} = 11.254 \text{ মিটার (প্রায়)} \\
 \therefore \text{খুঁটিটির ভাঙ্গা অংশের দৈর্ঘ্য} &= 11.254 \text{ মিটার (প্রায়)। (Ans.)}
 \end{aligned}$$

গ) খুঁটিটির সম্পূর্ণ দৈর্ঘ্য $AB = 21$ মি.

" দশময়মান অংশের দৈর্ঘ্য $BC = 7$ মি.

\therefore " ভাঙ্গা " " $AC = CD = (21 - 7)$ মি. = 14 মি.

এবং ধরি, $\angle CDB = \theta$

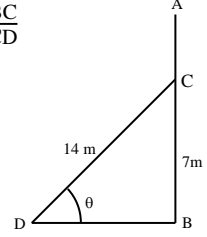
এখন, $\triangle CBD$ থেকে $\sin \angle CDB = \frac{BC}{CD}$

$$\text{বা, } \sin \theta = \frac{7}{14}$$

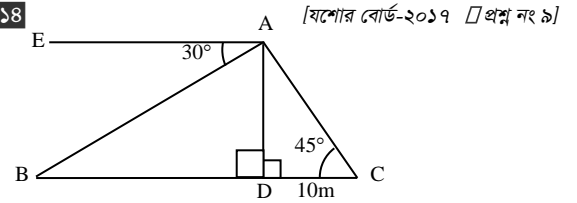
$$\text{বা, } \sin \theta = \frac{1}{2}$$

$$\text{বা, } \sin \theta = \sin 30^\circ$$

$$\therefore \theta = 30^\circ \text{ (Ans.)}$$



প্রশ্ন ১৪



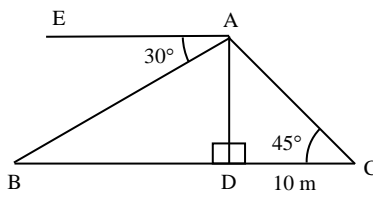
চিত্রে $EA \parallel BC$, $AD \perp BC$, উন্নতি $\angle ACD = 45^\circ$ এবং $DC = 10$ মিটার

- ক. উন্নতি কোণ ও অবনতি কোণের সংজ্ঞা দাও। ২
 খ. AB বাহুর দৈর্ঘ্য নির্ণয় করো। ৪
 গ. $\triangle ABC$ এর পরিসীমা নির্ণয় করো। ৪

১৪ নং প্রশ্নের সমাধান

- ক) উন্নতি কোণ: ভূতলের উপরের কোন বিন্দু ভূমির সমান্তরাল রেখার সাথে যে কোণ উৎপন্ন করে তাকে উন্নতি কোণ বলে।
 অবনতি কোণ: ভূতলের সমান্তরাল রেখার নিচের কোন বিন্দু ভূ-রেখার সাথে যে কোণ উৎপন্ন করে তাকে অবনতি কোণ বলে।

খ)



দেওয়া আছে,

$$\angle BAE = 30^\circ \text{ এবং } EA \parallel BC$$

$$\therefore \angle ABD = 30^\circ$$

$$\angle ACD = 45^\circ, DC = 10 \text{ মিটার}$$

এখন, $\triangle ADC$ এ $\tan \angle ACD = \frac{AD}{CD}$

$$\text{বা, } \tan 45^\circ = \frac{AD}{10}$$

$$\text{বা, } 1 = \frac{AD}{10}$$

$$\therefore AD = 10 \text{ মিটার}$$

আবার, $\triangle ABD$ এ $\sin \angle ABD = \frac{AD}{AB}$

$$\text{বা, } \sin 30^\circ = \frac{10}{AB}$$

$$\text{বা, } \frac{1}{2} = \frac{10}{AB}$$

$$\therefore AB = 20 \text{ মিটার। (Ans.)}$$

গ) 'খ' থেকে পাই,

$$AB = 20 \text{ মি.},$$

$$AD = 10 \text{ মি.}$$

$$\begin{aligned}
 \triangle ABD\text{-এ, } BD &= \sqrt{AB^2 - AD^2} \\
 &= \sqrt{(20)^2 - (10)^2}
 \end{aligned}$$

$$= \sqrt{300}$$

$$= 10\sqrt{3} \text{ মি.}$$

$$\therefore BC = BD + CD$$

$$= 10\sqrt{3} + 10$$

$$= 27.3205 \text{ মি.}$$

আবার,

$$\Delta ADC \text{ এ } AC = \sqrt{AD^2 + CD^2}$$

$$= \sqrt{(10)^2 + (10)^2}$$

$$= \sqrt{200}$$

$$= 14.1421$$

$$\therefore \Delta ABC \text{ এর পরিসীমা} = AB + BC + AC$$

$$= (20 + 27.3205 + 14.1421) \text{ মিটার}$$

$$= 61.46 \text{ মিটার (প্রায়) (Ans.)}$$

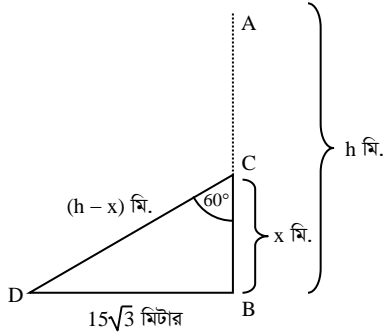
প্রশ্ন ১৫ একটি গাছ বাড়ে এমনভাবে ভেঙ্গে গেল যেন ভাঙ্গা অংশ দাঁড়ায়মান অংশের সাথে 60° কোণ উৎপন্ন করে গাছের গোড়া থেকে $15\sqrt{3}$ মিটার দূরে মাটি স্পর্শ করেছে।

[ঢাকা বোর্ড-২০১৬ □ প্রশ্ন নং ৭]

- ক. উপরোক্ত বর্ণনাটি চিত্রের মাধ্যমে দেখাও। ২
- খ. সম্পূর্ণ গাছের দৈর্ঘ্য নির্ণয় কর। ৪
- গ. ভাঙ্গা অংশ দাঁড়ায়মান অংশের সাথে 30° কোণ উৎপন্ন করলে, ভাঙ্গা অংশের দৈর্ঘ্য কত? ৪

১৫ নং প্রশ্নের সমাধান

ক



মনে করি, সম্পূর্ণ গাছের দৈর্ঘ্য $AB = h$ মিটার। $BC = x$ মিটার উচ্চতায় ভেঙ্গে গিয়ে বিচ্ছিন্ন না হয়ে ভাঙ্গা অংশ দাঁড়ায়মান অংশের সাথে $\angle BCD = 60^\circ$ উৎপন্ন করে গাছটির গোড়া থেকে $BD = 15\sqrt{3}$ মিটার দূরে মাটি স্পর্শ করে।

এখানে, $CD = AC = AB - BC = (h - x)$ মিটার

$$\Delta BCD \text{ থেকে পাই, } \tan \angle BCD = \frac{BD}{BC}$$

$$\text{বা, } \tan 60^\circ = \frac{15\sqrt{3}}{x}$$

$$\text{বা, } \sqrt{3} = \frac{15\sqrt{3}}{x}$$

$$\text{বা, } \sqrt{3}x = 15\sqrt{3}$$

$$\text{বা, } x = \frac{15\sqrt{3}}{\sqrt{3}}$$

$$\therefore x = 15 \text{ মিটার}$$

$$\text{আবার, } \sin \angle BCD = \frac{BD}{CD}$$

$$\text{বা, } \sin 60^\circ = \frac{15\sqrt{3}}{h-x}$$

$$\text{বা, } \frac{\sqrt{3}}{2} = \frac{15\sqrt{3}}{h-x}$$

$$\text{বা, } h-x = 30$$

$$\text{বা, } h = 30 + x$$

$$\text{বা, } h = 30 + 15 [x \text{ এর মান বসিয়ে}]$$

$$\therefore h = 45 \text{ মিটার}$$

$$\therefore \text{সম্পূর্ণ গাছের দৈর্ঘ্য } 45 \text{ মিটার। (Ans.)}$$

গ

‘খ’ হতে পাই,

সম্পূর্ণ গাছের দৈর্ঘ্য $AB = 45$ মিটার

চিত্রে, $\angle BCD = 30^\circ$, ভাঙ্গা অংশ $AC = CD$.

দাঁড়ায়মান অংশ $BC = x$ মিটার হলে, ভাঙ্গা অংশের দৈর্ঘ্য

$AC = CD = (45 - x)$ মিটার

$$\Delta BCD \text{ -এ } \cos \angle BCD = \frac{BC}{CD}$$

$$\text{বা, } \cos 30^\circ = \frac{x}{45-x}$$

$$\text{বা, } \frac{\sqrt{3}}{2} = \frac{x}{45-x}$$

$$\text{বা, } 2x = 45\sqrt{3} - \sqrt{3}x$$

$$\text{বা, } 2x + \sqrt{3}x = 45\sqrt{3}$$

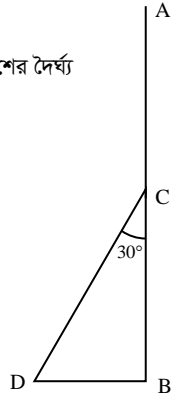
$$\text{বা, } (2 + \sqrt{3})x = 45\sqrt{3}$$

$$\text{বা, } x = \frac{45\sqrt{3}}{2 + \sqrt{3}}$$

$$\therefore x = 20.8846 \text{ মিটার (প্রায়)}$$

$$\therefore \text{ভাঙ্গা অংশের দৈর্ঘ্য} = (45 - 20.8846) \text{ মিটার}$$

$$= 24.1154 \text{ মিটার (প্রায়) (Ans.)}$$



গ

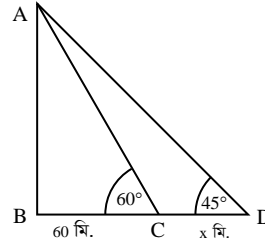
প্রশ্ন ১৬ একটি দালানের পাদদেশ থেকে 60 মিটার দূরের ভূতলস্থ কোনো বিন্দুতে ছাদের উন্নতি কোণ 60° । ঐ বিন্দু হতে x মিটার পেছনের দিকে গেলে ছাদের উন্নতি কোণ 45° হয়।

[চট্টগ্রাম বোর্ড-১৬]

- ক. উপরের তথ্যের প্রেক্ষিতে সংক্ষিপ্ত বিবরণসহ চিত্রটি আঁক। ২
- খ. দালানের উচ্চতা নির্ণয় কর। ৪
- গ. x এর মান নির্ণয় কর এবং পেছনের বিন্দু হতে দালানের শীর্ষবিন্দুর দূরত্ব নির্ণয় কর। ৪

১৬ নং প্রশ্নের সমাধান

ক



ধরি, AB দৈর্ঘ্য বিশিষ্ট একটি দালানের পাদদেশ থেকে 60 মিটার দূরে ভূতলস্থ C বিন্দুতে ছাদের উন্নতি কোণ $\angle ACB = 60^\circ$ । ঐ বিন্দু অর্থাৎ, C বিন্দু হতে x মিটার পেছনের দিকে গেলে D বিন্দুতে ছাদের উন্নতি কোণ $\angle ADB = 45^\circ$ হয়।

$BC = 60$ মিটার এবং $CD = x$ মিটার।

খ

‘ক’ থেকে পাই,

$BC = 60$ মিটার এবং $\angle ACB = 60^\circ$

$$\Delta ABC \text{ এ, } \tan \angle ACB = \frac{AB}{BC}$$

$$\text{বা, } \tan 60^\circ = \frac{AB}{60}$$

$$\text{বা, } \sqrt{3} = \frac{AB}{60}$$

$$\text{বা, } AB = 60\sqrt{3} = 103.92 \text{ মিটার (প্রায়)}$$

$$\therefore \text{দালানের উচ্চতা } 103.92 \text{ মিটার (প্রায়) (Ans.)}$$

গ

‘ক’ থেকে পাই,

$BC = 60$ মিটার

$CD = x$ মিটার

$\angle ADB = 45^\circ$ এবং $\angle ACB = 60^\circ$

এবং ‘খ’ থেকে পাই, $AB = 60\sqrt{3}$

এখন, ΔABD -এ,

$$\tan \angle ADB = \frac{AB}{BD}$$



$$\text{বা, } \tan 45^\circ = \frac{AB}{BC+CD} \text{ ['ক' এর চিত্র থেকে]}$$

$$\text{বা, } 1 = \frac{60\sqrt{3}}{60+x}$$

$$\text{বা, } 60+x = 60\sqrt{3}$$

$$\text{বা, } x = 60\sqrt{3} - 60$$

$$\therefore x = 43.92 \text{ মিটার (প্রায়) (Ans.)}$$

২য় অংশ: এখন $\triangle ABD$ -এ

$$\sin \angle ADB = \frac{AB}{AD}$$

$$\text{বা, } \sin 45^\circ = \frac{60\sqrt{3}}{AD}$$

$$\text{বা, } \frac{1}{\sqrt{2}} = \frac{60\sqrt{3}}{AD}$$

$$\therefore AD = 60\sqrt{3} \times \sqrt{2} = 146.97 \text{ মিটার (প্রায়)}$$

$$\therefore \text{পেছনের বিন্দু হতে দালানের শীর্ষবিন্দুর দূরত্ব } 146.97 \text{ মিটার (প্রায়) (Ans.)}$$

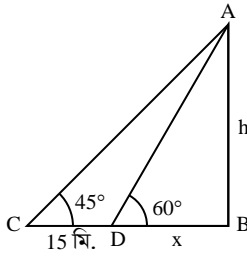
প্রশ্ন ১৭ ভূতলে কোনো বিন্দুতে একটি খুঁটির শীর্ষের উন্নতি কোণ 45° ; ঐ বিন্দু থেকে খুঁটির দিকে 15 মিটার এগিয়ে গেলে শীর্ষের উন্নতি কোণ 60° হয়।

[মির্জাপুর ক্যাডেট কলেজ, টাঙ্গাইল □ প্রশ্ন নং ৭]

- ক. উদ্দীপকের তথ্যের আলোকে চিত্র অঙ্কন করে উন্নতি কোণ চিহ্নিত কর। ২
খ. খুঁটির উচ্চতা নির্ণয় কর। ৪
গ. ভূতলে যে বিন্দুতে শীর্ষের উন্নতি কোণ 30° হয়, প্রথমোক্ত বিন্দু থেকে ঐ বিন্দুর দূরত্ব নির্ণয় কর। ৪

১৭ নং প্রশ্নের সমাধান

ক



মনে করি, খুঁটির উচ্চতা = $AB = h$ মিটার।

C বিন্দুতে শীর্ষের উন্নতি কোণ, $\angle ACB = 45^\circ$ এবং $CD = 15$ মিটার এগিয়ে গেলে উন্নতি কোণ $\angle ADB = 60^\circ$ হয়।

খ

ধরি, $BD = x$ মিটার।

সমকোণী $\triangle ABD$ থেকে পাই,

$$\tan \angle ADB = \frac{AB}{BD}$$

$$\text{বা, } \tan 60^\circ = \frac{h}{x}$$

$$\text{বা, } \sqrt{3} = \frac{h}{x}$$

$$\therefore x = \frac{h}{\sqrt{3}} \dots \dots (i)$$

আবার, সমকোণী $\triangle ABC$ থেকে পাই,

$$\tan \angle ACB = \frac{AB}{BC}$$

$$\text{বা, } \tan 45^\circ = \frac{h}{x+15}$$

$$\text{বা, } 1 = \frac{h}{x+15}$$

$$\text{বা, } h = x + 15$$

$$\text{বা, } h = \frac{h}{\sqrt{3}} + 15 \text{ [(i) নং হতে]}$$

$$\text{বা, } \sqrt{3}h = h + 15\sqrt{3}$$

$$\text{বা, } \sqrt{3}h - h = 15\sqrt{3}$$

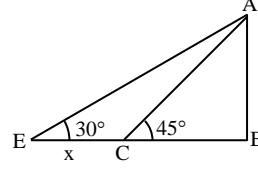
$$\text{বা, } h(\sqrt{3} - 1) = 15\sqrt{3}$$

$$\text{বা, } h = \frac{15 \times \sqrt{3}}{\sqrt{3} - 1}$$

$$\therefore h = 35.49 \text{ মি. (প্রায়)}$$

$$\therefore \text{খুঁটির উচ্চতা} = 35.49 \text{ মিটার (প্রায়) (Ans.)}$$

গ



সমকোণী $\triangle ABC$ থেকে পাই,

$$\tan 45^\circ = \frac{AB}{BC}$$

$$\text{বা, } 1 = \frac{35.49}{BC}$$

$$\therefore BC = 35.49 \text{ মিটার}$$

$$\therefore BE = CE + BC = (x + 35.49) \text{ মিটার}$$

এখন, $\triangle ABE$ থেকে পাই,

$$\tan 30^\circ = \frac{AB}{BE}$$

$$\text{বা, } \frac{1}{\sqrt{3}} = \frac{35.49}{x + 35.49}$$

$$\text{বা, } x + 35.49 = 35.49 \times \sqrt{3}$$

$$\text{বা, } x = 61.47 - 35.49$$

$$\therefore x = 25.98 \text{ মিটার (প্রায়) (Ans.)}$$

প্রশ্ন ১৮ একটি খুঁটি বাড়ে এমনভাবে ভেঙ্গে গেল যে এর ভাগ্য অংশ দন্ডায়মান অংশের সাথে 30° কোণ উৎপন্ন করে এবং খুঁটির গোড়া থেকে $6\sqrt{3}$ m দূরে ভূমি স্পর্শ করে।

◀সম্বিত অধ্যায় ৯ ও ১০

[রাজশাহী ক্যাডেট কলেজ, রাজশাহী □ প্রশ্ন নং ৯]

- ক. সমাধান কর : $\frac{\cos \alpha - \sin \alpha}{\cos \alpha + \sin \alpha} = \frac{\sqrt{3} - 1}{\sqrt{3} + 1}$ ২
খ. খুঁটির দৈর্ঘ্য নির্ণয় কর। ৪
গ. যদি ভাগ্য অংশটি দন্ডায়মান অংশের সাথে 60° কোণ উৎপন্ন করে তাহলে খুঁটির শীর্ষটি গোড়া থেকে কত দূরে ভূমিতে স্পর্শ করবে তা নির্ণয় কর। ৪

১৮ নং প্রশ্নের সমাধান

ক

$$\text{দেওয়া আছে, } \frac{\cos \alpha - \sin \alpha}{\cos \alpha + \sin \alpha} = \frac{\sqrt{3} - 1}{\sqrt{3} + 1}$$

$$\Rightarrow \frac{\cos \alpha - \sin \alpha + \cos \alpha + \sin \alpha}{\cos \alpha - \sin \alpha - \cos \alpha - \sin \alpha} = \frac{\sqrt{3} - 1 + \sqrt{3} + 1}{\sqrt{3} - 1 - \sqrt{3} - 1}$$

[যোজন-বিয়োজন করে]

$$\Rightarrow \frac{2 \cos \alpha}{-2 \sin \alpha} = \frac{2\sqrt{3}}{-2}$$

$$\Rightarrow \cot \alpha = \sqrt{3} = \cot 30^\circ$$

$$\therefore \alpha = 30^\circ \text{ (Ans.)}$$

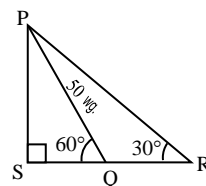
খ

সৃজনশীল ১১(ক + খ) নং সমাধান দ্রষ্টব্য।

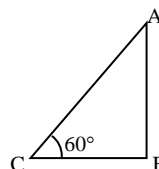
গ

সৃজনশীল ১১(গ) নং সমাধান দ্রষ্টব্য।

প্রশ্ন ১৯ দৃশ্যকল্প-I :



দৃশ্যকল্প-II :



AB একটি পতাকার খুঁটি।

[রংপুর ক্যাডেট কলেজ, রংপুর □ প্রশ্ন নং c]

- ক. দৃশ্যকল্প-I হতে $\angle QPR$ এর মান নির্ণয় কর। ২
 খ. দৃশ্যকল্প-I হতে PS ও SQ এর দৈর্ঘ্য নির্ণয় কর। ৪
 গ. দৃশ্যকল্প-II এ বর্ণিত C বিন্দু হতে 32 মি. পিছিয়ে গেলে উন্নতি কোণ 30° হয়। পতাকার খুঁটির দৈর্ঘ্য নির্ণয় কর। ৪

১৯ নং প্রশ্নের সমাধান

- ক. দেওয়া আছে, $\angle PQS = 60^\circ$
 $\therefore \angle PQR = 180^\circ - 60^\circ = 120^\circ$
 $\therefore \angle QPR = 180^\circ - (\angle PRQ + \angle PQR)$
 $= 180^\circ - (120^\circ + 30^\circ)$
 $= 180^\circ - 150^\circ$
 $= 30^\circ$ (Ans.)

খ. চিত্রে, PQ = 50 মি.

ΔPQS -এ, $\sin \angle PQS = \frac{PS}{PQ}$

বা, $\sin 60^\circ = \frac{PS}{50}$

বা, $\frac{\sqrt{3}}{2} = \frac{PS}{50}$

$\therefore PS = 25\sqrt{3}$
 $= 43.301$ মি. (প্রায়) (Ans.)

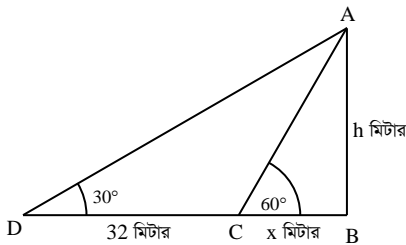
ΔPSQ -এ, $\tan \angle PQS = \frac{PS}{SQ}$

বা, $\tan 60^\circ = \frac{25\sqrt{3}}{SQ}$

বা, $\sqrt{3} = \frac{25\sqrt{3}}{SQ}$

$\therefore SQ = 25$ মি. (Ans.)

- গ. মনে করি, পতাকার খুঁটির উচ্চতা, AB = h মিটার এবং টাওয়ারের উন্নতি $\angle ACB = 60^\circ$ । C বিন্দু থেকে CD = 32 মিটার পিছিয়ে গেলে উন্নতি $\angle ADB = 30^\circ$ হয়।



ধরি, BC = x মিটার।

$\therefore BD = BC + CD = (x + 32)$ মিটার

ΔABC থেকে পাই, $\tan \angle ACB = \frac{AB}{BC}$

বা, $\tan 60^\circ = \frac{h}{x}$

বা, $\sqrt{3} = \frac{h}{x}$ [$\square \tan 60^\circ = \sqrt{3}$]

$\therefore x = \frac{h}{\sqrt{3}}$ (i)

আবার, ΔABD থেকে পাই,

$\tan \angle ADB = \frac{AB}{BD}$

বা, $\tan 30^\circ = \frac{h}{x + 32}$

বা, $\frac{1}{\sqrt{3}} = \frac{h}{x + 32}$ [$\square \tan 30^\circ = \frac{1}{\sqrt{3}}$]

বা, $\sqrt{3}h = x + 32$

বা, $\sqrt{3}h = \frac{h}{\sqrt{3}} + 32$

বা, $\sqrt{3}h - \frac{h}{\sqrt{3}} = 32$

বা, $\frac{3h - h}{\sqrt{3}} = 32$

বা, $\frac{2h}{\sqrt{3}} = 32$

বা, $2h = 32\sqrt{3}$

বা, $h = \frac{32\sqrt{3}}{2} = 16\sqrt{3}$

$\therefore h = 27.713$ মিটার (প্রায়) (Ans.)

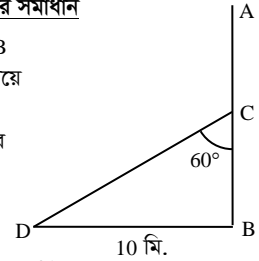
- প্রশ্ন ২০ একটি গাছ বাড়ে এমনভাবে ভেঙ্গে গেল যে, ভাঙ্গা অংশ দৃশ্যমান অংশের সাথে 60° কোণ করে গাছের গোড়া থেকে 10 মিটার দূরে মাটি স্পর্শ করে।

[কুমিল্লা ক্যাডেট কলেজ, কুমিল্লা □ প্রশ্ন নং c]

- ক. উদ্ভীপকের তথ্যানুসারে চিত্রটি আঁক ও ব্যাখ্যা কর। ২
 খ. গাছটির ভাঙ্গা অংশের দৈর্ঘ্য নির্ণয় কর। ৪
 গ. সম্পূর্ণ গাছটির দৈর্ঘ্য নির্ণয় কর। ৪

২০ নং প্রশ্নের সমাধান

- ক. মনে করি, সম্পূর্ণ গাছটির দৈর্ঘ্য AB মিটার, গাছটি C বিন্দুতে ভেঙ্গে গিয়ে সম্পূর্ণ বিচ্ছিন্ন না হয়ে ভাঙ্গা অংশ AC = CD দৃশ্যমান অংশ BC এর সাথে $\angle BCD = 60^\circ$ কোণ উৎপন্ন করে এবং গোড়া থেকে BD = 10 মিটার দূরে মাটি স্পর্শ করে।



- খ. এখানে, $\angle BCD = 60^\circ$ এবং BD = 10 মিটার এখন, ΔBCD থেকে পাই,

$\sin \angle BCD = \frac{BD}{CD}$

বা, $\sin 60^\circ = \frac{10}{CD}$

বা, $\frac{\sqrt{3}}{2} = \frac{10}{CD}$

বা, $CD = \frac{20}{\sqrt{3}}$

$\therefore CD = AC = 11.55$ (প্রায়)

\therefore গাছটির ভাঙ্গা অংশের দৈর্ঘ্য 11.55 মিটার (প্রায়) (Ans.)

- গ. আবার, ΔBCD থেকে পাই,

$\tan \angle BCD = \frac{BD}{BC}$

বা, $\tan 60^\circ = \frac{10}{BC}$

বা, $\sqrt{3} = \frac{10}{BC}$

বা, $BC = \frac{10}{\sqrt{3}}$

$\therefore BC = 5.77$ মিটার (প্রায়)

\therefore গাছটির সম্পূর্ণ দৈর্ঘ্য, AB = BC + AC

= 5.77 + 11.55

= 17.32 মিটার (প্রায়) (Ans.)

['খ' হতে পাই, ভাঙ্গা অংশ AC এর দৈর্ঘ্য 11.55 মিটার]

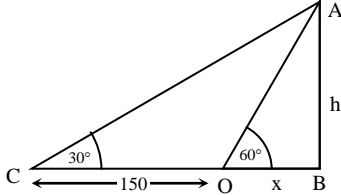


প্রশ্ন ▶ ১১ একটি নদীর তীরে কোনো এক স্থানে দাঁড়িয়ে একজন লোক দেখলো যে, ঠিক সোজাসুজি অপর তীরে একটি বৈদ্যুতিক খুঁটির উন্নতি কোণ 60° । ঐ স্থান থেকে 150 মিটার পিছিয়ে দেখল যে, বৈদ্যুতিক খুঁটির উন্নতি কোণ 30° হয়েছে। [ফৌজদারহাট ক্যাডেট কলেজ, চট্টগ্রাম □ প্রশ্ন নং c]

- ক. উদ্দীপকের আলোকে চিত্রটি আঁক। ২
খ. নদীটির বিস্তার নির্ণয় কর। ৪
গ. বৈদ্যুতিক খুঁটির উচ্চতা এবং ১ম অবস্থান থেকে বৈদ্যুতিক খুঁটির শীর্ষ বিন্দুর সরাসরি দূরত্ব নির্ণয় কর। ৪

১১ নং প্রশ্নের সমাধান

ক



ভূতলস্থ O বিন্দুতে AB বৈদ্যুতিক খুঁটির শীর্ষ A এর উন্নতি কোণ $\angle AOB = 60^\circ$ । ঐ স্থান হতে 150 মিটার পিছিয়ে C বিন্দুতে গেলে উন্নতি কোণ $\angle ACB = 30^\circ$ হয়। OB নদীর বিস্তার।

- খ. ধরি, প্রথম স্থান O হতে বৈদ্যুতিক খুঁটির দূরত্ব x মিটার এবং বৈদ্যুতিক খুঁটির উচ্চতা h মিটার
তাহলে, $AB = h$ মিটার
নদীর বিস্তার $OB = x$ মিটার
দেওয়া আছে, $OC = 150$ মিটার
 $\therefore BC = (x + 150)$ মিটার

এখন, $\triangle AOB$ এর জন্য, $\tan \angle AOB = \frac{AB}{OB}$

$$\text{বা, } \tan 60^\circ = \frac{h}{x}$$

$$\therefore h = x\sqrt{3} \dots\dots\dots (i)$$

আবার, $\triangle ABC$ এর জন্য,

$$\tan \angle ACB = \frac{AB}{BC}$$

$$\text{বা, } \tan 30^\circ = \frac{h}{x + 150}$$

$$\text{বা, } \frac{1}{\sqrt{3}} = \frac{x\sqrt{3}}{x + 150}; [(i) \text{ নং সমীকরণ হতে}]$$

$$\text{বা, } x + 150 = 3x$$

$$\text{বা, } 2x = 150$$

$$\therefore x = 75$$

অর্থাৎ প্রথম স্থান হতে বৈদ্যুতিক খুঁটির দূরত্ব 75 মিটার।

\therefore নদীর বিস্তার = 75 মিটার (Ans.)

গ

‘খ’ থেকে পাই,

নদীর বিস্তার = 75 মিটার

\therefore বৈদ্যুতিক খুঁটির উচ্চতা, $h = x\sqrt{3} = 75\sqrt{3}$ মিটার। (Ans.)

চিত্র থেকে, $OB = 75$ মিটার

$$AB = 75\sqrt{3} \text{ মিটার}$$

$$\therefore OA = \sqrt{OB^2 + AB^2}$$

$$= \sqrt{75^2 + (75\sqrt{3})^2}$$

$$= 150 \text{ মিটার। (Ans.)}$$

প্রশ্ন ▶ ১২ একটি মেহগনি গাছ AB ঝড়ে D বিন্দুতে এমনভাবে ভেঙ্গে গেল যে তার ভাগা অংশ C বিন্দুতে ভূমির সাথে $\theta = 30^\circ$ কোণ উৎপন্ন করে এবং গাছের গোড়া B থেকে $5\sqrt{3}m$ দূরে মাটি স্পর্শ করে।

◀ সমন্বিত অধ্যায় ৯ ও ১০

[সিলেট ক্যাডেট কলেজ, সিলেট □ প্রশ্ন নং ৯]

- ক. যদি $\cot(\theta - 30^\circ) = \frac{1}{\sqrt{3}}$ হয় তবে $\sin\theta$ এর মান নির্ণয় কর। ২

খ. দেখাও যে, $\left(\frac{BD}{BC} + \frac{CD}{BC}\right)^2 = \left(\frac{1 + \sin\theta}{1 - \sin\theta}\right)$ ৪

গ. একটি খুঁটি ও তক্তা যথাক্রমে গাছের দভায়মান এবং ভাগা অংশ থেকে বানানো হবে। খুঁটি ও তক্তার দৈর্ঘ্য নির্ণয় কর। ৪

১২ নং প্রশ্নের সমাধান

ক. দেওয়া আছে,

$$\cot(\theta - 30^\circ) = \frac{1}{\sqrt{3}}$$

$$\text{বা, } \cot(\theta - 30^\circ) = \cot 60^\circ$$

$$\text{বা, } \theta - 30^\circ = 60^\circ$$

$$\text{বা, } \theta = 60^\circ + 30^\circ$$

$$\therefore \theta = 90^\circ$$

$$\therefore \sin\theta = \sin 90^\circ = 1 \text{ (Ans.)}$$

খ

$$\text{L.H.S} = \left(\frac{BD}{BC} + \frac{CD}{BC}\right)^2$$

$$= (\tan\theta + \sec\theta)^2 \text{ [পাশের চিত্র থেকে]}$$

$$= \left(\frac{\sin\theta}{\cos\theta} + \frac{1}{\cos\theta}\right)^2$$

$$= \left(\frac{\sin\theta + 1}{\cos\theta}\right)^2$$

$$= \frac{(\sin\theta + 1)^2}{\cos^2\theta}$$

$$= \frac{(1 + \sin\theta)^2}{1 - \sin^2\theta}$$

$$= \frac{(1 + \sin\theta)(1 + \sin\theta)}{(1 - \sin\theta)(1 + \sin\theta)}$$

$$= \frac{1 + \sin\theta}{1 - \sin\theta}$$

$$\therefore \left(\frac{BD}{BC} + \frac{CD}{BC}\right)^2 = \frac{1 + \sin\theta}{1 - \sin\theta} \text{ (দেখানো হলো)}$$

গ

মনে করি, গাছটি ভূমি থেকে h উচ্চতায় D বিন্দুতে ভেঙ্গে পড়ে এবং ভাগা অংশের দৈর্ঘ্য = x

চিত্র থেকে পাই,

$$\tan 30^\circ = \frac{BD}{BC}$$

$$\text{বা, } \frac{1}{\sqrt{3}} = \frac{h}{5\sqrt{3}}$$

$$\text{বা, } h = \frac{5\sqrt{3}}{\sqrt{3}}$$

$$\therefore h = 5 \text{ মিটার}$$

$$\text{আবার, } \cos 30^\circ = \frac{BC}{CD}$$

$$\text{বা, } \frac{\sqrt{3}}{2} = \frac{5\sqrt{3}}{x}$$

$$\text{বা, } x = 5\sqrt{3} \times \frac{2}{\sqrt{3}}$$

$$\therefore x = 10$$

\therefore খুঁটির দৈর্ঘ্য h = 5 মিটার এবং তক্তার দৈর্ঘ্য x = 10 মিটার (Ans.)

প্রশ্ন ▶ ১৩ C ও D বিন্দুর মধ্যবর্তী কোনো স্থানে A বিন্দুতে একটি বেলুন উড়ছে। A বিন্দুতে C ও D বিন্দুর অবনতি কোণ যথাক্রমে 30° ও 60° ।

◀ সমন্বিত অধ্যায় ৯ ও ১০

[বিনাইদহ ক্যাডেট কলেজ, বিনাইদহ □ প্রশ্ন নং ৯]

ক. উদ্দীপকের তথ্যানুসারে একটি আনুপাতিক চিত্র অঙ্কন কর। ২

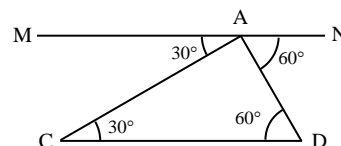
খ. মান নির্ণয় কর:

$$3\cot^2 \angle ADC + \frac{1}{4} \operatorname{cosec}^2 \angle ACD + 5\sin^2 \frac{1}{2} \angle CAD - 4\cos^2 \angle ADC. \quad 8$$

গ. $AC = 20$ একক হলে C ও D বিন্দুদ্বয়ের মধ্যবর্তী দূরত্ব নির্ণয় কর। ৪

১৩ নং প্রশ্নের সমাধান

ক



কি চিত্রে MN || CD

$$\begin{aligned} \therefore \angle NAD = \angle ADC = 60^\circ \text{ এবং } \angle MAC = \angle ACD = 30^\circ \\ \Delta ACD\text{-এ, } \angle CAD + \angle ACD + \angle ADC = 180^\circ \\ \therefore \angle CAD = 180^\circ - 60^\circ - 30^\circ = 90^\circ \\ \therefore ACD \text{ ত্রিভুজটি সমকোণী।} \\ \therefore \text{প্রদত্ত রাশি} = 3\cot^2\angle ADC + \frac{1}{4}\operatorname{cosec}^2\angle ACD + 5\sin^2\frac{1}{2}\angle CAD \\ - 4\cos^2\angle ADC \\ = 3\cot^2 60^\circ + \frac{1}{4}\operatorname{cosec}^2 30^\circ + 5\sin^2\left(\frac{1}{2} \times 90^\circ\right) - 4\cos^2 60^\circ \\ = 3\left(\frac{1}{\sqrt{3}}\right)^2 + \frac{1}{4}(2)^2 + 5\left(\frac{1}{\sqrt{2}}\right)^2 - 4\left(\frac{1}{2}\right)^2 \\ = 3 \times \frac{1}{3} + \frac{1}{4} \times 4 + 5 \times \frac{1}{2} - 4 \times \frac{1}{4} \\ = 1 + 1 + \frac{5}{2} - 1 \\ = 1 + \frac{5}{2} = \frac{7}{2} \text{ (Ans.)} \end{aligned}$$

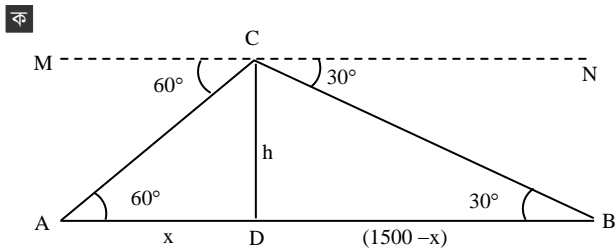
গ দেওয়া আছে, AC = 20 একক

$$\begin{aligned} \Delta ACD\text{-এ, } \sin \angle ADC = \frac{AC}{CD} \\ \text{বা, } \sin 60^\circ = \frac{20}{CD} \\ \text{বা, } \frac{\sqrt{3}}{2} = \frac{20}{CD} \\ \therefore CD = \frac{40}{\sqrt{3}} = 23.09 \\ \therefore C \text{ ও } D \text{ বিন্দুদ্বয়ের মধ্যবর্তী দূরত্ব } 23.09 \text{ একক (প্রায়) (Ans.)} \end{aligned}$$

প্রশ্ন ২৪ A ও B দুইটি নির্দিষ্ট স্থানের মধ্যবর্তী দূরত্ব 1500 মিটার। C বিন্দুতে অবস্থিত একটি বিমান হতে A ও B বিন্দুদ্বয়ের অবনতি কোণ যথাক্রমে 60° এবং 30°। [বরিশাল ক্যাডেট কলেজ, বরিশাল □ প্রশ্ন নং ৯]

- ক. CD ⊥ AB হলে ∠CAD ও ∠BCD এর মধ্যকার সম্পর্ক লিখ। ২
খ. বিমানটি ভূমি হতে কত উপরে রয়েছে তা নির্ণয় কর। ৪
গ. AC এবং BC এর দৈর্ঘ্য নির্ণয় কর। ৪

২৪ নং প্রশ্নের সমাধান



মনে করি, C বিন্দুতে বিমানটির অবস্থান এবং A ও B বিন্দুদ্বয়ের মধ্যবর্তী দূরত্ব 1500 মিটার। C থেকে A ও B বিন্দুদ্বয়ের অবনতি কোণ যথাক্রমে 60° এবং 30°।

$$\begin{aligned} MN \parallel AB \text{ এবং } AC \text{ ও } CB \text{ তাদের ছেদক।} \\ \therefore \angle CAD = \text{একান্তর্জ } \angle MCA = 60^\circ \\ \text{এবং } \angle NCB = 30^\circ = \text{একান্তর্জ } \angle CBD \\ CD \perp AB \text{ হলে } \angle CDA = \angle CDB = 90^\circ \text{ সমকোণ} \\ \therefore \angle BCD = 90^\circ - \angle CBD = 90^\circ - 30^\circ = 60^\circ = \angle CAD \\ \therefore \angle CAD = \angle CBD \end{aligned}$$

কি মনে করি, AD = x মিটার, উচ্চতা CD = h মিটার।

∴ এখানে, AB = 1500 মিটার

∴ BD = AB - AD = (1500 - x) মিটার

'ক' থেকে পাই, ∠CAD = 60° এবং ∠CBD = 30°

এখন, সমকোণী ΔCAD - এ

$$\tan \angle CAD = \frac{CD}{AD}$$

$$\text{বা, } \tan 60^\circ = \frac{h}{x}$$

$$\text{বা, } \sqrt{3} = \frac{h}{x}$$

$$\text{বা, } h = \sqrt{3} x \dots\dots\dots(i)$$

আবার, সমকোণী ΔCBD এ

$$\tan \angle CBD = \frac{CD}{BD}$$

$$\text{বা, } \tan 30^\circ = \frac{h}{1500 - x}$$

$$\text{বা, } \frac{1}{\sqrt{3}} = \frac{h}{1500 - x}$$

$$\text{বা, } \sqrt{3} h = 1500 - x$$

$$\text{বা, } \sqrt{3} \times \sqrt{3} x = 1500 - x \quad [\text{সমীকরণ (i) থেকে}]$$

$$\text{বা, } 3x = 1500 - x$$

$$\text{বা, } 3x + x = 1500$$

$$\text{বা, } 4x = 1500$$

$$\text{বা, } x = \frac{1500}{4}$$

$$\therefore x = 375 \text{ মিটার}$$

$$(i) \text{ নং থেকে পাই, } h = \sqrt{3} \times 375 = 649.52 \text{ মিটার (প্রায়)}$$

∴ বিমানটি ভূমি হতে 649.52 মিটার (প্রায়) উপরে রয়েছে। (Ans.)

গ এখন, ΔCAD- এ ∠CAD = 60° এবং

$$CD = h = 375\sqrt{3} \text{ ['খ' হতে]}$$

সমকোণী ΔCAD-এ

$$\sin \angle CAD = \frac{CD}{AC}$$

$$\text{বা, } \sin 60^\circ = \frac{375\sqrt{3}}{AC}$$

$$\text{বা, } \frac{\sqrt{3}}{2} = \frac{375\sqrt{3}}{AC}$$

$$\text{বা, } AC = \frac{375\sqrt{3} \times 2}{\sqrt{3}}$$

$$\therefore AC = 750 \text{ মিটার (Ans.)}$$

এবং ΔCBD-এ ∠CBD = 30°

সমকোণী ΔCBD-এ

$$\sin \angle CBD = \frac{CD}{BC}$$

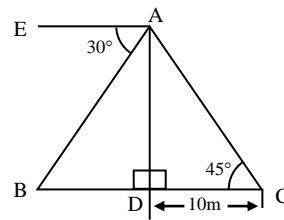
$$\text{বা, } \sin 30^\circ = \frac{375\sqrt{3}}{BC}$$

$$\text{বা, } \frac{1}{2} = \frac{375\sqrt{3}}{BC}$$

$$\text{বা, } BC = 375\sqrt{3} \times 2$$

$$\therefore BC = 1299.04 \text{ মিটার (প্রায়) (Ans.)}$$

প্রশ্ন ২৫



[ভিকার'নিসা নূন স্কুল এন্ড কলেজ, ঢাকা □ প্রশ্ন নং ৮]

ক. উন্নতি কোণ ও অবনতি কোণের সংজ্ঞা দাও।



- খ. AB বাছুর দৈর্ঘ্য নির্ণয় কর। 8
 গ. $\triangle ABC$ এর পরিসীমা নির্ণয় কর। 8

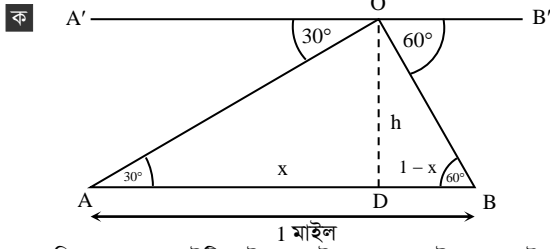
২৫ নং প্রশ্নের সমাধান

সৃজনশীল ১৪নং সমাধান দ্রষ্টব্য।

প্রশ্ন ২৬ দুইটি মাইলপোস্ট A ও B এর মধ্যবর্তী কোনো স্থানে একটি টাওয়ার অবস্থিত। টাওয়ারটির শীর্ষ হতে A ও B এর অবনতি কোণ যথাক্রমে 30° ও 60° । [আইডিয়াল স্কুল এন্ড কলেজ, মতিবিল, ঢাকা □ প্রশ্ন নং c]

- ক. সংক্ষিপ্ত বিবরণসহ উদ্দীপকের আলোকে চিত্র অঙ্কন কর। ২
 খ. টাওয়ারটির উচ্চতা নির্ণয় কর। ৪
 গ. টাওয়ারটির শীর্ষ থেকে A ও B এর সরাসরি দূরত্বের পার্থক্য নির্ণয় কর। ৪

২৬ নং প্রশ্নের সমাধান



চিত্রে, A ও B দুইটি মাইল পোস্ট, OD হচ্ছে টাওয়ারের উচ্চতা। O বিন্দুতে মাইলপোস্ট A এর অবনতি কোণ 30° এবং B এর অবনতি কোণ 60° ।

- খ. 'ক' এর চিত্রে $\angle AOA' = 30^\circ$
 $\therefore \angle OAB = 30^\circ$ [একাস্তর কোণ]
 এবং $\angle BOB' = 60^\circ$
 $\therefore \angle OBA = 60^\circ$ [একাস্তর কোণ]
 O থেকে AB এর উপর OD লম্ব অঙ্কন করি।
 মনে করি, AD = x মাইল, OD = h মাইল
 $\therefore BD = (1 - x)$ মাইল।

এখন, সমকোণী $\triangle OAD$ থেকে $\tan \angle OAD = \frac{OD}{AD}$

বা, $\tan 30^\circ = \frac{h}{x}$

বা, $\frac{1}{\sqrt{3}} = \frac{h}{x}$

বা, $x = h\sqrt{3}$ (i)

আবার, সমকোণী $\triangle OBD$ থেকে $\tan \angle OBD = \frac{OD}{BD}$

বা, $\tan 60^\circ = \frac{h}{1-x}$

বা, $\sqrt{3} = \frac{h}{1-x}$

বা, $\sqrt{3} = \frac{h}{1-h\sqrt{3}}$ [x = h√3 বসিয়ে]

বা, $h = \sqrt{3} - h\sqrt{3} \cdot \sqrt{3}$

বা, $h = \sqrt{3} - 3h$

বা, $4h = \sqrt{3}$

$\therefore h = \frac{\sqrt{3}}{4}$

\therefore নির্ণেয় উচ্চতা, $h = \frac{\sqrt{3}}{4}$ মাইল

$= \frac{\sqrt{3}}{4} \times 1.61$ কিলোমিটার [□ 1 মাইল = 1.61 কি.মি.]

$= 0.69715$ কিলোমিটার

$= 697.15$ মিটার (প্রায়) (Ans.)

- গ. মাইলপোস্ট A এর অবনতি কোণ 30°
 A হতে টাওয়ারের সরাসরি দূরত্ব OA

এখন, সমকোণী $\triangle OAD$ থেকে, $\sin \angle OAD = \frac{OD}{OA}$

বা, $OA = \frac{OD}{\sin 30^\circ}$
 $= \frac{697.15}{\frac{1}{2}}$

$= 697.15 \times 2$

$= 1394.3$ মিটার প্রায় (Ans.)

মাইলপোস্ট B এর অবনতি কোণ 60° ।

B হতে টাওয়ারের সরাসরি দূরত্ব OB.

এখন, সমকোণী $\triangle OBD$ -এ

$\sin \angle OBD = \frac{OD}{OB}$

বা, $\sin 60^\circ = \frac{697.15}{OB}$

বা, $\frac{\sqrt{3}}{2} = \frac{697.15}{OB}$

বা, $OB = \frac{697.15 \times 2}{\sqrt{3}}$

$\therefore OB = 805$ মিটার (প্রায়)

\therefore শীর্ষ থেকে A ও B এর সরাসরি দূরত্বের

পার্থক্য = OA - OB

$= 1394.3 - 805$

$= 589.3$ মিটার। (Ans.)

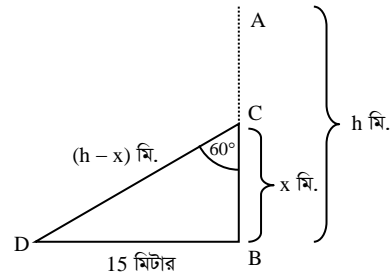
প্রশ্ন ২৭ একটি গাছ বাড়ে এমনভাবে ভাঙ্গে যে নো এর ভাগা অংশ দক্ষায়মান অংশের সাথে 60° কোণ উৎপন্ন করে এবং গাছটির ভাগা অংশ গোড়া হতে 15 মিটার দূরে মাটি স্পর্শ করে।

[ঢাকা রেসিডেন্সিয়াল মডেল কলেজ, ঢাকা □ প্রশ্ন নং c]

- ক. উদ্দীপকের আলোকে চিত্রটি অঙ্কন কর। ২
 খ. সম্পূর্ণ গাছটির দৈর্ঘ্য কত? ৪
 গ. গাছের ভাগা অংশ দক্ষায়মান অংশের সাথে 30° কোণ উৎপন্ন করলে ভাগা অংশ গোড়া হতে 12 মিটার দূরে ভূমির উপরস্থ 2 মিটার উঁচু টেবিলকে স্পর্শ করে। তাহলে, গাছের দৈর্ঘ্য কত হত? ৪

২৭ নং প্রশ্নের সমাধান

ক



খ. মনে করি, সম্পূর্ণ গাছের দৈর্ঘ্য AB = h মিটার। BC = x মিটার উচ্চতায় ভেঙ্গে গিয়ে বিচ্ছিন্ন না হয়ে ভাগা অংশ দক্ষায়মান অংশের সাথে $\angle BCD = 60^\circ$ উৎপন্ন করে গাছটির গোড়া থেকে BD = 15 মিটার দূরে মাটি স্পর্শ করে।

এখানে, CD = AC = AB - BC = (h - x) মিটার

$\triangle BCD$ থেকে পাই, $\tan \angle BCD = \frac{BD}{BC}$

বা, $\tan 60^\circ = \frac{15}{x}$

বা, $\sqrt{3} = \frac{15}{x}$

বা, $\sqrt{3}x = 15$

$\therefore x = \frac{15}{\sqrt{3}}$

আবার, $\sin \angle BCD = \frac{BD}{CD}$

বা, $\sin 60^\circ = \frac{15}{h-x}$

বা, $\frac{\sqrt{3}}{2} = \frac{15}{h-x}$

বা, $\sqrt{3}(h-x) = 30$

বা, $\sqrt{3}h = 30 + x\sqrt{3}$

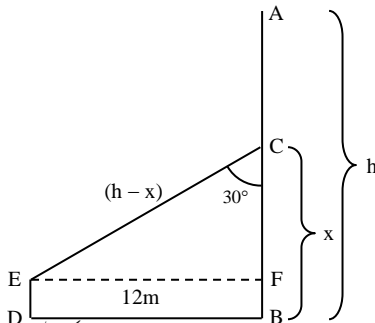
বা, $\sqrt{3}h = 30 + \frac{15}{\sqrt{3}} \cdot \sqrt{3}$ [x এর মান বসিয়ে]

বা, $\sqrt{3}h = 45$ মিটার

$\therefore h = \frac{45}{\sqrt{3}} = 25.981$

\therefore সম্পূর্ণ গাছের দৈর্ঘ্য 25.981 মিটার। (Ans.)

গ



ধরি, গাছের দৈর্ঘ্য h। গাছের ভাঙ্গা অংশ $\angle BCE = 30^\circ$ উৎপন্ন করে 2 মিটার উঁচু টেবিল DE কে E বিন্দুতে স্পর্শ করে।

এখানে, $CE = AC = AB - BC = h - x$

এখন, $EF = BD = 12$ মি., $ED = FB = 2$ মি.

$CF = BC - BF = x - 2$

$\triangle CEF$ এ $\tan 30^\circ = \frac{EF}{CF}$

বা, $\frac{1}{\sqrt{3}} = \frac{12}{x-2}$

বা, $x-2 = 12\sqrt{3}$

$\therefore x = 2 + 12\sqrt{3}$

আবার, $\sin \angle FCE = \frac{EF}{CE}$

বা, $\sin 30^\circ = \frac{12}{h-x}$

বা, $\frac{1}{2} = \frac{12}{h-x}$

বা, $h-x = 24$

বা, $h = 24 + x$

বা, $h = 24 + 2 + 12\sqrt{3}$

$\therefore h = 46.785$ মিটার (প্রায়) (Ans.)

প্রশ্ন ▶ ২৮ একটি খুঁটি ঝড়ে এমনভাবে ভেঙ্গে গেল যে, ভাঙ্গা অংশ দন্ডায়মান অংশের সাথে 30° কোণ উৎপন্ন করে খুঁটিটির গোড়া হতে $6\sqrt{3}$ মিটার দূরে মাটি স্পর্শ করে। [মনিপুর উচ্চ বিদ্যালয় ও কলেজ, ঢাকা □ প্রশ্ন নং ৮]

ক. সংক্ষিপ্ত বর্ণনাসহ চিত্রটি আঁক। ২

খ. খুঁটিটির সম্পূর্ণ দৈর্ঘ্য নির্ণয় কর। ৪

গ. খুঁটিটির ভাঙ্গা অংশ দন্ডায়মান অংশের সাথে 60° কোণ উৎপন্ন করলে খুঁটিটির শীর্ষ গোড়া থেকে কত দূরে ভূমিকে স্পর্শ করবে নির্ণয় কর। ৪

২৮ নং প্রশ্নের সমাধান

সৃজনশীল ১১নং সমাধান দ্রষ্টব্য।

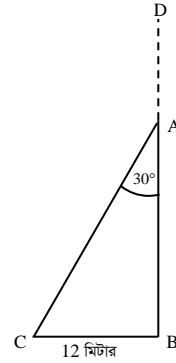
প্রশ্ন ▶ ২৯ একটি গাছ ঝড়ে এমনভাবে ভেঙে গেল যে, ভাঙ্গা অংশ দন্ডায়মান অংশের সাথে 30° কোণ করে গাছের গোড়া থেকে 12 মিটার দূরে মাটি স্পর্শ করে। [বীরশ্রেষ্ঠ নূর মোহাম্মদ পাবলিক কলেজ, ঢাকা □ প্রশ্ন নং ৮]

ক. উদ্দীপকের আলোকে চিত্র অঙ্কন কর। ২

খ. গাছটির দন্ডায়মান অংশের দৈর্ঘ্য নির্ণয় কর। ৪
গ. সম্পূর্ণ গাছটির দৈর্ঘ্য নির্ণয় কর। ৪

২৯ নং প্রশ্নের সমাধান

ক



মনে করি, সম্পূর্ণ গাছটি BD মিটার। ভাঙা অংশ $AD = AC$ দন্ডায়মান অংশ AB এর সাথে 30° কোণ উৎপন্ন করে।

$\angle BAC = 30^\circ$ এবং $BC = 12$ মিটার।

খ

‘ক’ চিত্র হতে,

$\triangle ABC$ -এ, $\angle BAC = 30^\circ$

$\therefore \tan \angle BAC = \frac{BC}{AB}$

বা, $\tan 30^\circ = \frac{12}{AB}$

বা, $\frac{1}{\sqrt{3}} = \frac{12}{AB}$

বা, $AB = 12\sqrt{3}$

\therefore দন্ডায়মান অংশের দৈর্ঘ্য $12\sqrt{3}$ মিটার।

গ

মনে করি, গাছটির সম্পূর্ণ দৈর্ঘ্য, $AB = h$ মিটার, $BC = x$ মিটার উচ্চতায় ভেঙ্গে গিয়ে বিচ্ছিন্ন না হয়ে ভাঙ্গা অংশ দন্ডায়মান অংশের সাথে $\angle BCD = 30^\circ$ কোণ উৎপন্ন করে গাছটির গোড়া থেকে $BD = 12$ মিটার দূরে মাটি স্পর্শ করে।

এখানে, $CD = AC = AB - BC = (h - x)$ মিটার।

$\triangle BCD$ থেকে পাই,

$\tan \angle BCD = \frac{BD}{BC}$

বা, $\tan 30^\circ = \frac{12}{x}$

বা, $\frac{1}{\sqrt{3}} = \frac{12}{x}$ [$\tan 30^\circ = \frac{1}{\sqrt{3}}$]

$\therefore x = 12\sqrt{3}$

আবার, $\sin \angle BCD = \frac{BD}{CD}$

বা, $\sin 30^\circ = \frac{12}{h-x}$

বা, $\frac{1}{2} = \frac{12}{h-x}$ [$\sin 30^\circ = \frac{1}{2}$]

বা, $h-x = 24$

বা, $h = 24 + x$

বা, $h = 24 + 12\sqrt{3}$ [x এর মান বসিয়ে।]

$\therefore h = 44.785$ (প্রায়)

\therefore গাছটির সম্পূর্ণ দৈর্ঘ্য 44.785 মিটার (প্রায়) (Ans.)

প্রশ্ন ▶ ৩০ দুটি মাইলফলক A ও B এর মধ্যবর্তী কোন স্থানের উপর O বিন্দুতে একটি হেলিকপ্টার হতে ঐ মাইলফলকদ্বয়ের অবনতি কোণ যথাক্রমে 60° ও 45° । [গবর্নমেন্ট ল্যাবরেটরি হাই স্কুল, ঢাকা □ প্রশ্ন নং ৮]

ক. সংক্ষিপ্ত বর্ণনাসহ আনুপাতিক চিত্র অঙ্কন কর। ২

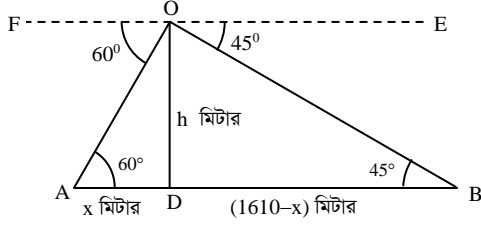
খ. হেলিকপ্টার মাটি থেকে কত উচুতে অবস্থিত? ৪



গ. A ও B বিন্দুদ্বয় হতে হেলিকপ্টারটির সরাসরি দূরত্ব নির্ণয় কর।

৩০ নং প্রশ্নের সমাধান

ক



মনে করি, হেলিকপ্টারটির উচ্চতা $OD = h$ মিটার এবং O বিন্দুতে মাইল পোস্ট A এবং মাইল পোস্ট B এর অবনতি যথাক্রমে $\angle AOF = 60^\circ$ এবং $\angle BOE = 45^\circ$ ।

মাইল পোস্টদ্বয়ের মধ্যকার দূরত্ব $AB = 1$ মাইল
 $= 1.61$ কি. মি. (প্রায়)
 $= 1610.00$ মিটার

খ

‘ক’ এর চিত্র অনুসারে,

ধরি, $AD = x$ মিটার।

অতএব, $BD = AB - AD = (1610 - x)$ মিটার।

এখানে, $\angle AOF = \angle OAD = 60^\circ$ [একান্তর কোণ বলে]

এবং $\angle BOE = \angle OBD = 45^\circ$ [একান্তর কোণ বলে]

$\triangle OAD$ থেকে পাই, $\tan \angle OAD = \frac{OD}{AD}$

বা, $\tan 60^\circ = \frac{h}{x}$

বা, $\sqrt{3} = \frac{h}{x}$

$\therefore x = \frac{h}{\sqrt{3}}$ (i)

আবার, $\triangle OBD$ এ, $\tan \angle OBD = \frac{OD}{BD}$

বা, $\tan 45^\circ = \frac{h}{1610 - x}$

বা, $1 = \frac{h}{1610 - x}$

বা, $h = 1610 - x$

বা, $h = 1610 - \frac{h}{\sqrt{3}}$ [(i) নং সমীকরণের সাহায্যে]

বা, $h + \frac{h}{\sqrt{3}} = 1610$

বা, $\frac{\sqrt{3}h + h}{\sqrt{3}} = 1610$

বা, $h \left(\frac{\sqrt{3} + 1}{\sqrt{3}} \right) = 1610$

বা, $h = \frac{1610\sqrt{3}}{\sqrt{3} + 1} = 1020.699$

\therefore হেলিকপ্টারের উচ্চতা 1020.699 মিটার (প্রায়)। (Ans.)

গ

‘খ’ থেকে পাই, ভূমি হতে হেলিকপ্টারের উচ্চতা, $h = 1020.699$ মিটার

এখানে, নির্ণেয় দূরত্ব হবে, AO এবং BO

$\triangle OAD$ থেকে $\sin 60^\circ = \frac{OD}{OA}$

বা, $\frac{\sqrt{3}}{2} = \frac{h}{OA}$

$\therefore OA = \frac{1020.699}{\frac{\sqrt{3}}{2}}$

$= 1178.6$ মিটার (প্রায়) (Ans.)

আবার, $\triangle OBD$ থেকে পাই, $\sin 45^\circ = \frac{OD}{OB}$

বা, $\frac{1}{\sqrt{2}} = \frac{h}{OB}$

$\therefore OB = 1020.699\sqrt{2} = 1443.49$ মিটার (প্রায়) (Ans.)

প্রশ্ন ৩১ একটি গাছ বাড়ে এমনভাবে ভেঙ্গে গেল যেন ভাঙ্গা অংশ দন্ডায়মান অংশের সাথে 60° কোণ উৎপন্ন করে গাছের গোড়া থেকে $15\sqrt{3}$ মিটার দূরে মাটি স্পর্শ করেছে।

[আদমজী ক্যান্টনমেন্ট পাবলিক স্কুল, ঢাকা □ প্রশ্ন নং ৭]

- ক. উপরোক্ত বর্ণনাটি চিত্রের মাধ্যমে দেখাও। ২
 খ. সম্পূর্ণ গাছের দৈর্ঘ্য নির্ণয় কর। ৪
 গ. ভাঙ্গা অংশ দন্ডায়মান অংশের সাথে 30° কোণ উৎপন্ন করলে, ভাঙ্গা অংশের দৈর্ঘ্য কত? ৪

৩১ নং প্রশ্নের সমাধান

সৃজনশীল ১৫নং সমাধান দ্রষ্টব্য।

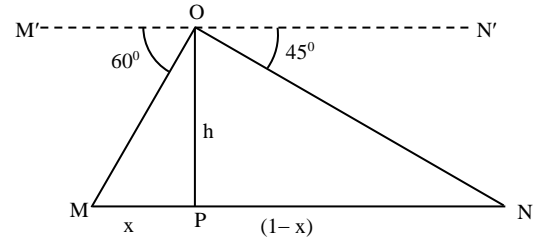
প্রশ্ন ৩২ দুটি মাইল পোস্ট M ও N এর মধ্যবর্তী কোনো স্থানে একটি টাওয়ার অবস্থিত, টাওয়ারের শীর্ষবিন্দুতে M ও N এর অবনতি কোণ যথাক্রমে 60° ও 45° ।

[শহীদ বীর উত্তম লেঃ আনোয়ার গার্লস কলেজ, ঢাকা □ প্রশ্ন নং ৮]

- ক. উদ্দীপকের তথ্য অনুযায়ী সংক্ষিপ্ত বিবরণসহ চিত্র আঁক। ২
 খ. টাওয়ারের উচ্চতা নির্ণয় কর। ৪
 গ. যদি টাওয়ারটি ভেঙ্গে বিচ্ছিন্ন না হয়ে ভাঙ্গা অংশ দন্ডায়মান অংশের সাথে 30° কোণ উৎপন্ন করে তবে ভাঙ্গা অংশের দৈর্ঘ্য ও দন্ডায়মান অংশের দৈর্ঘ্যের পার্থক্য নির্ণয় কর। ৪

৩২ নং প্রশ্নের সমাধান

ক



চিত্রে, দুইটি মাইল পোস্ট M ও N এর মধ্যবর্তী স্থানে OP টাওয়ার অবস্থিত।

টাওয়ারের শীর্ষবিন্দুতে M ও N এর অবনতি কোণ যথাক্রমে 60° এবং 45°

খ

চিত্র থেকে, $MN = 1$ মাইল

এখন, $MN \parallel M'N'$ এবং OM এর ছেদক

$\therefore \angle OMP = \angle MOM' = 60^\circ$

আবার, $MN \parallel M'N'$ এবং ON এদের ছেদক

$\therefore \angle ONP = \angle NON' = 45^\circ$

ধরি, $MP = x$ মাইল, $PN = 1 - x$ মাইল, $OP = h$ মাইল

$\triangle OMP$ এ,

$\tan \angle OMP = \frac{h}{x}$

$\Rightarrow \tan 60^\circ = \frac{h}{x}$

$\Rightarrow \sqrt{3} = \frac{h}{x}$

$\Rightarrow x = \frac{h}{\sqrt{3}}$ (i)

$\triangle OPN$ এ,

$\tan \angle ONP = \frac{h}{1 - x}$



$$\Rightarrow \tan 45^\circ = \frac{h}{1-x}$$

$$\Rightarrow 1 = \frac{h}{1-x}$$

$$\Rightarrow h = 1-x$$

$$\Rightarrow h+x = 1$$

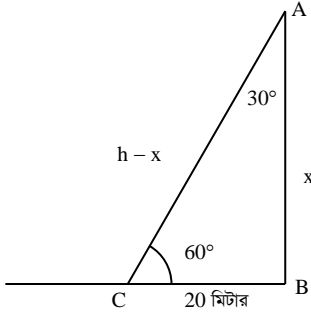
$$\Rightarrow h + \frac{h}{\sqrt{3}} = 1 \text{ [(i) থেকে]}$$

$$\Rightarrow h \left(1 + \frac{1}{\sqrt{3}} \right) = 1$$

$$\Rightarrow h = 0.634 \text{ মাইল}$$

∴ টাওয়ারের উচ্চতা 0.634 মাইল। (Ans)

গ



‘খ’ থেকে পাই, $h = 0.634$ মাইল।

এখন, $\angle BAC = 30^\circ$

$\triangle ABC$ সমকোণী বিধায় $\angle ACB = 90^\circ - 30^\circ = 60^\circ$

$$\triangle ABC\text{-এ } \cos 30^\circ = \frac{x}{h-x}$$

$$\Rightarrow \frac{\sqrt{3}}{2} = \frac{x}{0.634-x}$$

$$\Rightarrow 2x = 1.098 - \sqrt{3} \cdot x$$

$$\Rightarrow 2x + \sqrt{3} \cdot x = 1.098$$

$$\Rightarrow x = \frac{1.098}{2 + \sqrt{3}} = 0.294$$

$$\therefore h-x = 0.634 - 0.294 = 0.34$$

ভাগ্য অংশ এবং দৃশ্যমান অংশের দৈর্ঘ্যের পার্থক্য $(h-x) - x = 0.34 - 0.294 = 0.046$ মাইল।

প্রশ্ন ৩৩ একটি গাছ বাড়ে এমনভাবে ভেঙ্গে গেল যে, গাছটির ভাগ্য অংশ দৃশ্যমান অংশের সাথে θ কোণ এবং ভূমির সাথে 60° কোণ উৎপন্ন করে গাছের গোড়া হতে 15 মিটার দূরে ভূমি স্পর্শ করে।

[মাইলস্টোন কলেজ, ঢাকা □ প্রশ্ন নং c]

ক. চিত্রসহ অবনতি কোণের সংজ্ঞা দাও। ২

খ. প্রমাণ করো যে, $\sin 3\theta = 3\sin\theta - 4\sin^3\theta$ । ৪

গ. গাছটির সম্পূর্ণ দৈর্ঘ্য নির্ণয় করো। ৪

৩৩ নং প্রশ্নের সমাধান

ক. পাঠ্যবইয়ের অধ্যায়-১০ এর পৃষ্ঠা-১৯৭ দ্রষ্টব্য।

খ. সৃজনশীল ১২(খ)নং সমাধান দ্রষ্টব্য।

গ. সৃজনশীল ১২(গ)নং সমাধান দ্রষ্টব্য।

প্রশ্ন ৩৪ ভূতলের কোনো স্থানে একটি গাছের শীর্ষের উন্নতি কোণ 60° । ঐ স্থান থেকে $32\sqrt{3}$ মিটার পিছিয়ে গেলে শীর্ষের উন্নতি কোণ 30° হয়। কিন্তু একদিন গাছটি বাড়ে এমনভাবে ভেঙ্গে গেল যে, এর অবিচ্ছিন্ন ভাগ্য অংশ দৃশ্যমান অংশের সাথে 60° কোণ উৎপন্ন করে গাছের গোড়া থেকে a মিটার দূরে মাটি স্পর্শ করে।

[মতিঝিল সরকারী বালিকা উচ্চ বিদ্যালয়, ঢাকা □ প্রশ্ন নং c]

ক. একটি বৃত্তের ব্যাসার্ধ ৪ সে.মি. এবং একটি বৃত্তচাপ কেন্দ্রে 56° কোণ উৎপন্ন করলে বৃত্তকলার ক্ষেত্রফল কত? ২

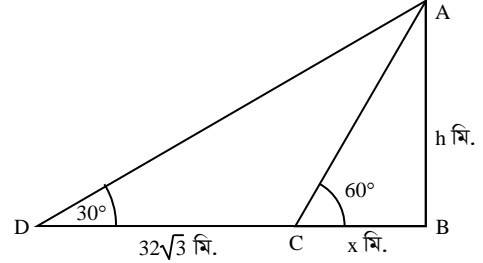
খ. গাছটির দৈর্ঘ্য নির্ণয় কর। ৪

গ. a এর মান নির্ণয় কর। ৪

৩৪ নং প্রশ্নের সমাধান

ক. পাঠ্যবইয়ের অনুশীলনী-১৬.৩ এর উদাহরণ-১৯ দ্রষ্টব্য। পৃষ্ঠা-৩১৩

খ



ধরি, গাছটির দৈর্ঘ্য, $AB = h$ মি.

এবং $BC = x$ মি.

$$\therefore BD = BC + CD = (x + 32\sqrt{3}) \text{ মি.}$$

$$\angle ACB = 60^\circ$$

$$\angle ADB = 30^\circ$$

$$CD = 32\sqrt{3} \text{ মি.}$$

এখন, সমকোণী $\triangle ABC$ থেকে পাই,

$$\tan 60^\circ = \frac{AB}{BC}$$

$$\text{বা, } \sqrt{3} = \frac{h}{x}$$

$$\text{বা, } x = \frac{h}{\sqrt{3}} \dots \dots (i)$$

আবার, সমকোণী $\triangle ABD$ থেকে পাই,

$$\tan 30^\circ = \frac{AB}{BD}$$

$$\text{বা, } \frac{1}{\sqrt{3}} = \frac{h}{x + 32\sqrt{3}}$$

$$\text{বা, } \sqrt{3}h = x + 32\sqrt{3}$$

$$\text{বা, } \sqrt{3}h - x = 32\sqrt{3}$$

$$\text{বা, } \sqrt{3}h - \frac{h}{\sqrt{3}} = 32\sqrt{3}$$

$$\text{বা, } 3h - h = 32\sqrt{3} \cdot \sqrt{3}$$

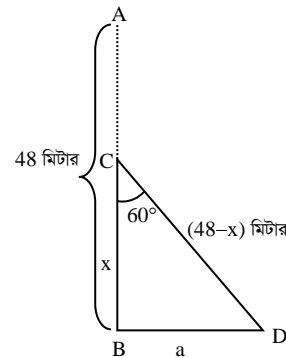
$$\text{বা, } 2h = 96$$

$$\text{বা, } h = \frac{96}{2} = 48$$

$$\therefore h = 48 \text{ মি.}$$

∴ গাছটির উচ্চতা 48 মি. (Ans.)

গ



মনে করি, $AB = 48$ মি. দৈর্ঘ্যের গাছটি ভূমি থেকে x মিটার উচ্চতায় C বিন্দুতে ভেঙ্গে সম্পূর্ণভাবে বিচ্ছিন্ন না হয়ে ভাঙ্গা অংশ দন্ডায়মান অংশের সাথে 60° কোণ উৎপন্ন করে ভূমির সাথে D বিন্দুতে মিলিত হয়েছে।

এক্ষেত্রে, $\angle BCD = 60^\circ$, $BC = x$ এবং $CD = 48 - x$

এখন, $\triangle BCD$ -এ

$$\cos \angle BCD = \frac{BC}{CD}$$

$$\text{বা, } \cos 60^\circ = \frac{x}{48 - x}$$

$$\text{বা, } \frac{1}{2} = \frac{x}{48 - x}$$

$$\text{বা, } 2x = 48 - x$$

$$\text{বা, } 2x + x = 48$$

$$\text{বা, } 3x = 48$$

$$\text{বা, } x = \frac{48}{3}$$

$$\therefore x = 16$$

আবার, $\triangle BCD$ -এ

$$\tan \angle BCD = \frac{BD}{BC}$$

$$\text{বা, } \tan 60^\circ = \frac{a}{x}$$

$$\text{বা, } a = (\tan 60^\circ)x$$

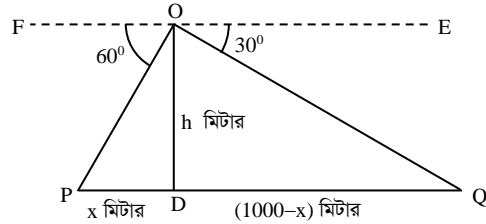
$$\therefore a = 16\sqrt{3} \text{ মিটার (Ans.)}$$

প্রশ্ন ৩৫ দুটি কিলোমিটার পোস্ট P ও Q এর মধ্যবর্তী কোনো স্থানের উপর O বিন্দুতে একটি হেলিকপ্টার হতে ঐ কিলোমিটার পোস্টদ্বয়ের অবনতি কোণ যথাক্রমে 60° এবং 30° । [মতিঝিল মডেল স্কুল এন্ড কলেজ, ঢাকা □ প্রশ্ন নং ৮]

- ক. সংক্ষিপ্ত বর্ণনাসহ উদ্দীপকের তথ্যানুসারে চিত্র অঙ্কন কর। ২
খ. হেলিকপ্টারটি মাটি হতে কত উঁচুতে অবস্থিত? ৪
গ. P ও Q বিন্দু থেকে হেলিকপ্টারের সরাসরি দূরত্ব নির্ণয় কর। ৪

৩৫ নং প্রশ্নের সমাধান

ক



মনে করি, হেলিকপ্টারটির উচ্চতা $OD = h$ মিটার এবং O বিন্দুতে কিলোমিটার পোস্ট P এবং কিলোমিটার পোস্ট Q এর অবনতি যথাক্রমে $\angle POF = 60^\circ$ এবং $\angle QOE = 30^\circ$ ।
কিলোমিটার পোস্টদ্বয়ের মধ্যকার দূরত্ব $PQ = 1$ কিলোমিটার
 $= 1000$ মিটার

খ

ধরি, $PD = x$ মিটার।

অতএব, $QD = PQ - PD = (1000 - x)$ মিটার।

এখানে, $\angle POF = \angle OPD = 60^\circ$ [একান্তর কোণ বলে]

এবং $\angle QOE = \angle OQD = 30^\circ$ [একান্তর কোণ বলে]

সমকোণী $\triangle OPD$ থেকে পাই, $\tan \angle OPD = \frac{OD}{PD}$

$$\text{বা, } \tan 60^\circ = \frac{h}{x} \quad \text{বা, } \sqrt{3} = \frac{h}{x}$$

$$\therefore x = \frac{h}{\sqrt{3}} \dots\dots\dots (i)$$

আবার, $\triangle OQD$ এ, $\tan \angle OQD = \frac{OD}{QD}$

$$\text{বা, } \tan 30^\circ = \frac{h}{1000 - x}$$

$$\text{বা, } \frac{1}{\sqrt{3}} = \frac{h}{1000 - x}$$

$$\text{বা, } \sqrt{3}h = 1000 - x$$

$$\text{বা, } \sqrt{3}h = 1000 - \frac{h}{\sqrt{3}} \quad [(i) \text{ নং সমীকরণের সাহায্যে}]$$

$$\text{বা, } \sqrt{3}h + \frac{h}{\sqrt{3}} = 1000$$

$$\text{বা, } \frac{3h + h}{\sqrt{3}} = 1000$$

$$\text{বা, } \frac{4h}{\sqrt{3}} = 1000$$

$$\text{বা, } 4h = 1000\sqrt{3}$$

$$\text{বা, } h = \frac{1000\sqrt{3}}{4}$$

$$\therefore h = 433.01 \text{ (প্রায়)}$$

\therefore হেলিকপ্টারের উচ্চতা 433.01 মিটার (প্রায়)। (Ans.)

গ

‘খ’ থেকে পাই, ভূমি হতে হেলিকপ্টারের উচ্চতা, $h = 433.01$ মিটার এখানে, নির্ণয় দূরত্ব হবে, PO এবং QO

$\triangle OPD$ থেকে $\sin 60^\circ = \frac{OD}{OP}$

$$\text{বা, } \frac{\sqrt{3}}{2} = \frac{h}{OP}$$

$$\therefore OP = \frac{433.01}{\frac{\sqrt{3}}{2}}$$

$$= 500 \text{ মিটার (প্রায়) (Ans.)}$$

আবার, $\triangle OQD$ থেকে পাই, $\sin 30^\circ = \frac{OD}{OQ}$

$$\text{বা, } \frac{1}{2} = \frac{h}{OQ}$$

$$\therefore OQ = 433.01 \times 2$$

$$= 866.02 \text{ মিটার (প্রায়) (Ans.)}$$

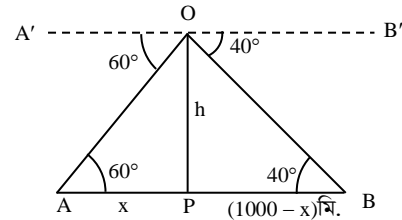
খ

প্রশ্ন ৩৬ দুইটি কিলোমিটার পোস্টের মধ্যবর্তী কোনো স্থানের উপরে অবস্থিত একটি হেলিকপ্টার থেকে ঐ পোস্ট দুইটির অবনতি কোণ যথাক্রমে 60° ও 40° । [সেন্ট যোসেফ উচ্চ মাধ্যমিক বিদ্যালয়, ঢাকা □ প্রশ্ন নং ৯]

- ক. সংক্ষিপ্ত বর্ণনাসহ উপরোক্ত তথ্যটির চিত্র অঙ্কন কর। ২
খ. ভূমি থেকে হেলিকপ্টারটির উচ্চতা নির্ণয় কর। ৪
গ. হেলিকপ্টারটি থেকে কিলোমিটার পোস্ট দুটির দূরত্বের পার্থক্য নির্ণয় কর। ৪

৩৬ নং প্রশ্নের সমাধান

ক



মনে করি, O বিন্দুতে হেলিকপ্টারের অবস্থান এবং A ও B এক কিলোমিটার দূরবর্তী দুটি পোস্টের চূড়া। O থেকে A ও B এর অবনতি কোণ যথাক্রমে 60° ও 40° ।

$$\therefore \angle AOA' = 60^\circ \text{ এবং } \angle BOB' = 40^\circ$$

$$\text{এবং } AB = 1 \text{ কিলোমিটার} = 1000 \text{ মিটার।}$$

খ

মনে করি, $AP = x$ মিটার, $OP = h$ মিটার

$$\therefore BP = AB - AP = (1000 - x) \text{ মিটার}$$

$A'O \parallel AP$ এবং OA ছেদক

$$\therefore \angle OAP = \text{একান্তর } \angle A'OA = 60^\circ$$

আবার, B'O || BP এবং OB ছেদক

∴ ∠OBP = একান্ত্র ভ্রূ B'OB = 40°

এখন, সমকোণী ΔOAP-এ

$$\tan \angle OAP = \frac{OP}{AP}$$

$$\text{বা, } \tan 60^\circ = \frac{h}{x}$$

$$\text{বা, } \sqrt{3} = \frac{h}{x}$$

$$\therefore h = \sqrt{3}x \dots \dots (i)$$

আবার, $\tan \angle OBP = \frac{OP}{BP}$

$$\text{বা, } \tan 40^\circ = \frac{h}{1000 - x}$$

$$\text{বা, } 0.8391 = \frac{h}{1000 - x}$$

$$\text{বা, } 839.1 - 0.8391x = \sqrt{3}x \quad [\square h = \sqrt{3}x]$$

$$\text{বা, } 839.1 = 1.732x + 0.8391x$$

$$\text{বা, } 839.1 = 2.5711x$$

$$\therefore x = \frac{839.1}{2.5711} = 326.36 \text{ মিটার}$$

∴ উচ্চতা, $h = \sqrt{3} \times 326.36 = 565.27$ মিটার। (Ans.)

গ এখন, ΔOAP তে, ∠OAP = 60°

এবং OP = 565.27 মিটার

∴ A বিন্দু থেকে হেলিকপ্টারের সরাসরি দূরত্ব = OA

ΔOPA থেকে পাই,

$$\frac{OP}{OA} = \sin \angle OAP$$

$$\text{বা, } \frac{OP}{OA} = \sin 60^\circ$$

$$\text{বা, } OA = \frac{OP}{\sin 60^\circ} = \frac{565.27}{\frac{\sqrt{3}}{2}}$$

$$\therefore OA = 652.72 \text{ মিটার (প্রায়)}$$

আবার, ΔOBP এ, ∠OBP = 40° এবং OP = 565.27 মিটার

B বিন্দু থেকে হেলিকপ্টারের সরাসরি দূরত্ব = OB

এখন, ΔOBP হতে, $\sin \angle OBP = \frac{OP}{OB}$

$$\text{বা, } OB = \frac{OP}{\sin \angle OBP}$$

$$\text{বা, } OB = \frac{565.27}{0.6428}$$

$$\therefore OB = 879.39 \text{ মিটার (প্রায়)}$$

∴ হেলিকপ্টার হতে পোস্ট দুইটির দূরত্বের পার্থক্য

$$= (879.39 - 652.72) \text{ মিটার}$$

$$= 226.67 \text{ মিটার (প্রায়) (Ans.)}$$

প্রশ্ন ৩৭ একটি গাছের সম্পূর্ণ দৈর্ঘ্য AB। ঝড়ে গাছটি C বিন্দুতে এমনভাবে ভেঙ্গে গেল যে, তার অবিচ্ছিন্ন ভাগা অংশ দৃশ্যমান অংশের সাথে 30° কোণ উৎপন্ন করে গাছের গোড়া থেকে 15 মিটার দূরে D বিন্দুতে মাটি স্পর্শ করে।

[উদয়ন উচ্চ মাধ্যমিক বিদ্যালয়, ঢাকা □ প্রশ্ন নং ৮]

ক. প্রমাণ কর যে, $\tan 2C = \frac{2 \tan C}{1 - \tan^2 C}$. ২

খ. প্রমাণ কর যে, $\frac{1}{2 - \left(\frac{BC}{CD}\right)^2} + \frac{1}{2 + \left(\frac{BC}{BD}\right)^2} = 1$. 8

গ. AB এর মান নির্ণয় কর। 8

৩৭ নং প্রশ্নের সমাধান

ক উদ্দীপক অনুসারে, ∠C = 30°

এখন, $\tan 2C = \tan(2 \times 30^\circ) = \tan 60^\circ = \sqrt{3}$

$$\begin{aligned} \text{এবং } \frac{2 \tan C}{1 - \tan^2 C} &= \frac{2 \tan 30^\circ}{1 - \tan^2 30^\circ} = \frac{2 \times \frac{1}{\sqrt{3}}}{1 - \left(\frac{1}{\sqrt{3}}\right)^2} = \frac{\frac{2}{\sqrt{3}}}{1 - \frac{1}{3}} \\ &= \frac{\frac{2}{\sqrt{3}}}{\frac{3-1}{3}} = \frac{2}{\sqrt{3}} \times \frac{3}{2} = \sqrt{3} \end{aligned}$$

$$\therefore \tan 2C = \frac{2 \tan C}{1 - \tan^2 C} \text{ (প্রমাণিত)}$$

খ

উদ্দীপক অনুসারে, AB গাছটি

C বিন্দুতে ভেঙ্গে যায় এবং

ভাগা অংশ AC = CD

দৃশ্যমান অংশ BC এর সাথে

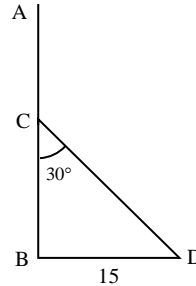
30° কোণ উৎপন্ন করে।

তাহলে, $\frac{BC}{CD} = \cos 30^\circ = \frac{\sqrt{3}}{2}$

$$\frac{BC}{BD} = \cot 30^\circ = \sqrt{3}$$

$$\begin{aligned} \therefore \frac{1}{2 - \left(\frac{BC}{CD}\right)^2} + \frac{1}{2 + \left(\frac{BC}{BD}\right)^2} &= \frac{1}{2 - \left(\frac{\sqrt{3}}{2}\right)^2} + \frac{1}{2 + (\sqrt{3})^2} \\ &= \frac{1}{2 - \frac{3}{4}} + \frac{1}{2 + 3} \\ &= \frac{1}{\frac{5}{4}} + \frac{1}{5} = \frac{4}{5} + \frac{1}{5} \\ &= \frac{4+1}{5} = \frac{5}{5} = 1 \text{ (প্রমাণিত)} \end{aligned}$$

গ



চিত্রানুসারে, $AB = BC + AC = BC + CD$ এবং ভেঙ্গে যাওয়ার পরে গাছের গোড়া B হতে গাছের শীর্ষের দূরত্ব $BD = 15$ মিটার

এখন, সমকোণী ΔBCD-এ

$$\frac{CD}{BD} = \operatorname{cosec} 30^\circ$$

$$\text{বা, } \frac{CD}{15} = 2$$

$$\therefore CD = 30$$

$$\text{আবার, } \frac{BC}{BD} = \cot 30^\circ$$

$$\text{বা, } \frac{BC}{15} = \sqrt{3}$$

$$\therefore BC = 15\sqrt{3} = 25.98$$

$$\therefore AB = BC + CD$$

$$= 25.98 + 30$$

$$= 55.98 \text{ মিটার (Ans.)}$$



প্রশ্ন ▶ ৩৮ দুইটি মাইল পোস্টের মধ্যবর্তী কোনো স্থানের উপরে একটি হেলিকপ্টার আছে। হেলিকপ্টারের স্থানে ঐ পোস্ট দুইটির অবনতি কোণ যথাক্রমে 60° ও 45° ।

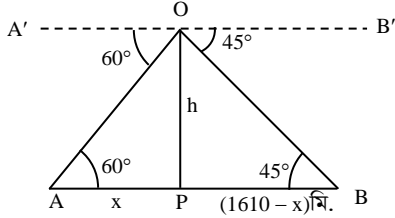
[মিরপুর ক্যান্টনমেন্ট পাবলিক স্কুল ও কলেজ, ঢাকা □ প্রশ্ন নং ৮]

- ক. উন্নতি কোণ ও অবনতি কোণ কাকে বলে? ২
খ. ভূমি হতে হেলিকপ্টারের দূরত্ব নির্ণয় কর। ৪
গ. হেলিকপ্টার হতে মাইল পোস্ট দুটির দূরত্ব মিটারে নির্ণয় কর। ৪

৩৮ নং প্রশ্নের সমাধান

ক পাঠ্যবইয়ের অধ্যায়-১০ এর “উন্নতি কোণ ও অবনতি কোণ” অনুচ্ছেদ দ্রষ্টব্য। পৃষ্ঠা- ১৯৭

খ



মনে করি, O বিন্দুতে হেলিকপ্টারের অবস্থান এবং A ও B এক মাইল দূরবর্তী দুটি পোস্টের চূড়া। O থেকে A ও B এর অবনতি কোণ যথাক্রমে 60° ও 45° ।

$\therefore \angle AOA' = 60^\circ$ এবং $\angle BOB' = 45^\circ$
এবং AB = 1 মাইল = 1610 মিটার।

মনে করি, AP = x মিটার, OP = h মিটার

\therefore BP = AB - AP = (1610 - x) মিটার

A'O || AP এবং OA ছেদক

$\therefore \angle OAP =$ একান্তর $\angle A'OA = 60^\circ$

আবার, B'O || BP এবং OB ছেদক

$\therefore \angle OBP =$ একান্তর $\angle B'OB = 45^\circ$

এখন, সমকোণী $\triangle OAP$ -এ

$$\tan \angle OAP = \frac{OP}{AP}$$

$$\text{বা, } \tan 60^\circ = \frac{h}{x}$$

$$\text{বা, } \sqrt{3} = \frac{h}{x}$$

$$\therefore h = \sqrt{3}x \dots \dots (i)$$

আবার,

$$\tan \angle OBP = \frac{OP}{BP}$$

$$\text{বা, } \tan 45^\circ = \frac{h}{1610 - x}$$

$$\text{বা, } 1 = \frac{h}{1610 - x}$$

$$\text{বা, } h = 1610 - x$$

$$\text{বা, } x = 1610 - h$$

$$\text{বা, } x = 1610 - \sqrt{3}x$$

$$\text{বা, } x + \sqrt{3}x = 1610$$

$$\text{বা, } (1 + \sqrt{3})x = 1610$$

$$\text{বা, } x = \frac{1610}{1 + \sqrt{3}}$$

$$\therefore x = 589.30 \text{ মিটার}$$

$$\therefore h = \sqrt{3} \times 589.30 \text{ মিটার}$$

$$= 1020.7 \text{ মিটার (প্রায়) (Ans.)}$$

গ ‘খ’ হতে পাই,

$\triangle OAP$ -তে $\angle OAP = 60^\circ$ এবং $OP = 1020.7$ মিটার

\therefore A বিন্দু থেকে হেলিকপ্টারের সরাসরি দূরত্ব = OA

$\triangle OPA$ থেকে পাই,

$$\frac{OP}{OA} = \sin \angle OAP$$

$$\text{বা, } \frac{OP}{OA} = \sin 60^\circ$$

$$\text{বা, } OA = \frac{OP}{\sin 60^\circ} = \frac{1020.7}{\frac{\sqrt{3}}{2}} = 1178.60$$

\therefore OA = 1178.60 মিটার (প্রায়) (Ans.)

B বিন্দু থেকে সরাসরি দূরত্ব = OB

$$\triangle OPB \text{ থেকে পাই, } \frac{OP}{OB} = \sin \angle OBP$$

$$\text{বা, } \frac{OP}{OB} = \sin 45^\circ$$

$$\text{বা, } OB = \frac{OP}{\sin 45^\circ} = \frac{1020.7}{\frac{1}{\sqrt{2}}} = 1443.49 \text{ মিটার (প্রায়) (Ans.)}$$

প্রশ্ন ▶ ৩৯ দুটি মাইলপোস্ট A ও B এর মধ্যবর্তী কোনো স্থানে একটি টাওয়ার অবস্থিত। টাওয়ারের শীর্ষ বিন্দুতে A ও B এর অবনতি কোণ যথাক্রমে 60° ও 45° । 16 মিটার লম্বা একটি পিলার এমনভাবে ভেঙ্গে গেল যে, সম্পূর্ণ বিচ্ছিন্ন না হয়ে ভাঙ্গা অংশ দশায়মান অংশের সাথে 30° কোণ উৎপন্ন করে।

[ইনজিনিয়ারিং ইউনিভারসিটি স্কুল এন্ড কলেজ, ঢাকা □ প্রশ্ন নং ৯]

- ক. বেলনাকার দন্ডের ভূমির ব্যাস 6 সে.মি. ও আয়তন 90π ঘন সে.মি. হলে, এর উচ্চতা নির্ণয় কর। ২
খ. পিলারটির গোড়া হতে কত মিটার দূরে পিলারটির শীর্ষবিন্দু ভূমি স্পর্শ করেছে তা নির্ণয় কর। ৪
গ. A ও B মাইলপোস্ট হতে টাওয়ারের শীর্ষবিন্দুর দূরত্বদ্বয়ের পার্থক্য নির্ণয় কর। ৪

৩৯ নং প্রশ্নের সমাধান

ক দেওয়া আছে,

বেলনাকার দন্ডের ভূমির ব্যাস, D = 6 সে.মি.

$$\therefore \text{ভূমির ব্যাসার্ধ, } r = \frac{6}{2} = 3 \text{ সে.মি.}$$

আয়তন = 90π ঘন সে.মি.

ধরি, উচ্চতা = h

আমরা জানি,

বেলনাকার দন্ডের আয়তন $\pi r^2 h$ ঘন একক

শর্তানুসারে, $\pi r^2 h = 90\pi$

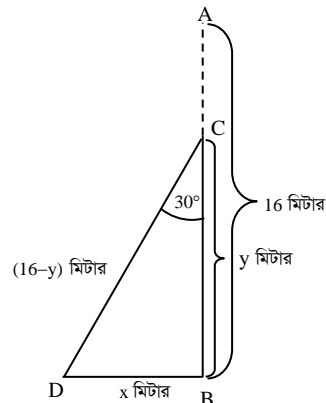
$$\text{বা, } r^2 h = 90$$

$$\text{বা, } h = \frac{90}{r^2}$$

$$\text{বা, } h = \frac{90}{3^2} = \frac{90}{9} = 10$$

\therefore নির্ণেয় উচ্চতা 10 সে.মি. (Ans.)

খ



মনে করি, খুঁটির উচ্চতা, AB = 16 মিটার। খুঁটিটি C বিন্দুতে ভেঙ্গে গিয়ে সম্পূর্ণ বিচ্ছিন্ন না হয়ে D বিন্দুতে ভূমি স্পর্শ করে।

তাহলে, $\angle BCD = 30^\circ$

ধরি, $BC = y$ মি. এবং $BD = x$ মি.

$\therefore CD = AC = (16 - y)$ মি.

এখন, $\triangle BCD$ -এ

$$\cos \angle BCD = \frac{BC}{CD}$$

$$\text{বা, } \cos 30^\circ = \frac{y}{16 - y}$$

$$\text{বা, } \frac{\sqrt{3}}{2} = \frac{y}{16 - y}$$

$$\text{বা, } 2y = 16\sqrt{3} - \sqrt{3}y$$

$$\text{বা, } 2y + \sqrt{3}y = 16\sqrt{3}$$

$$\text{বা, } y(2 + \sqrt{3}) = 16\sqrt{3}$$

$$\text{বা, } y = \frac{16\sqrt{3}}{2 + \sqrt{3}} = 7.426$$

$$\tan \angle BCD = \frac{BD}{BC}$$

$$\text{বা, } \tan 30^\circ = \frac{x}{y}$$

$$\text{বা, } \frac{1}{\sqrt{3}} = \frac{x}{7.426}$$

$$\text{বা, } x = \frac{7.426}{\sqrt{3}}$$

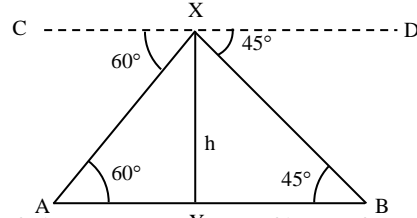
$$= 4.287$$

$\therefore x = 4.287$ (প্রায়)

\therefore খুঁটির গোড়া হতে 4.287 মি. (প্রায়) দূরে খুঁটির শীর্ষবিন্দু ভূমি স্পর্শ করেছে।

Ans: 4.287 মি. (প্রায়)

গ



মনে করি, টাওয়ারের উচ্চতা, $XY = h$ মিটার। X বিন্দুতে মাইল পোস্ট A এবং মাইলপোস্ট B এর অবনতি কোণ যথাক্রমে $\angle AXC = 60^\circ$ এবং $\angle BXD = 45^\circ$ ।

মাইল পোস্টদ্বয়ের মধ্যকার দূরত্ব $AB = 1$ মাইল

$$= 1.61 \text{ কি.মি. (প্রায়)}$$

$$= 1.61 \times 1000 \text{ মি.}$$

$$= 1610 \text{ মি.}$$

ধরি, A মাইল পোস্ট হতে টাওয়ারের পাদবিন্দু Y এর দূরত্ব, $AY = x$ মিটার।

$$\therefore YB = (1610 - x) \text{ মি.}$$

এখানে, $\angle XAY = \angle AXC = 60^\circ$; [একান্তর কোণ বলে]

এবং $\angle XBY = \angle BXD = 45^\circ$; [একান্তর কোণ বলে]

এখন, সমকোণী $\triangle XYA$ হতে পাই,

$$\tan \angle XAY = \frac{XY}{AY}$$

$$\Rightarrow \tan 60^\circ = \frac{h}{x}$$

$$\Rightarrow \sqrt{3} = \frac{h}{x}$$

$$\Rightarrow h = \sqrt{3}x \dots \dots (i)$$

আবার, সমকোণী $\triangle XYB$ হতে পাই,

$$\tan \angle XBY = \frac{XY}{YB}$$

$$\Rightarrow \tan 45^\circ = \frac{h}{(1610 - x)}$$

$$\Rightarrow 1 = \frac{h}{1610 - x}$$

$$\Rightarrow h = 1610 - x$$

$$\Rightarrow h + x = 1610$$

$$\Rightarrow \sqrt{3}x + x = 1610 \text{ [(i) নং হতে মান বসিয়ে]}$$

$$\Rightarrow x(\sqrt{3} + 1) = 1610$$

$$\Rightarrow x = \frac{1610}{\sqrt{3} + 1}$$

$$= 589.30 \text{ (প্রায়)}$$

$\therefore A$ মাইল পোস্ট হতে টাওয়ারের পাদবিন্দুর দূরত্ব 589.30 মিটার (প্রায়)।

এখন, $h = \sqrt{3}x = \sqrt{3} \times 589.30$ মি.

$$= 1020.698 \text{ মি.}$$

$$\cos \angle XAY = \frac{AY}{AX}$$

$$\text{বা, } \cos 60^\circ = \frac{x}{AX}$$

$$\text{বা, } AX = 589.30 \times 2$$

$$\therefore AX = 1178.6 \text{ মি. (প্রায়)}$$

$$\triangle XBY \text{-এ, } \sin \angle XBY = \frac{XY}{BX}$$

$$\text{বা, } BX = \frac{h}{\sin 45^\circ}$$

$$\text{বা, } BX = 1020.698 \times \sqrt{2}$$

$$= 1443.48 \text{ মি. (প্রায়)}$$

$\therefore A$ ও B মাইলপোস্ট হতে টাওয়ারের শীর্ষবিন্দুর দূরত্বদ্বয়ের পার্থক্য

$$= BX - AX$$

$$= 1443.48 - 1178.6$$

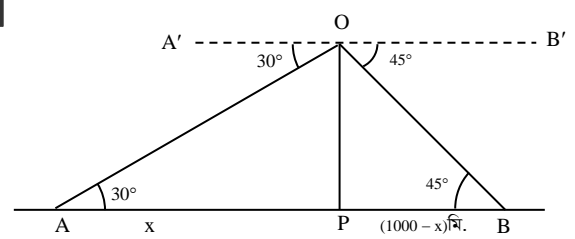
$$= 264.88 \text{ মিটার (Ans.)}$$

প্রশ্ন 80 পরপর দুইটি কিলোমিটার পোস্টের মাঝের উপরস্থ O বিন্দুতে একটি বেলুন উড়ছে। O বিন্দুতে পোস্ট দুইটির অবনতি কোণ যথাক্রমে 45° এবং 30° । [অগ্রণী স্কুল এন্ড কলেজ, ঢাকা □ প্রশ্ন নং ৮]

- ক. চিহ্নসহ চিত্রটি আঁক। ২
 খ. বেলুনের উচ্চতা নির্ণয় কর। ৪
 গ. পোস্ট দুটি থেকে O বিন্দুর দূরত্ব নির্ণয় কর। ৪

৪০ নং প্রশ্নের সমাধান

ক



মনে করি, O বিন্দুতে বেলুনের অবস্থান এবং A ও B এক কিলোমিটার দূরবর্তী দুটি পোস্টের চূড়া। O থেকে A ও B এর অবনতি কোণ যথাক্রমে 30° ও 45° ।

$$\therefore \angle AOA' = 30^\circ \text{ এবং } \angle BOB' = 45^\circ$$

$$\text{এবং } AB = 1 \text{ কিলোমিটার} = 1000 \text{ মিটার}$$

খ

মনে করি, $AP = x$ মিটার,

$$OP = h \text{ মিটার}$$

$$\therefore BP = AB - AP = (1000 - x) \text{ মিটার}$$

$A'O \parallel AP$ এবং OA ছেদক

$$\therefore \angle OAP = \text{একান্তর } \angle A'OA = 30^\circ$$

আবার, $B'O \parallel BP$ এবং OB ছেদক



MMYZ (AveWkAk)

$$\therefore \angle OBP = \text{একান্ত্র } \angle B'OB = 45^\circ$$

এখন, সমকোণী $\triangle OAP$ -এ

$$\tan \angle OAP = \frac{OP}{AP}$$

$$\text{বা, } \tan 30^\circ = \frac{h}{x}$$

$$\text{বা, } \frac{1}{\sqrt{3}} = \frac{h}{x}$$

$$\therefore x = \sqrt{3}h \dots \dots (i)$$

$$\text{আবার, } \tan \angle OBP = \frac{OP}{BP}$$

$$\text{বা, } \tan 45^\circ = \frac{h}{1000 - x}$$

$$\text{বা, } 1 = \frac{h}{1000 - x}$$

$$\text{বা, } h = 1000 - x$$

$$\text{বা, } h = 1000 - \sqrt{3}h \text{ [(i) নং হতে]}$$

$$\text{বা, } h(\sqrt{3} + 1) = 1000$$

$$\text{বা, } h = \frac{1000}{\sqrt{3} + 1}$$

$$\therefore h = 366.03 \text{ মিটার (প্রায়) (Ans.)}$$

গ. এখন, $\triangle OAP$ -তে $\angle OAP = 30^\circ$ এবং $OP = 366.03$ মিটার

$$\therefore A \text{ বিন্দু থেকে বেগুনের সরাসরি দূরত্ব} = OA$$

$\triangle OPA$ থেকে পাই,

$$\frac{OP}{OA} = \sin \angle OAP$$

$$\text{বা, } \frac{OP}{OA} = \sin 30^\circ$$

$$\text{বা, } OA = \frac{OP}{\sin 30^\circ}$$

$$\text{বা, } OA = \frac{366.03}{\frac{1}{2}}$$

$$\therefore OA = 732.06 \text{ মিটার (প্রায়) (Ans.)}$$

$$\text{আবার, } \triangle OBP \text{-এ } \angle OBP = 45^\circ$$

$$\text{এবং } OP = 366.03 \text{ মিটার}$$

$$\therefore B \text{ বিন্দু থেকে বেগুনের দূরত্ব } OB$$

এখন, $\triangle OBP$ -এ

$$\sin \angle OBP = \frac{OP}{OB}$$

$$\text{বা, } OB = \frac{OP}{\sin \angle OBP}$$

$$\text{বা, } OB = \frac{OP}{\sin 45^\circ}$$

$$\text{বা, } OB = \frac{366.03}{\frac{1}{\sqrt{2}}}$$

$$\therefore OB = 517.65 \text{ মিটার (প্রায়) (Ans.)}$$

প্রশ্ন 81. একটি গাছের পাদদেশ থেকে কিছু দূরে কোনো স্থানে গাছটির চূড়ার উন্নতি কোণ 60° । এই স্থান থেকে 10 মিটার পিছিয়ে গেলে উন্নতি কোণ 45° হয়।

[উত্তরা হাই স্কুল এন্ড কলেজ, ঢাকা □ প্রশ্ন নং ৯]

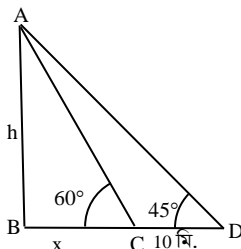
ক. উদ্দীপকের তথ্যগুলো চিত্রের মাধ্যমে প্রকাশ কর। ২

খ. গাছটির উচ্চতা নির্ণয় কর। ৪

গ. উদ্দীপকে উল্লেখিত দ্বিতীয় কোণের জন্য ত্রিকোণমিতিক অনুপাত নির্ণয় কর। ৪

81 নং প্রশ্নের সমাধান

ক



চিত্রে C বিন্দুতে AB গাছের শীর্ষের উন্নতি কোণ $\angle ACB = 60^\circ$ । C হতে 10 মি. পিছনে D বিন্দুতে উন্নতি কোণ $\angle ADB = 45^\circ$ হয়।

খ. মনে করি, গাছের উচ্চতা $AB = h$ মি.

গাছের শীর্ষ বিন্দুর C ও D বিন্দুতে উন্নতি কোণ যথাক্রমে 60° এবং 45° .

এবং $CD = 10$ মি.

ধরি, $BC = x$ মি.

$$\triangle ABC \text{ এ, } \tan 60^\circ = \frac{AB}{BC}$$

$$\text{বা, } \sqrt{3} = \frac{h}{x}$$

$$\text{বা, } x = \frac{h}{\sqrt{3}} \dots \dots (i)$$

$$\text{আবার, } \triangle ABD \text{-এ, } \tan 45^\circ = \frac{AB}{BD}$$

$$\text{বা, } 1 = \frac{h}{BC + CD}$$

$$\text{বা, } 1 = \frac{h}{x + 10}$$

$$\text{বা, } x + 10 = h$$

$$\text{বা, } \frac{h}{\sqrt{3}} + 10 = h$$

$$\text{বা, } h - \frac{h}{\sqrt{3}} = 10$$

$$\text{বা, } h \left(1 - \frac{1}{\sqrt{3}} \right) = 10$$

$$\text{বা, } h \left(\frac{\sqrt{3} - 1}{\sqrt{3}} \right) = 10$$

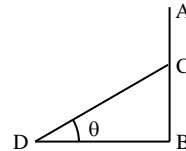
$$\text{বা, } h = \frac{10\sqrt{3}}{\sqrt{3} - 1}$$

$$= 23.66$$

$$\therefore \text{গাছের উচ্চতা} = 23.66 \text{ মি. (প্রায়) (Ans.)}$$

গ. পাঠ্যবইয়ের অনুশীলনী-৯.২ এর '45° কোণের ত্রিকোণমিতিক অনুপাত' অনুচ্ছেদ দ্রষ্টব্য। পৃষ্ঠা-1৮৭

প্রশ্ন 82. চিত্রে AB একটি খুঁটি C বিন্দুতে ভেঙ্গে সম্পূর্ণ বিচ্ছিন্ন না হয়ে ভূমির D বিন্দুতে θ° কোণ উৎপন্ন করে।



◀ সমন্বিত অধ্যায় ৯ ও 1০

[বিন্দুবাসিনী সরকারি বালিকা উচ্চ বিদ্যালয়, টাঙ্গাইল □ প্রশ্ন নং ৭]

ক. দেখাও যে, $\sin 60^\circ + \cos 30^\circ = \tan 60^\circ$ ২

খ. $2 \left(\frac{BD}{CD} \right)^2 + 3 \left(\frac{BC}{CD} \right) - 3 = 0$ হলে, θ এর মান কত? ৪

গ. $BD = 10\sqrt{3}$ মিটার হলে, খুঁটিটির দৈর্ঘ্য নির্ণয় কর। ৪

82 নং প্রশ্নের সমাধান

ক. বামপক্ষ = $\sin 60^\circ + \cos 30^\circ$

$$= \frac{\sqrt{3}}{2} + \frac{\sqrt{3}}{2}$$

$$= 2 \times \frac{\sqrt{3}}{2}$$

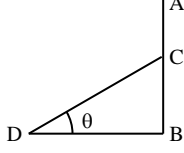
$$= \sqrt{3}$$

= tan 60°
= ডানপক্ষ

∴ sin 60° + cos 30° = tan 60°

দেওয়া আছে, $2\left(\frac{BD}{CD}\right)^2 + 3\left(\frac{BC}{CD}\right) - 3 = 0$

বা, $2\cos^2\theta + 3\sin\theta - 3 = 0$



অতঃপর পাঠ্যবইয়ের অনুশীলনী-৯.২ এর উদাহরণ-১৪(ঘ) দ্রষ্টব্য।
পৃষ্ঠা-১৯৩

গ সূজনশীল চ(গ) নং সমাধান দ্রষ্টব্য।

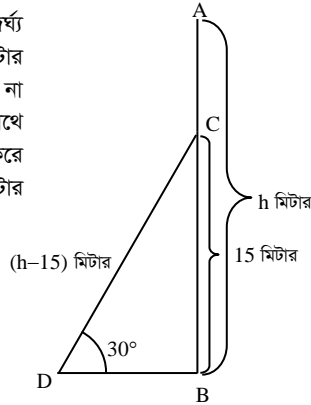
প্রশ্ন ৪৩ একটি গাছ বাড়ে ১৫ মিটার উচ্চতায় ভেঙ্গে গিয়ে সম্পূর্ণ বিচ্ছিন্ন না হয়ে ভূমির সাথে ৩০° কোণ উৎপন্ন করে মাটি স্পর্শ করেছে।

[সফিউদ্দিন সরকার একাডেমী এন্ড কলেজ, গাজীপুর □ প্রশ্ন নং চ]

- ক. সংক্ষিপ্ত বিবরণসহ চিত্রটি আঁক। ২
খ. সম্পূর্ণ গাছটির দৈর্ঘ্য নির্ণয় কর। ৪
গ. ভাঙ্গা অংশ যদি দভায়মান অংশের সাথে ৩০° কোণ উৎপন্ন করত সেক্ষেত্রে ভাঙ্গা অংশের দৈর্ঘ্য নির্ণয় কর। ৪

৪৩ নং প্রশ্নের সমাধান

ক মনে করি, গাছটির সম্পূর্ণ দৈর্ঘ্য AB = h মিটার। BC = ১৫ মিটার উচ্চতায় ভেঙ্গে গিয়ে বিচ্ছিন্ন না হয়ে ভাঙ্গা অংশ ভূমির সাথে ∠BDC = ৩০° কোণ উৎপন্ন করে গাছের গোড়া থেকে BD মিটার দূরে মাটি স্পর্শ করেছে।



ক 'ক' এর চিত্র হতে,
CD = AC = AB - BC = (h - 15) মিটার
এখন, সমকোণী ত্রিভুজ ABC এ

$\sin\angle BDC = \frac{BC}{CD}$

বা, $\sin 30^\circ = \frac{15}{h-15}$

বা, $\frac{1}{2} = \frac{15}{h-15}$ [∵ $\sin 30^\circ = \frac{1}{2}$]

বা, h - 15 = 30

বা, h = 30 + 15

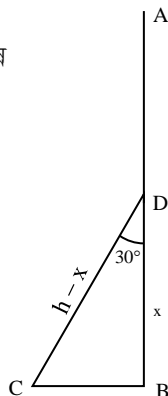
∴ h = 45

∴ গাছটির সম্পূর্ণ দৈর্ঘ্য ৪৫ মিটার (Ans.)

গ মনে করি, AB গাছটি D বিন্দুতে ভেঙ্গে ভাঙ্গা অংশ দভায়মান অংশের সাথে ৩০° কোণ উৎপন্ন করেছে।

ধরি, গাছটি x উচ্চতায় D বিন্দুতে ভেঙ্গেছে এবং ভাঙ্গা অংশ C বিন্দুতে মাটি স্পর্শ করেছে।

∴ BD = x মি. ভাঙ্গা অংশ CD = (h - x) মি.



'খ' হতে পাই, গাছটির দৈর্ঘ্য AB = h = 45 মি.

এখন চিত্র থেকে পাই,

$\cos 30^\circ = \frac{BD}{CD}$

$\Rightarrow \frac{\sqrt{3}}{2} = \frac{x}{h-x}$

$\Rightarrow 2x = \sqrt{3}(45 - x)$ [∵ h = 45]

$\Rightarrow 2x + \sqrt{3}x = 45\sqrt{3}$

$\Rightarrow x(2 + \sqrt{3}) = 45\sqrt{3}$

$\Rightarrow x = \frac{45\sqrt{3}}{2 + \sqrt{3}}$

∴ x = 20.88

∴ ভাঙ্গা অংশের দৈর্ঘ্য CD = h - x

= (45 - 20.88) মি.

= 24.12 মি. (Ans.)

প্রশ্ন ৪৪ একটি গাছ বাড়ে এমনভাবে ভেঙ্গে গেলে যেন ভাঙ্গা অংশ দভায়মান অংশের সাথে ৩০° কোণ উৎপন্ন করে গাছের গোড়া থেকে ৩৫ মিটার দূরে মাটি স্পর্শ করে।

◀ সমন্বিত অধ্যায় ৯ ও ১০

[রাণী বিলাসমণি সরকারি বালক উচ্চ বিদ্যালয়, গাজীপুর □ প্রশ্ন নং চ]

- ক. যদি $\tan\theta = \sqrt{3}$ হয়, তাহলে চিত্রের সাহায্যে $\sin\theta$ এর মান বের কর। ২
খ. গাছের দভায়মান অংশের উচ্চতা বের কর। ৪
গ. সম্পূর্ণ গাছের দৈর্ঘ্য বের কর। ৪

৪৪ নং প্রশ্নের সমাধান

ক দেওয়া আছে, $\tan\theta = \sqrt{3}$

বা, $\frac{AB}{BC} = \frac{\sqrt{3}}{1}$

∴ AB = $\sqrt{3}$, BC = 1

পীথাগোরাসের সূত্রানুসারে,

$AC^2 = AB^2 + BC^2$

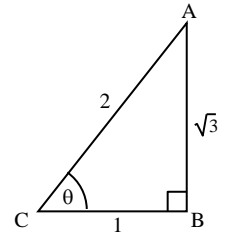
= $(\sqrt{3})^2 + 1^2$

= 3 + 1

= 4

∴ AC = 2

∴ $\sin\theta = \frac{AB}{AC} = \frac{\sqrt{3}}{2}$ (Ans.)



ক মনে করি, গাছের দৈর্ঘ্য AB যা বাড়ে C বিন্দুতে ভেঙ্গে ভাঙ্গা অংশ AC = CD অংশ দভায়মান অংশ BC এর সাথে ∠BCD = ৩০° কোণ উৎপন্ন করে গাছের গোড়া থেকে BD = ৩৫ মি. দূরে D বিন্দুতে ভূমি স্পর্শ করে।

তাহলে, ∠BCD = ৩০°

BD = ৩৫ মিটার

ধরি, দভায়মান অংশের দৈর্ঘ্য = BC = x মি.

সমকোণী ΔBCD থেকে পাই,

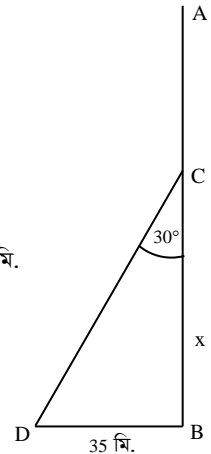
$\tan\angle BCD = \frac{BD}{BC}$

বা, $\tan 30^\circ = \frac{35}{x}$

বা, $\frac{1}{\sqrt{3}} = \frac{35}{x}$

বা, x = 35√3

বা, x = 60.62 মিটার



∴ দশায়মান অংশের দৈর্ঘ্য 60.62 মিটার (প্রায়) (Ans.)

গ. ধরি, সম্পূর্ণ গাছের দৈর্ঘ্য, AB = h মি.

∴ AC = CD = AB - BC = (h - x) মিটার

‘খ’ থেকে পাই,

$$BC = x = 60.62 \text{ মিটার}$$

সমকোণী ত্রিভুজ BCD থেকে পাই,

$$\sin \angle BCD = \frac{BD}{CD}$$

$$\text{বা, } \sin 30^\circ = \frac{35}{h - x}$$

$$\text{বা, } \frac{1}{2} = \frac{35}{h - 60.62}$$

$$\text{বা, } h - 60.62 = 70$$

$$\text{বা, } h = 70 + 60.62$$

$$\text{বা, } h = 130.62$$

∴ সম্পূর্ণ গাছের দৈর্ঘ্য 130.62 মিটার (প্রায়) (Ans.)

প্রশ্ন ▶ ৪৫ একটি দালানের পাদদেশ থেকে 50 মিটার দূরে ভূতলস্থ কোনো বিন্দুতে ছাদের উন্নতি কোণ 60°। ঐ বিন্দু হতে x মিটার পেছনের দিকে গেলে ছাদের উন্নতি কোণ 30° হয়।

[মুকুল নিকেতন উচ্চ বিদ্যালয়, ময়মনসিংহ □ প্রশ্ন নং c]

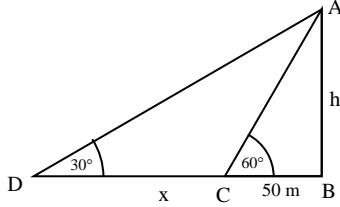
ক. উপরের তথ্যের প্রেক্ষিতে সংক্ষিপ্ত বিবরণ দাও। ২

খ. দালানের উচ্চতা নির্ণয় কর। ৪

গ. পেছনে বিন্দু হতে দালানের শীর্ষ বিন্দুর দূরত্ব নির্ণয় কর। ৪

৪৫ নং প্রশ্নের সমাধান

ক



মনে করি, AB দালানের পাদদেশ B থেকে 50 m দূরে ভূতলস্থ একটি বিন্দু C তে দালানের শীর্ষ A এর উন্নতি কোণ $\angle BCA = 60^\circ$ । C বিন্দু থেকে আরও দূরে x মিটার পিছিয়ে গেলে D বিন্দুতে দালানের উন্নতি কোণ $\angle BDA = 30^\circ$ ।

$$\therefore CD = x$$

ধরি, দালানের উচ্চতা AB = h

ক' এর চিত্র থেকে পাই,

$$\tan \angle BCA = \frac{AB}{BC} = \frac{h}{50}$$

$$\text{বা, } \tan 60^\circ = \frac{h}{50}$$

$$\text{বা, } \sqrt{3} = \frac{h}{50}$$

$$\therefore h = 50\sqrt{3}$$

∴ দালানের উচ্চতা $50\sqrt{3}$ মিটার. (Ans.)

গ. ‘খ’ হতে পাই, AB = h = $50\sqrt{3}$

‘ক’ এর চিত্র হতে পাই,

$$\sin \angle BDA = \frac{AB}{AD}$$

$$\text{বা, } AD = \frac{h}{\sin 30^\circ}$$

$$\text{বা, } AD = \frac{50\sqrt{3}}{\frac{1}{2}}$$

$$\therefore AD = 100\sqrt{3}$$

∴ পেছনের বিন্দু D হতে দালানের শীর্ষবিন্দুর দূরত্ব $AD = 100\sqrt{3}$ m (Ans.)

প্রশ্ন ▶ ৪৬ কোন একটি স্থান থেকে একটি খুঁটির দিকে 0.05 কি.মি. এগিয়ে আসলে খুঁটিটির শীর্ষবিন্দুর উন্নতি কোণ 45° থেকে 60° হয়।

[ময়মনসিংহ জিলা স্কুল, ময়মনসিংহ □ প্রশ্ন নং c]

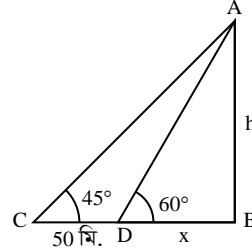
ক. তথ্যানুযায়ী সংক্ষিপ্ত বিবরণসহ আনুপাতিক চিত্র অঙ্কন কর। ২

খ. খুঁটিটির উচ্চতা কত মিটার? ৪

গ. খুঁটিটির শীর্ষবিন্দু থেকে যে বিন্দুগুলোতে উন্নতি কোণ 45° ও 60°, ঐ বিন্দুদ্বয় পর্যন্ত দূরত্বের পার্থক্য নির্ণয় কর। ৪

৪৬ নং প্রশ্নের সমাধান

ক. এখানে, 0.05 কি.মি. = 50 মিটার



মনে করি, খুঁটির উচ্চতা = AB = h মিটার।

C বিন্দুতে শীর্ষের উন্নতি কোণ, $\angle ACB = 45^\circ$ এবং CD = 50 মিটার এগিয়ে গেলে উন্নতি কোণ $\angle ADB = 60^\circ$ হয়।

খ. ধরি, BD = x মিটার।

সমকোণী $\triangle ABD$ থেকে পাই,

$$\tan \angle ADB = \frac{AB}{BD}$$

$$\text{বা, } \tan 60^\circ = \frac{h}{x}$$

$$\text{বা, } \sqrt{3} = \frac{h}{x}$$

$$\therefore x = \frac{h}{\sqrt{3}}$$

আবার, সমকোণী $\triangle ABC$ থেকে পাই,

$$\tan \angle ACB = \frac{AB}{BC}$$

$$\text{বা, } \tan 45^\circ = \frac{h}{x + 50}$$

$$\text{বা, } 1 = \frac{h}{x + 50}$$

$$\text{বা, } h = x + 50$$

$$\text{বা, } h = \frac{h}{\sqrt{3}} + 50 \quad \left[\square x = \frac{h}{\sqrt{3}} \right]$$

$$\text{বা, } h - \frac{h}{\sqrt{3}} = 50$$

$$\text{বা, } h \left(1 - \frac{1}{\sqrt{3}} \right) = 50$$

$$\text{বা, } h \left(\frac{\sqrt{3} - 1}{\sqrt{3}} \right) = 50$$

$$\text{বা, } h = \frac{50 \times \sqrt{3}}{\sqrt{3} - 1}$$

$$\therefore h = 118.301 \text{ মি. (প্রায়)}$$

∴ খুঁটির উচ্চতা = 118.301 মিটার (প্রায়) (Ans.)

গ. ‘খ’ থেকে পাই,

$$h = 118.301 \text{ মিটার}$$

$\triangle ABD$ -এ,

$$\sin 60^\circ = \frac{AB}{AD} = \frac{h}{AD}$$

$$\text{বা, } AD = \frac{h}{\sin 60^\circ}$$

$$\text{বা, } AD = \frac{118.301}{\frac{\sqrt{3}}{2}}$$

∴ AD = 136.60 মি. (প্রায়)

ΔABC-এ,

$$\sin 45^\circ = \frac{AB}{AC} = \frac{h}{AC}$$

$$\text{বা, } AC = \frac{118.301}{\frac{1}{\sqrt{2}}}$$

∴ AC = 167.303 মি. (প্রায়)

$$\begin{aligned} \therefore \text{নির্ণেয় দূরত্বের পার্থক্য} &= AC - AD \\ &= (167.303 - 136.60) \text{ মি.} \\ &= 30.703 \text{ মি. (প্রায়) (Ans.)} \end{aligned}$$

প্রশ্ন ▶ ৪৭ একটি গাছ AB বাড়ে O বিন্দুতে এমনভাবে ভেঙ্গে গেল যে, সম্পূর্ণ বিচ্ছিন্ন না হয়ে গোড়া থেকে $10\sqrt{3}$ মিটার দূরে C বিন্দুতে ভূমির সাথে 30° কোণ উৎপন্ন করে।

◀ সমন্বিত অধ্যায় ৯ ও ১০

[জামালপুর সরকারি বালিকা উচ্চ বিদ্যালয়, জামালপুর □ প্রশ্ন নং ৭]

- ক. $\tan 2C$ এর মান নির্ণয় কর। ২
- খ. দেখাও যে, $\left(\frac{BO}{BC} + \frac{CO}{BC}\right)^2 = \frac{1 + \sin C}{1 - \sin C}$ ৪
- গ. গাছটির সম্পূর্ণ দৈর্ঘ্য নির্ণয় কর। ৪

৪৭ নং প্রশ্নের সমাধান

সৃজনশীল ৮ নং সমাধান দ্রষ্টব্য।

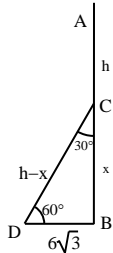
প্রশ্ন ▶ ৪৮ একটি খুঁটি বাড়ে এমনভাবে ভেঙ্গে গেল যে, ভাঙ্গা অংশ গাছের গোড়া থেকে $6\sqrt{3}$ মিটার দূরে ভূমির সাথে 60° কোণ উৎপন্ন করে ভূমি স্পর্শ করে।

[শেরপুর সরকারি ভিক্টোরিয়া একাডেমী, শেরপুর □ প্রশ্ন নং ৮]

- ক. সংক্ষিপ্ত বর্ণনাসহ চিত্র আঁক। ২
- খ. খুঁটিটির সম্পূর্ণ দৈর্ঘ্য নির্ণয় কর। ৪
- গ. খুঁটিটির ভাঙ্গা অংশ দশায়মান অংশের সাথে 60° কোণ উৎপন্ন করলে ভাঙ্গা অংশের দৈর্ঘ্য নির্ণয় কর। ৪

৪৮ নং প্রশ্নের সমাধান

ক মনে করি, খুঁটিটির সম্পূর্ণ দৈর্ঘ্য AB = h মি., খুঁটিটি BC = x মিটার উচ্চতায় ভেঙ্গে গিয়ে বিচ্ছিন্ন না হয়ে ভাঙ্গা অংশ ভূমির সাথে $\angle BDC = 60^\circ$ কোণে খুঁটিটির গোড়া থেকে BD = $6\sqrt{3}$ দূরে মাটিতে স্পর্শ করেছে।



খ সমকোণী ত্রিভুজের কোণদ্বয় পরস্পর পূরক
∴ $\angle BDC + \angle BCD = 90^\circ$
∴ $\angle BCD = 90^\circ - 60^\circ = 30^\circ$
অতঃপর সৃজনশীল ১১(খ) নং সমাধান দ্রষ্টব্য।

গ সৃজনশীল ১১(গ)নং সমাধান দ্রষ্টব্য।
অতঃপর ভাঙ্গা অংশের দৈর্ঘ্য = $38.78 - x$
= $(38.78 - 12.92)$ মিটার
= 25.86 মিটার

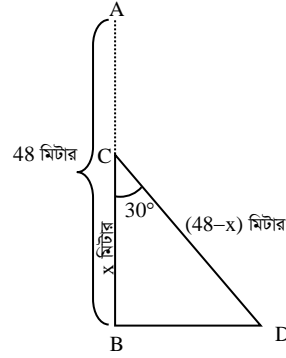
প্রশ্ন ▶ ৪৯ 48 মিটার লম্বা একটি গাছ বাড়ে ভেঙে গিয়ে সম্পূর্ণভাবে বিচ্ছিন্ন না হয়ে, দশায়মান অংশের সাথে 30° কোণ উৎপন্ন করে ভূমি স্পর্শ করল।

[ফরিদপুর জিলা স্কুল, ফরিদপুর □ প্রশ্ন নং ৮]

- ক. উদ্দীপকে উল্লেখিত তথ্যগুলো চিত্রের মাধ্যমে প্রকাশ কর। ২
- খ. গাছটি কত উঁচুতে ভেঙেছিল? ৪
- গ. কত উঁচুতে ভাঙলে গাছটি ভূমির সাথে 45° কোণ উৎপন্ন করত। ৪

৪৯ নং প্রশ্নের সমাধান

ক



মনে করি, AB = 48 মি. দৈর্ঘ্যের গাছটি ভূমি থেকে x মিটার উচ্চতায় C বিন্দুতে ভেঙ্গে সম্পূর্ণভাবে বিচ্ছিন্ন না হয়ে ভাঙ্গা অংশ দশায়মান অংশের সাথে 30° কোণ উৎপন্ন করে ভূমির সাথে D বিন্দুতে মিলিত হয়েছে।

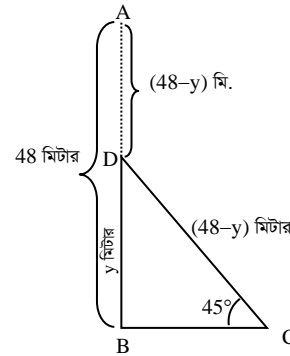
এক্ষেত্রে, $\angle BCD = 30^\circ$
অর্থাৎ BC = x এবং CD = AB - BC = $48 - x$ মি.

খ এখন 'ক' এর চিত্রে ΔBCD-এ

$$\begin{aligned} \cos \angle BCD &= \frac{BC}{CD} \\ \text{বা, } \cos 30^\circ &= \frac{x}{48 - x} \\ \text{বা, } \frac{\sqrt{3}}{2} &= \frac{x}{48 - x} \\ \text{বা, } 2x &= 48\sqrt{3} - \sqrt{3}x \\ \text{বা, } 2x + \sqrt{3}x &= 48\sqrt{3} \\ \text{বা, } (2 + \sqrt{3})x &= 48\sqrt{3} \\ \text{বা, } x &= \frac{48\sqrt{3}}{2 + \sqrt{3}} \\ &= \frac{48\sqrt{3}(2 - \sqrt{3})}{(2 + \sqrt{3})(2 - \sqrt{3})} \\ &= \frac{48\sqrt{3}(2 - \sqrt{3})}{4 - 3} \\ &= 48\sqrt{3}(2 - \sqrt{3}) \\ &= 22.27687753 \\ \therefore x &= 22.28 \text{ মি. (প্রায়)} \end{aligned}$$

∴ গাছটি 22.28 মি. (প্রায়) উচ্চতায় ভেঙেছিল। (Ans.)

গ



ধরি, AB গাছটি y মি. উচ্চতায় D বিন্দুতে ভাঙলে ভূমির সাথে C বিন্দুতে 45° কোণ উৎপন্ন করত।

সেক্ষেত্রে, $\angle BCD = 45^\circ$
এবং BD = y মি.
CD = $48 - y$ মি.



এখন $\triangle ABC$ এ, $\sin 45^\circ = \frac{y}{48-y}$

$$\text{বা, } \frac{1}{\sqrt{2}} = \frac{y}{48-y}$$

$$\text{বা, } \sqrt{2}y = 48 - y$$

$$\text{বা, } \sqrt{2}y + y = 48$$

$$\text{বা, } y(\sqrt{2} + 1) = 48$$

$$\text{বা, } y = \frac{48}{\sqrt{2} + 1}$$

$$= \frac{48(\sqrt{2}-1)}{(\sqrt{2}+1)(\sqrt{2}-1)}$$

$$= \frac{48(\sqrt{2}-1)}{2-1}$$

$$= 48(\sqrt{2}-1)$$

$$= 19.88225099$$

$$\therefore y = 19.88 \text{ মি. (প্রায়)}$$

\therefore গাছটি 19.88 মি. (প্রায়) উচ্চতায় ভাসলে ভূমির সাথে 45° কোণ উৎপন্ন করত। (Ans.)

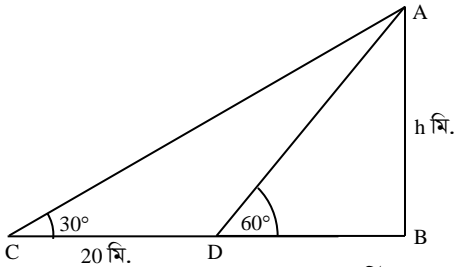
প্রশ্ন ▶ ৫০ একটি খুঁটির পাদবিন্দু থেকে কিছু দূরে ভূতলস্থ একটি বিন্দুতে খুঁটির শীর্ষের উন্নতি কোণ 30° । ঐ বিন্দু থেকে খুঁটির দিকে 20 মিটার এগিয়ে আসলে খুঁটির শীর্ষের উন্নতি কোণ 60° হয়।

[রাজশাহী সরকারি বালিকা উচ্চ বিদ্যালয়, হেলেনাবাদ, রাজশাহী □ প্রশ্ন নং c]

- ক. সংক্ষিপ্ত বর্ণনাসহ চিত্র অঙ্কন কর। ২
খ. খুঁটির উচ্চতা নির্ণয় কর। ৪
গ. সূর্যের উন্নতি কোণ কত হলে খুঁটির ছায়ার দৈর্ঘ্য 40 মিটার হবে তা নির্ণয় কর। ৪

৫০ নং প্রশ্নের সমাধান

ক চিত্রে, AB একটি খুঁটি যার শীর্ষবিন্দু A, পাদবিন্দু B, ভূতলস্থ একটি বিন্দু C তে খুঁটির শীর্ষের উন্নতি কোণ 30° এবং খুঁটির দিকে 20 মিটার এগিয়ে আসলে D বিন্দুতে উন্নতি কোণ হয় 60° .



খ এখানে, $\angle ACB = 30^\circ$, $\angle ADB = 60^\circ$, $CD = 20$ মিটার

$$\therefore BC = BD + CD = BD + 20 \text{ মি.}$$

ধরি, খুঁটির উচ্চতা $AB = h$ মিটার

এখন, $\triangle ABD$ সমকোণী ত্রিভুজ হতে পাই,

$$\tan \angle ADB = \frac{AB}{BD}$$

$$\text{বা, } \tan 60^\circ = \frac{h}{BD}$$

$$\text{বা, } \sqrt{3} = \frac{h}{BD}$$

$$\therefore h = BD \cdot \sqrt{3}$$

$$BD = \frac{h}{\sqrt{3}}$$

আবার, $\triangle ABC$ সমকোণী ত্রিভুজ হতে পাই,

$$\tan \angle ACB = \frac{AB}{BC}$$

$$\text{বা, } \tan 30^\circ = \frac{h}{BD + 20}$$

$$\text{বা, } \frac{1}{\sqrt{3}} = \frac{h}{BD + 20}$$

$$\text{বা, } BD + 20 = h\sqrt{3} \text{ [আড় গুণ করে]}$$

$$\text{বা, } \frac{h}{\sqrt{3}} + 20 = h\sqrt{3} \quad \left[\square BD = \frac{h}{\sqrt{3}} \right]$$

$$\text{বা, } \frac{h + 20\sqrt{3}}{\sqrt{3}} = h\sqrt{3}$$

$$\text{বা, } h + 20\sqrt{3} = 3h \text{ [পুনরায় আড়গুণ করে]}$$

$$\text{বা, } 2h = 20\sqrt{3}$$

$$\text{বা, } h = \frac{20\sqrt{3}}{2}$$

$$\text{বা, } h = 10\sqrt{3}$$

$$\therefore h = 17.32 \text{ মিটার (প্রায়)}$$

$$\therefore \text{খুঁটির উচ্চতা } 17.32 \text{ মিটার (প্রায়) (Ans.)}$$

গ

মনে করি,

সূর্যের উন্নতি কোণ θ

$$\therefore \text{ছায়ার দৈর্ঘ্য } BF = 40 \text{ মিটার}$$

'খ' হতে পাই,

$$\text{খুঁটির উচ্চতা, } AB = 10\sqrt{3} \text{ মি.}$$

$\triangle AFB$ এ,

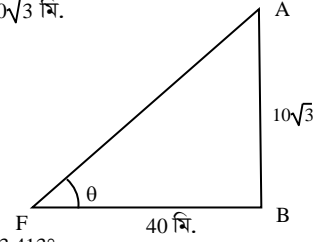
$$\tan \angle AFB = \frac{AB}{FB}$$

$$\text{বা, } \tan \theta = \frac{10\sqrt{3}}{40}$$

$$\text{বা, } \tan \theta = \frac{\sqrt{3}}{4}$$

$$\therefore \theta = \tan^{-1} \left(\frac{\sqrt{3}}{4} \right) = 23.413^\circ$$

$$\therefore \text{সূর্যের উন্নতির কোণ } 23.413^\circ \text{ হলে ছায়ার দৈর্ঘ্য } 40 \text{ মিটার হবে। (Ans.)}$$



প্রশ্ন ▶ ৫১

12 মিটার উচ্চতা বিশিষ্ট একটি গাছের ছায়ার দৈর্ঘ্য $4\sqrt{3}$ মিটার।

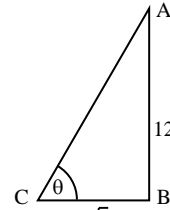
◀ সমন্বিত অধ্যায় ৯ ও ১০

[রাজশাহী কলেজিয়েট স্কুল, রাজশাহী □ প্রশ্ন নং ৭]

- ক. গাছটির শীর্ষবিন্দুর উন্নতি কোণ নির্ণয় কর। ২
খ. গাছটির শীর্ষবিন্দুর উন্নতি কোণ কত হ্রাস পেলে ছায়ার দৈর্ঘ্য $8\sqrt{3}$ মিটার বৃদ্ধি পাবে? ৪
গ. জ্যামিতিক পদ্ধতিতে প্রমাণ কর যে, $\tan 60^\circ = \sqrt{3}$ ৪

৫১ নং প্রশ্নের সমাধান

ক ধরি, ছায়ার মাথা C বিন্দু থেকে গাছটির উন্নতি কোণ $= \theta$.



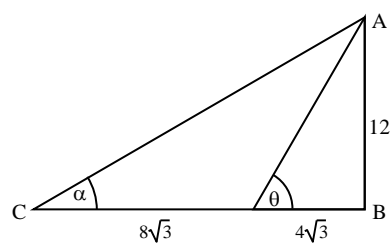
$$\text{চিত্র থেকে পাই, } \tan \theta = \frac{4\sqrt{3}}{12} = \frac{\sqrt{3}}{3}$$

$$\Rightarrow \tan \theta = \tan 60^\circ$$

$$\therefore \theta = 60^\circ \text{ (Ans.)}$$

খ

ছায়ার দৈর্ঘ্য $8\sqrt{3}$ মিটার বৃদ্ধি পেলে ছায়ার মোট দৈর্ঘ্য $= 8\sqrt{3} + 4\sqrt{3}$



$$\text{চিত্র থেকে পাই, } \tan \alpha = \frac{12}{12\sqrt{3}} = \frac{1}{\sqrt{3}}$$

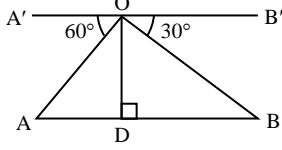
$$\Rightarrow \tan \alpha = \tan 30^\circ$$

$$\therefore \alpha = 30^\circ$$

উন্নতি কোণের মান $(\theta - \alpha) = (60^\circ - 30^\circ) = 30^\circ$ হ্রাস পেলে ছায়ার দৈর্ঘ্য $8\sqrt{3}$ মিটার বাড়বে। (Ans.)

গ পাঠ্য বইয়ের অনুশীলনী-৯.২ এর “ 30° ও 60° কোণের ত্রিকোণমিতিক অনুপাত” অনুচ্ছেদ দ্রষ্টব্য। পৃষ্ঠা-১৮৬।

প্রশ্ন ▶ ৫২



A ও B দুইটি কিলোমিটার পোষ্ট। O বিন্দু থেকে A ও B পোষ্ট দুটির অবনতি কোণ যথাক্রমে 60° ও 30° । $OD \perp AB$

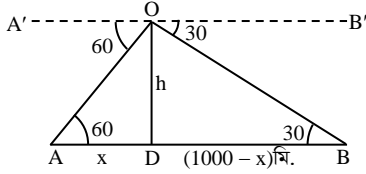
[শহীদ মামুন মাহমুদ পুলিশ লাইনস স্কুল এন্ড কলেজ, রাজশাহী □ প্রশ্ন নং ৮]

- ক. $\angle OAD + \angle ODA =$ কত ডিগ্রি? ২
 খ. OD এর দৈর্ঘ্য নির্ণয় কর। ৪
 গ. ΔABO এর পরিসীমা নির্ণয় কর। ৪

৫২ নং প্রশ্নের সমাধান

ক যেহেতু $\angle AOA'$ ও $\angle OAD$ একান্তর্জ কোণ
 $\therefore \angle OAD = \angle AOA' = 60^\circ$
 এবং যেহেতু $OD \perp AB \therefore \angle ADO = 90^\circ$
 $\therefore \angle OAD + \angle ADO = 60^\circ + 90^\circ = 150^\circ$ (Ans.)

খ



মনে করি, $AD = x$ মিটার, উচ্চতা, $OD = h$ মিটার

$\therefore BD = AB - AD = (1000 - x)$ মিটার

$A'O \parallel AD$ এবং OA হেদক

$\therefore \angle OAD =$ একান্তর্জ $\angle A'OA = 60^\circ$

আবার, $B'O \parallel BD$ এবং OB হেদক

$\therefore \angle OBD =$ একান্তর্জ $\angle B'OB = 30^\circ$

এখন, সমকোণী ΔOAD -এ $\tan \angle OAD = \frac{OD}{AD}$

বা, $\tan 60^\circ = \frac{h}{x}$

বা, $\sqrt{3} = \frac{h}{x}$

$\therefore h = \sqrt{3}x \dots \dots \dots$ (i)

আবার, $\tan \angle OBD = \frac{OD}{BD}$

বা, $\tan 30^\circ = \frac{h}{1000 - x}$

বা, $\frac{1}{\sqrt{3}} = \frac{h}{1000 - x}$

বা, $1000 - x = \sqrt{3}h$

বা, $1000 - x = \sqrt{3} \cdot \sqrt{3}x$ [(i) নং সমীকরণ থেকে]

বা, $1000 - x = 3x$

বা, $3x + x = 1000$

বা, $4x = 1000$

$\therefore x = 250$ মিটার

সুতরাং, $h = \sqrt{3} \times 250 = 250\sqrt{3}$ মিটার
 $= 433.013$ মিটার (প্রায়)

\therefore উচ্চতা, $OD = 433.013$ মিটার (প্রায়) (Ans.)

গ এখন, ΔOAD -এ $\angle OAD = 60^\circ$ এবং

$OD = h = 250\sqrt{3}$ [‘খ’ হতে]

সমকোণী ΔOAD -এ

$\sin \angle OAD = \frac{OD}{AO}$

বা, $\sin 60^\circ = \frac{250\sqrt{3}}{AO}$

বা, $\frac{\sqrt{3}}{2} = \frac{250\sqrt{3}}{AO}$

বা, $AO = \frac{250\sqrt{3} \times 2}{\sqrt{3}}$

$\therefore AO = 500$ মিটার (Ans.)

এবং ΔOBD -এ $\angle OBD = 30^\circ$

সমকোণী ΔOBD -এ

$\sin \angle OBD = \frac{OD}{BO}$

বা, $\sin 30^\circ = \frac{250\sqrt{3}}{BO}$

বা, $\frac{1}{2} = \frac{250\sqrt{3}}{BO}$

বা, $BO = 250\sqrt{3} \times 2$

$\therefore BO = 500\sqrt{3} = 866.026$ মিটার (প্রায়)

$\therefore AO = 500$ মিটার এবং $BO = 866.026$ মিটার (প্রায়)

$\therefore \Delta ABC$ এর পরিসীমা $= OA + OB + AB$
 $= 500 + 500\sqrt{3} + 1000$
 $= 2366.025$ মিটার (Ans.)

প্রশ্ন ▶ ৫৩ ৪৪ মিটার লম্বা একটি গাছ বাড়ে ভেঙ্গে গিয়ে সম্পূর্ণভাবে বিচ্ছিন্ন না হয়ে দভায়মান অংশের সাথে 30° কোণ উৎপন্ন করে ভূমি স্পর্শ করল।

[নওগাঁ কে.ডি. সরকারি উচ্চ বিদ্যালয়, নওগাঁ □ প্রশ্ন নং ৮]

- ক. চিত্রে তথ্যগুলো বর্ণনা কর। ২
 খ. গাছটি কত উঁচুতে ভেঙ্গেছিল। ৪
 গ. গাছটি কত উঁচুতে ভাঙলে ভাঙা অংশটি ভূমির সাথে 45° কোণ উৎপন্ন করতো? ৪

৫৩ নং প্রশ্নের সমাধান

সৃজনশীল ৪৯ নং সমাধান দ্রষ্টব্য।

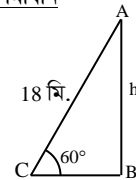
প্রশ্ন ▶ ৫৪ ১৪ মিটার দীর্ঘ একটি মই একটি দেয়ালের ছাদ বরাবর ঠেস দিয়ে রাখা আছে। এ অবস্থায় মইটি ভূমির সাথে 60° কোণ উৎপন্ন করেছে।

[বগুড়া জিলা স্কুল, বগুড়া □ প্রশ্ন নং ৮]

- ক. সংক্ষিপ্ত বর্ণনাসহ উদ্দীপকের তথ্যটির আনুপাতিক চিত্র আঁক। ২
 খ. উদ্দীপকের দেয়ালটি কত উঁচু ছিল তা নির্ণয় কর। ৪
 গ. মইটিকে দেয়ালে ঠেস দিয়ে রাখা অবস্থায় ভূমি বরাবর পূর্বের অবস্থান থেকে কত দূর সরিয়ে নিলে মইটি ভূমির সাথে 30° কোণ উৎপন্ন করবে? ৪

৫৪ নং প্রশ্নের সমাধান

ক মনে করি, দেয়ালের উচ্চতা $AB = h$ মিটার, মইটির দৈর্ঘ্য $AC = 18$ মিটার এবং মইটি ভূমির সাথে $\angle ACB = 60^\circ$ উৎপন্ন করে।



খ ΔABC থেকে পাই,

$\sin \angle ACB = \frac{AB}{AC}$

বা, $\sin 60^\circ = \frac{h}{18}$

বা, $\frac{\sqrt{3}}{2} = \frac{h}{18}$

বা, $2h = 18\sqrt{3}$

বা, $h = \frac{18\sqrt{3}}{2}$



বা, $h = 9\sqrt{3}$

∴ $h = 15.59$ মিটার

∴ দেওয়ালের উচ্চতা 15.59 মিটার (প্রায়) (Ans.)

গ

‘খ’ হতে পাই, $AB = 9\sqrt{3}$ মিটার
ধরি, মইটিকে পূর্বের অবস্থান থেকে x মিটার ভূমি
বরাবর সরানো হয়।

এখন, $AC = DE = 18$ মিটার

এবং $BE = BC + x$

এখানে, $BC^2 + AB^2 = AC^2$

বা, $BC^2 = AC^2 - AB^2$

বা, $BC^2 = (18)^2 - (9\sqrt{3})^2$

বা, $BC^2 = 81$

∴ $BC = 9$

∴ $BE = 9 + x$

তাহলে, $\cos 30^\circ = \frac{9+x}{18}$

বা, $\frac{\sqrt{3}}{2} = \frac{9+x}{18}$

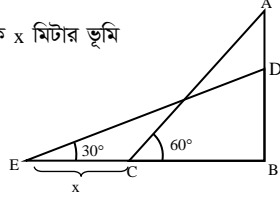
বা, $18 + 2x = 18\sqrt{3}$

বা, $2x = 18\sqrt{3} - 18$

বা, $x = \frac{18\sqrt{3} - 18}{2}$

∴ $x = 6.59$

অর্থাৎ, মইটিকে পূর্বের অবস্থান থেকে ভূমি বরাবর আরও 6.59 মিটার
সরাতে হবে। (Ans.)



প্রশ্ন ▶ ৫৫ 60 মিটার লম্বা একটি গাছ ভেঙে গিয়ে সম্পূর্ণ বিচ্ছিন্ন না হয়ে
দশায়মান অংশের সাথে 60° কোণ উৎপন্ন করে ভূমি স্পর্শ করলো।

[দিনাজপুর জিলা স্কুল, দিনাজপুর □ প্রশ্ন নং ৯]

ক. কোনো মিনারের দৈর্ঘ্য 17 মিটার ও উন্নতি কোণ 30° হলে মিনারের
ছায়ার দৈর্ঘ্য নির্ণয় কর। ২

খ. গাছটির ভাঙা অংশের দৈর্ঘ্য নির্ণয় কর। ৪

গ. গাছটির ভাঙা অংশ ভূমির সাথে 45° কোণ উৎপন্ন করলে দশায়মান
অংশের দৈর্ঘ্য নির্ণয় কর। ৪

৫৫ নং প্রশ্নের সমাধান

সৃজনশীল ৬ নং সমাধান দ্রষ্টব্য।

প্রশ্ন ▶ ৫৬ একটি বাড়ীর সামনে 150 মিটার লম্বা টাওয়ারের শীর্ষ বিন্দুতে
বাড়ীর ছাদের ও পাদদেশের অবনতি কোণ যথাক্রমে 30° ও 60° ।

[রংপুর সরকারি বালিকা উচ্চ বিদ্যালয়, রংপুর □ প্রশ্ন নং ৮]

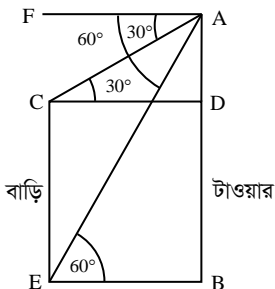
ক. উপাত্তটি চিত্রের মাধ্যমে প্রকাশ কর। ২

খ. বাড়ী ও টাওয়ারের মধ্যবর্তী দূরত্ব নির্ণয় কর। ৪

গ. বাড়ীর উচ্চতা নির্ণয় কর। ৪

৫৬ নং প্রশ্নের সমাধান

ক



খ মনে করি, $CD = x =$ বাড়ির ছাদ হতে টাওয়ারের দূরত্ব। চিত্রানুসারে
 $BE = CD = x$ । টাওয়ারের উচ্চতা, $AB = 150$ মিটার।

আবার, ধরি, $AD = h$

∴ $BD = 150 - h$

এখানে, $FA \parallel CD$ এবং AC ছেদক।

∴ $\angle ACD =$ একান্তর্জ $\angle FAC = 30^\circ$

আবার, $FA \parallel BE$ এবং AE ছেদক

∴ $\angle AEB =$ একান্তর্জ $\angle FAE = 60^\circ$

আবার, সমকোণী ত্রিভুজ ABE এ

$$\tan \angle AEB = \frac{AB}{BE}$$

বা, $\tan 60^\circ = \frac{150}{x}$

বা, $\sqrt{3} = \frac{150}{x}$

বা, $x = \frac{150}{\sqrt{3}} = 50\sqrt{3}$

∴ $x = 86.602$

∴ বাড়ী ও টাওয়ারের মধ্যবর্তী দূরত্ব = 86.602 মিটার (প্রায়)

গ

সমকোণী ত্রিভুজ ACD হতে $\tan \angle ACD = \frac{AD}{CD}$

বা, $\tan 30^\circ = \frac{h}{x}$

বা, $\frac{1}{\sqrt{3}} = \frac{h}{x}$

বা, $h = \frac{x}{\sqrt{3}}$

বা, $h = \frac{50\sqrt{3}}{\sqrt{3}}$

বা, $h = 50$

∴ বাড়ির উচ্চতা, $BD = 150 - 50$ মিটার = 100 মিটার। (Ans.)

প্রশ্ন ▶ ৫৭

একটি বৈদ্যুতিক খুঁটির পাদবিন্দু থেকে কিছু দূরে ভূতলস্থ একটি
বিন্দুতে খুঁটির শীর্ষের উন্নতি কোণ 30° । ঐ বিন্দু থেকে খুঁটির দিকে 15
মিটার এগিয়ে আসলে খুঁটির উন্নতি কোণ 45° হয়।

[পুলিশ লাইস স্কুল এন্ড কলেজ, রংপুর □ প্রশ্ন নং ৯]

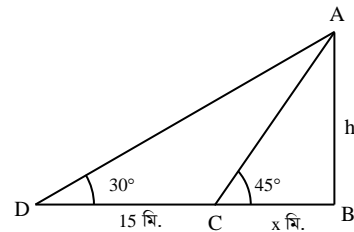
ক. তথ্যানুযায়ী চিত্র আঁক। ২

খ. খুঁটির উচ্চতা নির্ণয় কর। ৪

গ. খুঁটির শীর্ষবিন্দু ও ভূতলস্থ প্রথম বিন্দুটির দূরত্ব নির্ণয় কর। ৪

৫৭ নং প্রশ্নের সমাধান

ক



চিত্রে, বৈদ্যুতিক খুঁটির উচ্চতা $AB = h$ মি., D বিন্দুতে শীর্ষ A এর
উন্নতি কোণ $\angle ADB$ এবং D হতে 15 মিটার এগিয়ে C বিন্দুতে
পৌছালে উন্নতি কোণ $\angle ACB$ ।

∴ $\angle ADB = 30^\circ$, $\angle ACB = 45^\circ$ এবং $CD = 15$ মি.

খ

$\triangle ABC$ এ, $\tan 45^\circ = \frac{AB}{BC}$

বা, $1 = \frac{h}{x}$

∴ $h = x \dots \dots \dots$ (i)

$\triangle ADB$ এ, $\tan 30^\circ = \frac{AB}{BD}$

বা, $\frac{1}{\sqrt{3}} = \frac{h}{15+x}$

বা, $\sqrt{3}h = 15+h$

বা, $\sqrt{3}h - h = 15$

বা, $h = \frac{15}{\sqrt{3}-1}$

∴ $h = 20.490$ মি. (প্রায়) (Ans.)

গ 'খ' হতে পাই,

$AB = BC = 20.490$ মিটার [□ $h = x$]

∴ $BD = BC + CD = (20.490 + 15)$ মিটার
 $= 35.490$ মিটার

এখন, $\triangle ADB$ হতে পাই,

$AD^2 = AB^2 + BD^2$

∴ $AD = \sqrt{AB^2 + BD^2}$
 $= \sqrt{(20.490)^2 + (35.490)^2}$
 $= 40.98$ মিটার

∴ খুঁটিটির শীর্ষবিন্দু ও ভূতলস্থ প্রথম বিন্দুটির দূরত্ব,
 $AD = 40.98$ মিটার। (Ans.)

প্রশ্ন ▶ ৫৮ একটি গাছ বাড়ে এমনভাবে ভেঙ্গে গেল যেন ভাঙ্গা অংশ দণ্ডায়মান অংশের সাথে 30° কোণে উৎপন্ন করে গাছের গোড়া থেকে 20 মিটার দূরে মাটি স্পর্শ করে।

[ক্যান্টনমেন্ট পাবলিক স্কুল এ্যান্ড কলেজ, সৈয়দপুর, নীলফামারী □ প্রশ্ন নং ৮]

- ক. $\sin^2 60^\circ - \cos^2 60^\circ$ এর মান বের কর। ২
 খ. গাছটি কত মিটার উচ্চতায় ভেঙ্গেছিল তা বের কর। ৪
 গ. সম্পূর্ণ গাছটির দৈর্ঘ্য নির্ণয় কর। ৪

৫৮ নং প্রশ্নের সমাধান

ক $\sin^2 60^\circ - \cos^2 60^\circ$
 $= (\sin 60^\circ)^2 - (\cos 60^\circ)^2$
 $= \left(\frac{\sqrt{3}}{2}\right)^2 - \left(\frac{1}{2}\right)^2$
 $= \frac{3}{4} - \frac{1}{4}$
 $= \frac{3-1}{4}$
 $= \frac{2}{4}$
 $= \frac{1}{2}$ (Ans.)

খ সৃজনশীল ৯(ক + খ)নং সমাধান দ্রষ্টব্য।

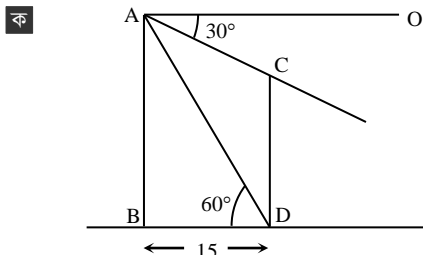
গ সৃজনশীল ৯(গ)নং সমাধান দ্রষ্টব্য।

প্রশ্ন ▶ ৫৯ ভূমিতে পরস্পর 15 মিটার দূরে খাঁড়াভাবে দণ্ডায়মান একটি সুপারি গাছের শীর্ষ হতে একটি লিচু গাছের শীর্ষের অবনতি কোণ 30° এবং লিচু গাছের গোড়া হতে সুপারি গাছের শীর্ষের উন্নতি কোণ 60° । যেখানে সুপারি গাছ লিচু গাছ অপেক্ষা বড়।

[সৈয়দপুর সরকারি কারিগরী কলেজ, নীলফামারী □ প্রশ্ন নং ৮]

- ক. উদ্দীপকের তথ্য অনুসারে একটি চিহ্নিত চিত্র আঁক। ২
 খ. লিচু গাছের গোড়া হতে সুপারি গাছের শীর্ষ পর্যন্ত সরাসরি দূরত্ব নির্ণয় কর। ৪
 গ. সুপারি গাছের উচ্চতা নির্ণয় কর। ৪

৫৯ নং প্রশ্নের সমাধান



চিত্রে AB ও CD যথাক্রমে একটি সুপারি গাছ ও লিচু গাছ।

ক চিত্র থেকে পাই,

$\angle ADB = 60^\circ$

এবং $BD = 15$ মিটার

$\triangle ABD$ -এ

$\cos \angle ADB = \frac{BD}{AD}$

বা, $\cos 60^\circ = \frac{15}{AD}$

বা, $AD = \frac{15}{0.5}$

∴ $AD = 30$

∴ লিচু গাছের গোড়া থেকে সুপারি গাছের শীর্ষ পর্যন্ত সরাসরি দূরত্ব 30 মিটার। (Ans.)

গ $\triangle ABD$ -এ

$\tan \angle ADB = \frac{AB}{BD}$

বা, $AB = BD \times \tan 60^\circ$

বা, $AB = 15 \times \sqrt{3}$

বা, $AB = 15\sqrt{3}$

∴ $AB = 25.981$ (প্রায়)

∴ সুপারি গাছের উচ্চতা 25.981 মিটার (প্রায়) (Ans.)

প্রশ্ন ▶ ৬০ একটি টাওয়ারের ছায়ার দৈর্ঘ্য 32 মিটার বৃদ্ধি পায় যদি সূর্যের উন্নতি কোণ 60° থেকে 45° হয়।

[কুমিল্লা জিলা স্কুল, কুমিল্লা □ প্রশ্ন নং ৮]

- ক. যদি $\theta = 45^\circ$ হয় তবে দেখাও যে, $\sin 2\theta = \frac{2 \tan \theta}{1 + \tan^2 \theta}$ ২
 খ. টাওয়ারের উচ্চতা নির্ণয় কর। ৪
 গ. যদি টাওয়ারের উচ্চতা 50 মিটার হয়, তবে ছায়ার দৈর্ঘ্য কতটুকু বৃদ্ধি পেলে সূর্যের উন্নতি কোণ 60° থেকে 30° হয়। ৪

৬০ নং প্রশ্নের সমাধান

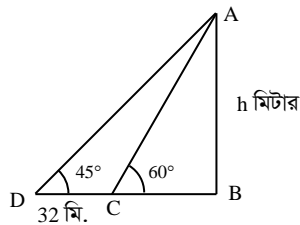
ক দেওয়া আছে $\theta = 45^\circ$

বামপক্ষ $= \sin 2\theta = \sin (2 \times 45^\circ)$
 $= \sin 90^\circ = 1$

ডানপক্ষ $= \frac{2 \tan \theta}{1 + \tan^2 \theta} = \frac{2 \tan 45^\circ}{1 + (\tan 45^\circ)^2}$
 $= \frac{2 \times 1}{1 + 1^2} = \frac{2}{2} = 1$

∴ $\sin 2\theta = \frac{2 \tan \theta}{1 + \tan^2 \theta}$ (দেখানো হলো)

খ



মনে করি, টাওয়ারের উচ্চতা $AB = h$ মিটার।

SSC গণিত দুরত্ব সীমিতকরণ ১৯৮৫ এর উন্নতি কোণ $\angle ACB = 60^\circ$ । তারপর টাওয়ারের ছায়ার দৈর্ঘ্য $CD = 32$ মি. বাড়লে D বিন্দুতে উন্নতি কোণ $\angle ADB = 45^\circ$ হয়।

ধরি, $BC = x$ মি.

সমকোণী $\triangle ABC$ থেকে পাই,

$\tan 60^\circ = \frac{AB}{BC}$

বা, $\sqrt{3} = \frac{h}{x}$

∴ $x = \frac{h}{\sqrt{3}}$ (i)

আবার, $\triangle ABD$ থেকে পাই,



$$\tan 45^\circ = \frac{AB}{BD}$$

$$\text{বা, } 1 = \frac{h}{BC + CD}$$

$$\text{বা, } h = x + 32$$

$$\text{বা, } h - x = 32$$

$$\text{বা, } h - \frac{h}{\sqrt{3}} = 32 \quad \left[\square x = \frac{h}{\sqrt{3}} \right]$$

$$\text{বা, } \sqrt{3}h - h = 32\sqrt{3}$$

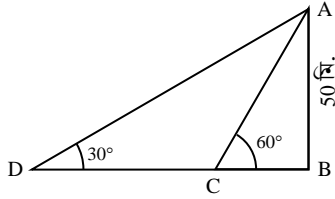
$$\text{বা, } h(\sqrt{3} - 1) = 32\sqrt{3}$$

$$\text{বা, } h = \frac{32\sqrt{3}}{\sqrt{3} - 1}$$

$$\therefore h = 75.713 \text{ মি. (প্রায়)}$$

$$\therefore \text{টাওয়ারের উচ্চতা } 75.713 \text{ মি. (প্রায়) (Ans.)}$$

গ



মনে করি, AB টাওয়ারের উচ্চতা 50 মিটার। টাওয়ারটির ছায়া C বিন্দুতে ভূমির সাথে 60° কোণ উৎপন্ন করে এবং CD পরিমাণ বৃদ্ধি পেলে D বিন্দুতে ভূমির সাথে 30° কোণ উৎপন্ন করে।

$\triangle ABC$ -এ,

$$\tan \angle ACB = \frac{AB}{BC}$$

$$\text{বা, } \tan 60^\circ = \frac{50}{BC}$$

$$\text{বা, } \sqrt{3} = \frac{50}{BC}$$

$$\therefore BC = \frac{50}{\sqrt{3}}$$

আবার, $\triangle ADB$ এ,

$$\tan \angle ADB = \frac{AB}{BD}$$

$$\text{বা, } \tan 30^\circ = \frac{50}{BD}$$

$$\text{বা, } \frac{1}{\sqrt{3}} = \frac{50}{BC + CD}$$

$$\text{বা, } BC + CD = 50\sqrt{3}$$

$$\therefore CD = 50\sqrt{3} - BC$$

$$= 50\sqrt{3} - \frac{50}{\sqrt{3}}$$

$$= \frac{150 - 50}{\sqrt{3}} = \frac{100}{\sqrt{3}} = 57.735 \text{ (প্রায়)}$$

\therefore ছায়ার দৈর্ঘ্য 57.735 (প্রায়) মিটার বৃদ্ধি পেলে উন্নতি কোণ 30° হয়। (Ans.)

প্রশ্ন ৬১ ভূমিতে খাড়াভাবে দৃশ্যমান কোনো গাছের শীর্ষবিন্দুতে ঐ বিন্দু থেকে $68\sqrt{3}$ মিটার দূরে ভূতলস্থ একটি বিন্দুর অবনতি কোণ 60° ডিগ্রি।

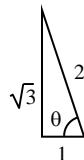
◀সম্বিত অধ্যায় ৯ ও ১০

[গভঃ ল্যাবরেটরী হাই স্কুল, কুমিল্পা □ প্রশ্ন নং ৮]

- ক. যদি $\tan \theta = \sqrt{3}$ হয় চিত্রের মাধ্যমে $\sin \theta$ এর মান বের কর। ২
 খ. গাছটির উচ্চতা কত ছিল? ৪
 গ. যদি ঐ গাছটি বাড়ে ভূমি থেকে x মিটার উঁচুতে ভেঙ্গে গিয়ে দৃশ্যমান অংশের সাথে 30° ডিগ্রি কোণ করে মাটি স্পর্শ করে তাহলে x এর মান কত? ৪

৬১ নং প্রশ্নের সমাধান

ক দেওয়া আছে, $\tan \theta = \sqrt{3}$



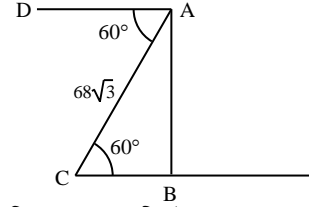
$$\text{আমরা জানি, } \tan \theta = \frac{\text{লম্ব}}{\text{ভূমি}}$$

$$\text{অর্থাৎ এখানে, লম্ব} = \sqrt{3}, \text{ ভূমি} = 1$$

$$\therefore \text{অতিভুজ} = \sqrt{(\sqrt{3})^2 + 1^2} = 2$$

$$\therefore \sin \theta = \frac{\sqrt{3}}{2} \text{ (Ans.)}$$

খ



মনে করি, AB হল গাছটির উচ্চতা যেখানে গাছের শীর্ষ A হতে $68\sqrt{3}$ মিটার দূরে ভূতলস্থ C বিন্দুর অবনতি কোণ $\angle CAD = 60^\circ$ । আবার, $AD \parallel BC$ এবং AC ছেদক বলে, $\angle CAD = \angle ACB = 60^\circ$ ।

এখন, সমকোণী $\triangle ABC$ -এ

$$\sin \angle ACB = \frac{AB}{AC}$$

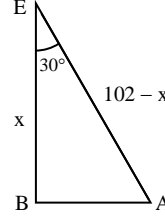
$$\text{বা, } \sin 60^\circ = \frac{AB}{68\sqrt{3}}$$

$$\text{বা, } \frac{\sqrt{3}}{2} = \frac{AB}{68\sqrt{3}}$$

$$\text{বা, } AB = \frac{68 \times 3}{2} = 102$$

\therefore গাছটির উচ্চতা 102 মিটার (Ans.)

গ



মনে করি, গাছটি x মিটার উচ্চতায় E বিন্দুতে ভেঙ্গে গিয়েছে। ভাঙ্গা অংশ AE, দৃশ্যমান অংশ BE এর সাথে $\angle AEB = 30^\circ$ কোণ উৎপন্ন করে।

‘খ’ হতে পাই, গাছটির উচ্চতা = 102 মিটার

\therefore BE = x মিটার হলে, AE = 102 - x মিটার

সমকোণী $\triangle AEB$ এ

$$\cos 30^\circ = \frac{x}{102 - x}$$

$$\text{বা, } \frac{\sqrt{3}}{2} = \frac{x}{102 - x}$$

$$\text{বা, } \sqrt{3}(102 - x) = 2x$$

$$\text{বা, } 102\sqrt{3} - \sqrt{3}x = 2x$$

$$\text{বা, } 102\sqrt{3} = 2x + \sqrt{3}x$$

$$\text{বা, } 102\sqrt{3} = x(2 + \sqrt{3})$$

$$\text{বা, } x = \frac{102\sqrt{3}}{2 + \sqrt{3}}$$

\therefore x = 47.34 মিটার (প্রায়) (Ans.)

প্রশ্ন

৬২ 48 মিটার দীর্ঘ একটি গাছের গোড়া থেকে কিছু দূরে ভূতলের কোনো বিন্দুতে গাছের শীর্ষের উন্নতি কোণ 60° । ঐ বিন্দু থেকে x মিটার পিছিয়ে গেলে শীর্ষের উন্নতি কোণ 30° হয়। একদিন গাছটি বাড়ে এমনভাবে ভেঙে গেল যে, তার অবিচ্ছিন্ন ভাঙ্গা অংশ দৃশ্যমান অংশের সাথে 60° কোণ উৎপন্ন করে গাছের গোড়া থেকে y মিটার দূরে মাটি স্পর্শ করে।

◀সম্বিত অধ্যায় ৯ ও ১০

[ইস্পাহানী পাবলিক স্কুল ও কলেজ, কুমিল্পা □ প্রশ্ন নং ৮]

- ক. $\sin^2 60^\circ - \cos^2 60^\circ$ এর মান নির্ণয় কর। ২
 খ. x এর মান নির্ণয় কর। ৪

গ. y এর মান নির্ণয় কর।

8

৬২ নং প্রশ্নের সমাধান

সূজনশীল ৪ নং সমাধান দ্রষ্টব্য।

প্রশ্ন ▶ ৬৩ একটি খুঁটি বাড়ে এমনভাবে ভেঙ্গে গেল যে, ভাঙ্গা অংশ দশায়মান অংশের সাথে 30° কোণ করে খুঁটিটির গোড়া থেকে 6√3 মিটার দূরে মাটি স্পর্শ করল।

[কুমিল-1 মডার্ন হাই স্কুল, কুমিলগঙ্গা □ প্রশ্ন নং ৮]

ক. সংক্ষিপ্ত বর্ণনাসহ চিত্রটি আঁক।

২

খ. খুঁটিটির সম্পূর্ণ দৈর্ঘ্য নির্ণয় করো।

8

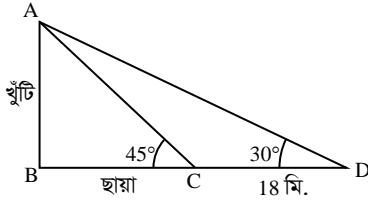
গ. খুঁটিটির ভাঙ্গা অংশ দশায়মান অংশের সাথে 60° কোণ উৎপন্ন করলে খুঁটিটির শীর্ষ গোড়া থেকে কত দূরে ভূমিকে স্পর্শ করবে নির্ণয় করো।

8

৬৩ নং প্রশ্নের সমাধান

সূজনশীল ১১ নং সমাধান দ্রষ্টব্য।

প্রশ্ন ▶ ৬৪



[মাতৃপীঠ সরকারি বালিকা উচ্চ বিদ্যালয়, চাঁদপুর □ প্রশ্ন নং ৮]

ক. খুঁটির দৈর্ঘ্য 3√3 মিটার হলে ছায়ার দৈর্ঘ্য কত?

২

খ. উদ্দীপকের আলোকে ছায়ার দৈর্ঘ্য নির্ণয় কর।

8

গ. ∠ACB = 60° এবং ∠ADC = 30° হলে AD এর মান কত?

8

৬৪ নং প্রশ্নের সমাধান

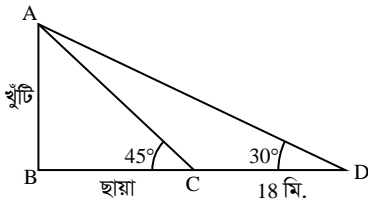
ক $\tan 45^\circ = \frac{3\sqrt{3}}{BC}$

বা, ছায়ার দৈর্ঘ্য = $\frac{3\sqrt{3}}{\tan 45^\circ}$

বা, ছায়ার দৈর্ঘ্য = $\frac{3\sqrt{3}}{1}$

∴ ছায়ার দৈর্ঘ্য = 3√3 মিটার (Ans.)

খ



মনে করি, খুঁটির দৈর্ঘ্য = h মিটার

ছায়ার দৈর্ঘ্য = x মিটার

চিত্র অনুসারে পাই,

$\frac{h}{x} = \tan 45^\circ$

বা, $\frac{h}{x} = 1$

∴ h = x

এখন, সমকোণী ত্রিভুজ ABD এ

$\tan 30^\circ = \frac{AB}{BD}$

SSC গণিত মেইড ইজি উত্তরপত্র-৯খ

বা, $\frac{1}{\sqrt{3}} = \frac{x}{x+18}$

বা, x + 18 = √3x

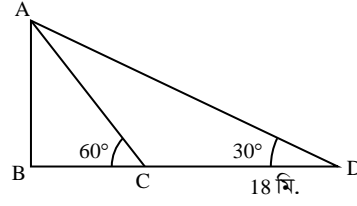
বা, √3x - x = 18

বা, x(√3 - 1) = 18

বা, x = $\frac{18}{\sqrt{3}-1}$ = 24.59 (প্রায়)

∴ ছায়ার দৈর্ঘ্য 24.59 মিটার (প্রায়) (Ans.)

গ



সমকোণী ΔABC-এ

$\tan 60^\circ = \frac{AB}{BC}$

বা, $\sqrt{3} = \frac{AB}{BC}$

বা, AB = √3BC ... (i)

আবার, সমকোণী ΔABD-এ

$\tan 30^\circ = \frac{AB}{BD}$

বা, $\frac{1}{\sqrt{3}} = \frac{AB}{BC+CD}$

বা, $\frac{1}{\sqrt{3}} = \frac{\sqrt{3}BC}{BC+18}$ [মান বসিয়ে]

বা, 3BC = BC + 18

বা, 2BC = 18

∴ BC = 9 মিটার

∴ AB = √3BC = √3 × 9 = 9√3 মিটার

আবার, AD² = AB² + BD² [পীথাগোরাসের উপপাদ্য অনুযায়ী]

= (9√3)² + (BC + CD)²

= (9√3)² + (9 + 18)²

= 243 + 729

= 972

বা, AD = √972 = 31.18 মিটার (প্রায়)

∴ AD = 31.18 মিটার (প্রায়) (Ans.)

প্রশ্ন ▶ ৬৫

একটি গাছ বাড়ে এমনভাবে ভেঙে গেল যে, তার ভাঙা অংশ ভূমির সাথে 30° কোণ উৎপন্ন করে গাছের গোড়া থেকে 30 মিটার দূরে মাটি স্পর্শ করে।

[নোয়াখালী জিলা স্কুল, নোয়াখালী □ প্রশ্ন নং ৭]

ক. তথ্যের ভিত্তিতে চিত্র অঙ্কন করে বর্ণনা দাও।

২

খ. গাছটির সম্পূর্ণ দৈর্ঘ্য কত?

8

গ. যদি গাছটি এমনভাবে ভাঙতো যে, ভাঙা অংশ দশায়মান অংশের সাথে 30° কোণ উৎপন্ন করে তবে গাছটি কত উচুতে ভেঙেছিল?

8

৬৫ নং প্রশ্নের সমাধান

ক

মনে করি, গাছটির সম্পূর্ণ দৈর্ঘ্য

AB = h মিটার, গাছটি BD = x

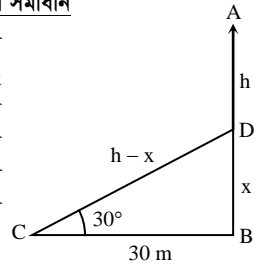
মিটার উচ্চতায় ভেঙ্গে গিয়ে বিচ্ছিন্ন

না হয়ে ভাঙ্গা অংশ ভূমির সাথে

∠BCD = 30° উৎপন্ন করে গোড়া

থেকে BC = 30 মিটার দূরে মাটি

স্পর্শ করে।



খ

'ক' এর চিত্র হতে পাই,

SSC গণিত মেইড ইজি উত্তরপত্র-৯গ

$\tan 30^\circ = \frac{BD}{BC} = \frac{x}{30}$

$\Rightarrow \frac{1}{\sqrt{3}} = \frac{x}{30}$

$\Rightarrow x = \frac{30}{\sqrt{3}} = 10\sqrt{3} \dots \dots (i)$



MvYZ (AvewKk)

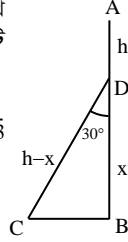
$$\text{আবার, } \sin 30^\circ = \frac{BD}{CD} = \frac{x}{h-x}$$

$$\Rightarrow \frac{1}{2} = \frac{10\sqrt{3}}{h-10\sqrt{3}} \quad [\text{(i) নং থেকে}]$$

$$\Rightarrow h = 20\sqrt{3} + 10\sqrt{3}$$

$$\therefore h = 30\sqrt{3} = 51.96 \text{ m (প্রায়) (Ans.)}$$

- গ যদি গাছটির ভাঙ্গা অংশ দন্ডায়মান অংশের সাথে 30° কোণ উৎপন্ন করতো তাহলে, প্রদত্ত ঘটনাটি পাশের চিত্রের সাহায্যে দেখানো হল। মনে করি, গাছটি x মি. উচুতে ভেঙেছিল। 'খ' থেকে পাই, গাছটির সম্পূর্ণ দৈর্ঘ্য, $h = 30\sqrt{3}$



$$\text{চিত্র থেকে পাই, } \cos 30^\circ = \frac{x}{h-x}$$

$$\Rightarrow \frac{\sqrt{3}}{2} = \frac{x}{30\sqrt{3}-x}$$

$$\Rightarrow 2x = 90 - \sqrt{3}x$$

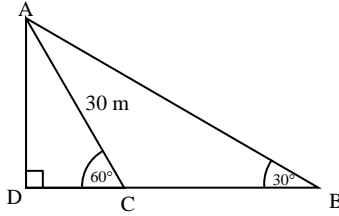
$$\Rightarrow x(2 + \sqrt{3}) = 90$$

$$\Rightarrow x = \frac{90}{2 + \sqrt{3}}$$

$$\therefore x = 24.115$$

গাছটির ভাঙ্গা অংশ দন্ডায়মান অংশের সাথে 30° কোণ উৎপন্ন করলে 24.115 মি. (প্রায়) উচুতে ভেঙেছিল (Ans.)

প্রশ্ন ▶ ৬৬



[লক্ষ্মীপুর সরকারি বালিকা উচ্চ বিদ্যালয়, লক্ষ্মীপুর □ প্রশ্ন নং ৯]

- ক. $\angle BAC$ এর মান নির্ণয় কর। ২
খ. AD ও CD এর দৈর্ঘ্য নির্ণয় কর। ৪
গ. $\triangle ABC$ এর পরিসীমা নির্ণয় কর। ৪

৬৬ নং প্রশ্নের সমাধান

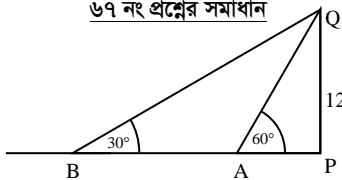
সৃজনশীল ৭ নং সমাধান দ্রষ্টব্য।

প্রশ্ন ▶ ৬৭ 12 মিটার দীর্ঘ একটি নারিকেল গাছের শীর্ষ হতে ভূমির সাথে 60° কোণে A বিন্দুতে রশি বেঁধে নারিকেল পাড়ার সময় কিছু নারিকেল নষ্ট হলো। এজন্য রশিকে জোড়া দিয়ে B বিন্দুর সাথে 30° কোণ করে নতুন রশি বাঁধা হলো।

[ফেনী সরকারি বালিকা উচ্চ বিদ্যালয়, ফেনী □ প্রশ্ন নং ৮]

- ক. তথ্য অনুযায়ী চিত্র আঁক। ২
খ. কতটুকু রশি জোড়া দেয়া হয়েছিল? ৪
গ. A এবং B এর মধ্যবর্তী দূরত্ব নির্ণয় কর। ৪

৬৭ নং প্রশ্নের সমাধান



নারিকেল গাছের দৈর্ঘ্য $PQ = 12$ মিটার। শীর্ষবিন্দু Q এ বাঁধা রশি ভূমির সাথে A বিন্দুতে $\angle PAQ = 60^\circ$ কোণ উৎপন্ন করে। রশি জোড়া দেওয়ার ফলে রশিটির নতুন অবস্থান B বিন্দুতে ভূমির সাথে $\angle PBQ = 30^\circ$ উৎপন্ন করে।

ক $\triangle PAQ$ -এ $\sin \angle PAQ = \frac{PQ}{AQ}$

$$\text{বা, } \sin 60^\circ = \frac{12}{AQ}$$

$$\text{বা, } \frac{\sqrt{3}}{2} = \frac{12}{AQ}$$

$$\text{বা, } AQ = \frac{24}{\sqrt{3}}$$

$$\therefore AQ = 8\sqrt{3} \text{ মিটার}$$

আবার, $\triangle PBQ$ -এ $\sin \angle PBQ = \frac{PQ}{BQ}$

$$\text{বা, } \sin 30^\circ = \frac{12}{BQ}$$

$$\text{বা, } \frac{1}{2} = \frac{12}{BQ}$$

$$\therefore BQ = 24 \text{ মিটার}$$

$$\begin{aligned} \therefore \text{রশি জোড়া দেওয়া হয়েছিল} &= (BQ - AQ) \text{ মিটার} \\ &= (24 - 8\sqrt{3}) \text{ মিটার} \\ &= 10.14 \text{ মিটার (Ans.)} \end{aligned}$$

গ $\triangle APQ$ -এ $\tan \angle PAQ = \frac{PQ}{AP}$

$$\text{বা, } \tan 60^\circ = \frac{12}{AP}$$

$$\text{বা, } \sqrt{3} = \frac{12}{AP}$$

$$\text{বা, } AP = \frac{12}{\sqrt{3}}$$

$$\therefore AP = 4\sqrt{3} \text{ মিটার}$$

আবার, $\triangle PBQ$ এ $\tan \angle PBQ = \frac{PQ}{BP}$

$$\text{বা, } \tan 30^\circ = \frac{12}{BP}$$

$$\text{বা, } \frac{1}{\sqrt{3}} = \frac{12}{BP}$$

$$\therefore BP = 12\sqrt{3} \text{ মিটার}$$

$$\therefore A \text{ ও } B \text{ এর মধ্যবর্তী দূরত্ব} = BP - AP$$

$$= (12\sqrt{3} - 4\sqrt{3}) \text{ মিটার}$$

$$= 8\sqrt{3} \text{ মিটার (প্রায়) (Ans.)}$$

প্রশ্ন ▶ ৬৮

18 মিটার লম্বা একটি খুঁটি ঝড়ে এমনভাবে ভেঙ্গে গেল যে, সম্পূর্ণ বিচ্ছিন্ন না হয়ে ভাঙ্গা অংশ দন্ডায়মান অংশের সাথে 30° কোণ উৎপন্ন করে। দুটি মাইলপোষ্ট M ও N এর মধ্যবর্তী কোনো স্থানে একটি টাওয়ার অবস্থিত।

টাওয়ারের শীর্ষবিন্দুতে M ও N এর অবনতি কোণ যথাক্রমে 60° ও 45° । [ফেনী সরকারি পাইলট উচ্চ

- ক. কোনো মিনারের দৈর্ঘ্য 17 মিটার ও উন্নতি কোণ 30° হলে মিনারের ছায়ার দৈর্ঘ্য নির্ণয় কর। ২
খ. উদ্দীপকের আলোকে খুঁটির গোড়া হতে কত মিটার দূরে খুঁটিটির শীর্ষবিন্দু ভূমি স্পর্শ করেছে তা নির্ণয় কর। ৪
গ. উদ্দীপকের আলোকে M মাইলপোষ্ট হতে টাওয়ারের পাদবিন্দুর দূরত্ব নির্ণয় কর। ৪

৬৮ নং প্রশ্নের সমাধান

ক সৃজনশীল ৬(ক) নং সমাধান দ্রষ্টব্য।

খ সৃজনশীল ১(খ) নং সমাধান দ্রষ্টব্য।

গ সৃজনশীল ১(গ) নং সমাধান দ্রষ্টব্য।

প্রশ্ন ▶ ৬৯ একটি খুঁটি ঝড়ে ভেঙ্গে গিয়ে ভাঙ্গা অংশ দন্ডায়মান অংশের সাথে 30° কোণ উৎপন্ন করে খুঁটির গোড়া থেকে $6\sqrt{3}$ মিটার দূরে ভূমি স্পর্শ করে।

[শাহীন একাডেমী স্কুল এন্ড কলেজ, ফেনী □ প্রশ্ন নং ৮]

- ক. উদ্দীপকের তথ্যটি চিত্রে প্রকাশ কর। ২
খ. খুঁটিটির সম্পূর্ণ দৈর্ঘ্য নির্ণয় কর। ৪

গ. খুঁটিটির ভাঙ্গা অংশ দর্শ্যমান অংশের সাথে 60° কোণ উৎপন্ন করলে, খুঁটির শীর্ষ গোড়া থেকে কত দূরে ভূমি স্পর্শ করবে? 8

৬৯ নং প্রশ্নের সমাধান

সৃজনশীল ১১নং সমাধান দ্রষ্টব্য।

প্রশ্ন ▶ ৭০ দৃশ্যকল্প-১: 18 মিটার লম্বা একটি খুঁটি বাড়ে এমনভাবে ভেঙ্গে গেল যে, সম্পূর্ণ বিচ্ছিন্ন না হয়ে ভাঙ্গা অংশ দর্শ্যমান অংশের সাথে 30° কোণ উৎপন্ন করে।

দৃশ্যকল্প-২: দুইটি মাইলপোস্ট M ও N এর মধ্যবর্তী কোনো স্থানে একটি টাওয়ার অবস্থিত। টাওয়ারের শীর্ষবিন্দুতে M ও N এর অবনতি কোণ যথাক্রমে 60° ও 45°

[চট্টগ্রাম কলেজিয়েট স্কুল, চট্টগ্রাম □ প্রশ্ন নং ৮]

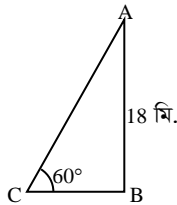
ক. উন্নতি কোণ 60° হলে সম্পূর্ণ খুঁটিটির ছায়ার দৈর্ঘ্য নির্ণয় কর। ২

খ. উদ্দীপকের আলোকে খুঁটির গোড়া হতে কত মিটার দূরে খুঁটিটির শীর্ষবিন্দু ভূমি স্পর্শ করেছে তা নির্ণয় কর। 8

গ. উদ্দীপকের আলোকে M মাইলপোস্ট হতে টাওয়ারের পাদবিন্দুর দূরত্ব নির্ণয় কর। 8

৭০ নং প্রশ্নের সমাধান

ক



মনে করি, AB = 18 মি. খুঁটির শীর্ষের উন্নতি কোণ ∠ACB = 60°, ছায়ার দৈর্ঘ্য = BC.

সমকোণী ত্রিভুজ ACB এ

$$\tan 60^\circ = \frac{AB}{BC}$$

$$\text{বা, } \sqrt{3} = \frac{18}{BC}$$

$$\text{বা, } BC = \frac{18}{\sqrt{3}}$$

$$\therefore BC = 10.39 \text{ মি. (প্রায়)}$$

সুতরাং, খুঁটির ছায়ার দৈর্ঘ্য 10.39 মি. (প্রায়) (Ans.)

খ সৃজনশীল ১(খ) নং সমাধান দ্রষ্টব্য।

গ সৃজনশীল ১(গ) নং সমাধান দ্রষ্টব্য।

প্রশ্ন ▶ ৭১ একটি বেলুন দু'টি মাইল পোস্ট P ও Q এর মাঝখানে উড়ছে। বেলুনের স্থানে মাইল পোস্ট দু'টি P ও Q এর অবনতি কোণ যথাক্রমে 60° ও 30°।

◀ সমন্বিত অধ্যায় ৯ ও ১০

[ডা: খানজীর সরকারি বালিকা উচ্চ বিদ্যালয়, চট্টগ্রাম □ প্রশ্ন নং ৯]

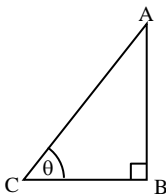
ক. জ্যামিতিক পদ্ধতিতে দেখাও যে, $\sin^2\theta + \cos^2\theta = 1$ ২

খ. বেলুনটির উচ্চতা কত মিটার নির্ণয় কর। 8

গ. যখন উড়য় অবনতি কোণ 45° হয় তখন P থেকে বেলুনটির সরাসরি দূরত্ব নির্ণয় কর। 8

৭১ নং প্রশ্নের সমাধান

ক



$$\text{চিত্রানুসারে, } \sin\theta = \frac{AB}{AC}$$

$$\cos\theta = \frac{BC}{AC}$$

SSC গণিত মেইড ইঞ্জি উত্তরপত্র-৯৮

$$\text{বামপক্ষ} = \sin^2\theta + \cos^2\theta$$

$$= \left(\frac{AB}{AC}\right)^2 + \left(\frac{BC}{AC}\right)^2$$

$$= \frac{AB^2}{AC^2} + \frac{BC^2}{AC^2}$$

$$= \frac{AB^2 + BC^2}{AC^2}$$

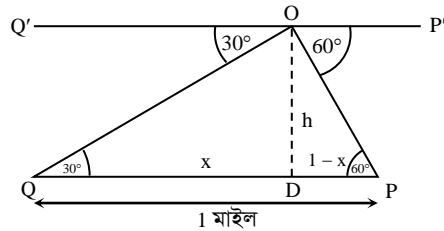
$$= \frac{AC^2}{AC^2} \text{ [পিথাগোরাসের সূত্র হতে]}$$

$$= 1$$

$$= \text{ডানপক্ষ}$$

$$\therefore \sin^2\theta + \cos^2\theta = 1 \text{ (প্রমাণিত)}$$

খ



চিত্রে, Q ও P দুইটি মাইল পোস্ট, O হচ্ছে বেলুনের অবস্থান, O বিন্দুতে মাইলপোস্ট Q এর অবনতি কোণ 30° এবং P এর অবনতি কোণ 60°।

চিত্রে ∠OQO' = 30°

$$\therefore \angle OQP = 30^\circ$$

$$\text{এবং } \angle OPQ = 60^\circ$$

$$\therefore \angle OPQ = 60^\circ$$

O থেকে QP এর উপর OD লম্ব অংকন করি।

মনে করি, QD = x মাইল, OD = h মাইল

$$\therefore PD = (1 - x) \text{ মাইল।}$$

$$\text{এখন, } \tan \angle OQD = \frac{OD}{QD}$$

$$\text{বা, } \tan 30^\circ = \frac{h}{x}$$

$$\text{বা, } \frac{1}{\sqrt{3}} = \frac{h}{x}$$

$$\text{বা, } x = h\sqrt{3} \dots\dots\dots (i)$$

$$\text{আবার, } \tan \angle OPD = \frac{OD}{PD}$$

$$\text{বা, } \tan 60^\circ = \frac{h}{1 - x}$$

$$\text{বা, } \sqrt{3} = \frac{h}{1 - x}$$

$$\text{বা, } \sqrt{3} = \frac{h}{1 - h\sqrt{3}} \text{ [x = h}\sqrt{3} \text{ বসিয়ে]}$$

$$\text{বা, } h = \sqrt{3} - h\sqrt{3}\cdot\sqrt{3}$$

$$\text{বা, } h = \sqrt{3} - 3h$$

$$\text{বা, } 4h = \sqrt{3}$$

$$\therefore h = \frac{\sqrt{3}}{4}$$

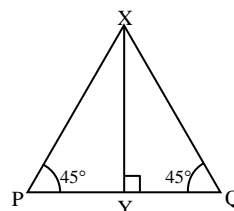
$$\therefore \text{নির্ণেয় উচ্চতা, } h = \frac{\sqrt{3}}{4} \text{ মাইল}$$

$$= \frac{\sqrt{3}}{4} \times 1.61 \text{ কিলোমিটার [1 মাইল = 1.61 কি.মি.]}$$

$$= 0.69715 \text{ কিলোমিটার}$$

$$= 697.15 \text{ মিটার (প্রায়) (Ans.)}$$

গ



MvYZ (AvevKAK)

ধরি, P ও Q দুটি মাইল পোস্ট এবং XY বেগুনের উচ্চতা।

∴ $\angle XPQ = \angle XPY = 45^\circ = \angle XQY = \angle XQP$
এবং PQ = 1610 মিটার [1 মাইল = 1610 মিটার]

এখন, ΔPXY এ, $\tan \angle XPY = \frac{XY}{PY}$

বা, $\tan 45^\circ = \frac{XY}{PY}$

বা, $1 = \frac{XY}{PY}$

∴ $PY = XY$

আবার, ΔQXY এ, $\tan \angle XQY = \frac{XY}{QY}$

বা, $\tan 45^\circ = \frac{XY}{QY}$

বা, $1 = \frac{XY}{QY}$

∴ $QY = XY$

∴ $PY = XY = QY$

কিন্তু, $PY + QY = PQ$

বা, $2PY = 1610$

∴ $PY = 805$

∴ $PY = XY = QY = 805$ মিটার

ΔPXY এ, $PX = \sqrt{PY^2 + XY^2}$
 $= \sqrt{PY^2 + PY^2}$
 $= \sqrt{2PY^2}$
 $= \sqrt{2} \cdot PY$
 $= \sqrt{2} \times 805$ মিটার
 $= 1138.442$ মিটার (প্রায়) (Ans.)

প্রশ্ন ৭২ (i) $\frac{\cos \alpha - \sin \alpha}{\cos \alpha + \sin \alpha} = \frac{\sqrt{3} - 1}{1 + \sqrt{3}}$

(ii) $2 \cos(A + B) = 1 = 2 \sin(A - B)$ এবং $2Q^2 + 3P = 0$, যখন $\sin X = P$,

$\cos X = Q$

(iii) একটি খুঁটি এমনভাবে ভেঙে গেল যে, তার অবিচ্ছিন্ন ভাঙা অংশ দণ্ডায়মান অংশের সাথে 30° কোণ উৎপন্ন করে খুঁটির গোড়া থেকে $10\sqrt{3}$ মিটার দূরে ভূমি স্পর্শ করে।

◀ সমন্বিত অধ্যায় ৯ ও ১০

ইস্পাহানী পাবলিক স্কুল ও কলেজ, চট্টগ্রাম □ প্রশ্ন নং ৭/

ক. α এর মান নির্ণয় কর। ২

খ. A, B এবং X এর মান নির্ণয় কর। যখন, A, B এবং X সূক্ষ্মকোণ। ৪

গ. খুঁটির দৈর্ঘ্য নির্ণয় কর। ৪

৭২ নং প্রশ্নের সমাধান

ক অধ্যায়-৯ এর সৃজনশীল ১২(গ) নং সমাধান দ্রষ্টব্য। পৃষ্ঠা- ১৯৮

খ দেওয়া আছে, $2 \cos(A + B) = 1$

বা, $\cos(A + B) = \frac{1}{2}$

বা, $\cos(A + B) = \cos 60^\circ$

∴ $A + B = 60^\circ \dots$ (i)

এবং $2 \sin(A - B) = 1$

বা, $\sin(A - B) = \frac{1}{2}$

বা, $\sin(A - B) = \sin 30^\circ$

∴ $A - B = 30^\circ \dots$ (ii)

(i) ও (ii) নং যোগ করে পাই,

$2A = 90^\circ$

∴ $A = 45^\circ$

আবার, (i) হতে (ii) বিয়োগ করে পাই,

$2B = 30^\circ$

∴ $B = 15^\circ$

∴ $A = 45^\circ$ ও $B = 15^\circ$ (Ans.)

দেওয়া আছে, $P = \sin X$, $Q = \cos X$

এখন, $2Q^2 + 3P = 0$

বা, $2 \cos^2 X + 3 \sin X = 0$

বা, $2 - 2 \sin^2 X + 3 \sin X = 0$

বা, $2 \sin^2 X - 3 \sin X - 2 = 0$

বা, $2 \sin^2 X - 4 \sin X + \sin X - 2 = 0$

বা, $2 \sin X (\sin X - 2) + 1 (\sin X - 2) = 0$

বা, $(2 \sin X + 1) (\sin X - 2) = 0$

বা, $2 \sin X + 1 = 0$ [$\sin X \neq 2$ কারণ $-1 \leq \sin X \leq 1$]

বা, $\sin X = -\frac{1}{2}$

বা, $\sin X = \sin\left(\pi + \frac{\pi}{6}\right), \sin\left(2\pi - \frac{\pi}{6}\right)$

∴ $X = \frac{7\pi}{6}, \frac{11\pi}{6}$

কিন্তু X সূক্ষ্মকোণ বলা আছে।

∴ নির্দিষ্ট সীমার মধ্যে X এর কোনো মান নেই। (Ans.)

গ মনে করি, খুঁটির সম্পূর্ণ দৈর্ঘ্য AB = h

মিটার, খুঁটিটি BC = x মিটার উচ্চতায়

ভেঙ্গে গিয়ে বিচ্ছিন্ন না হয়ে ভাঙ্গা অংশ

দণ্ডায়মান অংশের সাথে $\angle BCD = 30^\circ$

উৎপন্ন করে গোড়া থেকে $BD = 10\sqrt{3}$

মিটার দূরে মাটি স্পর্শ করে।

এখানে, $\angle BCD = 30^\circ$ এবং $BD = 10\sqrt{3}$ মিটার

এখন, সমকোণী ΔBCD থেকে পাই,

$\tan \angle BCD = \frac{BD}{BC}$

বা, $\tan 30^\circ = \frac{10\sqrt{3}}{x}$

বা, $\frac{1}{\sqrt{3}} = \frac{10\sqrt{3}}{x}$

বা, $x = 30$

এখানে, $CD = AC = AB - BC = (h - 30)$ মিটার

এখন, ΔBCD এর মধ্যে

$\sin \angle BCD = \frac{BD}{CD}$

বা, $\sin 30^\circ = \frac{10\sqrt{3}}{h - 30}$

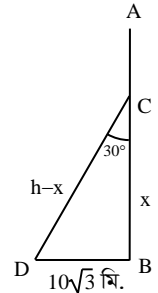
বা, $\frac{1}{2} = \frac{10\sqrt{3}}{h - 30}$

বা, $h - 30 = 20\sqrt{3}$

বা, $h = 20\sqrt{3} + 30$

∴ $h = 64.64$ মিটার

∴ খুঁটির উচ্চতা 64.64 মিটার (প্রায়) (Ans.)



প্রশ্ন ▶ ৭৩ একটি গাছ বাড়ে এমনভাবে ভেঙ্গে গেল যে, ভাঙ্গা অংশ ভূমির সাথে 60° কোণ উৎপন্ন করে গোড়া হতে 10 মিটার দূরে মাটি স্পর্শ করে এবং দাঁড়ায়মান অংশের সাথে θ কোণ উৎপন্ন করে।

◀ সমন্বিত অধ্যায় ৯ ও ১০ [বাংলাদেশ মহিলা সমিতি বালিকা উচ্চ বিদ্যালয় ও কলেজ, চট্টগ্রাম □ প্রশ্ন নং ৮]

- ক. চিত্রসহ উন্নতিকোণ ও অবনতি কোণের সংজ্ঞা দাও। ২
 খ. গাছটির সম্পূর্ণ দৈর্ঘ্য নির্ণয় কর। ৪
 গ. উদ্দীপক অনুসারে প্রমাণ কর $\cos 2\theta = \frac{1 - \tan^2 \theta}{1 + \tan^2 \theta}$ ৪

৭৩ নং প্রশ্নের সমাধান

- ক. সৃজনশীল ১৪(ক) নং সমাধান দ্রষ্টব্য।
 খ. $\theta = 180^\circ - 90^\circ - 60^\circ = 30^\circ$
 অতঃপর পাঠ্যবইয়ের অধ্যায়-১০ এর উদাহরণ-৬ দ্রষ্টব্য। পৃষ্ঠা-২০১
 গ. 'খ' থেকে পাই, $\theta = 30^\circ$

$$\therefore \cos 2\theta = \cos 2 \times 30^\circ = \cos 60^\circ = \frac{1}{2}$$

$$\text{এবং} = \frac{1 - \tan^2 \theta}{1 + \tan^2 \theta} = \frac{1 - (\tan 30^\circ)^2}{1 + (\tan 30^\circ)^2} = \frac{1 - \left(\frac{1}{\sqrt{3}}\right)^2}{1 + \left(\frac{1}{\sqrt{3}}\right)^2}$$

$$= \frac{1 - \frac{1}{3}}{1 + \frac{1}{3}} = \frac{\frac{3-1}{3}}{\frac{3+1}{3}} = \frac{2}{3} \times \frac{3}{4} = \frac{1}{2}$$

$$\therefore \cos 2\theta = \frac{1 - \tan^2 \theta}{1 + \tan^2 \theta} \text{ (প্রমাণিত)}$$

প্রশ্ন ▶ ৭৪ একটি গাছ বাড়ে এমনভাবে ভেঙ্গে গেল যেন ভাঙ্গা অংশ দাঁড়ায়মান অংশের সাথে 60° কোণ উৎপন্ন করে গাছের গোড়া থেকে $15\sqrt{3}$ মিটার দূরে মাটি স্পর্শ করে। আবার একটি মিনারের শীর্ষবিন্দুতে ঐ বিন্দু থেকে $15\sqrt{2}$ মিটার দূরে ভূতলস্থ একটি বিন্দুর অবনতি কোণ 45°।

◀ সমন্বিত অধ্যায় ৯ ও ১০ [বাংলাদেশ নৌবাহিনী স্কুল ও কলেজ, চট্টগ্রাম □ প্রশ্ন নং ৮]

- ক. $\operatorname{cosec} \theta = \sqrt{\frac{1+x}{1-x}}$ হলে $\sin^2 \theta$ এর মান নির্ণয় কর। ২
 খ. মিনারটির উচ্চতা নির্ণয় কর। ৪
 গ. সম্পূর্ণ গাছটির দৈর্ঘ্য নির্ণয় কর। ৪

৭৪ নং প্রশ্নের সমাধান

ক. দেওয়া আছে, $\operatorname{cosec} \theta = \sqrt{\frac{1+x}{1-x}}$

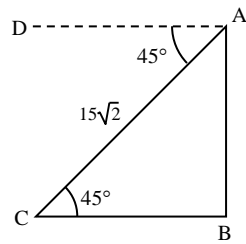
বা, $\frac{1}{\sin \theta} = \sqrt{\frac{1+x}{1-x}}$

বা, $\sin \theta = \sqrt{\frac{1-x}{1+x}}$

$\therefore \sin^2 \theta = \frac{1-x}{1+x}$ (Ans.)

খ. মনে করি, মিনারের উচ্চতা, AB = h মিটার

মিনারের শীর্ষ A হতে $15\sqrt{2}$ মিটার দূরে ভূতলস্থ বিন্দু C এর অবনতি কোণ $\angle DAC = 45^\circ$
 সুতরাং $\angle ACB = \angle DAC = 45^\circ$
 এখন, সমকোণী ত্রিভুজ $\triangle ABC$ -এ



$\sin \angle ACB = \frac{AB}{AC}$

বা, $\sin 45^\circ = \frac{h}{15\sqrt{2}}$

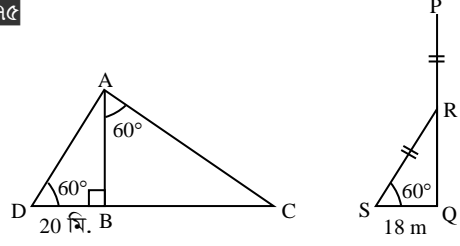
বা, $\frac{1}{\sqrt{2}} = \frac{h}{15\sqrt{2}}$

বা, h = 15

\therefore মিনারের উচ্চতা 15 মিটার। (Ans.)

গ. সৃজনশীল ১৫(ক + খ) নং সমাধান দ্রষ্টব্য।

৭৫

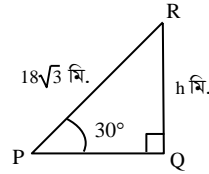


[চট্টগ্রাম ক্যান্টনমেন্ট পাবলিক কলেজ, চট্টগ্রাম □ প্রশ্ন নং ৮]

- ক. $18\sqrt{3}$ মিটার দৈর্ঘ্যের একটি মই ভূমির সাথে 30° কোণ উৎপন্ন করে দেওয়ালের ছাদ স্পর্শ করে। দেওয়ালটির উচ্চতা নির্ণয় কর। ২
 খ. PQ এর দৈর্ঘ্য নির্ণয় কর। ৪
 গ. $\triangle ADC$ এর ক্ষেত্রফল নির্ণয় কর। ৪

৭৫ নং প্রশ্নের সমাধান

ক.



মইয়ের দৈর্ঘ্য, PR = $18\sqrt{3}$ মি., দেওয়ালটির উচ্চতা, QR = h মি.
 এবং $\angle RPQ = 30^\circ$

$\therefore \triangle PQR$ -এ, $\sin \angle RPQ = \frac{QR}{PR}$

বা, $\sin 30^\circ = \frac{h}{18\sqrt{3}}$

বা, $\frac{1}{2} = \frac{h}{18\sqrt{3}}$

$\therefore h = 9\sqrt{3} = 15.59$ মি. (প্রায়) (Ans.)

খ.

চিত্রে, SQR সমকোণী ত্রিভুজ-এ

$\tan \angle RSQ = \frac{RQ}{SQ}$

বা, $\tan 60^\circ = \frac{RQ}{18}$

বা, $\sqrt{3} = \frac{RQ}{18}$

$\therefore RQ = 18\sqrt{3}$

এবং

$\cos \angle RSQ = \frac{SQ}{SR}$

বা, $\cos 60^\circ = \frac{18}{SR}$

বা, $\frac{1}{2} = \frac{18}{SR}$

$\therefore SR = 36$

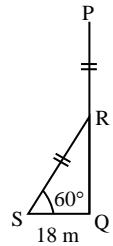
এখন, PR = SR

$\therefore PQ = PR + QR$
 $= SR + QR$
 $= (36 + 18\sqrt{3})$ মিটার
 $= 67.177$ মিটার (প্রায়)

গ.

$\triangle ABD$ -এ, $\cos \angle ADB = \frac{BD}{AD}$

বা, $\cos 60^\circ = \frac{20}{AD}$



খ. যেহেতু MC || AB এবং AC তাদের ছেদক,
∴ ∠CAB = ∠MCA = 45° [একান্তর্জ কোণ]

$$\therefore \sin \angle CAB = \frac{BC}{AC}$$

$$\text{বা, } \sin(45^\circ) = \frac{BC}{AC}$$

$$\text{বা, } \frac{1}{\sqrt{2}} = \frac{h}{36}$$

$$\text{বা, } BC = \frac{36}{\sqrt{2}} = 18\sqrt{2} = 25.46 \text{ মিটার।}$$

∴ পিলারের উচ্চতা BC = 25.46 মিটার। (Ans.)

গ. ধরি, পিলারটি ভূমি হতে h উচ্চতায় D বিন্দুতে ভাঙলে দণ্ডায়মান অংশের সাথে 30° কোণ করে B বিন্দুতে ভূমি স্পর্শ করে।

পিলারটির উচ্চতা = $18\sqrt{2}$ মিটার

$$\therefore BD = (18\sqrt{2} - h) \text{ মিটার।}$$

$$\therefore \cos 30^\circ = \frac{AD}{BD} = \frac{h}{18\sqrt{2} - h}$$

$$\text{বা, } \frac{\sqrt{3}}{2} = \frac{h}{18\sqrt{2} - h}$$

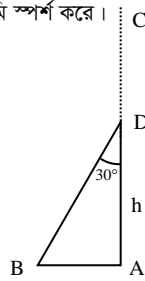
$$\text{বা, } 2h = 18\sqrt{6} - \sqrt{3}h$$

$$\text{বা, } h(2 + \sqrt{3}) = 18\sqrt{6}$$

$$\text{বা, } h = \frac{18\sqrt{6}}{2 + \sqrt{3}}$$

$$\therefore h = 11.82 \text{ মিটার।}$$

অর্থাৎ পিলারটি 11.82 মিটার উচ্চতায় ভেঙেছিল (Ans.)



প্রশ্ন 97. A এবং B দুটি কি.মি. পোস্টের মধ্যবর্তী কোন স্থান C বিন্দুতে একটি বেলুনের অবনতি কোণ যথাক্রমে 60° এবং 30°।

[জালালাবাদ ক্যান্টনমেন্ট পাবলিক স্কুল এন্ড কলেজ, সিলেট □ প্রশ্ন নং c]

- ক. সংক্ষিপ্ত বর্ণনাসহ চিত্রটি আঁক। 2
খ. ভূমি থেকে বেলুনটির উচ্চতা নির্ণয় কর। 8
গ. ΔABC এর পরিসীমা নির্ণয় কর। 8

97 নং প্রশ্নের সমাধান

ক. সৃজনশীল 35(ক) নং সমাধান দ্রষ্টব্য।

খ. সৃজনশীল 35(খ) নং সমাধান দ্রষ্টব্য।

গ. সৃজনশীল 52(গ) নং সমাধান দ্রষ্টব্য।

প্রশ্ন 98. একটি গাছ ঝড়ে এমনভাবে ভেঙে গেল যেন ভাঙ্গা অংশ দণ্ডায়মান অংশের সাথে 60° কোণ উৎপন্ন করে গাছের গোড়া থেকে $15\sqrt{3}$ মিটার দূরে মাটি স্পর্শ করেছে।

[সরকারি অগ্রগামী বালিকা উচ্চ বিদ্যালয় ও কলেজ, সিলেট □ প্রশ্ন নং c]

- ক. উপরের তথ্য চিত্রে দেখাও। 2
খ. সম্পূর্ণ গাছের দৈর্ঘ্য নির্ণয় কর। 8
গ. ভাঙ্গা অংশ দণ্ডায়মান অংশের সাথে 30° কোণ উৎপন্ন করলে, ভাঙ্গা অংশের দৈর্ঘ্য নির্ণয় কর। 8

98 নং প্রশ্নের সমাধান

সৃজনশীল 15নং সমাধান দ্রষ্টব্য।

প্রশ্ন 99. ভূতলস্থ কোনো স্থানে একটি দালানের ছাদের একটি বিন্দুর উন্নতি কোণ 60°। ঐ স্থান থেকে 42 মিটার পিছিয়ে গেলে দালানের ঐ বিন্দুর উন্নতি কোণ 30° হয়।

◀সমন্বিত অধ্যায় ৯ ও ১০

[ব-বার্ড স্কুল এন্ড কলেজ, সিলেট □ প্রশ্ন নং c]

- ক. $\frac{1 - \cos^2 45^\circ}{1 + \cos^2 45^\circ} + \cos 60^\circ = \text{কত?}$ 2
খ. দালানের উচ্চতা নির্ণয় কর। 8
গ. যে বিন্দুতে উন্নতি কোণ 30° সেই বিন্দু থেকে দালানের শীর্ষ ও পাদবিন্দুর দূরত্বের পার্থক্য নির্ণয় কর। 8

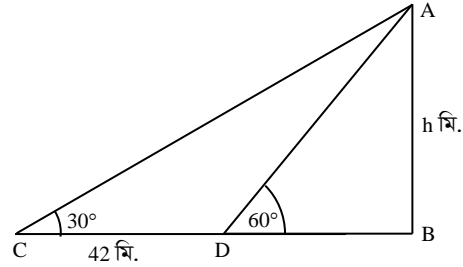
99 নং প্রশ্নের সমাধান

$$\text{ক. } \frac{1 - \cos^2 45^\circ}{1 + \cos^2 45^\circ} + \cos 60^\circ$$

$$= \frac{1 - \left(\frac{1}{\sqrt{2}}\right)^2}{1 + \left(\frac{1}{\sqrt{2}}\right)^2} + \frac{1}{2} = \frac{\frac{2-1}{2}}{\frac{2+1}{2}} + \frac{1}{2}$$

$$= \frac{1}{3} + \frac{1}{2} = \frac{5}{6} \text{ (Ans.)}$$

খ. চিত্রে, AB একটি দালান যার শীর্ষবিন্দু A, পাদবিন্দু B, ভূতলস্থ একটি বিন্দু C তে দালানটির শীর্ষের উন্নতি কোণ 30° এবং টাওয়ারের দিকে 42 মিটার এগিয়ে আসলে D বিন্দুতে উন্নতি কোণ হয় 60°।



এখানে, ∠ACB = 30°, ∠ADB = 60°, CD = 42 মিটার

$$\therefore BC = BD + CD = BD + 42 \text{ মি.}$$

ধরি, দালানটির উচ্চতা AB = h মিটার

এখন, ΔABD সমকোণী ত্রিভুজ হতে পাই,

$$\tan \angle ADB = \frac{AB}{BD}$$

$$\text{বা, } \tan 60^\circ = \frac{h}{BD}$$

$$\text{বা, } \sqrt{3} = \frac{h}{BD}$$

$$\therefore h = BD \cdot \sqrt{3}$$

$$BD = \frac{h}{\sqrt{3}}$$

আবার, ΔABC সমকোণী ত্রিভুজ হতে পাই,

$$\tan \angle ACB = \frac{AB}{BC}$$

$$\text{বা, } \tan 30^\circ = \frac{h}{BD + 42}$$

$$\text{বা, } \frac{1}{\sqrt{3}} = \frac{h}{BD + 42}$$

$$\text{বা, } BD + 42 = h\sqrt{3} \text{ [আড় গুণন করে]}$$

$$\text{বা, } \frac{h}{\sqrt{3}} + 42 = h\sqrt{3} \left[\square BD = \frac{h}{\sqrt{3}} \right]$$

$$\text{বা, } \frac{h + 42\sqrt{3}}{\sqrt{3}} = h\sqrt{3}$$

$$\text{বা, } h + 42\sqrt{3} = 3h \text{ [পুনরায় আড়গুণন করে]}$$

$$\text{বা, } 2h = 42\sqrt{3}$$

$$\text{বা, } h = \frac{42\sqrt{3}}{2}$$

$$\text{বা, } h = 21\sqrt{3}$$

$$\therefore h = 36.37 \text{ মিটার (প্রায়)}$$

$$\therefore \text{টাওয়ারটির উচ্চতা } 36.37 \text{ মিটার (প্রায়) (Ans.)}$$

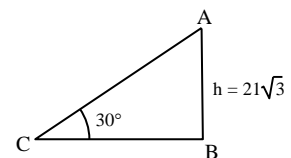
গ. 'খ' হতে পাই, $h = 21\sqrt{3}$

চিত্র হতে পাই,

$$\tan 30^\circ = \frac{AB}{BC}$$

$$\text{বা, } \frac{1}{\sqrt{3}} = \frac{21\sqrt{3}}{BC}$$

$$\text{বা, } BC = 63$$



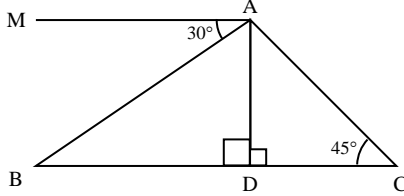
$$\text{আবার, } \sin 30^\circ = \frac{AB}{AC}$$

$$\text{বা, } \frac{1}{2} = \frac{21\sqrt{3}}{AC}$$

$$\therefore AC = 42\sqrt{3}$$

\therefore যে বিন্দুতে উন্নতি কোণ 30° সে বিন্দু থেকে দালানের শীর্ষবিন্দু ও পাদবিন্দুর পার্থক্য = $(AC - BC)$ মিটার
 $= (42\sqrt{3} - 63)$ মিটার
 $= 9.746$ মি. (প্রায়) (Ans.)

প্রশ্ন ▶ চ-১



চিত্রে $MA \parallel BC$, $AD \perp BC$, $CD = 10\text{m}$, $\angle ACD = 45^\circ$ এবং $\angle BAM = 30^\circ$ ।

[সিলেট সরকারি পাইলট উচ্চ বিদ্যালয়, সিলেট □ প্রশ্ন নং ৭]

- ক. $\triangle ABD$ এ $\angle ABD = \theta$ হলে দেখাও $\sin\theta + \cos\theta > 1$. ২
 খ. AB বাহুর দৈর্ঘ্য নির্ণয় কর। ৪
 গ. $\triangle ABC$ এর পরিসীমা নির্ণয় কর। ৪

চ-১ নং প্রশ্নের সমাধান

- ক. যেহেতু MA ও BD সমান্তরাল এবং AB তাদের ছেদক, সেহেতু $\angle MAB = \angle ABD = 30^\circ$ [একান্তর কোণ]

$$\begin{aligned} \text{প্রদত্ত রাশি} &= \sin\theta + \cos\theta \\ &= \sin \angle ABD + \cos \angle ABD \quad [\square \theta = \angle ABD] \\ &= \sin(30^\circ) + \cos(30^\circ) \\ &= \frac{1}{2} + \frac{\sqrt{3}}{2} \\ &= \frac{1 + \sqrt{3}}{2} > 1 \quad [\text{কারণ } \sqrt{3} > 1] \end{aligned}$$

অর্থাৎ $\sin\theta + \cos\theta > 1$ (দেখানো হলো)

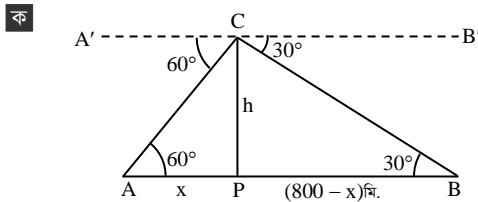
- খ. সৃজনশীল ১৪(খ)নং সমাধান দ্রষ্টব্য।
 গ. সৃজনশীল ১৪(গ)নং সমাধান দ্রষ্টব্য।

প্রশ্ন ▶ চ-২ A, B দুটি খুঁটি যাদের মধ্যবর্তী দূরত্ব ৪০০ মিটার। AB রেখার মধ্যবর্তী কোনো বিন্দু C হতে A, B এর অবনতি কোণ যথাক্রমে 60° , 30° ।

[সরকারি জুবিলী উচ্চ বিদ্যালয়, সুনামগঞ্জ □ প্রশ্ন নং ৮]

- ক. উদ্দীপকের আলোকে চিত্রটি আঁক। ২
 খ. C এর উচ্চতা কত? ৪
 গ. C এর উচ্চতার কোনো খুঁটি বাড়ে ভেঙ্গে h উচ্চতায় বিচ্ছিন্ন না হয়ে ভূমির সাথে 60° কোণ উৎপন্ন করে তবে ভাঙ্গা অংশের পরিমাণ কত? ৪

চ-২ নং প্রশ্নের সমাধান



C থেকে A ও B এর অবনতি কোণ যথাক্রমে 60° এবং 30°
 সুতরাং, $\angle A'CA = 60^\circ$ এবং $\angle B'CB = 30^\circ$
 এবং $AB = 800$ মিটার

- ক. মনে করি, $AP = x$ মিটার, উচ্চতা, $CP = h$ মিটার
 $\therefore BP = AB - AP = (800 - x)$ মিটার
 $A'C \parallel AP$ এবং CA ছেদক

$\therefore \angle CAP =$ একান্তর $\angle A'CA = 60^\circ$

আবার, $B'C \parallel BP$ এবং CB ছেদক

$\therefore \angle CBP =$ একান্তর $\angle B'CB = 30^\circ$

এখন, সমকোণী $\triangle CAP$ -এ $\tan \angle CAP = \frac{CP}{AP}$

$$\text{বা, } \tan 60^\circ = \frac{h}{x}$$

$$\text{বা, } \sqrt{3} = \frac{h}{x}$$

$$\therefore h = \sqrt{3}x \dots\dots\dots (i)$$

আবার, $\tan \angle CBP = \frac{CP}{BP}$

$$\text{বা, } \tan 30^\circ = \frac{h}{800 - x}$$

$$\text{বা, } \frac{1}{\sqrt{3}} = \frac{h}{800 - x}$$

$$\text{বা, } 800 - x = \sqrt{3}h$$

$$\text{বা, } 800 - x = \sqrt{3} \cdot \sqrt{3}x \quad [(i) \text{ নং সমীকরণ থেকে}]$$

$$\text{বা, } 800 - x = 3x$$

$$\text{বা, } 3x + x = 800$$

$$\text{বা, } 4x = 800$$

$$\therefore x = 200 \text{ মিটার}$$

$$\text{সুতরাং, } h = \sqrt{3} \times 200$$

$$= 200\sqrt{3} \text{ মিটার}$$

$$= 346.41 \text{ মিটার (প্রায়)}$$

\therefore উচ্চতা = 346.41 মিটার (প্রায়) (Ans.)

গ. মনে করি, খুঁটিটির উচ্চতা, $BD = 346.41$ মিটার।

খুঁটিটি A বিন্দুতে h মিটার উপরে ভেঙে গিয়ে সম্পূর্ণ বিচ্ছিন্ন না হয়ে

ভূমির সাথে $\angle BCA = 60^\circ$ কোণ উৎপন্ন করে।

$\therefore AD = AC = (346.41 - h)$ মিটার

$\therefore AB = h$ মিটার

এখন, $\triangle ABC$ -এ

$$\sin \angle BCA = \frac{AB}{AC}$$

$$\text{বা, } \sin 60^\circ = \frac{h}{346.41 - h}$$

$$\text{বা, } \frac{\sqrt{3}}{2} = \frac{h}{346.41 - h}$$

$$\text{বা, } \sqrt{3}(346.41 - h) = 2h$$

$$\text{বা, } 346.41\sqrt{3} - \sqrt{3}h = 2h$$

$$\text{বা, } h(\sqrt{3} + 2) = 346.41\sqrt{3}$$

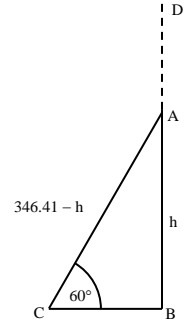
$$\text{বা, } h = \frac{346.41\sqrt{3}}{\sqrt{3} + 2}$$

$$\therefore h = 160.769$$

\therefore খুঁটিটির ভাঙ্গা অংশের দৈর্ঘ্য $AC = (346.41 - h)$ মি.

$$= (346.41 - 160.769) \text{ মি.}$$

$$= 185.641 \text{ মি. (প্রায়) (Ans.)}$$



প্রশ্ন ▶ চ-৩ A ও B দুইটি স্থানের মধ্যবর্তী কোন স্থানে অবস্থিত মিনারের শীর্ষ হতে ৪০ মিটার দূরে অবস্থিত ভূতলস্থ A বিন্দু মিনারের শীর্ষে 30° কোণ উৎপন্ন করে। A ও B বিন্দুর দূরত্ব ২০০ মিটার।

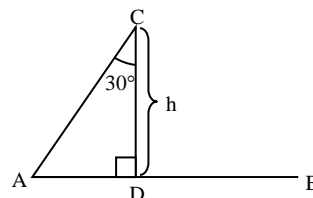
[বরিশাল জিলা স্কুল, বরিশাল □ প্রশ্ন নং ৮]

- ক. উন্নতি কোণ ও অবনতি কোণ কাকে বলে? ২
 খ. মিনারের উচ্চতা নির্ণয় কর। ৪
 গ. B বিন্দুতে মিনারের শীর্ষের উন্নতি কোণ নির্ণয় কর। ৪

চ-৩ নং প্রশ্নের সমাধান

ক. সৃজনশীল ১৪(ক) নং সমাধান দ্রষ্টব্য।

খ.



মনেকরি, A ও B দুটি স্থানের মধ্যবর্তী কোন স্থানে CD একটি মিনার যার উচ্চতা h এবং শীর্ষ C হতে 80 মিটার দূরে ভূতলস্থ A বিন্দু শীর্ষের সাথে $\angle ACD = 30^\circ$ উৎপন্ন করে। AB = 200 মিটার এবং AC = 80 মিটার।

এখন সমকোণী $\triangle ACD$ এ

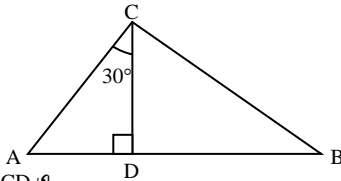
$$\cos 30^\circ = \frac{CD}{AC}$$

$$\text{বা, } \frac{\sqrt{3}}{2} = \frac{h}{80}$$

$$\therefore h = \frac{80\sqrt{3}}{2} = 40\sqrt{3} = 69.28$$

\therefore মিনারের উচ্চতা 69.28 মিটার (প্রায়) (Ans.)

গ



সমকোণী $\triangle ACD$ এ

$$\sin 30^\circ = \frac{AD}{AC}$$

$$\text{বা, } AD = AC \sin 30^\circ = 80 \times \frac{1}{2} = 40$$

উদ্দীপক অনুসারে, AB = 200 মিটার

$$\therefore BD = AB - AD = 200 - 40 = 160 \text{ মিটার}$$

‘খ’ হতে পাই, মিনারের উচ্চতা, CD = $40\sqrt{3}$ মিটার

এখন, B বিন্দুতে মিনারের শীর্ষের উন্নতি $\angle CBD$ ।

সমকোণী $\triangle CBD$ হতে পাই,

$$\begin{aligned} \tan \angle CBD &= \frac{CD}{BD} \\ &= \frac{40\sqrt{3}}{160} \\ &= 0.433 \end{aligned}$$

$$\therefore \tan \angle CBD = \tan^{-1}(0.433)$$

$$\therefore \angle CBD = 23.41^\circ$$

\therefore B বিন্দুতে মিনারের শীর্ষের উন্নতি কোণ 23.41° (Ans.)

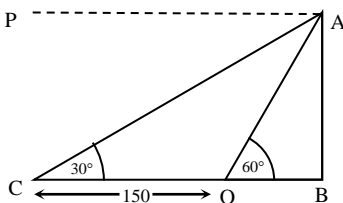
প্রশ্ন ৮৪ একটি নদীর তীরে দাঁড়িয়ে একজন লোক দেখল যে, ঠিক সোজাসুজি অপর তীরে একটি গাছের উন্নতি কোণ 60° । ঐ স্থান হতে 150 মিটার পিছিয়ে দেখল গাছের উন্নতি কোণ 30° ।

[বরিশাল সরকারি বালিকা উচ্চ বিদ্যালয়, বরিশাল □ প্রশ্ন নং ৮]

- ক. চিত্রের উন্নতি ও অবনতি কোণ দেখাও। ২
খ. নদীটির বিস্তার নির্ণয় কর। ৪
গ. ২য় বারে গাছের শীর্ষের উন্নত কোণ 45° দেখাতে চাইলে লোকটিকে কতটা দূরত্বে পিছিয়ে দেখতে হবে তা নির্ণয় কর। ৪

৮৪ নং প্রশ্নের সমাধান

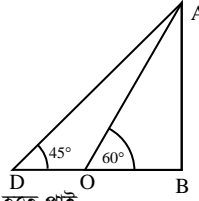
ক



ভূতস্থ O বিন্দুতে AB গাছের শীর্ষ A এর উন্নতি কোণ = 60° এবং অবনতি কোণ $\angle PAO = 60^\circ$ । ঐ স্থান হতে 150 মি. পিছিয়ে C বিন্দুতে গেলে উন্নতি কোণ $\angle ACB = 30^\circ$ এবং অবনতি কোণ $\angle PAC = 30^\circ$ হয়।

খ
গ

সৃজনশীল ২১(খ) নং সমাধান দ্রষ্টব্য।



‘খ’ হতে পাই,

নদীর বিস্তার = OB = x = 75 মিটার।

$$\begin{aligned} \therefore \text{গাছটির উচ্চতা} &= h = x\sqrt{3} \\ &= 75\sqrt{3} \text{ মিটার} \end{aligned}$$

মনে করি, উন্নতি কোণ 45° দেখতে চাইলে O হতে D পর্যন্ত পিছিয়ে যেতে হবে। ধরি, OD = y

তাহলে, $\triangle ABD$ এ,

$$\tan \angle ADB = \frac{AB}{BD}$$

$$\text{বা, } \tan 45^\circ = \frac{75\sqrt{3}}{BO + OD}$$

$$\text{বা, } 1 = \frac{75\sqrt{3}}{75 + y}$$

$$\text{বা, } 75 + y = 75\sqrt{3}$$

$$\therefore y = 75\sqrt{3} - 75 = 54.904$$

\therefore পিছিয়ে দেখতে হবে 54.904 মিটার (প্রায়) (Ans.)

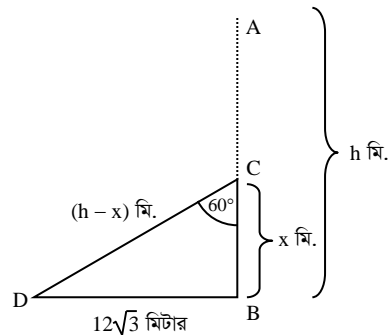
প্রশ্ন ৮৫ একটি খুঁটি এমনভাবে ঝড়ে ভেঙ্গে গেল যেন ভাঙ্গা অংশ দশায়মান অংশের সাথে 60° কোণ উৎপন্ন করে গোড়া থেকে $12\sqrt{3}$ মিটার দূরে মাটি স্পর্শ করেছে।

[পিরোজপুর সরকারি বালিকা উচ্চ বিদ্যালয়, পিরোজপুর □ প্রশ্ন নং ৮]

- ক. সংক্ষিপ্ত বিবরণসহ চিত্রটি আঁক। ২
খ. সম্পূর্ণ খুঁটির দৈর্ঘ্য নির্ণয় কর। ৪
গ. খুঁটিটি ভেঙ্গে গিয়ে সম্পূর্ণ বিচ্ছিন্ন না হয়ে ভাঙ্গা অংশ ভূমির সাথে 60° কোণ উৎপন্ন করলে ভাঙ্গা অংশের দৈর্ঘ্য নির্ণয় কর। ৪

৮৫ নং প্রশ্নের সমাধান

ক



মনে করি, সম্পূর্ণ খুঁটির দৈর্ঘ্য AB = h মিটার। BC = x মিটার উচ্চতায় ভেঙ্গে গিয়ে বিচ্ছিন্ন না হয়ে ভাঙ্গা অংশ দশায়মান অংশের সাথে $\angle BCD = 60^\circ$ উৎপন্ন করে খুঁটির গোড়া থেকে BD = $12\sqrt{3}$ মিটার দূরে মাটি স্পর্শ করে।

এখানে, CD = AC = AB - BC = (h - x) মিটার

খ $\triangle BCD$ থেকে পাই, $\tan \angle BCD = \frac{BD}{BC}$

$$\text{বা, } \tan 60^\circ = \frac{12\sqrt{3}}{x}$$



$$\text{বা, } \sqrt{3} = \frac{12\sqrt{3}}{x}$$

$$\text{বা, } \sqrt{3}x = 12\sqrt{3}$$

$$\text{বা, } x = \frac{12\sqrt{3}}{\sqrt{3}}$$

$$\therefore x = 12 \text{ মিটার}$$

$$\text{আবার, } \sin \angle BCD = \frac{BD}{CD}$$

$$\text{বা, } \sin 60^\circ = \frac{12\sqrt{3}}{h-x}$$

$$\text{বা, } \frac{\sqrt{3}}{2} = \frac{12\sqrt{3}}{h-x}$$

$$\text{বা, } h-x = 24$$

$$\text{বা, } h = 24 + x$$

$$\text{বা, } h = 24 + 12 \text{ [x এর মান বসিয়ে]}$$

$$\therefore h = 36 \text{ মিটার}$$

$$\therefore \text{সম্পূর্ণ খুঁটির দৈর্ঘ্য 36 মিটার। (Ans.)}$$

গ 'খ' হতে পাই,

সম্পূর্ণ খুঁটির দৈর্ঘ্য AB = 36 মিটার

চিত্রে, $\angle BDC = 60^\circ$, ভাস্মা অংশ AC = CD.

দন্ডায়মান অংশ BC = x মিটার হলে, ভাস্মা অংশের দৈর্ঘ্য

$$AC = CD = (36 - x) \text{ মিটার}$$

$$\triangle BCD \text{-এ } \sin \angle BDC = \frac{BC}{CD}$$

$$\text{বা, } \sin 60^\circ = \frac{x}{36-x}$$

$$\text{বা, } \frac{\sqrt{3}}{2} = \frac{x}{36-x}$$

$$\text{বা, } 2x = 36\sqrt{3} - \sqrt{3}x$$

$$\text{বা, } 2x + \sqrt{3}x = 36\sqrt{3}$$

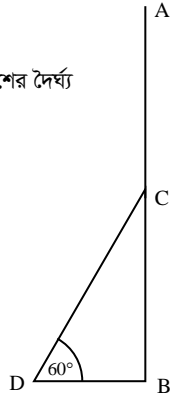
$$\text{বা, } (2 + \sqrt{3})x = 36\sqrt{3}$$

$$\text{বা, } x = \frac{36\sqrt{3}}{2 + \sqrt{3}}$$

$$\therefore x = 16.7076 \text{ মিটার (প্রায়)}$$

$$\therefore \text{ভাস্মা অংশের দৈর্ঘ্য} = (36 - 16.7076) \text{ মিটার}$$

$$= 19.292 \text{ মিটার (প্রায়) (Ans.)}$$



উচ্চতায় D বিন্দুতে ভেঙ্গে $\angle BDC = 30^\circ$

উৎপন্ন করে এবং গাছের শীর্ষ ভূমিতে B

থেকে 20 মিটার দূরে C বিন্দুতে স্পর্শ

করে।

$$\therefore CD = h - x \therefore AD = CD$$

$$\text{এখন, চিত্র থেকে } \tan \angle BDC = \frac{20}{x}$$

$$\Rightarrow \tan 30^\circ = \frac{20}{x}$$

$$\Rightarrow x = \frac{20}{\tan 30^\circ} = 20\sqrt{3} \dots \dots \dots (i)$$

$$\text{আবার, } \sin \angle BDC = \frac{20}{h-x}$$

$$\Rightarrow \sin 30^\circ = \frac{20}{h-20\sqrt{3}} \text{ [(i) নং থেকে]}$$

$$\Rightarrow \frac{1}{2} = \frac{20}{h-20\sqrt{3}}$$

$$\Rightarrow h - 20\sqrt{3} = 40$$

$$\therefore h = 40 + 20\sqrt{3} = 74.64 \text{ (প্রায়)}$$

$$\therefore \text{সম্পূর্ণ গাছটির দৈর্ঘ্য } h = 74.64 \text{ মিটার (প্রায়) (Ans.)}$$

গ মনে করি, খুঁটিটি মাটির সাথে F বিন্দুতে 45° কোণ উৎপন্ন

করে এবং গাছের দন্ডায়মান অংশের E বিন্দুতে স্পর্শ করে।

চিত্র থেকে পাই,

$$\sin \angle BFE = \frac{BE}{EF}$$

$$\Rightarrow \sin 45^\circ = \frac{BE}{10}$$

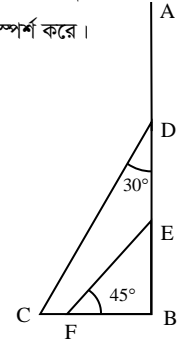
$$\therefore BE = 10 \times \frac{1}{\sqrt{2}} = 5\sqrt{2}$$

ঠেস দেয়া বিন্দুর উপরে দন্ডায়মান

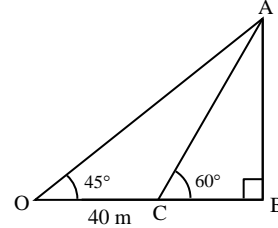
অংশের দৈর্ঘ্য = (BD - BE)

$$= (20\sqrt{3} - 5\sqrt{2}) \text{ ['খ' হতে } BD = 20\sqrt{3}]}$$

$$= 27.57 \text{ মিটার (প্রায়) (Ans.)}$$



প্রশ্ন ▶ চ-৭



চিত্রে OC = 40 মিটার। [যেখানে $0^\circ \leq \theta \leq 90^\circ$]

◀ সমন্বিত অধ্যায় ৯ ও ১০

[বনানী বিদ্যালয়কেন্দ্রিত স্কুল এন্ড কলেজ, ঢাকা □ প্রশ্ন নং ৯]

- ক. সমাধান কর : $\sin \theta + \cos \theta = 1$ ২
- খ. উপরের চিত্র হতে AB এর মান নির্ণয় কর। ৪
- গ. চিত্র হতে OAB ত্রিভুজের পরিসীমা নির্ণয় কর। ৪

চ-৭ নং প্রশ্নের সমাধান

ক প্রদত্ত সমীকরণ, $\sin \theta + \cos \theta = 1$

$$\text{বা, } (\sin \theta + \cos \theta)^2 = (1)^2$$

$$\text{বা, } \sin^2 \theta + 2 \sin \theta \cos \theta + \cos^2 \theta = 1$$

$$\text{বা, } \sin^2 \theta + \cos^2 \theta + 2 \sin \theta \cos \theta = 1$$

$$\text{বা, } 1 + 2 \sin \theta \cos \theta = 1$$

$$\text{বা, } 2 \sin \theta \cos \theta = 0$$

$$\text{বা, } \sin \theta \cos \theta = 0$$

$$\text{হয়, } \sin \theta = 0$$

$$\text{বা, } \sin \theta = \sin 0^\circ$$

$$\therefore \theta = 0^\circ$$

$$\therefore \text{নির্ণেয় সমাধান: } \theta = 0^\circ \text{ অথবা } 90^\circ$$

$$\text{অথবা, } \cos \theta = 0$$

$$\text{বা, } \cos \theta = \cos 90^\circ$$

$$\therefore \theta = 90^\circ$$

প্রশ্ন ▶ চ-৬ বাড়ে একটি গাছ এমনভাবে ভেঙ্গে গেল যে, ভাস্মা অংশ দন্ডায়মান অংশের সাথে 30° কোণ করে গাছের গোড়া থেকে 20 মিটার দূরে মাটি স্পর্শ করল। মাটির সাথে 45° কোণ করে একটি খুঁটি দিয়ে গাছটির দন্ডায়মান অংশে ঠেস দেয়া হল। খুঁটিটির দৈর্ঘ্য 10 মিটার। ◀ সমন্বিত অধ্যায় ৯ ও ১০

[বালকাঠি সরকারি উচ্চ বিদ্যালয়, বালকাঠি □ প্রশ্ন নং ৯]

- ক. $\cos^2 45^\circ \cdot \cot^2 30^\circ \cdot \operatorname{cosec}^2 60^\circ$ এর মান নির্ণয় কর। ২
- খ. গাছটির সম্পূর্ণ দৈর্ঘ্য নির্ণয় কর। ৪
- গ. খুঁটিটির ঠেস দেয়া বিন্দুর উপরে দন্ডায়মান অংশের দৈর্ঘ্য নির্ণয় কর। ৪

চ-৬ নং প্রশ্নের সমাধান

$$\text{ক } \cos^2 45^\circ \cdot \cot^2 30^\circ \cdot \operatorname{cosec}^2 60^\circ$$

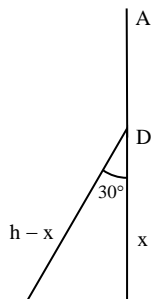
$$= \left(\frac{1}{\sqrt{2}}\right)^2 \cdot (\sqrt{3})^2 \cdot \left(\frac{2}{\sqrt{3}}\right)^2$$

$$= \frac{1}{2} \times 3 \times \frac{4}{3}$$

$$= 2 \text{ (Ans.)}$$

খ মনে করি, গাছটির সম্পূর্ণ দৈর্ঘ্য AB = h

যা ভূমি থেকে BD = x মি.



ক চিত্র হতে,

$$\tan 45^\circ = \frac{AB}{OB}$$

$$\Rightarrow 1 = \frac{AB}{OC + BC}$$

$$\Rightarrow AB = 40 + BC$$

$$\therefore AB - BC = 40 \dots \dots (i)$$

$$\text{এবং } \tan 60^\circ = \frac{AB}{BC}$$

$$\Rightarrow \sqrt{3} = \frac{AB}{BC}$$

$$\therefore BC = \frac{AB}{\sqrt{3}} \dots \dots (ii)$$

(i) নং এ BC = $\frac{AB}{\sqrt{3}}$ বসিয়ে পাই,

$$AB - \frac{AB}{\sqrt{3}} = 40$$

$$\Rightarrow \sqrt{3}AB - AB = 40\sqrt{3}$$

$$\Rightarrow AB(\sqrt{3} - 1) = 40\sqrt{3}$$

$$\Rightarrow AB = \frac{40\sqrt{3}}{\sqrt{3} - 1}$$

$$\therefore AB = 94.64 \text{ (প্রায়) (Ans.)}$$

গ 'খ' হতে পাই,

$$AB = 94.64$$

$$\text{আবার, } \sin 45^\circ = \frac{AB}{OA}$$

$$\text{বা, } \frac{1}{\sqrt{2}} = \frac{94.64}{OA}$$

$$\therefore OA = \sqrt{2} \times 94.64 = 133.84$$

$$\text{আবার, } \tan 45^\circ = \frac{AB}{OB}$$

$$\Rightarrow 1 = \frac{94.64}{OB}$$

$$\therefore OB = 94.64$$

$$\therefore \Delta OAB \text{ এর পরিসীমা} = (94.64 + 94.64 + 133.84)$$

$$= 323.12 \text{ (প্রায়) (Ans.)}$$

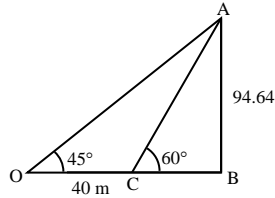
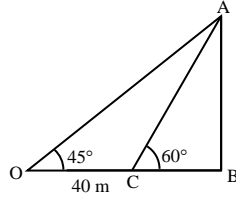
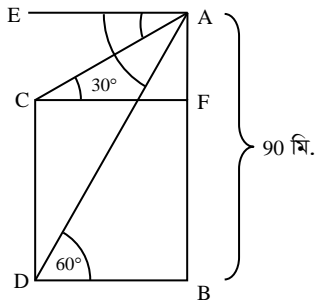
প্রশ্ন ▶ ৮৮ একটি দালানের উচ্চতা ৯০ মিটার। দালানের চূড়া হতে একটি মসজিদের মিনারের শীর্ষ ও পাদদেশের অবনতি কোণ যথাক্রমে ৩০° ও ৬০°।

[এস ও এস হারম্যান মেইনার কলেজ, ঢাকা □ প্রশ্ন নং ৮]

- ক. তথ্যটিকে চিত্রের মাধ্যমে উপস্থাপন কর। ২
 খ. দালান ও মসজিদের মিনারের মধ্যবর্তী দূরত্ব নির্ণয় কর। ৪
 গ. মসজিদের মিনারের উচ্চতা নির্ণয় কর। ৪

৮৮ নং প্রশ্নের সমাধান

ক



মনে করি, দালানের উচ্চতা AB = ৯০ মিটার এবং মিনারের উচ্চতা CD। দালানের চূড়া A হতে মিনারের শীর্ষ C এবং পাদদেশে D বিন্দুতে অবনতি কোণ যথাক্রমে $\angle EAC = 30^\circ$ এবং $\angle EAD = 60^\circ$ ।

EA || CF এবং EA || BD আঁকি।

$$\therefore \angle ACF = \text{একান্তর্জ } \angle EAC = 30^\circ$$

$$\text{এবং } \angle ADB = \text{একান্তর্জ } \angle EAD = 60^\circ$$

খ দালান ও মসজিদের মিনারের মধ্যবর্তী দূরত্ব BD.

$$\Delta ABD \text{ হতে, } \tan \angle ADB = \frac{AB}{BD}$$

$$\text{বা, } \tan 60^\circ = \frac{90}{BD}$$

$$\text{বা, } \sqrt{3} = \frac{90}{BD}$$

$$\therefore BD = \frac{90}{\sqrt{3}} = 30\sqrt{3} = 51.96 \text{ মি. (প্রায়) (Ans.)}$$

গ 'ক' এ অঙ্কিত চিত্রানুসারে,

BFGD একটি আয়ত। যার CF = BD = $30\sqrt{3}$ মি. এবং CD = BF

$$\Delta ACF \text{-এ, } \tan \angle ACF = \frac{AF}{CF}$$

$$\text{বা, } \tan 30^\circ = \frac{AF}{30\sqrt{3}}$$

$$\text{বা, } \frac{1}{\sqrt{3}} = \frac{AF}{30\sqrt{3}}$$

$$\therefore AF = 30 \text{ মি.}$$

$$\therefore \text{মিনারের উচ্চতা, } CD = BF = AB - AF = 90 - 30 = 60 \text{ মি. (Ans.)}$$

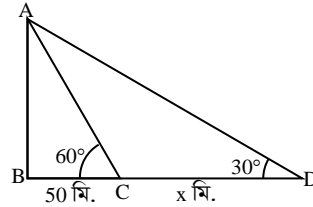
প্রশ্ন ▶ ৮৯ একটি দালানের পাদদেশ থেকে ৫০ মিটার দূরের ভূতলস্থ কোনো বিন্দুতে ছাদের উন্নতি কোণ 60° । ঐ বিন্দু হতে x মিটার পেছনের দিকে গেলে ছাদের উন্নতি কোণ 30° হয়।

[সরকারি মোহাম্মদপুর মডেল স্কুল ও কলেজ, ঢাকা □ প্রশ্ন নং ৮]

- ক. উপরের তথ্যের প্রেক্ষিতে সংক্ষিপ্ত বিবরণ দাও। ২
 খ. দালানের উচ্চতা নির্ণয় কর। ৪
 গ. পেছনের বিন্দু হতে দালানের শীর্ষবিন্দুর দূরত্ব নির্ণয় কর। ৪

৮৯ নং প্রশ্নের সমাধান

ক



ধরি, AB দালানের পাদদেশ B থেকে ৫০ মি. দূরে C বিন্দুর উন্নতি কোণ $\angle ACB = 60^\circ$ । C থেকে x মিটার পিছনে D বিন্দুর উন্নতি কোণ $\angle ADB = 30^\circ$

$$\therefore BC = 50 \text{ মি.}$$

$$CD = x \text{ মি.}$$

খ 'ক' থেকে সমকোণী ΔABC এ,

$$\tan \angle ACB = \frac{AB}{BC}$$

$$\text{বা, } \tan 60^\circ = \frac{AB}{50}$$

$$\therefore AB = 50 \times \tan 60^\circ = 50\sqrt{3} = 86.60 \text{ মি. (প্রায়) (Ans.)}$$



গ সমকোণী $\triangle ABD$ এ $\sin \angle ADB = \frac{AB}{AD}$

$$\text{বা, } \sin 30^\circ = \frac{50\sqrt{3}}{AD}$$

$$\text{বা, } \frac{1}{2} = \frac{50\sqrt{3}}{AD}$$

$$\therefore AD = 50\sqrt{3} \times 2 = 173.21 \text{ মি. (প্রায়) (Ans.)}$$

প্রশ্ন ৯০ কোনো স্থান থেকে একটি পিলারের দিকে 60 মিটার এগিয়ে আসলে পিলারের শীর্ষবিন্দুর উন্নতি কোণ 45° থেকে 60° হয়। 16 মিটার দীর্ঘ একটি মই ঠেস দিয়ে পিলারের সাথে এমনভাবে রাখা হলো যেন এটি ভূমির সাথে 60° কোণ উৎপন্ন করে। [সাভার ক্যান্টনমেন্ট পাবলিক স্কুল ও কলেজ, ঢাকা □ প্রশ্ন নং c]

- ক. একটি বেলনের উচ্চতা 40 মিটার এবং ভূমির ব্যাসার্ধ 0.5 মিটার হলে, বেলনের আয়তন কত? ২
- খ. পিলারটির উচ্চতা নির্ণয় কর। ৪
- গ. মইটি পূর্বের অবস্থান থেকে ভূমি বরাবর আর কত দূর সরালে মইটি ভূমির সাথে 30° কোণ উৎপন্ন করবে? ৪

৯০ নং প্রশ্নের সমাধান

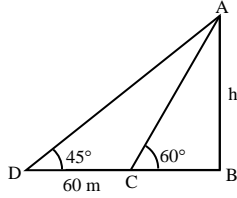
ক দেওয়া আছে,

$$\text{বেলনের উচ্চতা, } h = 40 \text{ মি.}$$

$$\text{ভূমির ব্যাসার্ধ, } r = 0.5 \text{ মি.}$$

$$\begin{aligned} \therefore \text{বেলনের আয়তন} &= \pi r^2 h \\ &= 3.1416 \times (0.5)^2 \times 40 \text{ ঘন মি.} \\ &= 31.416 \text{ ঘন মি. (Ans.)} \end{aligned}$$

খ



মনে করি, পিলারের উচ্চতা $AB = h$ মিটার এবং D বিন্দুতে শীর্ষের উন্নতি কোণ 45° । D বিন্দু থেকে $DC = 60$ মিটার এগিয়ে গেলে উন্নতি $\angle ACB = 60^\circ$ হয়।

$$\triangle ABC \text{ হতে পাই, } \tan 60^\circ = \frac{AB}{BC}$$

$$\text{বা, } \sqrt{3} = \frac{h}{BC}$$

$$\therefore BC = \frac{h}{\sqrt{3}} \dots \dots (i)$$

$$\text{আবার, } \triangle ABD \text{ হতে পাই, } \tan 45^\circ = \frac{AB}{BD}$$

$$\text{বা, } 1 = \frac{h}{BC + CD}$$

$$\text{বা, } h = BC + CD$$

$$\text{বা, } h = \frac{h}{\sqrt{3}} + 60 \text{ [(i) নং হতে]}$$

$$\text{বা, } h \left(1 - \frac{1}{\sqrt{3}} \right) = 60$$

$$\text{বা, } h \left(\frac{\sqrt{3}-1}{\sqrt{3}} \right) = 60$$

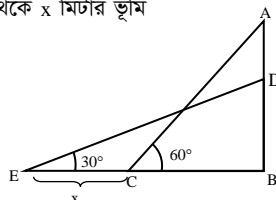
$$\text{বা, } h = \frac{60\sqrt{3}}{\sqrt{3}-1}$$

$$\therefore h = 141.96 \text{ মিটার (প্রায়)}$$

$$\therefore \text{পিলারের উচ্চতা} = 141.96 \text{ মিটার (প্রায়) (Ans.)}$$

গ ধরি, মইটিকে পূর্বের অবস্থান থেকে x মিটার ভূমি বরাবর সরানো হয়।

এখন, $AC = DE = 16$ মিটার



এবং $BE = BC + x$

এখানে, $\triangle ABC$ এ

$$\cos 60^\circ = \frac{BC}{AC}$$

$$\Rightarrow BC = AC \times \cos 60^\circ = 16 \times 0.5$$

$$\therefore BC = 8$$

$$\therefore BE = 8 + x$$

$$\text{তাহলে, } \cos 30^\circ = \frac{8+x}{16}$$

$$\text{বা, } \frac{\sqrt{3}}{2} = \frac{8+x}{16}$$

$$\text{বা, } 16 + 2x = 16\sqrt{3}$$

$$\text{বা, } 2x = 16\sqrt{3} - 16$$

$$\text{বা, } x = \frac{16\sqrt{3} - 16}{2}$$

$$\therefore x = 5.86$$

অর্থাৎ, মইটিকে পূর্বের অবস্থান থেকে ভূমি বরাবর আরও 5.86 মিটার সরাতে হবে। (Ans.)

প্রশ্ন ৯১ একটি গাছ ঝড়ে এমনভাবে ভেঙ্গে গেল যেন ভাঙ্গা অংশ দশায়মান অংশের সাথে 60° কোণ উৎপন্ন করে গাছের গোড়া থেকে $15\sqrt{3}$ মিটার দূরে মাটি স্পর্শ করেছে।

[আই.ই.টি সরকারি উচ্চ বিদ্যালয়, নারায়ণগঞ্জ □ প্রশ্ন নং c]

- ক. তথ্যের আলোকে চিত্র আঁক। ২
- খ. সম্পূর্ণ গাছের দৈর্ঘ্য নির্ণয় কর। ৪
- গ. ভাঙ্গা অংশ দশায়মান অংশের সাথে 30° কোণ উৎপন্ন করলে, ভাঙ্গা অংশের দৈর্ঘ্য কত? ৪

৯১ নং প্রশ্নের সমাধান

সৃজনশীল ১৫ নং সমাধান দ্রষ্টব্য।

প্রশ্ন ৯২ 48 মিটার উচ্চতা বিশিষ্ট একটি গাছের ছায়ার দৈর্ঘ্য $16\sqrt{3}$ মিটার।

◀ সমন্বিত অধ্যায় ৯ ও ১০

[রাজবাড়ী সরকারি বালিকা উচ্চ বিদ্যালয়, রাজবাড়ী □ প্রশ্ন নং c]

- ক. সমাধান কর : $\tan^2 A - (1 + \sqrt{3}) \cdot \frac{1}{\cot A} + \sqrt{3} = 0$ ২
- খ. গাছটির শীর্ষবিন্দুর উন্নতি কোণ নির্ণয় কর। ৪
- গ. গাছটির শীর্ষবিন্দুর উন্নতি কোণ কত হ্রাস পেলে ছায়ার দৈর্ঘ্য $32\sqrt{3}$ মিটার বৃদ্ধি পাবে? ৪

৯২ নং প্রশ্নের সমাধান

ক প্রদত্ত সমীকরণ, $\tan^2 A - (1 + \sqrt{3}) \cdot \frac{1}{\cot A} + \sqrt{3} = 0$

$$\text{বা, } \tan^2 A - \tan A - \sqrt{3} \tan A + \sqrt{3} = 0$$

$$\text{বা, } \tan A (\tan A - 1) - \sqrt{3} (\tan A - 1) = 0$$

$$\text{বা, } (\tan A - 1) (\tan A - \sqrt{3}) = 0$$

$$\text{হয়, } \tan A - 1 = 0 \quad \text{অথবা, } \tan A - \sqrt{3} = 0$$

$$\text{বা, } \tan A = 1 \quad \text{বা, } \tan A = \sqrt{3}$$

$$\text{বা, } \tan A = \tan 45^\circ \quad \text{বা, } \tan A = \tan 60^\circ$$

$$\therefore A = 45^\circ \quad \therefore A = 60^\circ$$

$$\therefore \text{নির্ণেয় সমাধান: } A = 45^\circ \text{ অথবা } 60^\circ$$

খ মনে করি, $AB = 48$ মি. দীর্ঘ

$$\text{একটি গাছের ছায়ার দৈর্ঘ্য } BC = 16\sqrt{3}$$

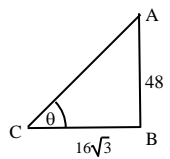
ধরি, গাছটির শীর্ষের উন্নতি কোণ $\angle BCA = \theta$

$$\therefore \text{চিত্রানুসারে, } \tan \theta = \frac{AB}{BC} = \frac{48}{16\sqrt{3}} = \sqrt{3}$$

$$\text{বা, } \tan \theta = \tan 60^\circ$$

$$\therefore \theta = 60^\circ \text{ (Ans.)}$$

গ গাছটির ছায়ার দৈর্ঘ্য $16\sqrt{3}$ হলে উন্নতি কোণ $\theta = 60^\circ$ ['ক' হতে]



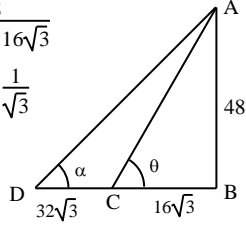
ধরি, ছায়ার দৈর্ঘ্য $32\sqrt{3}$ মি. বৃদ্ধি পেলে উন্নতি কোণ = α

$$\begin{aligned} \text{চিত্রানুসারে, } \tan \alpha &= \frac{AB}{BD} = \frac{48}{32\sqrt{3} + 16\sqrt{3}} \\ &= \frac{48}{48\sqrt{3}} = \frac{1}{\sqrt{3}} \end{aligned}$$

$$\therefore \tan \alpha = \frac{1}{\sqrt{3}} = \tan 30^\circ$$

$$\therefore \alpha = 30^\circ$$

$$\begin{aligned} \text{গাছটির শীর্ষের উন্নতি কোণ হ্রাসের পরিমাণ} &= (\theta - \alpha) \\ &= (60^\circ - 30^\circ) \\ &= 30^\circ \text{ (Ans.)} \end{aligned}$$

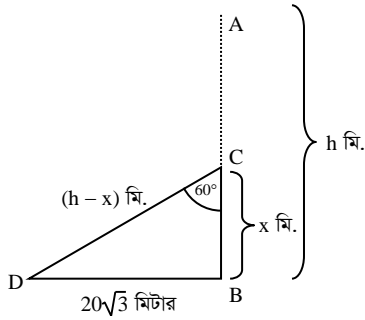


প্রশ্ন ৯৩ একটি গাছ বাড়ে এমনভাবে ভেঙে গেল যেন ভাঙা অংশ দশায়মান অংশের সাথে 60° কোণ উৎপন্ন করে গাছের গোড়া থেকে $20\sqrt{3}$ মিটার দূরে স্পর্শ করে। [ক্যান্টনমেন্ট পাবলিক স্কুল ও কলেজ, মোমেনশাহী □ প্রশ্ন নং c]

- ক. উদ্দীপক অনুসারে সংক্ষিপ্ত বর্ণনাসহ চিত্র অঙ্কন কর। ২
 খ. সম্পূর্ণ গাছের দৈর্ঘ্য নির্ণয় কর। ৪
 গ. ভাঙা অংশ ভূমির সাথে 60° কোণ উৎপন্ন করলে ভাঙা অংশের দৈর্ঘ্য কত? ৪

৯৩ নং প্রশ্নের সমাধান

ক



মনে করি, সম্পূর্ণ গাছের দৈর্ঘ্য $AB = h$ মিটার। $BC = x$ মিটার উচ্চতায় ভেঙ্গে গিয়ে বিচ্ছিন্ন না হয়ে ভাঙা অংশ দশায়মান অংশের সাথে $\angle BCD = 60^\circ$ উৎপন্ন করে গাছটির গোড়া থেকে $BD = 20\sqrt{3}$ মিটার দূরে মাটি স্পর্শ করে।

এখানে, $CD = AC = AB - BC = (h - x)$ মিটার

$$\triangle BCD \text{ থেকে পাই, } \tan \angle BCD = \frac{BD}{BC}$$

$$\text{বা, } \tan 60^\circ = \frac{20\sqrt{3}}{x}$$

$$\text{বা, } \sqrt{3} = \frac{20\sqrt{3}}{x}$$

$$\text{বা, } \sqrt{3}x = 20\sqrt{3}$$

$$\text{বা, } x = \frac{20\sqrt{3}}{\sqrt{3}}$$

$$\therefore x = 20 \text{ মিটার}$$

$$\text{আবার, } \sin \angle BCD = \frac{BD}{CD}$$

$$\text{বা, } \sin 60^\circ = \frac{20\sqrt{3}}{h-x}$$

$$\text{বা, } \frac{\sqrt{3}}{2} = \frac{20\sqrt{3}}{h-x}$$

$$\text{বা, } h-x = 40$$

$$\text{বা, } h = 40 + x$$

$$\text{বা, } h = 40 + 20 \text{ [x এর মান বসিয়ে]}$$

$$\therefore h = 60 \text{ মিটার}$$

$$\therefore \text{ সম্পূর্ণ গাছের দৈর্ঘ্য } 60 \text{ মিটার। (Ans.)}$$

গ 'খ' হতে পাই,

$AB = 60$ মিটার

চিত্রে $\angle BDC = 60^\circ$; দশায়মান অংশ $BC = x$ মি. হলে

ভাঙা অংশ = $AC = CD = AB - x = (60 - x)$ মি.

$\triangle BCD$ হতে,

$$\sin \angle BDC = \frac{BC}{CD}$$

$$\text{বা, } \sin 60^\circ = \frac{x}{60-x}$$

$$\text{বা, } \frac{\sqrt{3}}{2} = \frac{x}{60-x}$$

$$\text{বা, } 2x = 60\sqrt{3} - \sqrt{3}x$$

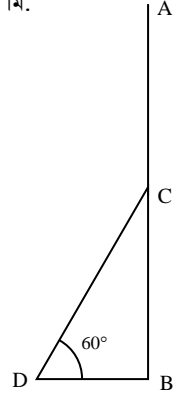
$$\text{বা, } x(2 + \sqrt{3}) = 60\sqrt{3}$$

$$\text{বা, } x = \frac{60\sqrt{3}}{2 + \sqrt{3}}$$

$$\therefore x = 27.85 \text{ মিটার (প্রায়)}$$

$$\therefore \text{ ভাঙা অংশের দৈর্ঘ্য} = (60 - 27.85) \text{ মি.}$$

$$= 32.15 \text{ মি. (প্রায়) (Ans.)}$$

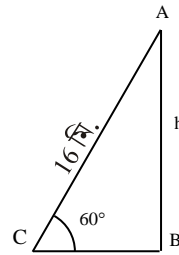


প্রশ্ন ৯৪ 16 মিটার দীর্ঘ একটি মই লম্বভাবে দশায়মান একটি দেয়ালের ছাদ বরাবর ঠেস দিয়ে রাখা হলো। ফলে একটি ভূমির সাথে 60° কোণ উৎপন্ন করল। [আমর্ড পুলিশ ব্যাটালিয়ন পাবলিক স্কুল ও কলেজ, বগুড়া □ প্রশ্ন নং c]

- ক. উদ্দীপক অনুসারে সংক্ষিপ্ত বর্ণনাসহ চিত্র অঙ্কন কর। ২
 খ. দেয়ালটির উচ্চতা নির্ণয় কর। ৪
 গ. দেয়ালের সাথে ঠেস দিয়ে রাখা অবস্থায় মইটিকে পূর্বের অবস্থান থেকে ভূমি বরাবর আর কতদূর সরালে মইটি ভূমির সাথে 30° কোণ উৎপন্ন করবে? ৪

৯৪ নং প্রশ্নের সমাধান

ক



মনে করি, দেয়ালের উচ্চতা $AB = h$ মিটার, মইটির দৈর্ঘ্য $AC = 16$ মিটার এবং মইটি ভূমির সাথে $\angle ACB = 60^\circ$ উৎপন্ন করে।

খ $\triangle ABC$ থেকে পাই,

$$\sin \angle ACB = \frac{AB}{AC}$$

$$\text{বা, } \sin 60^\circ = \frac{h}{16}$$

$$\text{বা, } \frac{\sqrt{3}}{2} = \frac{h}{16}$$

$$\text{বা, } 2h = 16\sqrt{3}$$

$$\text{বা, } h = \frac{16\sqrt{3}}{2}$$

$$\text{বা, } h = 8\sqrt{3}$$

$$\therefore h = 13.86 \text{ মিটার}$$

$$\therefore \text{ দেয়ালের উচ্চতা } 13.86 \text{ মিটার (প্রায়) (Ans.)}$$

গ সৃজনশীল ৯০(গ) নং সমাধান দ্রষ্টব্য।



প্রশ্ন ▶ ৯৫ একটি গাছের শীর্ষ বিন্দুতে ঐ বিন্দু থেকে $68\sqrt{3}$ মিটার দূরে ভূতলস্থ একটি বিন্দুর অবনতি কোণ 60° ।

◀সম্বিত অধ্যায় ৯ ও ১০

[দিনাজপুর সরকারি বালিকা উচ্চ বিদ্যালয়, দিনাজপুর □ প্রশ্ন নং ৮]

- ক. $1 - \cos^2\theta = \frac{3}{4}$ হলে $\tan\theta =$ কত? ২
 খ. গাছটির উচ্চতা নির্ণয় কর। ৪
 গ. গাছটি বাড়ে এমনভাবে ভেঙ্গে গেল যে, ভাঙ্গা অংশ দণ্ডায়মান অংশের সাথে 30° কোণ করে মাটি স্পর্শ করে। গাছটি কত উচুতে ভেঙ্গেছিল? ৪

৯৫ নং প্রশ্নের সমাধান

ক দেওয়া আছে, $1 - \cos^2\theta = \frac{3}{4}$

$$\text{বা, } \sin^2\theta = \frac{3}{4}$$

$$\text{বা, } \sin\theta = \sqrt{\frac{3}{4}} = \frac{\sqrt{3}}{2}$$

$$\text{বা, } \sin\theta = \sin 60^\circ$$

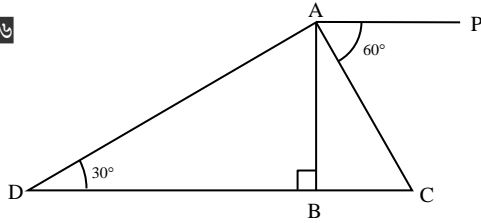
$$\therefore \theta = 60^\circ$$

$$\therefore \tan\theta = \tan 60^\circ = \sqrt{3}. \text{ (Ans.)}$$

খ সৃজনশীল ৬১(খ) নং সমাধান দ্রষ্টব্য।

গ সৃজনশীল ৬১(গ) নং সমাধান দ্রষ্টব্য।

প্রশ্ন ▶ ৯৬



চিত্রে, $AC = 48$ সে.মি. এবং $AP \parallel CD$

◀সম্বিত অধ্যায় ৯ ও ১০

[আইডিয়াল রেসিডেন্সিয়াল মডেল স্কুল, দিনাজপুর □ প্রশ্ন নং ৮]

- ক. $\operatorname{cosec}(90^\circ - \theta) = \frac{13}{12}$ হলে, $\sin\theta - \cos\theta =$ কত? ২
 খ. AD এবং CD এর মান নির্ণয় কর। ৪
 গ. $3 \cot^2 \angle ACB + \frac{1}{4} \operatorname{cosec} \angle CAB + 5 \sin^2 \angle ADB - 4 \cos^2 \angle BAD$ এর মান নির্ণয় কর। ৪

৯৬ নং প্রশ্নের সমাধান

ক দেওয়া আছে, $\operatorname{cosec}(90^\circ - \theta) = \frac{13}{12}$

$$\text{বা, } \sec\theta = \frac{13}{12}$$

$$\text{বা, } \cos\theta = \frac{12}{13}$$

আমরা জানি, $\cos\theta = \frac{\text{ভূমি}}{\text{অতিভুজ}}$

$$\therefore \triangle ABC \text{ এ, ভূমি, } BC = 12$$

$$\text{অতিভুজ, } AB = 13$$

$$\therefore \text{লম্ব, } AC = \sqrt{AB^2 - BC^2}$$

$$= \sqrt{13^2 - 12^2} = 5$$

$$\therefore \sin\theta = \frac{5}{13}$$

$$\therefore \sin\theta - \cos\theta = \frac{5}{13} - \frac{12}{13} = -\frac{7}{13} \text{ (Ans.)}$$

খ দেওয়া আছে, $AC = 48$ সে.মি.

$$\triangle ABD \text{ এ } \angle BAD = 90^\circ - 30^\circ = 60^\circ$$

$$\triangle ABC \text{ এ, } \angle CAB = 90^\circ - 60^\circ = 30^\circ$$

$$\therefore \angle CAD = 60^\circ + 30^\circ = 90^\circ$$

$$\therefore \triangle ADC \text{ হতে পাই,}$$

$$\sin \angle ADC = \frac{AC}{CD}$$

$$\text{বা, } \sin 30^\circ = \frac{48}{CD}$$

$$\text{বা, } \frac{1}{2} = \frac{48}{CD}$$

$$\therefore CD = 48 \times 2 = 96 \text{ সে.মি. (Ans.)}$$

$$\text{এবং } \tan \angle ADC = \frac{AC}{AD}$$

$$\text{বা, } \tan 30^\circ = \frac{48}{AD}$$

$$\text{বা, } \frac{1}{\sqrt{3}} = \frac{48}{AD}$$

$$\therefore AD = 48\sqrt{3} = 83.138 \text{ সে.মি. (Ans.)}$$

গ 'খ' হতে পাই,

$$\angle CAB = 30^\circ$$

$$\angle ADB = 30^\circ, \angle ACB = \angle PAC = 60^\circ$$

$$\angle BAD = 60^\circ$$

$$\text{প্রদত্ত রাশি} = 3 \cot^2 \angle ACB + \frac{1}{4} \operatorname{cosec} \angle CAB + 5 \sin^2 \angle ADB$$

$$- 4 \cos^2 \angle BAD$$

$$= 3 \cot^2 60^\circ + \frac{1}{4} \operatorname{cosec} 30^\circ + 5 \sin^2 30^\circ - 4 \cos^2 60^\circ$$

$$= 3(\cot 60^\circ)^2 + \frac{1}{4} \cdot \operatorname{cosec} 30^\circ + 5(\sin 30^\circ)^2 - 4(\cos 60^\circ)^2$$

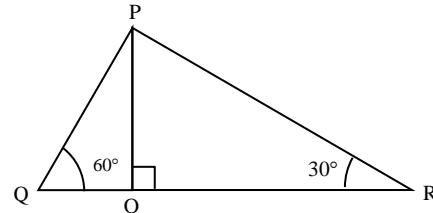
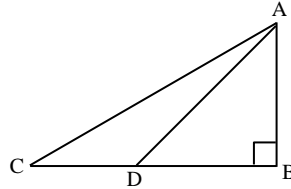
$$= 3 \cdot \left(\frac{1}{\sqrt{3}}\right)^2 + \frac{1}{4} \cdot 2 + 5 \cdot \left(\frac{1}{2}\right)^2 - 4 \cdot \left(\frac{1}{2}\right)^2$$

$$= 3 \cdot \frac{1}{3} + \frac{1}{2} + 5 \cdot \frac{1}{4} - 4 \cdot \frac{1}{4}$$

$$= 1 + \frac{1}{2} + \frac{5}{4} - 1$$

$$= \frac{1}{2} + \frac{5}{4} = \frac{2+5}{4} = \frac{7}{4} \text{ (Ans.)}$$

প্রশ্ন ▶ ৯৭



চিত্র-১: $AB = BD = 12$ মি

চিত্রে $QR = 1200$ মি.

এবং উন্নতি কোণ $\angle ADB = 45^\circ$

◀সম্বিত অধ্যায় ৯ ও ১০

[বীরগঞ্জ সরকারি বালিকা উচ্চ বিদ্যালয়, দিনাজপুর □ প্রশ্ন নং ৮]

- ক. $\sec 6A = \frac{2}{\sqrt{3}}$ হলে $3A$ এর মান কত? ২
 খ. চিত্র-১ অনুসারে, $\angle ACB = \frac{2}{3} \angle ADB$ হলে, CD এর দৈর্ঘ্য নির্ণয় কর। ৪
 গ. PO-এর দৈর্ঘ্য নির্ণয় কর। ৪

৯৭ নং প্রশ্নের সমাধান

ক দেওয়া আছে, $\sec 6A = \frac{2}{\sqrt{3}}$

$$\text{বা, } \frac{1}{\cos 6A} = \frac{2}{\sqrt{3}}$$

$$\text{বা, } \cos 6A = \frac{\sqrt{3}}{2}$$

বা, $\cos 6A = \cos 30^\circ$

বা, $6A = 30^\circ$

বা, $3A = \frac{30^\circ}{2}$

$\therefore 3A = 15^\circ$ (Ans.)

দেওয়া আছে, $AB = BD = 12$ মি.

এবং উন্নতি কোণ $\angle ADB = 45^\circ$

$\therefore \angle ACB = \frac{2}{3} \angle ADB = \frac{2}{3} \times 45^\circ = 30^\circ$

এখন, $\triangle ABC$ -এ, $\tan \angle ACB = \frac{AB}{BC}$

বা, $\tan 30^\circ = \frac{12}{BC}$

বা, $BC = \frac{12}{\frac{1}{\sqrt{3}}}$

$\therefore BC = 12\sqrt{3}$

$\therefore CD$ এর দৈর্ঘ্য = $BC - BD$

= $(12\sqrt{3} - 12)$ মি.

= $(20.785 - 12)$ মি.

= 8.785 মি. (প্রায়) (Ans.)

গ সৃজনশীল ১০(খ) নং সমাধান দ্রষ্টব্য।

প্রশ্ন ৯৮ একটি মিনারের শীর্ষবিন্দু হতে ১৬ মিটার দূরের ভূতলস্থ একটি বিন্দুর

অবনতি কোণ 30° । [গাইবান্ধা সরকারি উচ্চ বালক বিদ্যালয়, গাইবান্ধা □ প্রশ্ন নং ৮]

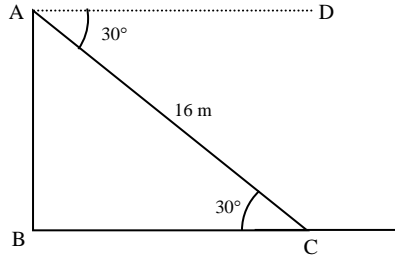
ক. চিত্র এঁকে সংক্ষিপ্ত বিবরণ লিখ। ২

খ. ভূতলস্থ বিন্দু হতে মিনারের পাদবিন্দুর দূরত্ব নির্ণয় কর। ৪

গ. ঐ বিন্দু হতে মিনারের দিকে ৫.৮৬ মিটার এগিয়ে এসে উক্ত বিন্দুতে মিনারটির শীর্ষবিন্দুর উন্নতি কোণ নির্ণয় কর। ৪

৯৮ নং প্রশ্নের সমাধান

ক



চিত্রে, AB মিনারের শীর্ষবিন্দু A হতে ১৬ মিটার দূরের ভূতলস্থ C বিন্দুর অবনতি কোণ $\angle DAC = 30^\circ$ এবং $AC = 16$ মিটার।

খ চিত্রে, $AD \parallel BC$ এবং AC এদের ছেদক

$\therefore \angle DAC =$ একান্তর $\angle ACB = 30^\circ$

$\triangle ABC$ -এ $\cos \angle ACB = \frac{BC}{AC}$

বা, $\cos 30^\circ = \frac{BC}{16}$ [মান বসিয়ে]

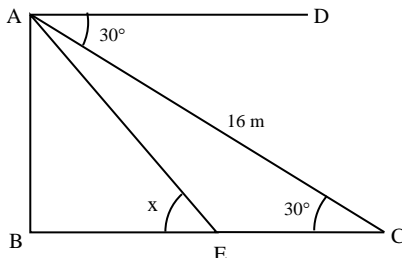
বা, $BC = 16 \times \cos 30^\circ$

বা, $BC = 16 \times \frac{\sqrt{3}}{2}$

$\therefore BC = 8\sqrt{3}$

\therefore ভূতলস্থ বিন্দু C হতে মিনারের পাদবিন্দুর দূরত্ব $8\sqrt{3}$ মিটার। (Ans.)

গ



‘খ’ থেকে পাই, $BC = 8\sqrt{3}$ মি. = 13.86 মি.

শর্তানুসারে, $EC = 5.86$ মি.

$\therefore BE = BC - EC = 13.86 - 5.86$ মি. = 8 মি.

$\triangle ABC$ এ $\tan \angle ACB = \frac{AB}{BC}$

বা, $\tan 30^\circ = \frac{AB}{8\sqrt{3}}$

বা, $AB = \frac{1}{\sqrt{3}} \cdot 8\sqrt{3} = 8$

এখন, $\triangle ABE$ -এ $\tan \angle AEB = \frac{AB}{BE}$

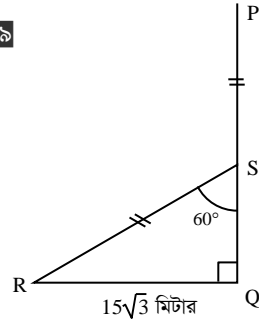
বা, $\tan \angle AEB = \frac{8}{8} = 1$

বা, $\tan \angle AEB = \tan 45^\circ$

$\therefore \angle AEB = 45^\circ$

\therefore E বিন্দুতে মিনারটির শীর্ষবিন্দুর উন্নতি কোণ 45° (Ans.)

প্রশ্ন ৯৯



◀ সমন্বিত অধ্যায় ৯ ও ১০

[ইবনে তাইমিয়া স্কুল এন্ড কলেজ, কুমিল্লা □ প্রশ্ন নং ৮]

ক. উদ্দীপক হতে দেখাও যে, $\sin 3R = 3 \sin R - 4 \sin^3 R$ ২

খ. উদ্দীপকের আলোকে PQ এর দৈর্ঘ্য নির্ণয় কর। ৪

গ. $\angle QSR = 30^\circ$ হলে, $\triangle QRS$ এর পরিসীমা নির্ণয় কর। ৪

৯৯ নং প্রশ্নের সমাধান

ক $\triangle QSR$ -এ, $\angle SQR = 90^\circ$

এবং $\angle QSR = 60^\circ$

এখন, $\angle QSR + \angle SRQ = 90^\circ$

বা, $\angle R = 90^\circ - \angle QSR$

= $90^\circ - 60^\circ = 30^\circ$

$\therefore 3 \sin R - 4 \sin^3 R$

= $3 \sin 30^\circ - 4(\sin 30^\circ)^3$

= $3 \cdot \frac{1}{2} - 4 \cdot \left(\frac{1}{2}\right)^3$

= $\frac{3}{2} - 4 \cdot \frac{1}{8} = \frac{3}{2} - \frac{1}{2}$

= $1 = \sin 90^\circ$

= $\sin 3 \times 30^\circ = \sin 3R$

$\therefore \sin 3R = 3 \sin R - 4 \sin^3 R$ (দেখানো হলো)

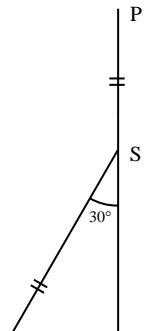
খ সৃজনশীল ১৫(খ) নং সমাধান দ্রষ্টব্য।

গ দেওয়া আছে, $\angle QSR = 30^\circ$

‘খ’ হতে পাই, $PQ = 45$ মিটার

ধরি, $SQ = x$ মিটার,

তাহলে, $RS = PS = (45 - x)$ মিটার



সমকোণী $\triangle QSR$ এ

$$\cos \angle RSQ = \frac{SQ}{RS}$$

$$\text{বা, } \cos 30^\circ = \frac{x}{45 - x}$$

$$\text{বা, } \frac{\sqrt{3}}{2} = \frac{x}{45 - x}$$

$$\text{বা, } 2x = 45\sqrt{3} - \sqrt{3}x$$

$$\text{বা, } 2x + \sqrt{3}x = 45\sqrt{3}$$

$$\text{বা, } x(2 + \sqrt{3}) = 45\sqrt{3}$$

$$\text{বা, } x = \frac{45\sqrt{3}}{2 + \sqrt{3}}$$

$$\therefore x = 20.88$$

$$\therefore SQ = 20.88 \text{ মিটার (প্রায়)}$$

এবং $RS = 45 - 20.88 = 24.12$ মিটার (প্রায়)

আবার, সমকোণী $\triangle QSR$ -এ

$$RS^2 = QS^2 + QR^2$$

$$\text{বা, } QR^2 = RS^2 - QS^2$$

$$\text{বা, } QR^2 = (24.12)^2 - (20.88)^2$$

$$\text{বা, } QR = \sqrt{145.8}$$

$$\therefore QR = 12.07$$

$$\therefore \triangle QSR \text{ এর পরিসীমা} = SQ + QR + RS$$

$$= (20.88 + 12.07 + 24.12) \text{ মিটার}$$

$$= 57.07 \text{ মিটার (Ans.)}$$

প্রশ্ন ১০০ একজন বিদ্যুৎকর্মী বিদ্যুতের তার সংযোগ দেওয়ার জন্য 10 মিটার উচ্চতার খুঁটিতে 11.54 মিটার মই ব্যবহার করে যা খুঁটির সাথে α কোণ ও ভূমির সাথে θ কোণ উৎপন্ন করে। তাতে করে বিপজ্জনক অবস্থার সৃষ্টি হয়। পরে সে পূর্বের চেয়ে লম্বা মই ব্যবহার করায় পূর্বের অবস্থান থেকে পিছিয়ে ভূমির সাথে 30° কোণ তৈরি হয়।

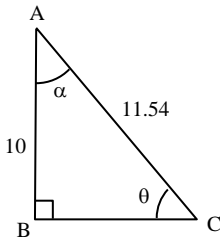
◀ সমন্বিত অধ্যায় ৯ ও ১০

[হাজীগঞ্জ পাইলট বালিকা উচ্চ বিদ্যালয়, চাঁদপুর □ প্রশ্ন নং c]

- ক. θ কোণের মান কত? ২
 খ. প্রমাণ কর যে, $\cos 3\alpha = 4 \cos^3 \alpha - 3 \cos \alpha$. 8
 গ. মইটি ভূমিতে প্রথম অবস্থান থেকে কত দূর সরাতে হয়েছে? 8

১০০ নং প্রশ্নের সমাধান

ক



মনে করি, একটি খুঁটির উচ্চতা, $AB = 10$ মিটার। মই AC এর দৈর্ঘ্য 11.54 মিটার যা খুঁটির সাথে $\angle BAC = \alpha$ এবং ভূমির সাথে $\angle ACB = \theta$ কোণ উৎপন্ন করে।

$$\text{সমকোণী } \triangle ABC \text{-এ, } \sin \theta = \frac{AB}{AC} = \frac{10}{11.54} = 0.8665$$

$$\therefore \theta = \sin^{-1}(0.8665) = 60^\circ \text{ (প্রায়)}$$

খ

'ক' এর চিত্র অনুসারে,

$$\alpha + \theta = 90^\circ$$

$$\text{বা, } \alpha + 60^\circ = 90^\circ$$

$$\therefore \alpha = 30^\circ$$

এখন, বামপক্ষ = $\cos 3\alpha$

$$= \cos(3 \times 30^\circ)$$

$$= \cos 90^\circ = 0$$

$$\text{ডানপক্ষ} = 4 \cos^3 \alpha - 3 \cos \alpha$$

$$= 4 \cos^3 30^\circ - 3 \cos 30^\circ$$

$$= 4 \left(\frac{\sqrt{3}}{2} \right)^3 - 3 \cdot \frac{\sqrt{3}}{2}$$

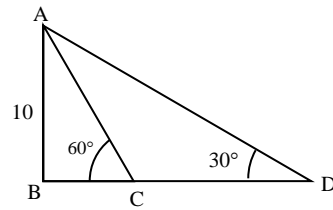
$$= 4 \cdot \frac{3\sqrt{3}}{8} - \frac{3\sqrt{3}}{2}$$

$$= \frac{3\sqrt{3}}{2} - \frac{3\sqrt{3}}{2} = 0$$

অর্থাৎ বামপক্ষ = ডানপক্ষ

$$\therefore \cos 3\alpha = 4 \cos^3 \alpha - 3 \cos \alpha \text{ (প্রমাণিত)}$$

গ



মনে করি, নতুন লম্বা মই ব্যবহার করায় মইটি পূর্বের অবস্থান C হতে CD দূরত্বে D বিন্দুতে অবস্থান করে।

এখন, পূর্বের অবস্থানের জন্য,

$$\cot \angle ACB = \frac{BC}{AB}$$

$$\text{বা, } \cot 60^\circ = \frac{BC}{10} \text{ ['ক' হতে পাই]}$$

$$\therefore BC = 10 \cot 60^\circ = \frac{10}{\sqrt{3}}$$

$$\therefore BC = 5.77 \text{ (প্রায়)}$$

নতুন মইয়ের জন্য,

সমকোণী $\triangle ABD$ -এ,

$$\cot 30^\circ = \frac{BD}{AB}$$

$$\therefore BD = 10 \cot 30^\circ = 10\sqrt{3}$$

$$\therefore BD = 17.32 \text{ (প্রায়)}$$

$$1\text{ম অবস্থান হতে সরণ} = CD = BD - BC$$

$$= 17.32 - 5.77$$

$$= 11.55 \text{ মিটার (Ans.)}$$

প্রশ্ন ১০১

(i) একটি গাছ বাড়ে ভেঙ্গে গিয়ে সম্পূর্ণ বিচ্ছিন্ন না হয়ে ভূমির সাথে 30° কোণ উৎপন্ন করে মাটি স্পর্শ করেছে এবং গাছটি 18 মিটার উচু।

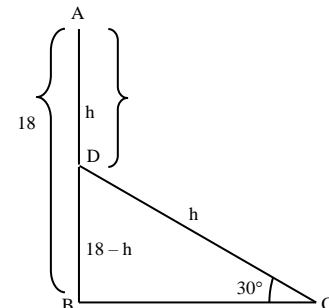
(ii) দুটি মাইলপোস্ট P ও Q এর মধ্যবর্তী কোনো স্থানে একটি টাওয়ার অবস্থিত। টাওয়ারের শীর্ষ বিন্দুতে P ও Q এর অবনতি কোণ যথাক্রমে 60° ও 45° ।

[খাগড়াছড়ি ক্যান্টনমেন্ট পাবলিক স্কুল ও কলেজ, খাগড়াছড়ি □ প্রশ্ন নং c]

- ক. সংক্ষিপ্ত বিবরণসহ (i) নং উদ্দীপকের চিত্র আঁক। ২
 খ. গাছটির ভাঙ্গা অংশের দৈর্ঘ্য নির্ণয় কর। 8
 গ. টাওয়ারের উচ্চতা নির্ণয় কর। 8

১০১ নং প্রশ্নের সমাধান

ক



মনে করি, গাছটির উচ্চতা AB = 18 m. গাছটি D বিন্দুতে ভেঙ্গে গিয়ে সম্পূর্ণ বিচ্ছিন্ন না হয়ে ভূমিতে C বিন্দুতে স্পর্শ করে এবং ভূমির সাথে C বিন্দুতে 30° কোণ উৎপন্ন করে।

খ মনে করি, গাছটির ভাঙ্গা অংশের দৈর্ঘ্য = h

$$\therefore BD = 18 - h, AD = CD = h$$

$$\text{এখন, } \triangle BCD \text{ এ, } \sin 30^\circ = \frac{BD}{CD}$$

$$\Rightarrow \sin 30^\circ = \frac{18 - h}{h}$$

$$\Rightarrow \frac{1}{2} = \frac{18 - h}{h}$$

$$\Rightarrow 36 - 2h = h$$

$$\Rightarrow 3h = 36$$

$$\therefore h = 12$$

$$\therefore \text{গাছটির ভাঙ্গা অংশের দৈর্ঘ্য} = 12 \text{ m (Ans.)}$$

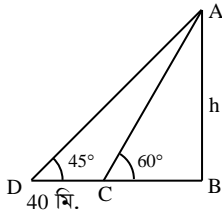
গ সৃজনশীল ৩০(খ) নং সমাধান দ্রষ্টব্য।

প্রশ্ন ১০২ ভূতলস্থ কোন স্থানে একটি দালানের ছাদের একটি বিন্দুর উন্নতি কোণ 60°। ঐ স্থান থেকে 40 মিটার পিছিয়ে গেলে দালানের ছাদের ঐ বিন্দুর উন্নতি কোণ 45° হয়। [সরকারি এম.সি. একাডেমী, সিলেট □ প্রশ্ন নং ৮]

- ক. উপরের তথ্যগুলো চিত্রের মাধ্যমে প্রকাশ কর। ২
খ. দালানের উচ্চতা নির্ণয় কর। ৪
গ. দালানের পাদদেশ হতে ভূমির শেখোক্ত স্থানটির দূরত্ব নির্ণয় কর। ৪

১০২ নং প্রশ্নের সমাধান

ক



মনে করি, দালানের উচ্চতা, AB = h মিটার এবং ভূতলস্থ C বিন্দুতে শীর্ষের উন্নতি $\angle ACB = 60^\circ$. C বিন্দু থেকে 40 মিটার পিছিয়ে গেলে D বিন্দুতে উন্নতি $\angle ADB = 45^\circ$ এবং $CD = 40$ মি. হয়।

খ 'ক' এর চিত্র হতে পাই,

$$\triangle ABC \text{ এ, } \tan \angle ACB = \frac{AB}{BC}$$

$$\therefore BC = \frac{AB}{\tan \angle ACB} = \frac{h}{\tan 60^\circ} = \frac{h}{\sqrt{3}}$$

$$\text{আবার, } \triangle ABD \text{ এ, } \tan \angle ADB = \frac{AB}{BD}$$

$$\text{বা, } \tan 45^\circ = \frac{AB}{BC + CD}$$

$$\text{বা, } 1 = \frac{h}{\frac{h}{\sqrt{3}} + 40}$$

$$\text{বা, } \frac{h}{\sqrt{3}} + 40 = h$$

$$\text{বা, } h \left(1 - \frac{1}{\sqrt{3}} \right) = 40$$

$$\therefore h = \frac{40}{1 - \frac{1}{\sqrt{3}}} = \frac{40\sqrt{3}}{\sqrt{3} - 1} \text{ [লব ও হরকে } \sqrt{3} \text{ দ্বারা গুণ করে]}$$

$$= 94.64 \text{ মিটার (Ans.)}$$

গ 'ক' এর চিত্র হতে,

দালানের পাদদেশ হতে ভূমির শেখোক্ত স্থানের দূরত্ব = BD

$$\text{এখন, } BD = BC + CD$$

$$\text{আবার, 'খ' হতে পাই, } BC = \frac{h}{\sqrt{3}}$$

$$\therefore BD = \frac{h}{\sqrt{3}} + 40$$

$$= \frac{94.64}{\sqrt{3}} + 40$$

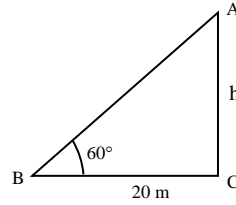
$$= 94.64 \text{ মিটার (Ans.)}$$

প্রশ্ন ১০৩ একটি গাছ বাড়ে এমনভাবে ভেঙ্গে গেল যে, ভাঙ্গা অংশ দণ্ডায়মান অংশের সাথে 30° কোণ করে গাছের গোড়া হতে 20 মিটার দূরে মাটি স্পর্শ করে। [কানাইঘাট সরকারি উচ্চ বিদ্যালয়, সিলেট □ প্রশ্ন নং ৮]

- ক. একটি মিনারের পাদদেশ থেকে 20 মিটার দূরে ভূ-তলের কোন বিন্দুতে মিনারের চূড়ার উন্নতি কোণ 60° হলে মিনারটির উচ্চতা কত? ২
খ. গাছটি কত উচুতে ভেঙ্গেছিল? ৪
গ. গাছটির সম্পূর্ণ দৈর্ঘ্য নির্ণয় কর। ৪

১০৩ নং প্রশ্নের সমাধান

ক



এখানে, মিনারের উচ্চতা $AC = h$ এবং মিনারের পাদদেশ C থেকে $CB = 20$ মিটার দূরে B বিন্দুতে উন্নতি কোণ $\angle ABC = 60^\circ$ ।

$$\text{সমকোণী } \triangle ABC \text{ এ, } \tan \angle ABC = \frac{AC}{BC}$$

$$\text{বা, } \tan 60^\circ = \frac{h}{20}$$

$$\text{বা, } h = 20\sqrt{3}$$

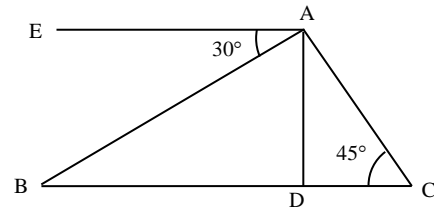
$$\therefore h = 34.64 \text{ (প্রায়)}$$

$$\therefore \text{মিনারটির উচ্চতা } 34.64 \text{ মিটার (প্রায়) (Ans.)}$$

খ সৃজনশীল ৯(ক + খ) নং সমাধান দ্রষ্টব্য।

গ সৃজনশীল ৯(গ) নং সমাধান দ্রষ্টব্য।

প্রশ্ন ১০৪



চিত্রে $EA \parallel BC$, $AD \perp BC$ এবং $DC = 10$ মিটার

[দি বাডস্ রেসিডেনসিয়াল মডেল স্কুল এন্ড কলেজ, মৌলভীবাজার □ প্রশ্ন নং ৮]

- ক. $\angle BAD$ এর মান নির্ণয় কর। ২
খ. AB বাহুর দৈর্ঘ্য নির্ণয় কর। ৪



গ. $\triangle ABC$ এর পরিসীমা নির্ণয় কর।

8

১০৪ নং প্রশ্নের সমাধান

ক দেওয়া আছে, $\angle BAE = 30^\circ$
এখন, $EA \parallel BC$ এবং $AD \perp BC$ হওয়ায় $\angle EAD = 90^\circ$
বা, $\angle BAE + \angle BAD = 90^\circ$
বা, $\angle BAD = 90^\circ - \angle BAE$
বা, $\angle BAD = 90^\circ - 30^\circ$
 $\therefore \angle BAD = 60^\circ$ (Ans.)

খ সৃজনশীল ১৪(খ) নং সমাধান দ্রষ্টব্য।

গ সৃজনশীল ১৪(গ) নং সমাধান দ্রষ্টব্য।

প্রশ্ন ১০৫ মুচকান দেখল গাছের শীর্ষ ডালে একটি আম বুলে আছে। সে গাছের গোড়া থেকে ৭ মি. দূরে দাঁড়িয়ে একটি বাঁশের নল দ্বারা 60° কোণে আমটি পাড়ল।

[বি.এম. স্কুল, বরিশাল □ প্রশ্ন নং ৮]

ক. উপরের তথ্যগুলো চিত্রের মাধ্যমে দেখাও।

২

খ. আমটি কত উঁচুতে বুলে ছিল?

8

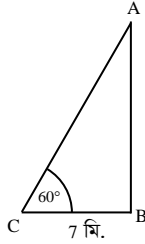
গ. মুচকান আমটি পাড়তে কত মিটার বাঁশের নল নিয়েছিল?

8

১০৫ নং প্রশ্নের সমাধান

ক মনে করি, ভূমি হতে AB গাছের শীর্ষ বিন্দু A । গাছের গোড়া থেকে ৭ মিটার দূরে C বিন্দুতে দাঁড়িয়ে মুচকান আমটি পাড়ল।

বাঁশের নল AC , ভূমি BC এর সাথে $\angle ACB = 60^\circ$ কোণ তৈরি করে।



খ মনে করি, ভূমি হতে আমের উচ্চতা, $AB = h$ মিটার

চিত্রে, $\triangle ABC$ -এ

$$\tan \angle ACB = \frac{AB}{BC}$$

$$\text{বা, } \tan 60^\circ = \frac{h}{7}$$

$$\text{বা, } \sqrt{3} = \frac{h}{7}$$

$$\text{বা, } h = 7\sqrt{3} = 12.124$$

\therefore আমটি 12.124 মিটার উঁচুতে বুলে ছিল। (Ans.)

গ $\triangle ABC$ -এ, $\cos 60^\circ = \frac{BC}{AC}$

$$\text{বা, } \frac{1}{2} = \frac{7}{AC}$$

$$\therefore AC = 14$$

সুতরাং বাঁশের নলের দৈর্ঘ্য 14 মিটার। (Ans.)

প্রশ্ন ১০৬ একটি গাছ AB বাড়ে O বিন্দুতে এমনভাবে ভেঙ্গে গেল যে, সম্পূর্ণ বিচ্ছিন্ন না হয়ে গোড়া থেকে $10\sqrt{3}$ m দূরে C বিন্দুতে ভূমির সাথে 30° কোণ উৎপন্ন করে।

◀ সমন্বিত অধ্যায় ৯ ও ১০

[বাংলাদেশ শিক্ষক সমিতি (কামরঞ্জামান গ্রুপ), বরিশাল □ প্রশ্ন নং ৮]

ক. $\sin 2C$ এর মান নির্ণয় কর।

২

খ. দেখাও যে, $\left(\frac{BO}{BC} + \frac{CO}{BC}\right)^2 = \frac{1 + \sin C}{1 - \sin C}$

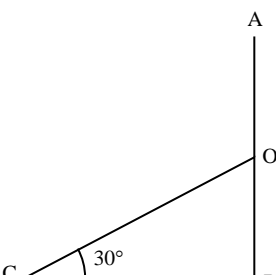
8

গ. গাছটির সম্পূর্ণ দৈর্ঘ্য নির্ণয় কর।

8

১০৬ নং প্রশ্নের সমাধান

ক



AB গাছটি বাড়ে O বিন্দুতে এমনভাবে ভেঙ্গে গেল যে সম্পূর্ণ বিচ্ছিন্ন না হয়ে গোড়া থেকে $10\sqrt{3}$ m দূরে C বিন্দুতে $\angle BCO = 30^\circ$ উৎপন্ন করে।

$$\therefore \angle C = 30^\circ$$

$$\therefore \sin 2C = \sin 2 \times 30^\circ = \sin 60^\circ = \frac{\sqrt{3}}{2} \text{ (Ans.)}$$

খ সৃজনশীল ৮(খ) নং সমাধান দ্রষ্টব্য।

গ সৃজনশীল ৮(গ) নং সমাধান দ্রষ্টব্য।

প্রশ্ন ১০৭ টুকু তাদের বাড়ির দালানের সামনে দাঁড়িয়েছিল। ঐ অবস্থান থেকে দালানের ছাদের কোন বিন্দুর উন্নতি কোণ 30° । সে দালানের দিকে 60 মিটার এগিয়ে গিয়ে দেখল যে ঐ বিন্দুর উন্নতি কোণ 45° ।

[পটুয়াখালী সরকারি জুবিলী উচ্চ বিদ্যালয়, পটুয়াখালী □ প্রশ্ন নং ৮]

ক. তথ্যটিকে চিত্রের মাধ্যমে প্রকাশ কর।

২

খ. টুকুর বাড়ির দালানের ছাদের উচ্চতা কত?

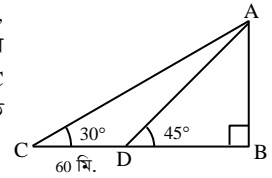
8

গ. টুকু আরও সামনে এগিয়ে দেখল যে তার অবস্থানের উন্নতি কোণ 60° । তাহলে সে আদি অবস্থান থেকে কতটুকু এগিয়েছিল?

8

১০৭ নং প্রশ্নের সমাধান

ক মনে করি, দালানের শীর্ষবিন্দু A , টুকুর অবস্থান C তে শীর্ষবিন্দু A এর উন্নতি কোণ $\angle ACB = 30^\circ$ । C থেকে 60 মিটার এগিয়ে D বিন্দুতে উন্নতি কোণ $\angle ADB = 45^\circ$



খ মনে করি,

দালানের ছাদের উচ্চতা, $AB = h$ মিটার
এবং $BD = x$ মিটার

সুতরাং $BC = (x + 60)$ মিটার

এখন, সমকোণী ত্রিভুজ ABD -এ

$$\tan \angle ADB = \frac{AB}{BD}$$

$$\text{বা, } \tan 45^\circ = \frac{h}{x}$$

$$\text{বা, } 1 = \frac{h}{x}$$

$$\therefore x = h \dots \dots (i)$$

আবার, $\triangle ABC$ -এ,

$$\tan \angle ACB = \frac{AB}{BC}$$

$$\text{বা, } \tan 30^\circ = \frac{h}{x + 60}$$

$$\text{বা, } \frac{1}{\sqrt{3}} = \frac{h}{h + 60} \quad [\square h = x]$$

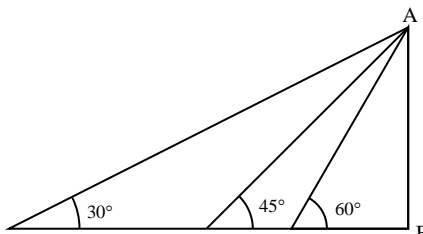
$$\text{বা, } h\sqrt{3} = h + 60$$

$$\text{বা, } h(\sqrt{3} - 1) = 60$$

$$\text{বা, } h = \frac{60}{\sqrt{3} - 1}$$

$$\therefore h = 81.96 \text{ মিটার (প্রায়) (Ans.)}$$

গ



টুকু D বিন্দু থেকে দালানের দিকে আরও সামনে এগিয়ে E বিন্দুতে পৌঁছাল। E বিন্দুতে ছাদের উন্নতি কোণ $\angle AEB = 60^\circ$ 'খ' হতে পাই, দালানের উচ্চতা, $AB = 81.96$ মিটার
এবং $BD = 81.96$ মিটার

এখন, সমকোণী $\triangle ABE$ হতে পাই,

$$\tan \angle AEB = \frac{AB}{BE}$$

$$\text{বা, } \tan 60^\circ = \frac{AB}{BE}$$

$$\text{বা, } \sqrt{3} = \frac{81.96}{BE}$$

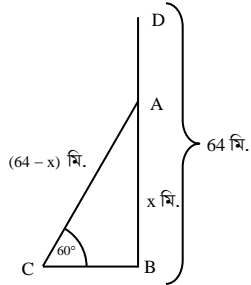
$$\therefore BE = \frac{81.96}{\sqrt{3}} = 47.32 \text{ মিটার (প্রায়)}$$

$$\begin{aligned} \text{এবং BC এর দৈর্ঘ্য} &= BD + CD \\ &= (81.96 + 60) \text{ মিটার} \\ &= 141.96 \text{ মিটার} \end{aligned}$$

$$\begin{aligned} \text{সুতরাং আদি অবস্থান C থেকে E এর দূরত্ব} &= CE = BC - BE \\ &= (141.96 - 47.32) \text{ মিটার} \\ &= 94.64 \text{ মিটার (প্রায়) (Ans.)} \end{aligned}$$

প্রশ্ন ১০৮

64 মিটার লম্বা একটা খুঁটি ভেঙ্গে গিয়ে সম্পূর্ণ বিচ্ছিন্ন না হয়ে ভূমির সাথে 60° কোণ উৎপন্ন করে। খুঁটিটি x মিটার উচ্চতায় ভেঙেছিল। উপরোক্ত তথ্য ও চিত্রের মাধ্যমে নিচের প্রশ্নগুলোর উত্তর দাও:



◀ সমন্বিত অধ্যায় ৯ ও ১০

[সরকারি হরচন্দ্র বালিকা উচ্চ বিদ্যালয়, বালকাঠি □ প্রশ্ন নং ৮]

- ক. AB ও AC এর সম্পর্ক থেকে x এর মাধ্যমে সমীকরণ গঠন কর। ২
- খ. খুঁটিটির ভাঙ্গা অংশের দৈর্ঘ্য নির্ণয় কর। ৪

গ. $\triangle ABC$ এর $\angle BAC$ এর জন্য দেখাও

$$\text{যে, } \cos^2 2A - \sin^2 2A = \frac{1 - \tan^2 2A}{1 + \tan^2 2A}$$

১০৬ নং প্রশ্নের সমাধান

ক. চিত্র হতে, $\sin 60^\circ = \frac{AB}{AC}$

$$\text{বা, } \frac{\sqrt{3}}{2} = \frac{x}{64 - x}$$

$$\text{বা, } 2x = 64\sqrt{3} - \sqrt{3}x$$

খ. মনে করি, খুঁটিটির উচ্চতা, $BD = 64$ মিটার।

খুঁটিটি A বিন্দুতে x মিটার উচ্চতায় ভেঙে গিয়ে সম্পূর্ণ বিচ্ছিন্ন না হয়ে ভূমির সাথে $\angle BCA = 60^\circ$ কোণ উৎপন্ন করে।

$$\therefore AD = AC = (64 - x) \text{ মিটার}$$

$$\therefore AB = x \text{ মিটার}$$

এখন, $\triangle ABC$ -এ

$$\sin \angle BCA = \frac{AB}{AC}$$

$$\text{বা, } \sin 60^\circ = \frac{x}{64 - x}$$

$$\text{বা, } \frac{\sqrt{3}}{2} = \frac{x}{64 - x}$$

$$\text{বা, } \sqrt{3}(64 - x) = 2x$$

$$\text{বা, } 64\sqrt{3} - \sqrt{3}x = 2x$$

$$\text{বা, } x(\sqrt{3} + 2) = 64\sqrt{3}$$

$$\text{বা, } x = \frac{64\sqrt{3}}{\sqrt{3} + 2}$$

$$\therefore x = 29.7$$

$$\therefore \text{খুঁটিটির ভাঙ্গা অংশের দৈর্ঘ্য } AC = (64 - x) \text{ মি.}$$

$$= (64 - 29.7) \text{ মি.} = 34.3 \text{ মি. (প্রায়) (Ans.)}$$

গ. 'খ' এর চিত্র থেকে $\angle C = 60^\circ$ এবং $\angle B = 1$ সমকোণ $= 90^\circ$

$$\therefore \angle A = 30^\circ$$

$$\begin{aligned} \text{এখন, বামপক্ষ} &= \cos^2 2A - \sin^2 2A \\ &= \cos^2(2 \times 30^\circ) - \sin^2(2 \times 30^\circ) \\ &= \cos^2 60^\circ - \sin^2 60^\circ \\ &= \left(\frac{1}{2}\right)^2 - \left(\frac{\sqrt{3}}{2}\right)^2 \\ &= \frac{1}{4} - \frac{3}{4} = \frac{1-3}{4} = -\frac{1}{2} \end{aligned}$$

$$\text{ডানপক্ষ} = \frac{1 - \tan^2 2A}{1 + \tan^2 2A}$$

$$= \frac{1 - \tan^2 60^\circ}{1 + \tan^2 60^\circ} = \frac{1 - (\sqrt{3})^2}{1 + (\sqrt{3})^2}$$

$$= \frac{1 - 3}{1 + 3} = \frac{-2}{4} = -\frac{1}{2}$$

$$\therefore \cos^2 2A - \sin^2 2A = \frac{1 - \tan^2 2A}{1 + \tan^2 2A} \text{ (দেখানো হলো)}$$

