

১০. $f(a) = 4a^2 + 11a + 6$ এবং $f(a) = 0$ হলে $a = ?$

[ডাক অধিদপ্তর উপজেলা পোস্ট মাস্টার-১০]

K-2 L 2
M 1 N 3

ব্যাখ্যা অপশন টেস্ট করে উত্তরটি বের করি।

$$\begin{aligned}\therefore f(-2) &= 4 \times (-2)^2 + 11 \times (-2) + 6 \\ &= 4 \times 4 - 22 + 6 \\ &= 16 - 22 + 6 = 0 \\ \therefore a &= -2\end{aligned}$$

বেসিক/লিখিত পদ্ধতি

দেওয়া আছে, $f(x) = x^3 - 6x^2 + 11x - 6$
এখন, $f(x) = 0$
বা, $x^3 - 6x^2 + 11x - 6 = 0$
বা, $x^3 - x^2 - 5x^2 + 5x + 6x - 6 = 0$
বা, $x^2(x-1) - 5x(x-1) + 6(x-1) = 0$
বা, $(x-1)(x^2 - 5x + 6) = 0$
হয়, $x-1 = 0$ অথবা, $x^2 - 5x + 6 = 0$
 $\therefore x = 1$ বা, $x^2 - 2x - 3x + 6 = 0$

$$\text{বা, } x(x-2) - 3(x-2) = 0$$

$$\text{বা, } (x-2)(x-3) = 0$$

$$\text{হয়, } x-2 = 0 \quad \text{অথবা, } x-3 = 0$$

$$\therefore x = 2 \quad \therefore x = 3$$

\therefore নির্ণেয় x এর মান 1 অথবা 2 অথবা 3

১১. যদি $f(y) = y^3 + ky^2 - 4y - 8$ হয়, তবে k এর কোন মানের জন্য $f(-2) = 0$ হবে?

[নবম-দশম শ্রেণির গণিত: অনুশীলনী-২.২ এর ১৩নং]

K 0 L 2
M 4 N 1

ব্যাখ্যা দেওয়া আছে, $f(y) = y^3 + ky^2 - 4y - 8$

$$\begin{aligned}\therefore f(-2) &= (-2)^3 + k(-2)^2 - 4(-2) - 8 \\ &= -8 + 4k + 8 - 8 \\ &= 4k - 8\end{aligned}$$

$$\text{আবার, } f(-2) = 0 \text{ হবে যদি } 4k - 8 = 0$$

$$\text{বা, } 4k = 8$$

$$\therefore k = 2$$

$\therefore k$ এর মান 2 হলে, $f(-2) = 0$ হবে।

১২. $f(x) = x^3 - 6x^2 + 11x - 6$ হয়, তবে x এর কোন মানের জন্য $f(x) = 0$ হবে?

[নবম-দশম শ্রেণির গণিত: অনুশীলনী-২.২ এর ১৪নং]

K 1 L 2
M 3 N সবগুলোই

ব্যাখ্যা শর্টকাট পদ্ধতি:

অপশন টেস্ট করলে $x = 1, 2, 3$ তিনটি মানের জন্যই $f(x) = 0$ হয়।

১৩. $f(x) = x^2 + \frac{1}{x} + 1$ এর অনুরূপ কোনটি? [১৭তম বিডিএস]

$$\text{K } f(-1) = 1 \quad \text{L } f(0) = 1$$

$$\text{M } f(-1) = 3 \quad \text{N } f(1) = 1$$

ব্যাখ্যা $f(x) = x^2 + \frac{1}{x} + 1$

$$\therefore f(-1) = (-1)^2 + \frac{1}{(-1)} + 1 = (1 - 1 + 1) = 1$$

১৪. x, y বাস্তব রাশি এবং $f(x, y) = x^2y^2$, যদি $h(x) = (x^2 - 5)$ হয়, তবে $f(2, h(3))$ এর মান কত?

[গণপূর্ত অধিদপ্তরের উপ-সহ: প্রকৌশলী নিয়োগ-২০১৮]

K 64 L 16
M 96 N 32

ব্যাখ্যা $f(x, y) = x^2y^2$

$$\text{এখানে, } h(x) = x^2 - 5$$

$$\therefore h(3) = 3^2 - 5 = 9 - 5 = 4$$

$$\therefore f(2, h(3)) = (2, 4) = (2^2 \times 4^2) = (4 \times 16) = 64$$

Type-2 : অম্বয় ও ফাংশন

□ **অম্বয়:** গণিতের পরিভাষায় যেকোনো সম্পর্কই হলো অম্বয়। যেমন: মা-ছেলের সম্পর্ক, ভাই-বোনের সম্পর্ক, স্বাভাবিক সংখ্যা 3 ও 9 এর সম্পর্ক ইত্যাদি। যেহেতু যেকোনো ধরনের সম্পর্কই অম্বয়। তাই অম্বয়ে কোনো বাধাধরা নিয়ম নেই।

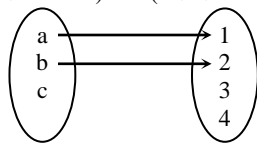
□ **ফাংশন:** যদি x ও y সেট হয় এবং কোনো নিয়মের অধীনে x সেটের প্রত্যেক উপাদানের সঙ্গে y সেটের একটি ও কেবল একটি উপাদানকে সংশ্লিষ্ট করা হয়, তবে ঐ নিয়মকে x থেকে y এর বর্ণিত একটি ফাংশন বলা হয়।

□ **অম্বয় যখন ফাংশন:** কোনো অম্বয় ফাংশন হতে হলে নিম্নোক্ত শর্ত দুইটি অবশ্যই মেনে চলতে হবে।

i. অম্বয়ের প্রতিটি ক্রমজোড়ের ১ম উপাদানের সাথে দ্বিতীয় উপাদানের অবশ্যই সম্পর্ক থাকতে হবে।

ii. প্রতিটি ক্রমজোড়ের ১ম উপাদান অবশ্যই সর্বদা ভিন্ন হবে।

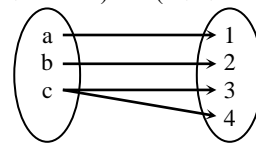
সম্ভানের সেট (ডোমেনের সেট) বাবার সেট (কোডোমেনের সেট)



এটি অম্বয় কিন্তু ফাংশন নয়। কেননা ডোমেনে অতিরিক্ত উপাদান (c) বিদ্যমান।

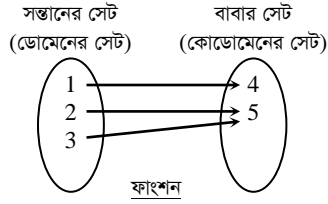
মনে রাখার কৌশল: কোনো সম্ভানের বাবা না থাকলে (যা বাস্তবে সম্ভব নয়) সেটা ফাংশন হবে না।

সম্ভানের সেট (ডোমেনের সেট) বাবার সেট (কোডোমেনের সেট)

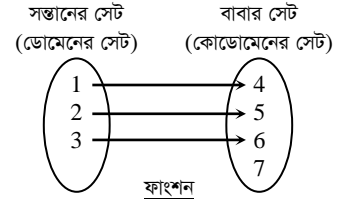


এটি অম্বয় কিন্তু ফাংশন নয়। কেননা ডোমেনের উপাদান c এর দুটি প্রতিচ্ছবি (3, 4) পাওয়া যাচ্ছে।

মনে রাখার কৌশল: একই সম্ভানের দুইজন বাবা থাকলে (যা বাস্তবে সম্ভব নয়) সেটা ফাংশন হবে না।



ডোমেনের উপাদান 2 ও 3 এর প্রতিচ্ছবি 5।



কো-ডোমেনের উপাদান 7 যা রেঞ্জ হিসেবে পাওয়া যাবে না।

Type-2 এর আলোকে বিভিন্ন পরীক্ষায় আগত প্রশ্ন ও সমাধান

১৫. যেকোনো ধরনের সম্পর্ককে গণিতের ভাষায় কী বলে?

K সেট L লেখ

M ফাংশন N অস্বয়

ব্যাখ্যা গণিতে যে কোনো সম্পর্ককে অস্বয় হিসেবে বিবেচনা করা হয় আর শর্তযুক্ত ও সুনির্দিষ্ট অস্বয়কে ফাংশন বলে।

১৬. নিচের কোনটি এক বা একাধিক ক্রমজোড়ের সেট?

K অস্বয় L ফাংশন

M সেট N ডোমেন

ব্যাখ্যা যেকোনো অস্বয়কে সাধারণত এক বা একাধিক ক্রমজোড়ের সেট হিসেবে প্রকাশ করা হয়।

১৭. কোনো অস্বয়ের ভিন্ন ভিন্ন ক্রমজোড়ের প্রথম অংশকে ভিন্ন হলে এটি কী নির্দেশ করে?

K সেট L ফাংশন

M ডোমেন N রেঞ্জ

ব্যাখ্যা একটি ক্রমজোড়ের সেট কেবল তখনই একটি ফাংশন বর্ণনা করে যখন ভিন্ন ভিন্ন ক্রমজোড়ের প্রথম অংশক ভিন্ন হয়।

১৮. কোনো ফাংশনের রেঞ্জ কার উপসেট?

K ডোমেন L কোডোমেন

M অস্বয় N সেট

ব্যাখ্যা $f: x \rightarrow y$ বর্ণিত ফাংশনের y এর সেটকে কোডোমেন বলা হয় এবং কোডোমেন সেটের যে সকল উপাদানের ইমেজ x সেটে পাওয়া যায় তাদের সেটকে রেঞ্জ বলা হয়। এ হিসেবে ফাংশনের রেঞ্জ কোডোমেনের উপসেট।

১৯. নিচের কোন অস্বয়টি ফাংশন?

K F = {(0, 1), (1, 2), (1, 3)}

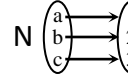
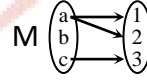
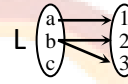
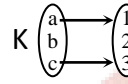
L F = {(-1, 1), (2, 4), (-1, 4)}

M F = {(2, 1), (3, 1), (2, 4)}

N F = {(-1, 1), (2, 4), (-2, 4)}

ব্যাখ্যা একটি ক্রমজোড়ের সেট কেবল তখনই একটি ফাংশন বর্ণনা করে যখন প্রতিটি ভিন্ন ভিন্ন ক্রমজোড়ের প্রথম অংশক ভিন্ন হয়। অর্থাৎ একই ১ম উপাদানবিশিষ্ট একাধিক ক্রমজোড় থাকলে তা ফাংশন নয়। 'ক', 'খ' ও 'গ' নং অপশনে একই উপাদানবিশিষ্ট একাধিক ক্রমজোড় আছে কিন্তু 'ঘ' নং অপশনে প্রতিটি ক্রমজোড়ের ১ম অংশক ভিন্ন তাই এটি ফাংশন।

২০. নিম্নে $f: X \rightarrow Y$ এ বর্ণিত কোন অস্বয়টি ফাংশন?



S

P

ব্যাখ্যা $f: X \rightarrow Y$ এ বর্ণিত অস্বয় ফাংশন হবে নিম্নোক্ত শর্তে:

i. x এর প্রতিটি উপাদানকে অবশ্যই y এর সাথে সম্পর্কিত হতে হবে।

ii. x এর একটি উপাদান একাধিক y এর সাথে সম্পর্কিত হবে না।

এ শর্তানুসারে 'ক', 'খ' ও 'গ' নং অপশনে ফাংশন হতে পারে না। কারণ

'ক' নং এ x এর উপাদান b , y এর কোনো উপাদানের সাথে সম্পর্কিত নয়

'খ' নং এ সম্পর্কহীন উপাদান c , তাছাড়া b একাধিক y এর সাথে সম্পর্কিত

'গ' নং এ সম্পর্কহীন উপাদান b , তাছাড়া a একাধিক y এর সাথে সম্পর্কিত

শুধুমাত্র 'ঘ' নং অস্বয় উপরোক্ত শর্তদ্বয় পালন করে।

২১. নিচের কোন অস্বয়টি ফাংশন নয়?

K S = {(0, 1), (-1, 1), (2, 2)}

L S = {(-1, 1), (-2, 4), (2, 4)}

M S = {(1, 2), (2, 4), (1, 3)}

N S = {(1, 2), (2, 3), (3, 4)}

S

ব্যাখ্যা একটি ক্রমজোড়ের সেট কেবল তখনই একটি ফাংশন বর্ণনা করে যখন প্রতিটি ভিন্ন ভিন্ন ক্রমজোড়ের প্রথম অংশক ভিন্ন হয়। অর্থাৎ একই ১ম উপাদানবিশিষ্ট একাধিক ক্রমজোড় থাকলে তা ফাংশন নয়। 'গ' নং অপশনে ১ম উপাদানবিশিষ্ট একাধিক ক্রমজোড় বিদ্যমান। তাই এটি ফাংশন নয়।

R

Type-3 এর আলোকে বিভিন্ন পরীক্ষায় আগত প্রশ্ন ও সমাধান

২২. $F = \{(0, 0), (1, 1), (-1, 1), (2, 4)\}$ অম্বয়ের ডোমেন কত?

K $\{0, 1, -1, 4\}$ L $\{0, 1, 4\}$
M $\{1, 2, 4\}$ N $\{0, 1, -1, 2\}$

ব্যাখ্যা কোনো অম্বয়ের ক্রমজোড়গুলোর ১ম উপাদানের সেটকে ঐ অম্বয়ের ডোমেন বলে।

এখানে, F অম্বয়ের ক্রমজোড়ের ১ম উপাদানের সেট হলো
 $= \{0, 1, -1, 2\}$

\therefore প্রদত্ত অম্বয়ের ডোমেন সেট: $\{0, 1, -1, 2\}$

২৩. $\{(1, 5), (2, 10), (2, 12), (3, 15), (4, 20)\}$ অম্বয়ের ডোমেন কোনটি?

K $\{1, 2, 3, 4\}$ L $\{5, 10, 12, 15, 20\}$
M $\{1, 2, 2, 3, 4\}$ N $\{1, 2, 12, 15, 20\}$

ব্যাখ্যা কোনো অম্বয়ের ক্রমজোড়ের ১ম উপাদানসমূহের সেটকে ডোমেন বলে।

\therefore অম্বয়টির ১ম উপাদানের সেট বা ডোমেন $= \{1, 2, 3, 4\}$

বিদ্র: সেটের সমতার সংজ্ঞানুসারে, $\{1, 2, 3, 4\}$ এবং $\{1, 2, 2, 3, 4\}$ উভয়ই একই অর্থ বহন করে। এরা প্রকৃতপক্ষে সমতুল সেট। এক্ষেত্রে অপেক্ষাকৃত সংক্ষিপ্ত ও সঠিক উত্তরটি বেছে নেওয়া হয়েছে।

২৪. $\{(0, 0), (1, 1), (-1, 1), (2, 4)\}$ অম্বয়ের ডোমেন কোনটি?

K $\{0, 1, -1, 2\}$ L $\{0, 1, 4\}$
M $\{0, 1, -1, 4\}$ N $\{0, 1, 2, 4\}$

ব্যাখ্যা কোনো অম্বয়ের ক্রমজোড়ের ১ম উপাদানসমূহের সেটকে ডোমেন বলে।

\therefore অম্বয়টির ১ম উপাদানের সেট বা ডোমেন $= \{0, 1, -1, 2\}$

২৫. $F = \{(0, 0), (1, 2), (2, 4), (-1, 2)\}$ অম্বয়ের রেঞ্জ কত?

K $\{0, 1, -1, 2\}$ L $\{0, 2, 4\}$
M $\{0, 1, 2, 4\}$ N $\{1, 2, 4\}$

ব্যাখ্যা কোনো অম্বয়ের ক্রমজোড়ের দ্বিতীয় উপাদান সমূহের সেটকে ঐ অম্বয়ের রেঞ্জ বলে।

$\therefore F$ অম্বয়ের ২য় উপাদানের সেট বা রেঞ্জ $F = \{0, 2, 4, 2\}$
 $= \{0, 2, 4\}$

২৬. $\{(3, 4), (4, 3), (3, 9), (7, 8), (8, 9)\}$ এই অম্বয়টির রেঞ্জ নিচের কোনটি?

K $\{4, 3, 9, 7, 8\}$ L $\{4, 3, 9, 8\}$
M $\{3, 4, 3, 9, 9\}$ N $\{3, 4, 7, 8\}$

ব্যাখ্যা কোনো অম্বয়ের ক্রমজোড়ের দ্বিতীয় উপাদানসমূহের সেটকে রেঞ্জ বলে।

\therefore অম্বয়টির দ্বিতীয় উপাদানের সেট বা রেঞ্জ $= \{4, 3, 9, 8\}$

২৭. $A = \{(1, 5), (2, 10), (3, 15)\}$ এর বিপরীত অম্বয়ের ডোমেন কত?

K $\{5, 10, 15\}$ L $\{1, 2, 3\}$
M $\{1, 2, 5, 10\}$ N $\{3, 2, 1\}$

ব্যাখ্যা A এর বিপরীত অম্বয় $A^{-1} = \{(5, 1), (10, 2), (15, 3)\}$

$\therefore A^{-1}$ এর ডোমেন $= \{5, 10, 15\}$

২৮. $F : \mathbb{R}_+ \rightarrow \mathbb{R}_+$, $F(x) = x^2$ দ্বারা বর্ণিত ফাংশনের ডোমেন কত?

K \mathbb{R} L \mathbb{R}_+
M $\{x \in \mathbb{R} : x > 1\}$ N $\{x \in \mathbb{R} : x \neq 1\}$

ব্যাখ্যা বর্ণিত ফাংশনটি \mathbb{R}_+ হতে \mathbb{R}_+ এ অস্থিত বিধায় ফাংশনের ডোমেন $= \mathbb{R}_+$ ।
লক্ষণীয়: $F(x) = x^2$ ফাংশনটি x এর সকল বাস্তব মানের জন্য সংজ্ঞায়িত অর্থাৎ ডোমেন \mathbb{R} হলেও শুধুমাত্র $\mathbb{R}_+ \rightarrow \mathbb{R}_+$ ম্যাপিং থাকায় ডোমেন \mathbb{R}_+ ।

২৯. $F(x) = |x|$ ফাংশনের ডোমেন কত?

K \mathbb{R} L \mathbb{R}_+
M \mathbb{R}_0 N $\mathbb{R} - \{0\}$

ব্যাখ্যা $F(x) = |x|$ ফাংশনটি x এর সকল বাস্তব মানের জন্য সংজ্ঞায়িত। তাই প্রদত্ত ফাংশনের ডোমেন $= \mathbb{R}$

৩০. $F(x) = \sqrt{5x-1}$ ফাংশনটির ডোমেন কোনটি?

K $\left\{x \in \mathbb{R} : x \geq \frac{1}{5}\right\}$ L $\left\{x \in \mathbb{R} : x \leq \frac{1}{5}\right\}$
M $\left\{x \in \mathbb{R} : x > \frac{1}{5}\right\}$ N $\left\{x \in \mathbb{R} : x < \frac{1}{5}\right\}$

ব্যাখ্যা $F(x) = \sqrt{5x-1} \in \mathbb{R}$ হবে যদি এবং কেবল যদি $5x-1 \geq 0$ বা, $x \geq \frac{1}{5}$ হয়।

\therefore ডোমেন $= \left\{x \in \mathbb{R} : x \geq \frac{1}{5}\right\}$

৩১. $f(x) = \sqrt{3x-5}$ ফাংশনটির ডোমেন নিচের কোনটি?

K $\left\{x \in \mathbb{R} : x > \frac{3}{5}\right\}$ L $\left\{x \in \mathbb{R} : x \geq \frac{3}{5}\right\}$
M $\left\{x \in \mathbb{R} : x > \frac{5}{3}\right\}$ N $\left\{x \in \mathbb{R} : x \geq \frac{5}{3}\right\}$

ব্যাখ্যা $f(x) = \sqrt{3x-5}$

ফাংশনটি সংজ্ঞায়িত হবে যদি ও কেবল যদি $3x-5 \geq 0$ হয় বা $x \geq \frac{5}{3}$

\therefore ডোমেন $= \left\{x \in \mathbb{R} : x \geq \frac{5}{3}\right\}$

৩২. $f(y) = \frac{1}{\sqrt{7-y}}$ এর ডোমেন কোনটি?

K $\{y \in \mathbb{R} : y \geq 7\}$ L $\{y \in \mathbb{R} : y \leq 7\}$

M $\{y \in \mathbb{R} : y > 7\}$ N $\{y \in \mathbb{R} : y < 7\}$

ব্যাখ্যা $f(y)$ সংজ্ঞায়িত হবে যদি ও কেবল যদি $7-y > 0$ হয়।

এখন, $7-y > 0$ বা, $-y > -7 \therefore y < 7$

\therefore ফাংশনের ডোমেন = $\{y \in \mathbb{R} : y < 7\}$

৩৩. $f(x) = \sqrt{1-2x}$ ফাংশনের ডোমেন কত?

K R L $\mathbb{R} - \left\{\frac{1}{2}\right\}$

M $x \geq \frac{1}{2}$ N $x \leq \frac{1}{2}$

ব্যাখ্যা $f(x)$ সংজ্ঞায়িত হবে, যদি ও কেবল যদি $1-2x \geq 0$ হয়।

বা, $-2x \geq -1$

বা, $x \leq \frac{1}{2}$

৩৪. $F(x) = \sqrt{3x-2}$ এর ডোমেন কোনটি?

K $\left\{x \in \mathbb{R} : x > \frac{2}{3}\right\}$ L $\left\{x \in \mathbb{R} : x \geq \frac{2}{3}\right\}$

S M $\left\{x \in \mathbb{R} : x \leq \frac{2}{3}\right\}$ N $\left\{x \in \mathbb{R} : x < \frac{2}{3}\right\}$ Q

ব্যাখ্যা $F(x) = \sqrt{3x-2}$ ফাংশনটি সংজ্ঞায়িত হবে, যদি ও কেবল যদি

$3x-2 \geq 0$ হয় অর্থাৎ, $x \geq \frac{2}{3}$

\therefore ডোমেন = $\left\{x \in \mathbb{R} : x \geq \frac{2}{3}\right\}$

৩৫. $F(x) = \frac{1}{x}$ এর ডোমেন কোনটি?

S K $\mathbb{R} \setminus \{0\}$ L R
M \mathbb{R}_+ N \mathbb{R}_- P

ব্যাখ্যা শূন্য দ্বারা কোনো কিছুকে ভাগ করা যায় না তাই $F(x) = \frac{1}{x}$

ফাংশনটি শুধুমাত্র $x = 0$ এর জন্য অসংজ্ঞায়িত।

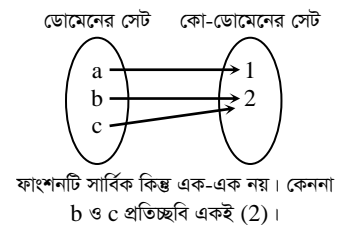
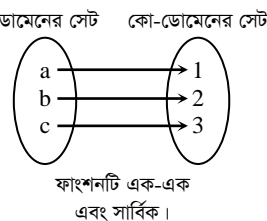
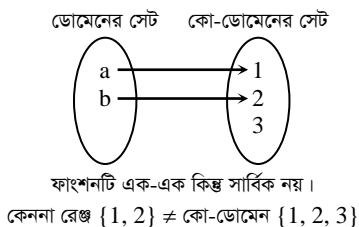
\therefore ফাংশনের ডোমেন $\mathbb{R} - \{0\}$ বা $\mathbb{R} \setminus \{0\}$

Type-4 : বিপরীত, সার্বিক ও এক-এক ফাংশন

- **বিপরীত অন্বয় নির্ণয়:** কোনো অন্বয়ের প্রতিটি ক্রমজোড়ের উপাদানগুলোর অবস্থান বিনিময়ের মাধ্যমে ঐ অন্বয়ের বিপরীত অন্বয় পাওয়া যায়। যেমন: $S = \{(1, 2), (2, 3), (3, 4), (4, 5)\}$ অন্বয়ের বিপরীত অন্বয় $S^{-1} = \{(2, 1), (3, 2), (4, 3), (5, 4)\}$
- **সার্বিক ফাংশন:** $f : X \rightarrow Y$ এ কোনো ফাংশন বর্ণিত হলে X এর সেটকে ডোমেন এবং Y এর সেটকে ফাংশনের কোডোমেন সেট বলে। কোনো ফাংশনের রেঞ্জ সেট = কোডোমেন সেট হলেই ফাংশনটি সার্বিক ফাংশন।
- **এক-এক ফাংশন:** $f : X \rightarrow Y$ ফাংশনের X এর একটি মানের জন্য Y এর কেবলমাত্র একটি মান পাওয়া যায় তাকে এক-এক ফাংশন বলে। অথবা, যদি কোনো ফাংশনের অধীনে ডোমেনের ভিন্ন ভিন্ন সদস্যের ছবি সর্বদা ভিন্ন হয়, তবে ফাংশনটিকে এক-এক ফাংশন বলে।

জেনে রাখুন: যে কোনো একঘাত বিশিষ্ট সরলরৈখিক ফাংশন এক-এক ফাংশন। দ্বিঘাত সমীকরণ শর্তসাপেক্ষে এক-এক ফাংশন।

- **এক-এক এবং সার্বিক বা অনটু (Onto) ফাংশন চেনার উপায়:**



ব্যাখ্যা $f: R \rightarrow R$ এ বর্ণিত $f(x) = \sqrt{x}$ ফাংশনে $x_1, x_2 \in$ ডোম f এবং $x_1 = x_2$ এর জন্য $f(x_1) = f(x_2)$ পাওয়া যায়। তাই $f(x) = \sqrt{x}$ ফাংশনটি এক-এক।

দৃষ্ট আকর্ষণ: শর্ত না থাকলে, কোনো রাশির জোড় ঘাত থাকলে অথবা পরমমান থাকলে, এক-এক ফাংশন হয় না।

৪৯. নিচের কোনটি এক-এক ফাংশন?

$$K F(x) = \sqrt{1-2x} \quad L F(x) = x^2$$

$$M F(x) = (2x-1)^2 \quad N F(x) = \frac{1}{(2x+1)^2}$$

ব্যাখ্যা শুধুমাত্র 'ক' নং অপশনের ক্ষেত্রে, $x_1, x_2 \in$ ডোম F এর ক্ষেত্রে $F(x_1) = F(x_2)$ হবে যদি এবং কেবল যদি $x_1 = x_2$ হয়। তাই সঠিক উত্তর (ক)।

দৃষ্ট আকর্ষণ: শর্ত না থাকলে, কোনো রাশির জোড় ঘাত থাকলে অথবা পরমমান থাকলে, এক-এক ফাংশন হয় না।

৫০. নিচের কোন ফাংশনটি এক-এক?

$$K F(x) = x^2 + 3 \quad L F(x) = x^2 - 3$$

$$M F(x) = \frac{1}{x-3}; x \neq 3 \quad N F(x) = \frac{3}{|x|}; x \neq 0$$

ব্যাখ্যা x এর একটি মানের জন্য $F(x)$ এর কেবলমাত্র একটি মান পাওয়া যায় $F(x) = \frac{1}{x-3}; x \neq 3$ ফাংশনে।

দৃষ্ট আকর্ষণ: শর্ত না থাকলে, কোনো রাশির জোড় ঘাত থাকলে অথবা পরমমান থাকলে, এক-এক ফাংশন হয় না।

৫১. নিচের কোন ফাংশনটি এক-এক নয়?

$$K F(x) = 2x + 3 \quad L F(x) = \frac{4}{x-1}$$

$$M F(x) = \sqrt{x-1} \quad N F(x) = x^2 \quad S$$

ব্যাখ্যা $F(x) = x^2$ এক-এক নয় কারণ $F(1) = 1$ এবং $F(-1) = 1$ অর্থাৎ ডোমের প্রতিটি উপাদানের ইমেজ ভিন্ন নয়।

দৃষ্ট আকর্ষণ: শর্ত না থাকলে, কোনো রাশির জোড় ঘাত থাকলে অথবা পরমমান থাকলে, এক-এক ফাংশন হয় না।

৫২. $f(x) = \frac{1}{2x+1}$ ফাংশনটি x এর কোন মানের জন্য অসংজ্ঞায়িত?

$$K \frac{1}{2} \quad L 2$$

$$M 1 \quad N -\frac{1}{2} \quad S$$

ব্যাখ্যা $f(x)$ অসংজ্ঞায়িত হবে যদি হর $2x+1=0$ হয় বা, $x = -\frac{1}{2}$

৫৩. $F(x) = \frac{1}{x-2}$ ফাংশনের ক্ষেত্রে কোনটি অসংজ্ঞায়িত?

$$K F(1) \quad L F(0)$$

$$M F(2) \quad N F(-1) \quad R$$

ব্যাখ্যা $x = 2$ হলে পাই, $F(2) = \frac{1}{2-2} = \frac{1}{0}$ যা অসংজ্ঞায়িত। সুতরাং $F(2)$ অনির্ণেয়।

Written Preparation

৫৪. যদি $f(x) = x^4 + 5x - 3$ হলে $f\left(\frac{1}{2}\right)$ এর মান কত?

[নবম-দশম শ্রেণির গণিত: অনুশীলনী-২.২ এর ১২নং]

লিখিত পদ্ধতি

[Type-1 (MCQ) এর অনুরূপ]

দেওয়া আছে, $f(x) = x^4 + 5x - 3$

$$\therefore f\left(\frac{1}{2}\right) = \left(\frac{1}{2}\right)^4 + 5\left(\frac{1}{2}\right) - 3$$

$$= \frac{1}{16} + \frac{5}{2} - 3$$

$$= \frac{1+40-48}{16} = \frac{1-8}{16} = \frac{-7}{16}$$

৫৬. যদি $f(y) = y^3 + ky^2 - 4y - 8$ হয়, তবে k এর কোন মানের জন্য $f(-2) = 0$ হবে?

[নবম-দশম শ্রেণির গণিত: অনুশীলনী-২.২ এর ১৩নং]

লিখিত পদ্ধতি

[Type-1 (MCQ) এর অনুরূপ]

দেওয়া আছে, $f(y) = y^3 + ky^2 - 4y - 8$

$$\therefore f(-2) = (-2)^3 + k(-2)^2 - 4(-2) - 8$$

$$= -8 + 4k + 8 - 8$$

$$= 4k - 8$$

আবার, $f(-2) = 0$ হবে যদি $4k - 8 = 0$

$$\text{বা, } 4k = 8$$

$$\therefore k = 2$$

$\therefore k$ এর মান ২ হলে, $f(-2) = 0$ হবে।

৫৫. $f(x) = x^3 + ax^3 + 2x^3 = 0$ হলে, x এর মান কত?

[পররাষ্ট্র মন্ত্রণালয়, প্রশাসনিক কর্মকর্তা, ২০১৯]

লিখিত পদ্ধতি

[Type-1 (MCQ) এর অনুরূপ]

দেওয়া আছে, $f(x) = x^3 + ax^3 + 2x^3 = 0$

$$\text{বা, } x^3 + ax^3 + 2x^3 = 0$$

$$\text{বা, } 3x^3 + ax^3 = 0$$

$$\text{বা, } x^3(3+a) = 0$$

$$\text{অর্থাৎ } x^3 = 0$$

$$\therefore x = 0$$

৫৭. $f(x) = x^3 + kx^2 - 6x - 9$, k এর মান কত হলে $f(3) = 0$ হবে?

[৩০তম বিসিএস লিখিত]

লিখিত পদ্ধতি

[Type-1 (MCQ) এর অনুরূপ]

$f(x) = x^3 + kx^2 - 6x - 9$

$$\therefore f(3) = (3)^3 + k(3)^2 - 6 \times 3 - 9$$

$$= 27 + 9k - 18 - 9$$

$$= 27 + 9k - 27 = 9k$$

এখানে, $f(3) = 0$

$$\text{বা, } 9k = 0$$

$$\therefore k = \frac{0}{9} = 0$$

$$৫৮. f(x) = \frac{x^3 - 2x^2 + 1}{x(1-x)} \text{ হলে, } f\left(\frac{1}{x}\right) = ?$$

লিখিত পদ্ধতি

[Type-1 (MCQ) এর অনুরূপ]

$$\begin{aligned} f\left(\frac{1}{x}\right) &= \frac{\frac{1}{x^3} - \frac{2}{x^2} + 1}{\frac{1}{x}\left(1 - \frac{1}{x}\right)} \\ &= \frac{1 - 2x + x^3}{x^3} \times \frac{x^2}{x-1} = \frac{1 - 2x + x^3}{x(x-1)} \end{aligned}$$

$$৫৯. \text{ যদি } f(x) = \frac{2x+1}{2x-1} \text{ হয়, তবে } \frac{f\left(\frac{1}{x^2}\right) + 1}{f\left(\frac{1}{x^2}\right) - 1} \text{ এর মান কত?}$$

[নবম-দশম শ্রেণির গণিত: অনুশীলনী-২.২ এর ১৫নং]

লিখিত পদ্ধতি

[Type-1 (MCQ) এর অনুরূপ]

$$\begin{aligned} \text{দেওয়া আছে, } f(x) &= \frac{2x+1}{2x-1} \\ \therefore f\left(\frac{1}{x^2}\right) &= \frac{2\left(\frac{1}{x^2}\right) + 1}{2\left(\frac{1}{x^2}\right) - 1} \\ \text{বা, } f\left(\frac{1}{x^2}\right) &= \frac{\frac{2}{x^2} + 1}{\frac{2}{x^2} - 1} \\ \text{বা, } f\left(\frac{1}{x^2}\right) &= \frac{2 + x^2}{2 - x^2} \\ \text{বা, } f\left(\frac{1}{x^2}\right) &= \frac{2 + x^2}{x^2} \times \frac{x^2}{2 - x^2} \\ \text{বা, } f\left(\frac{1}{x^2}\right) &= \frac{2 + x^2}{2 - x^2} \\ \text{বা, } \frac{f\left(\frac{1}{x^2}\right) + 1}{f\left(\frac{1}{x^2}\right) - 1} &= \frac{2 + x^2 + 2 - x^2}{2 + x^2 - 2 + x^2} \text{ [যোজন-বিয়োজন করে]} \\ \text{বা, } \frac{f\left(\frac{1}{x^2}\right) + 1}{f\left(\frac{1}{x^2}\right) - 1} &= \frac{4}{2x^2} \\ \therefore \frac{f\left(\frac{1}{x^2}\right) + 1}{f\left(\frac{1}{x^2}\right) - 1} &= \frac{2}{x^2} \\ \therefore \text{নির্ণেয় মান} &= \frac{2}{x^2} \end{aligned}$$

$$৬০. g(x) = \frac{1 + x^2 + x^4}{x^2} \text{ হলে, } g\left(\frac{1}{x^2}\right) = \text{কত?}$$

[নবম-দশম শ্রেণির গণিত: অনুশীলনী-২.২ এর ১৬নং]

লিখিত পদ্ধতি

[Type-1 (MCQ) এর অনুরূপ]

$$\begin{aligned} \text{প্রদত্ত ফাংশন } g(x) &= \frac{1 + x^2 + x^4}{x^2} \\ \therefore g\left(\frac{1}{x^2}\right) &= \frac{1 + \left(\frac{1}{x^2}\right)^2 + \left(\frac{1}{x^2}\right)^4}{\left(\frac{1}{x^2}\right)^2} \\ &= \frac{1 + \frac{1}{x^4} + \frac{1}{x^8}}{\frac{1}{x^4}} \\ &= \frac{x^8 + x^4 + 1}{x^8} \times \frac{x^4}{1} = \frac{x^8 + x^4 + 1}{x^4} \end{aligned}$$

$$৬১. y = f(x) = \frac{4x-7}{2x-4} \text{ একটি ফাংশন হলে, } \frac{f(x)+2}{f(x)-1} \text{ এর মান নির্ণয় কর।}$$

[নবম-দশম শ্রেণির গণিত অনুশীলনী-২.২]

লিখিত পদ্ধতি

[Type-3 (MCQ) এর অনুরূপ]

$$\begin{aligned} \frac{f(x)+2}{f(x)-1} &= \frac{\frac{4x-7}{2x-4} + 2}{\frac{4x-7}{2x-4} - 1} \\ &= \frac{\frac{4x-7+4x-8}{2x-4}}{\frac{4x-7-2x+4}{2x-4}} = \frac{8x-15}{2x-3} \end{aligned}$$

$$৬২. F = \{(0, 0), (1, 1), (-1, 1), (2, 4)\} \text{ অক্ষরের ডোমেন কত?}$$

লিখিত পদ্ধতি

[Type-3 (MCQ) এর অনুরূপ]

কোনো অক্ষরের ক্রমজোড়গুলোর ১ম উপাদানের সেটকে ঐ অক্ষরের ডোমেন বলে।
এখানে, F অক্ষরের ক্রমজোড়ের ১ম উপাদানের সেট হলো
 $= \{0, 1, -1, 2\}$
 \therefore প্রদত্ত অক্ষরের ডোমেন সেট: $\{0, 1, -1, 2\}$

$$৬৩. A = \{(1, 5), (2, 10), (3, 15)\} \text{ এর বিপরীত অক্ষরের ডোমেন কত?}$$

লিখিত পদ্ধতি

[Type-3 (MCQ) এর অনুরূপ]

A এর বিপরীত অক্ষর $A^{-1} = \{(5, 1), (10, 2), (15, 3)\}$
 $\therefore A^{-1}$ এর ডোমেন $= \{5, 10, 15\}$

$$৬৪. F(x) = |x| \text{ ফাংশনের ডোমেন কত?}$$

লিখিত পদ্ধতি

[Type-3 (MCQ) এর অনুরূপ]

$F(x) = |x|$ ফাংশনটি x এর সকল বাস্তব মানের জন্য সংজ্ঞায়িত।
তাই প্রদত্ত ফাংশনের ডোমেন $= R$

৬৫. $f(x) = \frac{x-3}{2x+1}$ বর্ণিত ফাংশনের ডোমেন কত?

লিখিত পদ্ধতি

[Type-3 (MCQ) এর অনুরূপ]

$f(x) = \frac{x-3}{2x+1}$ ফাংশনটি অসংজ্ঞায়িত হবে যদি $2x+1=0$ হয়

$$\text{বা, } x = -\frac{1}{2}$$

$$\therefore \text{ফাংশনের ডোমেন } R - \left\{-\frac{1}{2}\right\}$$

৬৬. $F = \{(0, 0), (1, 2), (2, 4), (-1, 2)\}$ অক্ষের রেঞ্জ কত?

লিখিত পদ্ধতি

[Type-3 (MCQ) এর অনুরূপ]

কোনো অক্ষের ক্রমজোড়ের দ্বিতীয় উপাদান সমূহের সেটকে ঐ অক্ষের রেঞ্জ বলে।

$$\therefore F \text{ অক্ষের ২য় উপাদানের সেট বা রেঞ্জ } F = \{0, 2, 4, 2\} \\ = \{0, 2, 4\}$$

৬৭. $f: x \rightarrow 4x+2$ ফাংশনের ডোমেন $D = \{1, 2, 3\}$ হলে রেঞ্জ $R =$ কত?

লিখিত পদ্ধতি

[Type-3 (MCQ) এর অনুরূপ]

ডোমেন সেটের প্রতিটি সদস্যের ইমেজ সেটই হবে ফাংশনের রেঞ্জ।

এখন, $f(x) = 4x+2$ হলে, $f(1) = 4.1+2=6$

$$f(2) = 4.2+2=10$$

$$f(3) = 4.3+2=14$$

$$\therefore \text{রেঞ্জ সেট} = \{6, 10, 14\}$$

৬৮. $F(x) = 3x+1, 0 \leq x \leq 2$ হলে উক্ত ফাংশনের রেঞ্জ হবে—

লিখিত পদ্ধতি

[Type-3 (MCQ) এর অনুরূপ]

$0 \leq x \leq 2$ ব্যবধিতে x এর সকল মানের জন্য $F(x)$ এর মানই হবে ফাংশনের রেঞ্জ।

এখন, $F(0) = 3.0+1=1$ এবং $F(2) = 3.2+1=7$

দেখা যাচ্ছে যে, $0 \leq x \leq 2$ ব্যবধিতে $F(x)$ এর মান 1 থেকে 7 পর্যন্ত বিস্তৃত বাস্তব সংখ্যা।

$$\therefore \text{ফাংশনের রেঞ্জ } [1, 7]$$

৬৯. $f(x) = x^3$ ফাংশনের ডোমেন $(0, 3)$ হলে রেঞ্জ কত?

লিখিত পদ্ধতি

[Type-3 (MCQ) এর অনুরূপ]

$(0, 3)$ ব্যবধিতে $f(x)$ এর মান $(0, 27)$ ব্যবধিতে অবস্থিত।

কারণ $f(x) = 0^3 = 0; f(3) = 3^3 = 27$

$$\therefore f(x) \text{ এর রেঞ্জ } (0, 27)$$

৭০. যদি $f(x) = 4x-1$ এবং $0 \leq x \leq 3$ হয় তাহলে f ফাংশনের রেঞ্জ কত?

লিখিত পদ্ধতি

[Type-3 (MCQ) এর অনুরূপ]

$f(x) = 4x-1$ এবং $0 \leq x \leq 3$ ব্যবধির ডোমেনের জন্য $f(x)$ এর মান হবে: $f(0) = 4 \times 0 - 1 = -1$

আবার $f(3) = 4 \times 3 - 1 = 11$

$$\therefore \text{রেঞ্জ} = \{y \in R : -1 \leq y \leq 11\}$$

৭১. $R = \{(x, y) : x \in A, y \in A \text{ এবং } x+y=1\}$ এবং $A = \{-2, -1, 0, 1, 2\}$ হলে ডোমেন ও রেঞ্জ কত?

[নবম-দশম শ্রেণির গণিত: অনুশীলনী-২.২ এর ১৮(ক)]

লিখিত পদ্ধতি

[Type-3 (MCQ) এর অনুরূপ]

দেওয়া আছে, $R = \{(x, y) : x \in A, y \in A \text{ এবং } x+y=1\}$

এবং $A = \{-2, -1, 0, 1, 2\}$

R এর বর্ণিত শর্ত থেকে পাই, $x+y=1$

$$\therefore y = 1-x.$$

এখন, $x \in A$ এর জন্য y এর মান নির্ণয় করি:

x	-2	-1	0	1	2
y	3	2	1	0	-1

কিন্তু $3 \notin A \therefore (-2, 3) \notin R$

$$\therefore R = \{(-1, 2), (0, 1), (1, 0), (2, -1)\}$$

কোনো অক্ষের ক্রমজোড়গুলোর প্রথম উপাদানসমূহের সেটকে এর ডোমেন এবং দ্বিতীয় উপাদানসমূহের সেটকে এর রেঞ্জ বলা হয়।

$$\therefore \text{ডোমেন } R = \{-1, 0, 1, 2\} \text{ এবং রেঞ্জ } R = \{2, 1, 0, -1\}$$

৭২. $C = \{-1, 0, 1, 2, 3\}$ এবং $F = \{(x, y) : x \in C, y \in C \text{ এবং } y=2x\}$ হলে অক্ষটির ডোমেন ও রেঞ্জ কত?

[নবম-দশম শ্রেণির গণিত: অনুশীলনী-২.২ এর ১৮(খ)]

লিখিত পদ্ধতি

[Type-3 (MCQ) এর অনুরূপ]

দেওয়া আছে, $F = \{(x, y) : x \in C, y \in C \text{ এবং } y=2x\}$ এবং

$C = \{-1, 0, 1, 2, 3\}$

এখন, $x \in C$ এর জন্য $y=2x$ নির্ণয় করি।

x	-1	0	1	2	3
y	-2	0	2	4	6

কিন্তু $-2, 4, 6 \notin C \therefore (-1, -2), (2, 4), (3, 6) \notin F$

$$\therefore F = \{(0, 0), (1, 2)\}$$

$$\therefore \text{ডোমেন } F = \{0, 1\} \text{ এবং রেঞ্জ } F = \{0, 2\}$$

৭৩. একটি ফাংশন $f: R, f(x) = 2x+1$ দ্বারা সংজ্ঞায়িত হলে $f^{-1}(2)$ এর মান কত?

[৪৪তম বিসিএস]

লিখিত পদ্ধতি

[Type-4 (MCQ) এর অনুরূপ]

দেওয়া আছে, $f(x) = y = 2x+1$

$$\text{বা, } 2x+1=y$$

$$\text{বা, } 2x=y-1$$

$$\text{বা, } x = \frac{y-1}{2}$$

$$\therefore f^{-1}(x) = \frac{x-1}{2}$$

$$\therefore f^{-1}(2) = \frac{2-1}{2} = \frac{1}{2}$$

৭৪. $f(x) = \frac{3}{x-1}; x \neq 1$ হলে $f^{-1}(x) =$ কত?

লিখিত পদ্ধতি

[Type-4 (MCQ) এর অনুরূপ]

$$y = f(x) = \frac{3}{x-1}; x = f^{-1}(y); xy - y = 3; x = \frac{y+3}{y}$$

$$\therefore f^{-1}(y) = \frac{y+3}{y} \therefore f^{-1}(x) = \frac{x+3}{x}$$

৭৫. যদি $f : \mathbb{R} \rightarrow \mathbb{R}$ ফাংশনটি $f(x) = 5x - 4$ দ্বারা সংজ্ঞায়িত হয়, তবে $y = f^{-1}(x)$ নির্ণয় কর।

[নবম-দশম শ্রেণির উচ্চতর গণিত অনুশীলনী-১.২]

লিখিত পদ্ধতি

[Type-4 (MCQ) এর অনুরূপ]

দেওয়া আছে, $f : \mathbb{R} \rightarrow \mathbb{R}$ এবং $f(x) = 5x - 4$

এখন, $y = f^{-1}(x)$

বা, $f(y) = x$; [বিপরীত ফাংশনের সংজ্ঞানুসারে]

বা, $5y - 4 = x$; [$\because f(x) = 5x - 4$]

বা, $5y = x + 4$

বা, $y = \frac{x + 4}{5}$

$\therefore y = f^{-1}(x) = \frac{x + 4}{5}$; [$\because y = f^{-1}(x)$]

৭৬. $F : \mathbb{R} \rightarrow \mathbb{R}$, $F(x) = x^3$ ফাংশনের জন্য দেখাও যে, F এক-এক ফাংশন। [নবম-দশম শ্রেণির উচ্চতর গণিত অনুশীলনী-১.২]

লিখিত পদ্ধতি

[Type-4 (MCQ) এর অনুরূপ]

$F(x_1) = F(x_2)$ এর জন্য F এক-এক ফাংশন হবে যদি এবং কেবল যদি $x_1 = x_2$ হয়। যখন $x_1, x_2 \in$ ডোম F

এখন, $F(x_1) = F(x_2)$

বা, $x_1^3 = x_2^3$

বা, $x_1 = x_2$; [উভয়পক্ষে ঘনমূল নিয়ে]

সুতরাং F এক-এক ফাংশন।

৭৭. দেওয়া আছে, $f(x) = \sqrt{x - 4}$ । $f(x)$ এক-এক ফাংশন কিনা নির্ধারণ কর। [নবম-দশম শ্রেণির উচ্চতর গণিত অনুশীলনী-১.২]

লিখিত পদ্ধতি

[Type-4 (MCQ) এর অনুরূপ]

$f(x)$ এক-এক ফাংশন কিনা যাচাইকরণ:

দেওয়া আছে, $f(x) = \sqrt{x - 4}$

ধরি, $x_1, x_2 \in$ ডোম f

এখন, $f(x)$ ফাংশনটি এক-এক হবে যদি ও কেবল যদি $f(x_1) = f(x_2)$

এর জন্য $x_1 = x_2$ হয়।

মনে করি, $f(x_1) = f(x_2)$

বা, $\sqrt{x_1 - 4} = \sqrt{x_2 - 4}$

বা, $x_1 - 4 = x_2 - 4$; [বর্গ করে]

$\therefore x_1 = x_2$

অর্থাৎ, $f(x_1) = f(x_2)$ এর জন্য $x_1 = x_2$ ।

অতএব $f(x)$ ফাংশনটি এক-এক।

৭৮. $x + y = 2$ ফাংশনটির লেখচিত্র অঙ্কন কর।

[নবম-দশম শ্রেণির গণিত অনুশীলনী-২.২]

লিখিত পদ্ধতি

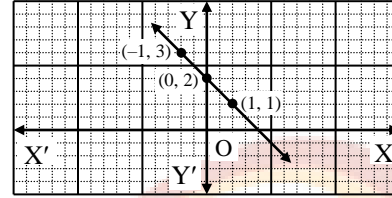
প্রদত্ত ফাংশন: $x + y = 2$

বা, $y = 2 - x$

x এর কয়েকটি মানের জন্য y এর মান নির্ণয় করি

x	0	1	-1
$y = 2 - x$	2	1	3

ছক কাগজে (x, y) বিন্দুগুলো বসিয়ে যোগ করে প্রাপ্ত চিত্রই প্রদত্ত ফাংশনের লেখচিত্র। x ও y অক্ষকে ক্ষুদ্রতম 2 ঘর একক ধরে।



৭৯. $S = \{(x, y) : x + y = 1\}$ অন্বয়ের লেখচিত্র অঙ্কন কর এবং অন্বয়টি ফাংশন কিনা তা লেখচিত্র থেকে নির্ণয় কর।

[নবম-দশম শ্রেণির উচ্চতর গণিত অনুশীলনী-১.২]

লিখিত পদ্ধতি

দেওয়া আছে, $S = \{(x, y) : x + y = 1\}$

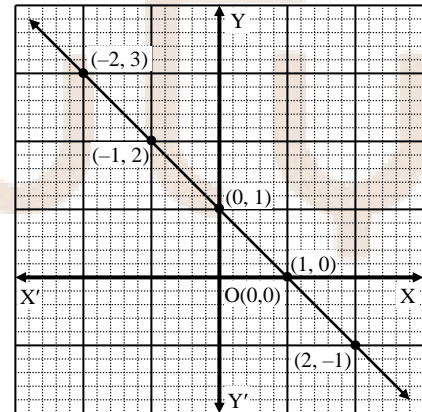
এখানে, S এর বর্ণনাকারী সমীকরণ: $x + y = 1$

বা, $y = 1 - x$ থেকে

x ও y -এর নিম্নরূপ সংশ্লিষ্ট মান পাওয়া যায়:

x	-2	-1	0	1	2
$y = 1 - x$	3	2	1	0	-1

লেখচিত্রে, XOX' -কে x -অক্ষ এবং YOY' -কে y -অক্ষ এবং O -কে মূলবিন্দু ধরা হয়েছে। ছক কাগজের ক্ষুদ্রতম বর্গের প্রতি 5 বাছুর দৈর্ঘ্যকে 1 একক ধরে $(-2, 3)$, $(-1, 2)$, $(0, 1)$, $(1, 0)$, $(2, -1)$ বিন্দুগুলো স্থাপন করে যোগ করলে সরলরেখা পাওয়া যায়। এটি S অন্বয়টির লেখ।



S অন্বয়টি তখনই ফাংশন হবে যখন লেখচিত্রে একই প্রথম উপাদানবিশিষ্ট (x) একাধিক বিন্দু থাকবে না। লেখচিত্র হতে দেখা যায়, সরলরেখাটির প্রতিটি বিন্দুরই প্রথম উপাদান ভিন্ন ভিন্ন। এতে একই প্রথম উপাদানবিশিষ্ট একাধিক বিন্দু নেই।

সুতরাং S অন্বয়টি একটি ফাংশন।

